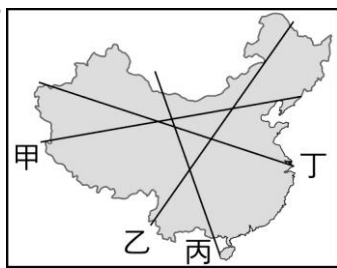


本試卷共 63 題(每題都只有一個正確或最佳的答案)班號姓名：

※請用 2B 鉛筆將答案清楚畫記在答案卡上

1. ()附圖為中國人口分布圖，從圖中明顯可看出中國人口分布不均，人口密度東半部遠大於西半部。請問：東、西兩半部是以圖中哪條線為界？
(A)甲 (B)乙 (C)丙 (D)丁。

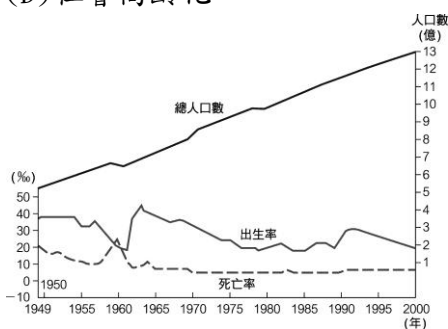


2. ()中國政府善用標語來宣導政策，如「一對夫妻一個寶，生活富裕少煩惱」、「少生孩子多種樹，少養孩子多養豬」。這些標語所要達成的目標為何？
(A)縮小城鄉差距 (B)宣傳人民公社
(C)促進經濟成長 (D)減緩人口成長。

3. ()每年春節假期，中國沿海地區的大車站，都會湧現龐大的返鄉人潮，造成交通癱瘓。請問：下列何者是吸引眾多流動人口到沿海地區的主要拉力？
(A)環境舒適 (B)交通發達
(C)醫療設備較佳 (D)就業機會較多。

4. ()一胎化政策雖然減少了人口數快速的增加，但是卻造成很多問題。請問：下列何者與一胎化關係密切？
(A)性別比失衡 (B)人口外流
(C)汙染增加 (D)社會高齡化。

5. ()附圖是中國近五十年來的人口成長圖。圖中對於中國人口變化的敘述，何者正確？
(A)出生率居高不下
(B)死亡率居高不下
(C)人口數量有增無減
(D)自然增加率成負成長。



文峰特別愛看《三國演義》，書中提到赤壁之戰精彩橋段，此戰役發生在東漢末年，①已成為北方的霸主，並挾持②帝以令諸侯。接下父兄江東基業的③，意圖與勢力較弱的④結盟，滾滾長江分隔南北，千古風流人物，交織出一場前所未有、空前絕後的超大型戰爭，更奠定日後三國鼎立的情勢。(6~7 題)

6. ()請問①、②、③、④分別為何人？
(A)①：曹丕、②：漢獻帝、③：孫權、④：劉備
(B)①：曹丕、②：漢武帝、③：孫權、④：劉備
(C)①：曹操、②：漢獻帝、③：孫權、④：劉備
(D)①：曹操、②：漢武帝、③：孫權、④：劉備。

7. ()右圖是三國時代簡圖，下列關於此圖的敘述，何者正確？
(A)甲的首都是在建業(B)乙的建國者是曹操
(C)丙是三國中最早亡國(D)乙、丙皆亡於司馬炎



立萍是整理歷史表格達人，但他最近上課比較不專心，以下是他歸納出的情形，請大家一起幫忙找出失誤的地方！(8~10 題)

8. ()安史之亂與黃巢之亂的異同，何者需要做修正？

	安史之亂	黃巢之亂
(甲)發生時間	唐朝中期	唐朝末期
(乙)為亂區域	遍及大江南北	黃河流域為主
(丙)亂事性質	將領叛變	民變
(丁)平亂者	郭子儀	朱溫

- (A)甲 (B)乙 (C)丙 (D)丁。

9. ()佛教與道教的表格統整，其中哪一項寫錯了？

	佛教	道教
(甲)起源	外來宗教(印度)	本土宗教(中國)
(乙)時間	西漢末年	東漢末年
(丙)創教	釋迦牟尼	張角、張陵等人
(丁)特色	第一座佛寺為白馬寺	石窟藝術大為流行


- (A)甲 (B)乙 (C)丙 (D)丁。

10. ()秦、隋兩朝的相同點統整表如下所示，但有一項目歸納有錯誤，請幫忙找出哪一項是不正確的？

秦代和隋代的相同處	
(A)	均結束分裂局面
(B)	皆採儒家思想治國
(C)	兩朝均因暴政而亡國
(D)	均有重大建設流傳後世

八里國中八年級同學正在參觀『大唐文物』特展，此展覽濃縮了唐代的政治、經濟、宗教與文化精華，透過此次展覽，將引領我們穿過時光隧道，探索盛世的精采工藝。(11~13 題)

11. ()下列哪個創作品不應該出現在唐朝文物展中？



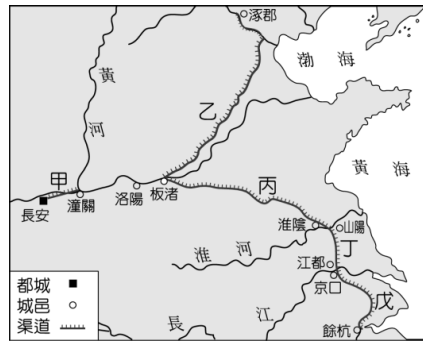
12. ()唐朝文化博大精深，對周邊國家的影響頗深，有關唐朝文化的傳播敘述，哪一項是錯誤？

(A)新羅全力模仿中國的漢字、曆法、儒學與佛教，因而有『君子國』之美名。(B)『遣唐使』是指由唐主動派遣留學生、使者或僧侶，遠赴外地傳布大唐文化的人。(C)造紙術因怛羅斯之役而西傳至回教世界，後來還輾轉傳入歐洲。(D)日本推動大化革新，就是一場大規模的唐化運動。

13. ()八年七班同學參觀完唐朝特展後，老師要他們輪流說出對唐朝的認識，以下哪位同學的見解是正確的？

(A)阿品說：「唐朝的建立者是唐太宗李世民，他用武力討伐隋朝後建立，首都在長安。」(B)阿學說：「唐玄宗時締造了輝煌的開皇之治。」(C)阿優說：「唐朝國勢由盛轉衰的關鍵事件，是發生在唐玄宗時的安史之亂」(D)阿兼說：「楊貴妃是中國歷史上唯一的女皇帝，她是唐玄宗的皇后。」

名模隋棠代言《隋唐英雄傳》電玩遊戲，該款系列遊戲以貫穿隋唐時期的歷史事件為特色，來展開刺激的冒險遊戲：



(圖一)



(圖二)

(14~17題)

14. ()圖一為隋代運河圖。有關隋代運河的敘述，下列何者**錯誤**？
 (A)甲運河為隋煬帝所建
 (B)建乙運河是為攻打高麗時，方便物資北送
 (C)建丙、丁、戊運河的動機是為了遊樂江南
 (D)隋代運河奠定唐朝富強基礎，為經濟命脈。
15. ()圖二是隋唐時期的都城平面圖。這座城市的特色與下列哪一敘述**不符合**？
 (A)可稱大興城 (B)棋盤式建築
 (C)坊市合一 (D)坊為住宅區。
16. ()隋棠在遊戲中選擇書生角色，她若想順利進入朝廷擔任官員的話，可能需要透過什麼管道？
 (A)科舉考試 (B)察舉孝廉
 (C)九品官人法 (D)封建世襲。
17. ()隋棠順利到了朝廷任官，當時遊戲背景設定在唐朝後期，唐帝國的盛況不再，中央政府遭逢哪些變故？
 (甲)有外戚把持朝政 (乙)有宦官干涉國政
 (丙)爆發八王之亂 (丁)有嚴重的牛李黨爭
 (A)甲乙 (B)甲丁 (C)乙丙 (D)乙丁。
18. ()中國古代皇帝三宮六院，嬪妃成群，皇帝的兒子們之間容易因為利益衝突而爆發宗室之亂。下列哪一亂事組合在性質上都是屬於宗室之亂？
 (A)永嘉之禍、安史之亂 (B)八王之亂、玄武門之變
 (C)管蔡之亂、黃巢之亂 (D)玄武門之變、安史之亂。
19. ()唐太宗是中國歷史上著名的君主，他被當時西北部族尊為「天可汗」。請問：唐太宗是因降服邊疆哪一強敵而得到此尊稱殊榮？
 (A)匈奴 (B)吐蕃 (C)東突厥 (D)西突厥。
20. ()怡岑老師要去中國做個宗教古蹟之旅，以下是她規劃的自助行程：

第一天：到碑林欣賞「大秦景教流行中國碑」	第二天：前去遊覽西安「大雁塔」	第三天：參訪洛陽的「龍門石窟」

在她停留的三個地方，分別可以看到下列哪些宗教遺跡？

- (A)回教、道教、佛教 (B)基督教、佛教、佛教
 (C)摩尼教、道教、佛教 (D)基督教、道教、佛教。

21. ()布達拉宮在藏語有『佛教聖地』的意思，直到今天藏族依舊禮佛唸經，並虔誠向某座塑像膜拜，因為此人不僅促進了漢藏之間的文化交流，也助於佛教在西藏的發展。文中很有可能指何位人物？
 (A)玄奘大師 (B)楊貴妃 (C)文成公主 (D)武則天。



22. ()國際級的超級巨星在鬧區舉辦簽名會，吸引不少民眾爭相一睹巨星風采，連帶使周遭商家的生意大好，沿路的路邊攤也受惠，但是引起的人潮、車潮卻使附近的交通癱瘓，並讓鄰近居民的生活大受影響。請問：下列哪一項是屬於簽名會所帶來的**外部成本**？
 (A)民眾見到巨星的風采 (B)周遭商家生意大好
 (C)附近交通癱瘓 (D)路邊攤販生意興隆。
23. ()報載「多家國際貨運倉儲業者，利用貨櫃儲運事業協會會議後餐敘，敲定聯合恢復收取貨櫃站機械使用費，每噸收 55 元，且從民國 103 年 7 月恢復收取至今。依〇〇〇法規定涉及聯合行為，一共開出 7260 萬元罰單，並要求業者立即停止收取貨櫃站機械費。此次罰單為史上最高罰鍰，也發出了第一筆的檢舉獎金 50 萬元。」請問：上述政府為了避免嚴重影響市場競爭之行為而罰鍰，此作法發揮下列哪些經濟功能？
 (甲)提供各項服務 (乙)處理外部效果
 (丙)維持公平交易 (丁)改善所得分配
 (A)甲丙 (B)乙丙 (C)甲丁 (D)乙丁。
24. ()**承上題**，上文中的〇〇〇法為何？
 (A)民法 (B)消費者保護法 (C)公平交易法 (D)刑法。
25. ()苗栗縣 公館鄉 北河村開採白砂一案引起地方民眾反彈，苗栗縣政府今天特別發出新聞稿，澄清此業務屬經濟部礦務局權責，縣府僅負責技術面審查，非縣府核准開採案件。根據上文，請選出正確的選項？
 (A)北河村屬於地方自治團體
 (B)此案若發生爭議，可由行政院解決
 (C)劃分中央與地方的權限為「權能區分」
 (D)苗栗縣政府可執行中央政府的委辦事項。
26. ()阿青認為政府課徵所得稅，採取累進稅率，有以下幾項優點：(甲)目的在於改善所得分配 (乙)所得愈高的人繳的稅愈少 (丙)由地方政府各自收稅 (丁)縮短貧富差距 (戊)採用受益原則。請問：上述何者正確？
 (A)甲乙 (B)丙戊 (C)甲丁 (D)丁戊。
27. ()受薪階級的健保費依其薪水而有所差異，例如：剛畢業月領 22k 的菜鳥上班族，健保費僅需 321 元，而月薪超過十萬的總經理，健保費則為 1422 元。請問：健保費的收費是依照下列何種原則？
 (A)受益原則 (B)負擔能力原則
 (C)比較利益原則 (D)外部成本原則。
28. ()雲林縣議會於 2009 年通過《雲林縣節能減碳特別稅徵收自治條例》(即碳稅條例)，縣內事業單位每年排放二氧化碳超過 10 萬噸，就要課徵碳稅。但經濟部、財政部同聲反對，經濟部官員指出，碳稅的性質屬於國家稅，因為二氧化碳會隨處飄散，不可能只停留在某一縣市，因此不宜由地方課徵。請問：下列何種稅收與碳稅有相同性質？
 (A)使用牌照稅 (B)房屋稅 (C)娛樂稅 (D)關稅。

29. () 居住在雲林縣斗六市的阿宏，因為覺得住家周遭的路燈照明不足，讓經常工作晚歸的他感到危險，於是向當地的地方民意代表陳情，希望能獲得相關單位的重視。根據上述內容判斷，阿宏所陳情的對象最可能是下列何者？

- (A) 縣長 (B) 市議員 (C) 立法委員 (D) 市民代表。

30. () 台灣高鐵公司原本預計於 2063 年交還政府，但是高鐵董事長希望政府可以延後交還時間，以彌補目前所造成的虧損。另外，高速公路的電子收費系統(ETC)，已經正式啟用，預計將在 2034 年交還給政府。上述由政府負責取得土地等資源，然後委由民間企業興建與營運，經營期限屆滿後再移轉給政府，此種政府與民間企業合作經營的模式稱為什麼？

- (A) 民辦民營 (B) 民營化 (C) BOT 模式 (D) 公股民營。

31. () 登革熱疫情延燒至今，雖然病例數有下降趨勢，但也引起基層里長反彈，臺南市永康○的里長，在臉書寫下防疫政策混亂及不斷噴藥造成民眾困擾與生態破壞。請問：下列敘述何者正確？

- (A) 台南市與桃園市為同一層級的地方政府
(B) 負責執行噴藥的應為臺南市議會衛生局
(C) 此為地方政府社會服務的工作事項
(D) 永康○應為永康市。

32. () 英國攝影師到印尼去拍黑冠獼猴時，一隻獼猴拿他的相機自拍，意外照出了許多照片(如右圖)，攝影師主張他有照片的著作權，認為美國網站濫用照片而侵害他的著作權，然而美國法院判決這張照片的著作權是獼猴的，但獼猴不是人，因此著作權是公眾的，任何人都可以無條件地取用。請問：這張照片的性質與下列何者相同？



- (A) 橋梁 (B) 高速公路 (C) 無主物 (D) 私人衣物。

33. () 小明收到同學寄來的信件，請回答下面問題：

233 新北市 烏來區
 ① ②
 烏來里 12 鄰環山路 82 巷 35 號
 ③ ④
 林大華寄

605 嘉義縣 阿里山鄉 山美村 3 鄰 51 號
 ⑤ ⑥ ⑦ ⑧
 王小明收

請問：上述地址，屬於地方自治性質的團體有幾個？
 (A) 3 個 (B) 4 個 (C) 6 個 (D) 8 個。

34. () 邁入第六年的新北歡樂耶誕城，已成為全台十大浪漫耶誕景點，而今年歡樂耶誕城於 11 月 19 日晚間點燈開城，而市民廣場及周邊以冰雪奇緣浪漫氛圍打造的藍色系燈飾，在夜晚開燈時，美麗的燈海彷彿讓人置身日本東京，免費遊樂設施「童話旋轉木馬」及「冒險小飛機」也於 19 日同步啟動。請問：關於新北耶誕城活動敘述何者正確？

- (A) 此活動由新北市政府編列活動預算，並交由立法院審議
(B) 本活動由新北市政府主辦，板橋市公所協辦
(C) 活動的收益增加了地方財源中的自行籌措項目
(D) 此為地方政府安全衛生的工作事項。

35. () 台灣省政府在精省後，廢除問題朝野一直沒有共識，有立委批評精省後，每年仍支出將近一億的人事經費，但省政府員工喊冤，精省後，省政府業務跟經費急劇減少，但是同仁還是很認真在做事，各部會有做的事，省府就會交到中央；沒做的，也會扮演與地方的橋樑。更強調，只要〇〇法還存在的一天，省府同仁就要走出去為省民努力。請問：關於省的敘述，何者正確？

- (A) 〇〇法應為地方制度法
(B) 目前省為總統府的派出機關
(C) 省主席的產生方式為總統提名，立法院同意
(D) 省為地方政府的層級之一，也是地方自治團體。

36. () 新北市瑞芳區侯硠里曾因煤礦礦坑關閉而沒落，但當地部分居民對流浪貓的關愛與照顧，所建立的人、貓信賴感卻意外造成現今遊客聚集的場景，這個小村落也因此找到全新的發展方向。然而，近來出現飼主將貓遺棄在當地的情形，造成貓的數量逐漸失控，因此相關單位將以違反行政法規為由，對這些飼主開罰，藉以維護侯硠舒適安寧的環境。上文中造成現今貓隻數量失控的現象，最適合與下列用同一種概念說明？

- (A) 政府造橋鋪路，打造良好的居住空間
(B) 工廠任意排放廢水，沿岸居民因此受影響
(C) 附近下水道進行消毒，住家蚊蟲減少許多
(D) 汽車停放公用停車場須按時支付清潔費用。

37. () 民眾併排停車常會造成交通阻塞，影響行車安全，因此曾有立委提案修改《道路交通管理處罰條例》，調高違規併排停車的罰款，希望能藉由這樣的方式遏止違規行為。根據上述內容判斷，下列敘述何者正確？

- (A) 罰款的金額將會成為政府的規費收入
(B) 立委提案修法將會增加政府租稅收入
(C) 罰款金額的提高有助於維持經濟秩序
(D) 調高罰款的目的是為了減少外部成本。

38. () 中國東半部的山脈大多呈現哪種走向，因而容易阻擋夏季季風所帶來的水氣？

- (A) 東西走向 (B) 東北—西南走向
(C) 南北走向 (D) 西北—東南走向。

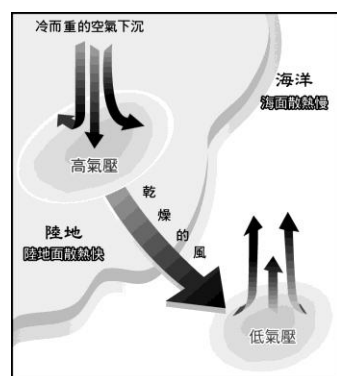
39. () 由 1961-1990 年期間的氣候資料顯示：廣州一月氣溫為 13.1℃，七月氣溫為 28.5℃；哈爾濱一月氣溫為 -19.2℃，七月氣溫為 22.7℃。請問：此資料說明了緯度愈高則會產生哪種現象？

- (A) 一月氣溫愈高 (B) 七月氣溫愈高
(C) 年溫差愈大 (D) 高度愈高。

40. () 關於「季風」的定義，下列敘述何者正確？

- (A) 一年四季吹相同方向的盛行風
(B) 局部地區因地形複雜而形成的風
(C) 吹拂於海洋陸地之間的風
(D) 風向隨季節而改變方向的風。

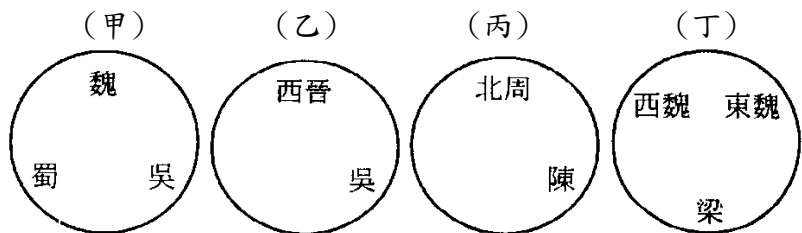
41. () 附圖是上地理課時老師所出示的季風形成示意圖。請問：下列敘述何者正確？



- (A) 這是冬季時的天氣型態
(B) 海洋上氣壓低，空氣下沉
(C) 為中國主要的降雨季節
(D) 此時風由海洋吹向陸地，溫暖潮溼。

42. () 秦嶺、淮河是中國重要的地理分界，下列何者並非其所代表的界線？
 (A) 南船北馬 (B) 一月 0°C 等溫線
 (C) 750 毫米等雨量線 (D) 七月 10°C 等溫線。
43. () 中國東半部深受季風影響，哈爾濱冬、夏二季季風風向分別為何？
 (A) 冬：↑；夏：↓ (B) 冬：↙；夏：↗
 (C) 冬：↓；夏：↑ (D) 冬：↘；夏：↖。
44. () 位於青藏高原的拉薩和長江流域的武漢市，都位於北緯 30 度附近，但兩地冬夏溫度差異極大。請問：主要受哪項因素影響？
 (A) 地勢 (B) 經度 (C) 季風 (D) 距海遠近。
45. () 中國氣候可分為三大類型，其中乾燥和季風兩種氣候的分界線為何？
 (A) 最冷月 18°C 等溫線 (B) 最熱月 0°C 等溫線。
 (C) 3,000 公尺等高線 (D) 年降水量 500 毫米等雨量線
46. () 下列何者為中國西部內陸乾燥氣候的主要成因？
 (A) 地處內陸，四周山脈阻擋夏季季風進入
 (B) 為副熱帶高壓籠罩
 (C) 沿海有寒流經過
 (D) 位於低緯度地帶
47. () 乾燥氣候依程度不同分為草原氣候及沙漠氣候。請問：這樣的分法係依據哪種指標？
 (A) 年降水量 (B) 最冷月均溫 (C) 年溫差 (D) 最暖月均溫
48. () 「年降水量 < 250 毫米，降雨集中在夏季，夏季月均溫 20°C 以上，冬季月均溫 -5°C 以下，日夜溫差大。」以上敘述最可能是哪種氣候的特徵？
 (A) 沙漠氣候 (B) 草原氣候 (C) 高地氣候 (D) 溫帶季風氣候
49. () 小偉七、八月打算到中國玩，看了旅行社提供的所有行程介紹，他發現其中有一張注意事項，如附圖。請問：小偉看到的旅遊行程最有可能是下列何者？
- 當地空氣稀薄，可能有胸悶及頭暈、呼吸困難等現象務必借用氧氣面罩。
 - 陽光紫外線強烈，需攜帶防曬霜。
 - 日夜溫差大，應備上厚外套、厚毛衣。
- (A) 江南古鎮全覽十日遊
 (B) 絲路南疆風情十日遊
 (C) 內蒙草原奔馳十日遊
 (D) 青藏聖域采風十日遊。
50. () 下列何項因素是「外流河」與「內流河」最大差異之處？
 (A) 降水季節的分布 (B) 河川的長短
 (C) 最終流入的地區 (D) 流量的多寡。
51. () 中國傳統糧食作物「南稻北麥」，南方人傳統吃米飯，北方主食為麵、大餅等，造成這種差異的主因為何？
 (A) 地形 (B) 習俗 (C) 政策 (D) 氣候。
52. () 下列哪些為人們在選擇居住地時會考量的因素？
 (甲) 緯度 (乙) 氣候 (丙) 地形 (丁) 經濟發展程度。
 (A) 甲、乙、丙、丁 (B) 乙、丙、丁
 (C) 甲、乙、丙 (D) 甲、乙、丁。
53. () 附圖為中國的地形剖面圖，哪個地方的人口密度應該最高？
-
- (A) 甲 (B) 乙 (C) 丙 (D) 丁。
54. () 地名與國名，常因時空不同而有所改變，在下列各組的配對中，哪一組的選項配對是正確的？
 (A) 大秦—阿拉伯 (B) 大食—羅馬
 (C) 吐蕃—西藏 (D) 新羅—日本。

55. () 下列是魏晉南北朝疆域變遷的簡易示意圖，按照時間發生先後排列，正確的是何者？



- (A) 甲乙丙丁 (B) 甲丙乙丁 (C) 甲乙丁丙 (D) 甲丁乙丙
56. () 北魏孝文帝採取一連串的漢化措施，其重要性有哪些是正確的？
 (甲) 維護匈奴貴族的優越地位 (乙) 使胡漢之間的隔閡逐漸消除 (丙) 加速胡漢文化的相互影響 (丁) 造成『永嘉之禍』的發生
 (A) 甲、乙 (B) 乙、丙 (C) 丙、丁 (D) 甲、丁。
57. () 魏晉南北朝的時代，「三玄」是當代名士進行聚會談論活動的主題，其思想與春秋戰國時代的哪一思想相近？ (A) 道家 (B) 墨家 (C) 儒家 (D) 法家。
58. () 中國歷史分分合合，請問下列哪一個並非「非」結束分裂而統一中國的朝代？
 (A) 北魏 (B) 西晉 (C) 秦朝 (D) 隋朝。

59. () 美美在玩縣市九宮格，無論直線、橫線或斜線都要是相同層級的城市，才能連成一線，最後她只連成了一條線，請問空格應是下列哪個城市？

桃園市	宜蘭市	台南市
基隆市	?	澎湖縣
虎尾鎮	三星鄉	南投市

(A) 新北市
 (B) 新竹市
 (C) 花蓮市
 (D) 暖暖區。

60. () 財政部為鼓勵民眾索取統一發票，增列千萬獎金。民眾表示，獎金提高、民眾購物意願提高、國家收入才會增加。同時為減少紙張浪費，財政部亦鼓勵民眾多多使用電子發票。請問：下列何者為正確敘述？
 (A) 國家收入指的是財產收入
 (B) 國家收入依受益原則課徵
 (C) 可以使國家財產稅的收入增加
 (D) 推動電子發票可以保障私有財產。
61. () 承上題，購物時主動向商家索取統一發票，可以防止業者逃漏何種稅？(甲) 營業稅 (乙) 貨物稅 (丙) 營利事業所得稅 (丁) 關稅
 (A) 甲、乙 (B) 甲、丙 (C) 甲、丁 (D) 乙、丙。
62. () 下表示吳老師近半年來的生活支出項目：

支出項目	金額	支出項目	金額
辦理護照	1300	繳所得稅	12000
補習班學費	5000	闖紅燈被開罰	3600
繳娛樂稅	100	水電費	800
坐火車回台東	700	繳遺產稅	3000
付社會住宅租金	7000	補辦健保卡	100
繳貨物稅	200	繳使用牌照稅	1800

請問：屬於政府收入之「規費」與「公營事業盈餘收入」的金額，分別為多少錢？

- (A) 1300, 1500 (B) 1400, 1500
 (C) 1400, 7000 (D) 1300, 8500。
63. () 承上題，屬於中央稅的金額有多少錢？吳老師該去哪裡繳稅？
 (A) 1900, 國稅局 (B) 12300, 新北市稅捐稽徵處
 (C) 15200, 國稅局 (D) 15300, 新北市稅捐稽徵處。