

新北市立鶯江國民中學 105 學年度 第 1 學期 7 年級 公民科 第 2 次段考 題目卷

命題教師： 日期：12 月 1 日 第 5 節 班級： 座號： 姓名：

※請注意，答案卡若有塗改，請擦拭乾淨。依規定皆以電腦讀卡的成績為依據！

一、單選題：(每題 2.5 分) 請仔細看題目，想清楚再作答

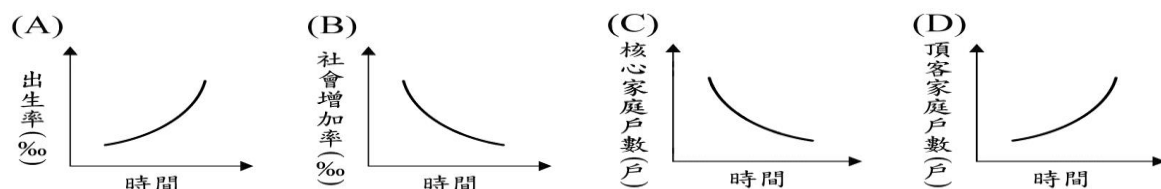
1. 國內少子化情況嚴重，愈來愈多人不願生養小孩，寧願養寵物。農委會調查統計，過去十年，國人飼養的家犬貓數量大增近百萬隻，顯示生活型態和結構改變。調查更發現，都會區民眾飼養犬貓的密集度暴增；以台北市為例，民國 94 年平均每 6.3 戶養一隻，但 104 年已增為每 3.9 戶就養一隻。據上述內容判斷，下列哪種社會變遷的趨勢最可能符合文中敘述？

縣市飼養犬貓密度

單位：戶數／犬貓數
(幾戶養一隻)

縣市	94年	104年
台北市	6.3	3.9
新北市	4.8	4.4
台中市	6.3	3.7
台南市	6.5	4.0
高雄市	6.5	3.8
桃園市	5.9	3.4

資料來源：農委會畜產處 ■聯合晚報



2. 一名攜子再婚的婦人，與丈夫生下兒子後，丈夫不滿她太疼愛前夫的兒子，雙方鬧離婚，婦人疑因不堪二度婚姻失敗打擊，前天駕車載兩子到南投，引汽車廢氣自殺，釀成母子三人共赴黃泉的人間悲劇。請問：這是屬於哪方面的家庭衝突？

(A) 意見的衝突 (B) 家務分工的衝突 (C) 經濟事務的衝突 (D) 生活習慣的衝突。

3. 根據上文判斷，是屬於下列何種家庭型態？

(甲) 單親家庭 (乙) 重組家庭 (丙) 小家庭 (丁) 折衷家庭。

(A) 甲乙 (B) 乙丁 (C) 乙丙 (D) 甲丁。

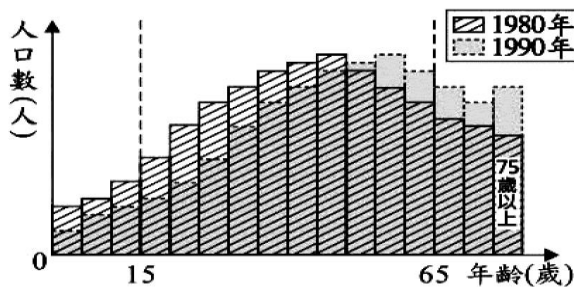
4. 基於家庭倫理及優生學的考量，我國《民法》規定具有近親關係的血親及姻親間不得結婚。根據上述內容判斷，下列何種組合若登記結婚，其婚姻最可能是有效的？

(A) 唏唏與哥哥的養子 (B) 夏天與伯父的兒子 (C) 阿信與大嫂的妹妹 (D) 演成與姑姑的女兒。

5. 聯合國預估 2025 年，中國將成為全球人口老化最嚴重國家，加重社福基礎建設的負擔與降低勞動生產力，中國日前宣布將廢除實施 35 年的一胎化政策，開放已婚夫妻可生育第二胎。請問：中國政策的改變有助於發揮家庭那一項功能？

(A) 教育功能 (B) 生育功能 (C) 保護與照顧功能 (D) 經濟功能。

6. 附圖為某國 1980 年與 1990 年人口年齡分布資料的重疊比較圖。由圖中內容判斷，相較於 1980 年，下列關於該國 1990 年人口變化的敘述何者正確？



- (A) 高齡化日益顯著。
(B) 青壯年持續增加。
(C) 少子化日漸趨緩。
(D) 扶養比逐漸變小。

7. 北市文化局在捷運中山站佈置雲朵裝置藝術名稱叫「白日夢」，用棉花做成軟綿綿的雲朵，相當引人注目，但有民眾在臉書分享影片，疑似有家長放任小朋友毀壞藝術作品。作品受損後，已經通知創作者，對方接到通知時的確有些驚訝，因為在其他國家展覽沒發生過類似情形。目前已做硬化處理避免再遭破壞，修復後會展到年底。會設立簡單的告示牌，呼籲民眾愛護展品。上述家長的做法是未善盡哪一項家庭功能？

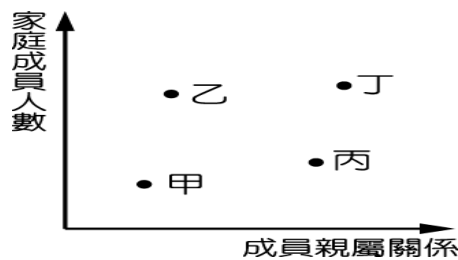
(A) 生育功能 (B) 生產功能 (C) 消費功能 (D) 教育功能。

8. 隨著社會不斷變遷，家庭型態和生活方式也有所轉變。有關現代家庭面臨的新考驗以及政府提出的因應策略，下列配對何者錯誤？ (A) 甲乙 (B) 乙丙 (C) 丙丁 (D) 乙丁。

選項	難題	因應政策
甲	少子化	育嬰假、發放育兒津貼、設置公共托育中心
乙	高齡化社會	三代同堂、強制獨居老人安置、長期照顧制度
丙	離婚率提高	成立家庭教育中心，轉變人們晚婚、不婚的觀念
丁	跨國婚姻調適	開設生活適應班，協助適應台灣生活

9. 附圖中，橫軸代表成員親屬關係的複雜度，愈往右，親屬關係愈複雜；反之，親屬關係愈單純。縱軸代表家庭成員的人數，愈往上代表人數愈多；反之愈少。請問：「大家庭」的位置最可能為下列何？

- (A)甲 (B)乙 (C)丙 (D)丁。



10. 附圖中，這對姊弟的衝突應是屬於下列哪一種類型的家庭衝突？

- (A) 經濟的衝突 (B) 家務分工的衝突 (C) 生活習慣的衝突 (D) 價值觀與意見的衝突。



11. 俗稱「恐怖情人條款」的「家庭暴力防治法 63 條之 1」2016 年 3 月 4 日實施後，即使無婚姻關係或同居事實，受伴侶暴力威脅仍可聲請保護令，1 個多月來新北市已核發 2 件保護令，新北市家暴中心表示，市府提供庇護住所和就業計畫，讓受害者受到更好照顧。「恐怖情人條款」可以適用，對於天天被男友拳打腳踢的女友，除了打 0800013999 求助外，還可以由那個單位核發「保護令」來制止施暴行為？

- (A) 警察局 (B) 地方法院 (C) 社會局 (D) 戶政事務所。

12. 家佳是個國中生，對於學校社團生活的事情很有個人想法，常出現跟父母不同的意見，造成親子間的衝突。若家佳想尋求自由發展的空間，他最適合用下列何種方式來化解上述衝突？

- (A) 順從父母，以表孝心 (B) 堅持己見，忠於自己 (C) 盡量溝通，消除歧見 (D) 表面妥協，暫時應付。

13. 台灣宗教團體愛護家庭大聯盟（護家盟），2016 年 10 月 30 日也在同志大遊行前舉行記者會，重申同志婚姻與收養子女問題多，全球通過同性伴侶或婚姻法的國家，幾乎都未同時通過可收養子女或人工生殖；並指美國調查也指出，同性戀家庭孩子表現較異性戀家庭孩子差。讓同志、跨性者都受保障，且可收養子女，仍有歧見。下列有關「收養」的敘述，何者為正確？

- (甲) 法定血親的權利與義務與自然血親相同 (乙) 經收養後，彼此成為「旁系血親」 (丙) 收養者為繼父或繼母；被收養者為養子或養女 (丁) 又稱為「擬制血親」。

- (A) 甲乙 (B) 乙丙 (C) 丙丁 (D) 甲丁。

一、 題組：(每題 2.5 分)

(一) 衛福部昨天宣布全台九鄉鎮下月起啟動長照 2.0 社區整體照顧，除了一般鄉鎮，也兼顧原住民鄉區的需求。衛福部估計第一波共廿三個試辦案，最多有三點九萬名長者受惠，預計增加七千名照服員就業需求。長照法明年上路，衛福部因應長照 2.0 計畫，自今年 8 月起，三年編列 1300 多萬元，補助台中、苗栗、澎湖、嘉義及屏東 5 家部立醫院，嘗試打造「完整老人照護園區」。

2016-10-29 聯合報

14. 請問：上述所提政府的政策應該是為了針對下列何種問題而設計？

- (A) 家暴問題 (B) 老人照顧問題 (C) 離婚問題 (D) 少子化問題。

15. 根據政府相關部門預估，到 2017 年臺灣高齡人口將超越總人口數的 14%，成為高齡社會。針對這樣的問題，政府的因應政策，下列哪一項無法解決問題？ (A) 宣導「三代同堂」 (B) 制定完善的社會福利政策

- (C) 設立福利機構取代家庭照顧功能 (D) 規畫長期照護保險制度。

16. 下列有幾項因素會促使一個國家或地區進入「高齡化社會」？ (甲) 60 歲以上人口比例達 7% (乙) 老年人口死亡率下降 (丙) 出生率上升 (丁) 國民平均壽命延長 (戊) 高科技資訊的進步與提升。

- (A) 2 項 (B) 3 項 (C) 4 項 (D) 5 項。

17. 台北市學童吃不完營養午餐都倒掉了形成浪費。其實可採行「老少共餐」，由學校調查附近社區銀髮族，特別是獨居老人家，或者學童家裡阿公阿嬤的意願，再邀請他們中午到校加入營養午餐行列，跟孫子們一起吃飯，亦可解決老人家的午餐問題。若採行「老少共餐」可發揮家庭的哪些功能？
 (A) 生育、教育 (B) 經濟、教育 (C) 經濟、保護與照顧 (D) 生育、保護與照顧。

(二) 第十四屆台灣同志大遊行今 10 月 29 日在凱道盛大登場，每年舉辦大規模同志遊行的台灣，已經是亞洲同志人權的先驅，目前有望成為第一個通過同志婚姻合法化的亞洲國家，遊行隊伍中不乏外國面孔，包括美、英、法、奧、比、法、荷、紐、歐盟等 9 個駐台辦事處，今年首度以「外國駐台辦事處」名義參加遊行，為同志權益發聲。民報 - 2016 年 10 月 29 日

18. 依上文內容，主要在探討我國家庭價值觀哪方面的變遷？
 (A) 平權觀念的興起 (B) 婚姻價值觀轉變 (C) 居住場域的變遷 (D) 法律保障性別平權。
19. 隨著社會變遷，家庭也發展出其他的型態，下列有關其他家庭型態的敘述，何者錯誤？ (A) 隔代教養家庭是由(外)祖父母照顧(外)孫子女所組成的 (B) 新移民家庭是由夫或妻為外籍人士所組成的 (C) 重組家庭是由父或母其中一方和未婚子女所組成的 (D) 頂客家庭是由雙薪且未生育子女的夫妻所組成的。
20. 「收養」是指透過法律程序建立的親子關係，依我國(甲)法規定，若要收養必須向(乙)提出聲請。請問：上文中(甲)、(乙)依序應填入何者？
 (A) 《憲法》、戶政機關 (B) 《憲法》、地方法院 (C) 《民法》、戶政機關 (D) 《民法》、地方法院。

(三) 為提高生育率、讓女性安心投入職場，行政院院會今天通過「擴大幼兒教保公共化」方案，公私立幼兒園比例，至民國 109 年，投注約 62 億元，增加公共化幼兒園 1000 班、收托 3 萬名 2 至 6 歲幼兒，公私立幼兒園比例將從目前的 3 比 7，提升至 4 比 6。預計到 109 年時，全國 2 至 5 歲幼兒入園率從目前的 58% 增至 60%，其中四成幼兒可以進入公共化的幼兒園就讀。非營利幼兒園的收托時間比公立幼兒園長，也就是寒暑假照常提供收托，每天收托到下午 5 時，更能貼近雙薪家庭的需要。2016/10/25 華視新聞

21. 依上文所述，顯見家庭的哪一項功能最缺乏？
 (A) 教育功能 (B) 經濟功能 (C) 生育功能 (D) 保護與照顧功能。
22. 依據我國《？》的條文規定，不論性別，員工只要工作滿一年，子女未滿 3 歲，都可以向服務單位申請育嬰假。請問：上述《？》法律實施後，可以協助現代家庭改善幼兒托育的問題？
 (A) 《民法》 (B) 《性別工作平等法》 (C) 《家庭教育法》 (D) 《性別平等教育法》。
23. 我國隨著社會變遷，家庭主要的功能也受到影響，關於現代家庭功能的轉變，下列敘述何者錯誤？
 (A) 家庭主要的經濟功能，已經逐漸從消費轉變為生產 (B) 隨著觀念的改變，家庭的生育功能逐漸減弱 (C) 家庭對老人照顧的功能，逐漸被專業安養機構取代 (D) 家庭的教育功能受到網路發達的影響，逐漸弱化。
24. 冠承本來就習慣用名牌的東西，婚後這習慣依舊沒變，所以 iPhone 7 曜石黑一上市就立即購買。但是他的太太卻認為這樣太奢侈了，兩人便常常因此起衝突。請問：這是哪一種家庭衝突的類型？
 (A) 家務分工的衝突 (B) 家庭經濟的衝突 (C) 教養態度的衝突 (D) 生活習慣和意見的衝突。

(四) 近年也有不少孩子為了保護遭家暴的母親，殺了父親的事件，這些孩子，被稱為「目睹家暴兒」每年約有 20000 人左右，雖然不是直接受害者，但多數都有心理創傷。根據衛福部統計，目睹兒成年後，成為家暴加害人或被受害人的比例，高達一般人的 5~10 倍，需要外界更多的關懷！2015 年修法通過，將目睹兒納入核發保護令範圍，希望他們能及早接受保護跟支持，避免家暴傷害持續擴大。
 (民視新聞 2016 年 10 月 27 日)

25. 「目睹家暴兒」雖然不是直接受害者，但多數都有心理創傷，需要外界更多的關懷。政府為保障家暴受害人權益，特別制定哪部法律？
 (A) 《性騷擾防治法》 (B) 《家庭教育法》 (C) 《家庭暴力防治法》 (D) 《性別平等教育法》。

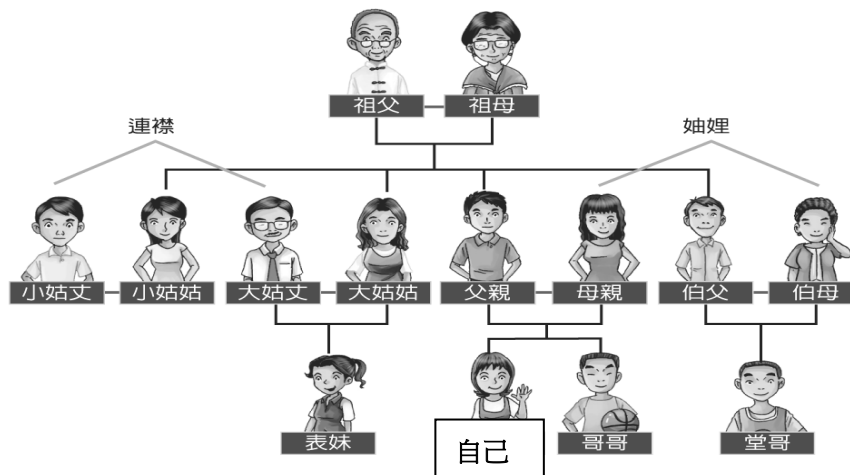
26. 依據上文所述，對於「目睹家暴兒」父母的行為，可能會受到下列何種處置？
 (A) 警察代為聲請保護令 (B) 限制父母遠離其子女 (C) 將小孩轉送他人收養 (D) 暫時禁止其行使親權。
27. 「親權」是指以什麼為目的，依法規定所產生的權利義務？
 (A) 父母對未成年子女權利義務的行使 (B) 成年子女要奉養年長的父母 (C) 父母可以處罰未成年子女
 (D) 父母要保護及教養未成年子女。
28. 依據上文所述，下列有關「保護令」內容的敘述，何者正確？ (A) 要求加害人遷出被害人住居所 (B) 由被害人向警察局聲請 (C) 加害人可藉由通信或通話聯絡被害人 (D) 加害人可以拜訪被害人的父母。

(五) 桃園市日前有一名年僅5歲的(甲)小女童出身單親家庭，目前跟外婆以及母親同住。原本在社區內開心玩耍，結果卻無端端竟遭到三名約10幾歲的少女霸凌、打巴掌，最後躲在超商內，所幸有好心鄰居阿姨協助報警，才讓事件曝光。(乙)女童母親則感嘆離婚後，為了撫養小孩，因此選擇到苗栗工作，一個月才回家一次，無法經常陪在女兒身邊。不過女兒相當懂事，(丙)不因為媽媽不在身邊就受到影響，平常時還會幫忙外婆倒垃圾、很乖巧。風向新聞 - 2016年10月17日

29. 根據上述畫線內容(甲)，其所組成的家庭型態屬於下列何者？
 (A) 小家庭 (B) 折衷家庭 (C) 重組家庭 (D) 隔代教養家庭。
30. 根據上述畫線內容(乙)，其所組成的家庭型態屬於下列何者？
 (A) 通勤家庭 (B) 重組家庭 (C) 跨國婚姻家庭 (D) 雙薪家庭。
31. 根據上述畫線內容(丙)，其所組成的家庭型態屬於下列何者？
 (A) 小家庭 (B) 頂客家庭 (C) 雙薪家庭 (D) 隔代教養家庭。
32. 女童母親離婚後，為了撫養小孩，因此選擇到苗栗工作，無法經常陪在女兒身邊。主要是為了減輕家庭的哪項負擔？
 (A) 教育功能 (B) 生育功能 (C) 經濟功能 (D) 保護與照顧功能。

(六) 請根據附圖所示，回答下列問題：

33. 母親與表妹是屬於下列何種親屬關係？
 (A) 旁系血親 (B) 血親的配偶
 (C) 配偶的血親 (D) 配偶的血親的配偶。
34. 由附圖判斷，下列對自己親屬關係的敘述，何者錯誤？



- (A) 祖母是我的直系血親
 (B) 堂哥是我的旁系血親
 (C) 姑丈是我的自然血親
 (D) 伯母是我的姻親。
35. 由附圖判斷，母親和伯母是屬於哪種親屬關係？
 (A) 旁系血親 (B) 血親的配偶
 (C) 配偶的血親 (D) 配偶的血親的配偶。
36. 由附圖判斷，祖父和姑丈是屬於哪種親屬關係？ (A) 旁系血親、配偶的血親 (B) 旁系血親、血親的配偶
 (C) 姻親、配偶的血親 (D) 姻親、血親的配偶。
37. 由附圖想像，下列哪一種是連襟關係？(A) 父親和姨丈 (B) 母親和伯母 (C) 父親和舅舅 (D) 母親和姑姑。
38. 由附圖判斷，和自己是旁系血親的有幾個人？ (A) 5人 (B) 6人 (C) 7人 (D) 8人。
39. 由附圖判斷，和自己是直系血親的有幾個人？ (A) 2人 (B) 3人 (C) 4人 (D) 5人。
40. 由附圖判斷，和自己是沒有血緣關係的有幾個人？ (A) 2人 (B) 3人 (C) 4人 (D) 5人。

加油！！記得要檢查喔！