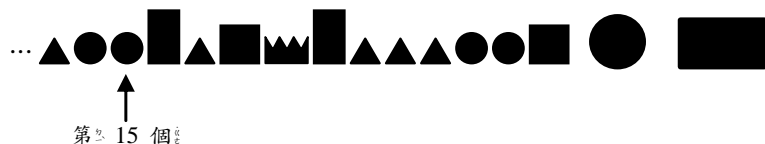


一年\_\_\_\_班 座號：\_\_\_\_ 姓名：\_\_\_\_ 家長簽名：\_\_\_\_

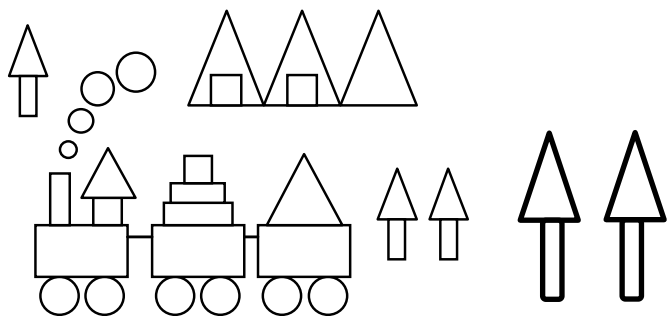
一、填填看看：1個答案2分，共76分

1.



第20個圖形是( )形，第27個圖形是( )形。

2.數數看看



(1)有( )個正方形。(2)有( )個長方形。

(3)有( )個三角形。(4)有( )個圓形。

(5)圓形比正方形多( )個。

3.

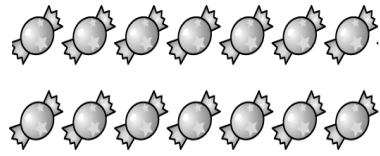
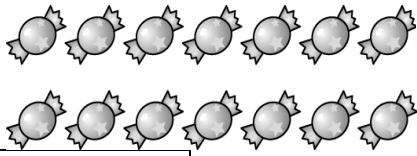



短針指在( )和( )之間，是( )點半；長針再走半圈是( )。

4.下面這些棒棒糖吃掉2根後，會剩下( )根。




5.



先  $\boxed{\text{10 顆 一 圈}}$ ，再寫出有多少？共有 ( ) 顆 

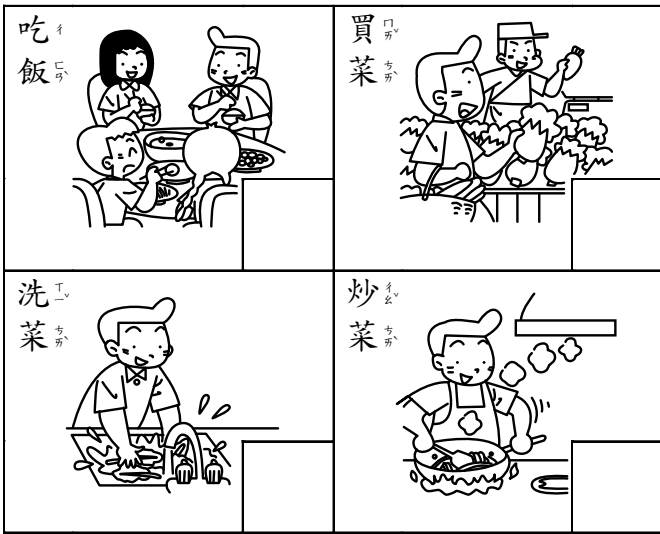
6. 按照順序填填看：

(1)



(2)  $19 \rightarrow ( ) \rightarrow 17 \rightarrow ( ) \rightarrow 15$

7. 按照事情發生的先後，填上 1、2、3、4 的順序。



8. 有 30 顆水餃，吃掉 1 顆，剩下 ( ) 顆；再吃掉 1 顆，剩下 ( ) 顆。

9. (1) 10 和 ( ) 合起來是 13。

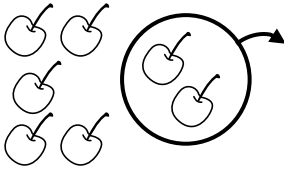
(2) 20 和 7 合起來是 ( )。

(3) ( ) 和 10 合起來是 30。

10. 依照由大到小的順序排出下面各數。


$\boxed{19 \quad 28 \quad 25 \quad 16}$  ( )  $\rightarrow$  ( )  $\rightarrow$  ( )  $\rightarrow$  ( )

11.



(      ) - 2 = (      )

12. 寫出正確的時刻。



(      ) 點半

(      ) 點

(      ) 點半

13. 做下面哪一件事花的時間比較長，請圈起來。

( 煮一壺開水，喝一口開水 )

二、連連看：1條 1分，共 5分

1. 把答案一樣的一樣連起來。

① 9-7	•	• ㄅ 4+2
② 8-2	•	• ㄆ 0+2
③ 10-6	•	• ㄏ 8-3
④ 10-2	•	• ㄏ 6+2
⑤ 9-4	•	• ㄏ 3+1

三、加或減的應用，寫出算式。 1題 3分，共 15分

1. 小丸子有 8 元，花掉 6 元，小丸子身上還有幾元？

算式：

有 (      ) 元

2. 哆啦 A 夢 有 10 個銅鑼燒，吃掉 4 個，還剩下幾個銅鑼燒？

算式：

3. 小智 已經收服了 7 隻寶可夢，還有 3 隻沒收服，小智 共要收服幾隻寶可夢？

算式：

4. 小明 家住 2 樓，從他家爬到 7 樓 小華 家，小明 爬了幾層樓？

算式：

5. 海綿寶寶 右手有 5 顆糖，左手有 9 顆糖，右手比左手少幾顆糖？

算式：

多 ( ) 顆糖

四、畫 ○ 做做看：1 題 4 分

1. 有 13 顆糖果，每一位小朋友分 1 顆糖果，糖果不夠 4 顆，有幾位小朋友？

糖果

小朋友

有 ( ) 位小朋友