





新北市板橋區後埔國民小學 106 學年度第一學期期末考查試題

領域	數學科	年級	年 班	座號	姓名	命題老師	謝欣容
----	-----	----	-----	----	----	------	-----

一、填填看看：(30%，每答1分)

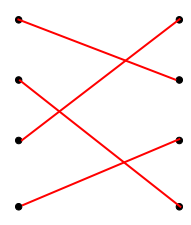
- (1) 在 $2 \times 7 = 14$ 的算式中，積是 (14)，被乘數是 (2)，乘數是 (7)。
- (2) 7×6 比 7×7 少 (1) 個 7，是少 (7)。
- (3) 5×5 比 5×3 多 (2) 個 5，是多 (10)。
- (4) $8+8+8+8=32$ ，是 8 的 (4) 倍，用乘法算式記作 (8) \times (4) = (32)
- (5) $3+3+3+3+3$ (<) 6×3 (填「>」、「<」或「=」)
- (6) 2 有 5 個，再加一個 2 後，2 有 (6) 個，是 2 的 (6) 倍。
- (7) ① $5 \times (7) = 35$ ② (8) $\times 6 = 48$
 ③ $8 \times 8 = (64)$ ④ (8) $\times 4 = 32$
 ⑤ $7 \times 7 = (49)$ ⑥ $6 \times (7) = 42$
- (8) 填填看看，時鐘上是幾點幾分？

	
① (5) 點 (32) 分	② (7) 點 (50) 分
	
③ (12) 點 (05) 分	④ (9) 點 (15) 分

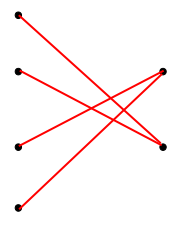
(9) 分針指在第 38 小格，時針指在 6 和 7 之間，是 (6) 點 (38) 分。

二、連連看：(8%，每答1分)

(1) 把意思相同的連起來。

① 9 有 6 個		ㄊ. 6×3
② 3 的 6 倍		ㄊ. 9 的 6 倍
③ $6+6+6$		ㄏ. 2 有 9 個
④ 2×9		ㄘ. 3×6

(2) 把意思相同的連起來。

① 4 的 3 倍		A. 3×4
② 4 是被乘數		B. 4×3
③ 4 是乘數		
④ $3+3+3+3$		

三、選出正確的答：(4%，每答2分)

- (1) (1) 在天平兩邊放上不一樣的東西，比較低那邊的東西表示什麼？(①比較重②一樣重③比較輕)。
- (3) (2) 當天平兩邊分別放上不一樣的東西，天平兩邊一樣高，下面敘述哪一個是正確的？(①數量少的一定輕②數量多的一定重③一樣重)。

四、看圖填填看：(8%，每答1分)


後埔國小二年級的小朋友要到卡司·蒂菴樂園戶外教育囉！

◎戶外教育通知單




時間：1月16日(星期二)

行程 上午 7:40 學校集合
 上午 8:00 準時出發
 上午 9:00~下午 2:30 卡司·蒂菴樂園
 下午 2:30~下午 3:00 快樂回學校
 下午 4:00 放學

- (1) 小玉起床了！現在是 (6) 點 (15) 分，分針再走 3 大格，是經過 (15) 分鐘，是 (6) 點 (30) 分。



- (2) 上午 7:40 集合，上午 8:00 準時出發，請問分針共走了幾大格？(4) 大格
- (3) 上午 11:00 有個比薩DIY活動，加上午餐時間一直到下午 1:00 結束，共花了幾個小時？(2) 小時
- (4) 全體二年級小朋友大約下午 3 點多到達學校。請選出正確時刻，並在 () 中打 \checkmark (1分)







		
()	(\checkmark)	()

後面還有題目喔！

新北市板橋區後埔國民小學 106 學年度第一學期期末考查試題





領域	數學科	年級	年 班	座號	姓名	命題老師
----	-----	----	-----	----	----	------

五、下面物品，哪些是容器？是容器的在()裡打√，不是的打×：(12%，每答2分)

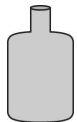

		
① (√)	② (√)	③ (×)
		
④ (×)	⑤ (√)	⑥ (×)

六、哪一個容器的容量較多？在()裡打√：(4%)

(1) (2分)


	
	
牛奶 ()	果汁 (√)

(2) (2分)

	
(√)	()


七、比比看：(10%，每答2分)

(1) 將下面三種水果，由重到輕在□中填入1、2、3：



蘋果	橘子	檸檬
2	1	3

(2) 比較輕的在□打√，比較重的畫○。



八、把做法用加法算式記下來：(3%，每答3分)

◎ 一隻蝴蝶有6隻腳，4隻蝴蝶共有幾隻腳？ $6+6+6+6=24$

(24) 隻

九、把做法用乘法算式記下來：(21%，每答3分)

(1) 一盒巧克力餅乾有5塊，媽媽買了6盒，共有幾塊餅乾？

$$5 \times 6 = 30$$

(30) 塊

(2) 一串香蕉有8根，奶奶買了7串，共買了幾根香蕉？

$$8 \times 7 = 56$$

(56) 根

(3) 小明拿了3束氣球，一束有7顆，共拿了幾顆氣球？

$$7 \times 3 = 21$$

(21) 顆

(4) 小華的錢是9元的4倍，小華有幾元？

$$9 \times 4 = 36$$

(36) 元

(5) 教室裡每一排有6張桌子，共排了5排，共有幾張桌子？

$$6 \times 5 = 30$$

(30) 張

(6) 一盒布丁有3個

① 爸爸買了8盒準備送給小朋友，共有幾個？

$$3 \times 8 = 24$$

(24) 個

② 承①題，到了教室後，爸爸發現不夠全班小朋友分，又去買了一盒，爸爸最後共買了幾個布丁？

$$3 \times 9 = 27 \text{ 或 } 24 + 3 = 27$$

(27) 個

小朋友，寫完要仔細的檢查喔！

