

新北市板橋區文聖國民小學 106 學年度第二學期二年級數學領域期中成績評量試卷  
命題教師：二年級老師



年 班 號 姓名：



一、填填看看。(每格 1 分, 共 25 分)

- (1)  $500 \rightarrow (600) \rightarrow 700 \rightarrow 800 \rightarrow (900) \rightarrow (1000)$   
 (2)  $837 \rightarrow 827 \rightarrow (817) \rightarrow 807 \rightarrow (797) \rightarrow (787)$   
 (3)  $622 \rightarrow (632) \rightarrow 642 \rightarrow 652 \rightarrow (662) \rightarrow (672)$   
 (4)  $(702) \rightarrow 701 \rightarrow 700 \rightarrow (699) \rightarrow (698) \rightarrow 697$   
 (5) 6 個百、13 個十和 4 個一合起來是 (734)。  
 (6) 小美的生日是 2 月 29 日, 請問她出生那一年是平年還是閏年? 答: (閏) 年。  
 (7) 個位數字是 5, 十位數字是 9, 百位數字是 3 的三位數是 (395), 讀作 (三百九十五)。  
 (8) 哥哥今年到墾丁度假 3 個星期又 6 天, 一共是 (27) 天。  
 (9) 用 8、4、0、3、6、9 這六張數字卡, 排出最大的三位數是 (986), 排出最小的三位數是 (304)。  
 (10) 紅茶的保存期限是 20 個月, 20 個月也可以說成是 (1) 年 (8) 個月。  
 (11) 電腦的保存固期是 3 年, 3 年是 (36) 個月。  
 (12)  $10 \times 6 = 6 \times (10)$     $0 \times 9 = (0)$     $1 \times 8 = (8)$


二、數數看看, 共有多少元?

(每題 2 分, 共 4 分)

1.   
    $(835)$  元

2.   
    $(603)$  元

三、看圖寫出兩種不同的乘法算式, 並填上答案。(每格 1 分, 共 6 分)



(1)  $(5) \times (3) = (15)$   
 (2)  $(3) \times (5) = (15)$

四、看圖回答問題。(每格 1 分, 共 14 分)

10 月						
日	一	二	三	四	五	六
1	2	3	4	5	6	7
8	9	10	11	12	13	14
15	16	17	18	19	20	21
22	23	24	25	26	27	28
29	30	31				

1. 10 月的最後一天是 10 月 (31) 日, 星期 (二)。  
 2. 妹妹每個星期三上游泳課, 10 月總共上 (4) 次游泳課。  
 3. 「恐龍展」從 10 月 9 日開始, 到 10 月 22 日結束, 一共是 (14) 天, 也就是 (2) 個星期。  
 4. 媽媽從 10 月 5 日開始參加 10 天的烹飪班, 最後一天是 (10) 月 (14) 日。  
 5. 爸爸從 10 月 16 日出差一星期, 回來那天是 10 月 (22) 日, 星期 (八)。  
 6. 美玲的生日在 10 月的第 2 個星期四, 是 (10) 月 (12) 日。  
 7. 11 月 1 日是星期 (三)。  
 8. 10 月共有 (4) 個星期又 (3) 天。

五、算算看看, 並用直式記下來。(每題 2 分, 共 8 分)

(1)  $733 + 128 = (861)$    (2)  $506 - 77 = (429)$

$$\begin{array}{r} 733 \\ + 128 \\ \hline 861 \end{array}$$

$$\begin{array}{r} 506 \\ - 77 \\ \hline 429 \end{array}$$

(3)  $9 \times 6 = (54)$    (4)  $8 \times 7 = (56)$

$$\begin{array}{r} 9 \\ \times 6 \\ \hline 54 \end{array}$$

$$\begin{array}{r} 8 \\ \times 7 \\ \hline 56 \end{array}$$



六、在( )裡填「 $>$ 」、「 $<$ 」或「 $=$ 」  
(每題1分,共4分)

- (1)  $371 (<) 419$  (2)  $620 (>) 502$   
(3)  $892 (>) 735$  (4)  $398 (<) 四百零一$

七、把經過的日期記下來,再回答問題。  
(每題3分,共6分)

1. 姐姐從9月28日到10月4日出國旅遊,一共旅遊幾天?

$\frac{9}{28} \frac{9}{29} \frac{9}{30} \frac{10}{1} \frac{10}{2} \frac{10}{3} \frac{10}{4}$

答: (7) 天

2. 「插畫展」從5月27日開始展出10天,在幾月幾日結束?

$\frac{5}{27} \frac{5}{28} \frac{5}{29} \frac{5}{30} \frac{5}{31} \frac{6}{1} \frac{6}{2} \frac{6}{3} \frac{6}{4} \frac{6}{5}$

答: (6) 月 (5) 日

八、寫出做法和答案。(每題3分,共9分)

1. 昨天參觀玩具展的民眾有756人,今天參觀的民眾比昨天少138人,今天有多少人參觀玩具展?

$$756 - 138 = 618$$

答: (618) 人

2. 果園原來種了275棵橘子樹,後來又種了148棵橘子樹,現在共有幾棵橘子樹?

$$275 + 148 = 423$$

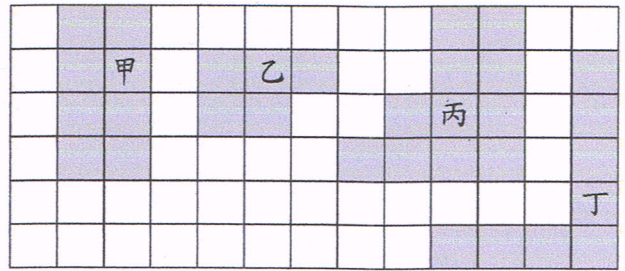
答: (423) 棵

3. 一個保溫瓶賣950元,一個鬧鐘比一個保溫瓶便宜215元,一個鬧鐘賣幾元?

$$950 - 215 = 735$$

答: (735) 元

九、看圖填填看。(每格2分,共12分)



1. 甲圖和(8)個  一樣大;  
乙圖和(5)個  一樣大;  
丙圖和(11)個  一樣大;  
丁圖和(8)個  一樣大。
2. 哪個圖形的面積最大? (丙) 圖
3. 最大的圖形和最小的圖形相差(6)個

十、寫出乘法算式和答案。

(每題3分,共12分)

1. 浩偉玩射飛鏢遊戲,射中10分的有3枝、5分的有2枝、1分的有2枝和0分的有3枝,浩偉總共得到幾分?

$$10 \times 3 = 30$$

$$30 + 10 + 2 = 42$$

$$5 \times 2 = 10$$

$$1 \times 2 = 2$$

$$0 \times 3 = 0$$

答: (42) 分

2. 一包口香糖有7片,桌上有6包空的口香糖,桌上共有幾片口香糖?

$$0 \times 6 = 0$$

答: (0) 片

3. 遊樂場丟球遊戲,玩一次要投資3個代幣,小凱和5個同學各玩一次,一共投資了幾個代幣?

$$3 \times 6 = 18$$

答: (18) 個

4. 佳珍皮包裡有7個10硬幣,她總共有多少元?

$$10 \times 7 = 70$$

答: (70) 元

※ 寫完記得要仔細檢查喔!