

新北市板橋區文聖國民小學 106 學年度第二學期二年級數學領域期末成績評量試卷

命題教師：二年級老師

年 班 號 姓名：

一、選擇題。(每題 2 分，共 18 分)

- (2) 小柚有 5 個 10 元幣和 7 個 1 元幣，把 5 個 10 元幣全部換成 1 元幣，換完後小柚一共有幾個 1 元幣？
 ① 50 個 ② 57 個 ③ 58 個 ④ 59 個
- (4) 一袋糖果有 7 顆，張老師買了 4 袋，給班上同學 19 顆，張老師還剩下幾顆糖果？
 ① 6 顆 ② 7 顆 ③ 8 顆 ④ 9 顆
- (3) 小麗和 2 個同學一起搭遊園小火車，車票一張 6 元，共要付多少元？
 ① 12 元 ② 16 元 ③ 18 元 ④ 24 元
- (1) 下面哪一種東西不能用量長度？
 ① 磅秤 ② 捲尺 ③ 布尺 ④ 15 公分尺
- (2) 教室外走廊的寬度大約有多長？
 ① 200 公分 ② 2 公分 ③ 9 公分 ④ 20 公分
- (3) 下列敘述何者正確？
 ① 長方形有 4 條邊都一樣長
 ② 正方形有 4 個角、8 個頂點
 ③ 正三角形有 3 條邊都一樣長
 ④ 等邊三角形有 3 個角、8 個頂點和 12 條邊
- (4) 全班有 36 人，老師可以怎麼分組？哪個敘述不正確？
 ① 一組 4 人，可分成 9 組 ② 一組 6 人，可分成 6 組
 ③ 一組 9 人，可分成 4 組 ④ 一組 8 人，可分成 4 組
- (1) 曉鈴有零錢 56 元，她想買 8 天花，每天可以買多少元？
 ① 7 元 ② 8 元 ③ 9 元 ④ 6 元
- (2) 小朋友把正立方體或長方體的每個面描下來，下列敘述何者錯誤？
 ① 我的長方體有 2 個正方形和 4 個長方形
 ② 我的長方體有 8 個長方形
 ③ 我的正立方體有 6 個一樣大的面
 ④ 我的正立方體有 6 個正方形

二、填充題。(每格 1 分，共 11 分)

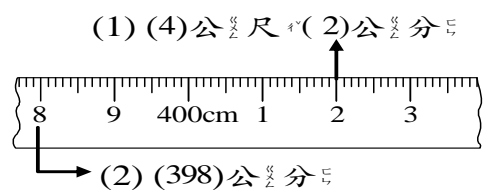
- 5 公尺 = (500) 公分
- 3 公尺 6 公分 = (306) 公分
- 480 公分 = (4) 公尺 (80) 公分
- 700 公分 = (7) 公尺
- 3 條 2 公尺長的繩子接在一起，一共長 (6) 公尺。
- 20 公尺 - 500 公分 = (15) 公尺
- 有 4 條線，分別別長：
 (A) 218 公分 (B) 3 公尺
 (C) 280 公分 (D) 2 公尺 8 公分
 請由短到長用代號寫出來。
 (D) < (A) < (C) < (B)

三、實際長度超過 1 公尺的，在 ()

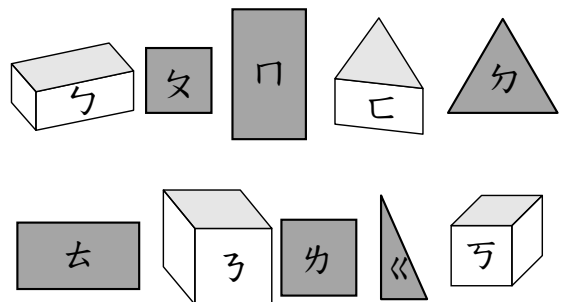
裡畫○，沒有打×：(每格 1 分，共 6 分)

- (○) (1) 你自己的身高。
- (×) (2) 鉛筆的長度。
- (○) (3) 教室天花板的長度。
- (○) (4) 教室黑板的長度。
- (×) (5) 數學課本的長度。
- (○) (6) 學校大門的長度。

四、看圖填填看。(每格 1 分，共 3 分)

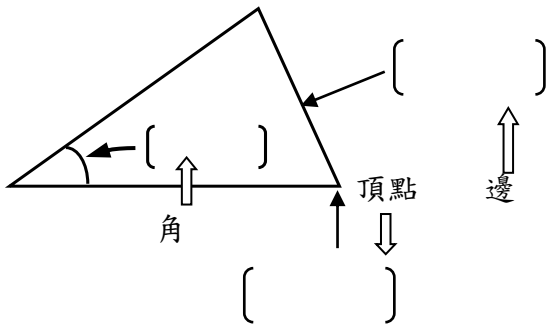


五、看圖回答問題，請填入代號。(每格 1 分，共 8 分)



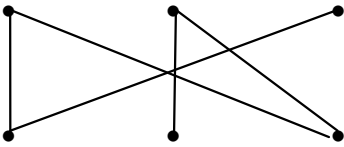

- 是正三角形：(ㄏ)
- 是長方形：(ㄆ)、(ㄇ)
- 有 8 個頂點的圖形：(ㄅ)、(ㄆ)、(ㄏ)
- 是正方形：(ㄆ)、(ㄆ)

六、請填入正確的名稱。(每格2分,共6分)



七、連連看。(每條2分,共24分)

1. 下列物品要平分給幾個人,可以剛好分完?(請連出所有的答案)



2 個人 3 個人 5 個人

2.

八、寫出做法和答案。(每題3分,共18分)

1. 小玉看故事書,一天看8頁,看了一星期,還剩下9頁沒看完,請問這本故事書一共有幾頁?

$$8 \times 7 = 56$$

$$56 + 9 = 65$$

答: (65) 頁

2. 文文在跳蚤市場買了6個橡皮擦,一個橡皮擦7元,文文付了10個5元,請問要找回多少元?

$$7 \times 6 = 42$$

$$50 - 42 = 8$$

答: (8) 元

3. 二年級小朋友分組種豆子,一組有8位小朋友,每一位小朋友種4顆紅豆和5顆綠豆,請問每一組共種了幾顆豆子?

$$4 + 5 = 9$$

$$9 \times 8 = 72$$

答: (72) 顆

4. 二年級跳繩比賽一共有6隊參加,每一隊有9個男生和7個女生,請問這次比賽男生比女生多幾人?

$$9 - 7 = 2$$

$$2 \times 6 = 12$$

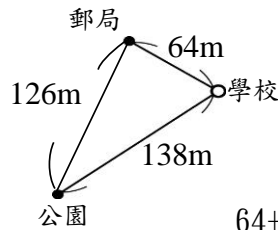
答: (12) 人

5. 小美原來有176公分的緞帶,包禮物用去了68公分,還剩下多少公尺多幾公分?

$$176 - 68 = 108$$

答: (1) 公尺 (8) 公分

6. 華華從郵局走到學校,再走到公園,一共走了幾公尺?



$$64 + 138 = 202$$

答: (202) 公尺

7. 每6個蛋糕裝成一盒,姐姐做了18個,弟弟比姐姐少做6個,他們兩個人製作的蛋糕,一共可以裝成幾盒?

$$18 - 6 = 12$$

$$18 + 12 = 30$$

$$6 \times (5) = 30$$

答: (5) 盒

8. 把32條魚平分到4個魚缸,每個魚缸可以分到幾條魚?(請用乘法算式算出答案)

$$(8) \times 4 = 32$$

答: (8) 條

※ 寫完記得要仔細檢查喔!