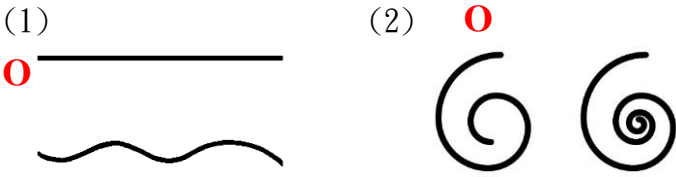


新北市板橋區沙崙國民小學 106 學年度
數學 領域 一年 __ 班 __ 號

第一學期一年級第二次定期考查試
卷 姓名：_____ 分數：

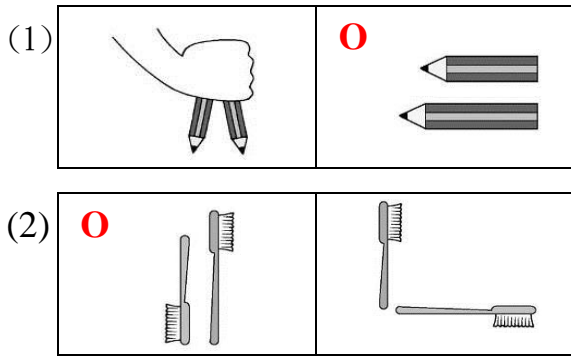
一、圈圈看看：(每個答案 2 分，共 10 分)

1. 比一比，把比較短的圈起來。



2. 怎麼比長短才是對的？

把對的圈起來。



3. 小丑把 9 頂帽子分給 6 個小朋友，

一人 1 頂，帽子夠嗎？(夠，不夠)

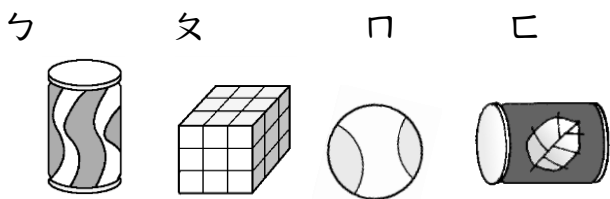
二、填填看看：(第 3.4 題每格 3 分，其餘每格 2 分，共 63 分)

1. 下面勺、叉、刀、口四個物品中，

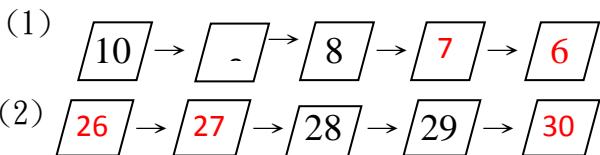
只有平平的面的是：(叉)

只有彎彎的面的是：(刀)

有彎彎的面也有平平的面是哪些物品？(勺)

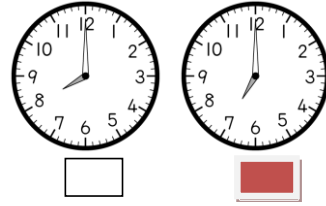


2. 按照順序填入正確的數字：

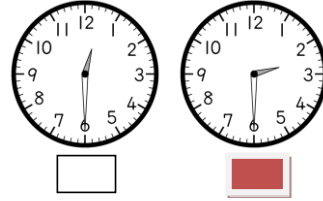


3. 在正確答案的□裡打✓。

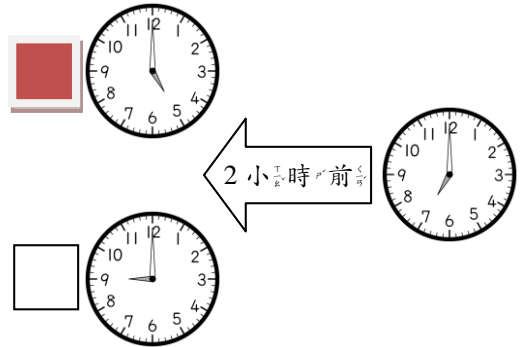
(1) 爸爸早上 7 點鐘出門上班。



(2) 小瑜下午 2 點半上舞蹈課。




(3)



4.

(1) 點半 (2) 點鐘



(第 4 題 1 格 2 分)

5. 第一個



虎 兔 龍 蛇 馬 猴 羊 雞 狗 豬

(1) 馬排在羊的(前)面，(後)面。

(2) 排在蛇後面第 3 隻的是(羊)。

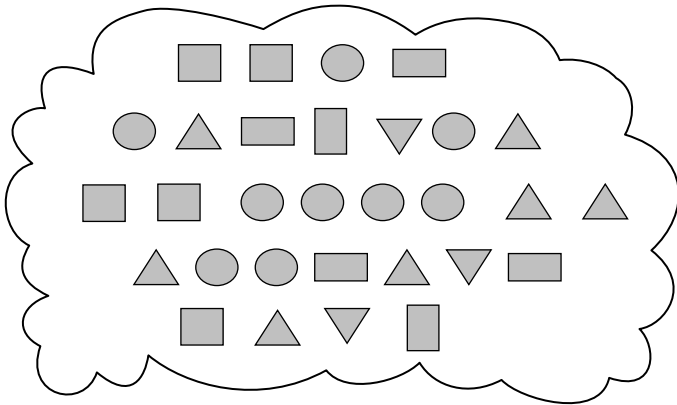
(3) 狗排在第(9)個位子，排在

牠前面的動物共有(8)隻。

6. 全部有 9 個 ○，請問奇奇用 遮住了幾個 ○？

- (1) ○○○○ (5)
 (2) ○○ (7)
 (3) ○○○○○○○○ (2)

7.



每種形狀各有幾個？先用「正」字記記看看，再回答問題。(1格2分，16分)

| | | | |
|-----|-----|-----|------|
| | | | |
| (6) | (5) | (9) | (10) |

(1) 是 (三角形狀, 正方形, 長方形)

(2) 哪一種形狀的數量最多？

(, , ,)

(3) 比 少 (5) 個。

(4) 比 多 (1) 個。

三、連連看：(9分)

請你把答案的一樣的連起來。

8-3 9-7 3+7

7-5 8+2 1+4

四、塗塗看：(6分)

1. 請你從左邊開始數，塗塗看。

| | | |
|--------|---|---|
| | 左 | 右 |
| 前面 4 個 | | |
| 第 7 個 | | |

五、應用題：(12分)

1. 桌上有 10 塊餅乾，姐姐吃了 2 塊餅乾，妹妹吃了 7 塊餅乾，一共吃了幾塊餅乾？

(9 塊)

2. 盤子裡原本有一些果凍，吃掉 6 個後，還剩下 3 個在盤子裡，原來有幾個果凍？

(9 個)

3. 書架上本來有 10 本書，小凱借走 3 本之後，書架上還剩下幾本書？

(7 本)