

數學領域 _____ 年 _____ 班 _____ 號

一、 填寫看看(1~7 題每題各 1 分， 8~10 題每題各 2 分， 共 38 分)

- 一條繩子剪成十個小段，重量會改變嗎？ (會， **不會**)。
- 一顆西瓜 75 元，一瓶鮮牛奶 38 元，弟弟身上有 120 元，夠不夠買一瓶西瓜和一瓶鮮牛奶？ (夠， 不夠)。

3. $9+9+9+9+9 = 9 \times (6) = (54)$ 。

- 5 的 6 倍是 (**30**)，6 的 7 倍是 (**42**)。
- 5×5 比 5×3 多 (**2**) 個 5，是多 (**10**)。
- 「4 的 7 倍」比「4 的 9 倍」少 (**8**)。
- 「10 的 4 倍」比「10 的 2 倍」多 (**20**)。
- 7 的 5 倍是 (**7**) \times (**5**) = (**35**)。
- $2 \times 8 = 16$ ，被乘數是 (**2**)，乘數是 (**8**)，積是 (**16**)。

7. 哪一個數最接近正確答案？圈起來。

(1) $31+7=?$ 90 100 110	(2) $83-42=?$ 40 50 60
(3) $91-52=?$ 20 30 40	(4) $69+69=?$ 120 130 140



8. (1) 一層能坐貓有 3 隻，疊在 6 層的能坐貓共有 (**18**) 隻，疊在 3 層的能坐貓共有 (**18**) 隻。

(2) 用加法算式記成 (**$3+3+3+3+3+3=18$**)。


(3) 用乘法算式記成 (**$3 \times 6 = 18$**)。



(1) 一隻魚 8 隻腳，五隻魚共有 (**40**) 隻腳。

(2) 用加法算式記成 (**$8+8+8+8+8=40$**)。

(3) 用乘法算式記成 (**$8 \times 5 = 40$**)。



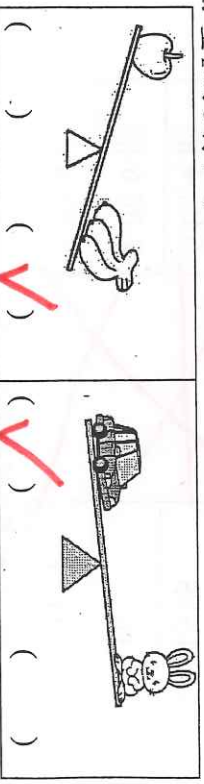
- 甲容器和乙容器誰比較重？ (**B**)。
- 甲和乙合起來共有 (**14**) 個。
- 甲和乙相差 (**2**) 個。

喘氣口氣繼續努力


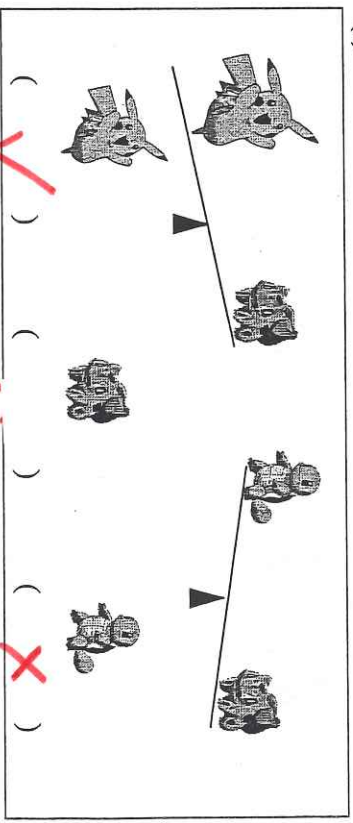
姓名： _____ 分數： _____

二、 比比看看(每題 2 分， 共 18 分)

1. 重的是打√

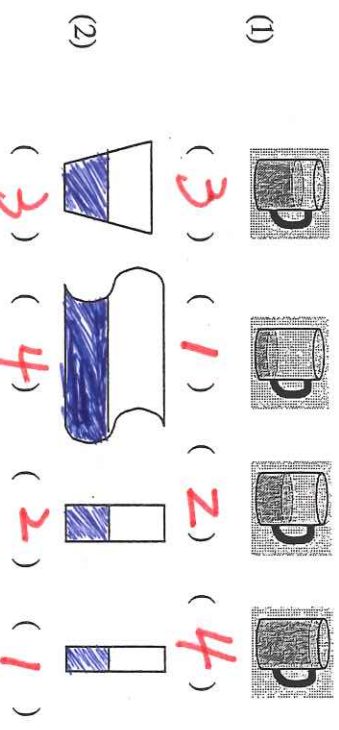


2. 最重的是打√，最輕的是打×。



3. 按照杯子裡的水量，由少到多寫出

1、2、3、4 的順序。



4. 想一想，在正確()裡打√。

(1) 比 重， 會在天平的哪一邊？ (**√**)

(2) 比 重， 會在天平的哪一邊？ (**√**)

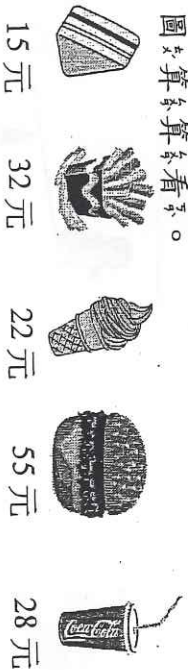
(3) 和 比， 會在天平的哪一邊？ (**√**)

三、把正確的答案連起來(每題答2分，共8分)

$7+7+7+7+7$	6的2倍
$5+5+5+5$	5的4倍
$6+6$	2的6倍
$2+2+2+2+2$	7的6倍

四、應用題(每題答3分，共15分)

* 下面的是沙崙漢堡店的價目表，看看圖算算看看。



1. 小徐買了1個和1杯，一共要付多少錢？

$15 + 28 = 43$
 $43 + 55 = 98$

2. 阿蔡帶了100元去買一包和一個，還剩下多少錢？

$100 - 32 = 68$
 $68 - 22 = 46$

3. 老余帶了80元去買2包，可以找回多少錢？

$32 + 32 = 64$
 $80 - 64 = 16$

4. 琪琪帶了60元去買一個，後來爸爸又給他55元，琪琪現在有多少錢？

$60 - 15 = 45$
 $45 + 55 = 100$

5. 賢賢身上只有40元，他想買一個，還不夠多少錢？

$22 + 55 = 77$
 $77 - 40 = 37$

五、用乘法算式記看(每題答3分，共21分)

1. 一盒巧克力有9顆，慶宜買了8盒，一共有幾顆巧克力？

$9 \times 8 = 72$

答：72顆

2. 一輛轎車可以坐5人，6輛轎車可以坐多少人？

$5 \times 6 = 30$

答：30人

3. 一艘碰碰船可以坐7位大人和4位小孩，兒童樂園內共有3艘碰碰船。

(1) 兒童樂園內所有的碰碰船可以載幾位大人？

$7 \times 3 = 21$

答：21位

(2) 兒童樂園內所有的碰碰船可以載幾位小孩？

$4 \times 3 = 12$

答：12位

4. 美琪有3本故事書，美琪的爸爸是美琪的6倍，爸爸有幾本故事書？

$3 \times 6 = 18$

答：18本

5. 請先用圖表示 2×4 ，再根據圖畫內容，用文字把乘法題目記下來。

(1) 圖畫：

略

100分	人	家長
99-90分	人	請
89-80分	人	簽
79-70分	人	章
69-60分	人	
60分以下	人	

(2) 乘法題目：

略