




一、選出正確的答案，每題2分，共10分。

1. (②) 1 個百和 2 個一 是 (① 120 ② 102 ③ 112)。

2. (③) 一個鉛筆盒賣 59 元，一把直尺賣 19 元，兩樣都買，最少要付幾個 10 元硬幣？
① 6 個 ② 7 個 ③ 8 個。



3. (②) 媽媽買了一個蛋糕，付了 1 張 、6 個  和 4 個  剛剛好，這個蛋糕多少元？
① 164 元 ② 180 元 ③ 200 元。

4. (①) 瑄瑄有 78 元，她買了一盒 39 元的餅乾後，大約剩下幾十元？
① 40 元 ② 50 元 ③ 60 元。

5. (②) 奇奇用鉛筆和彩筆量書桌的長，書桌和 4 枝鉛筆一樣長，也和 3 枝彩筆一樣長，鉛筆和彩筆哪個比較長？
① 鉛筆 ② 彩筆 ③ 一樣長。

二、填填看看，每個答案2分，共36分。

1. 111 讀作 (一百一十一)。

2. 20 個  可以換 (2) 張 。

3. $48 + 52 = 100$ ，不需要計算填填看看。

① $100 - 52 = (48)$

② $100 - 48 = (52)$

4. 按照由大到小的順序排出來下列三個數。

109

190

119

(190) > (119) > (109)

5. 按照下面的數字卡回答問題。

63

71

59

103

35

157

① 個位數字是 3 的數有：

(63)、(103)。

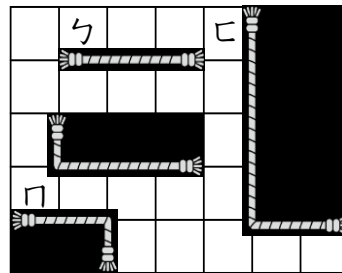
② 十位數字是 5 的數有：

(59)、(157)。

③ 百位數字是 1 的數有：

(103)、(157)。

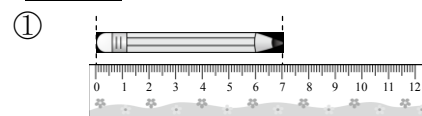
6. 看看圖填填看看



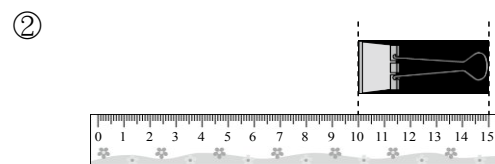
① (ㄅ) 繩和 (ㄇ) 繩一樣長。

② 一格代表長 1 公分，四條繩子加起來共有 (16) 公分。

7. 看看圖填填看看



鉛筆長 (7) 公分。



夾子長 (5) 公分。

背面還有題目哦！

三、畫畫看看，每題2分，共4分。

1. 姐姐買了一盒125元的粉蠟筆，怎麼付錢才會剛好？用 100、10、10 來表示付的錢。

2. 請畫出一條長6公分的直線。

四、比一比，在 □ 裡填入 $>$ 、 $<$ 或 $=$ ，每題2分，共12分。

1. $101 > 80$ 2. $199 - 10 = 189$
 3. $19 + 22 > 35$ 4. $26 = 88 - 62$
 5. $33 + 15 < 16 + 33$ 6. $45 - 5 < 5 + 45$

五、寫成直式算式看看，1~4題每題3分，第5題4分，共16分。

1. $16 + 52 = (68)$ 2. $7 + 46 = (53)$

3. $68 + 24 = (92)$ 4. $38 - 19 = (19)$

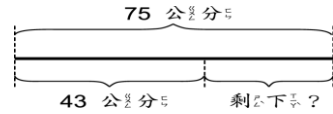
5. 先減一減，再用加法驗算。

$$\begin{array}{r} 71 \\ - 45 \\ \hline 26 \end{array}$$

驗算

六、寫出橫式及直式做做看看，1~4題每題4分，第5題6分，共22分。

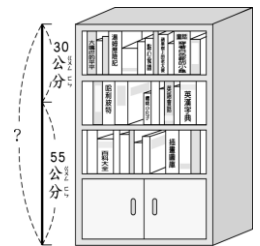
1. 一條鐵絲長75公分，做美勞用掉43公分，鐵絲剩下多少公分？



$$75 - 43 = (32)$$

答：32公分

2. 兩個人合作量書櫃的高度，哥哥從上面往下量30公分，弟弟從下面往上量55公分，書櫃有多高？



$$30 + 55 = (85)$$

答：85公分

3. 池塘裡有24隻天鵝，草地上有19隻，共有幾隻天鵝？

$$24 + 19 = (43)$$

答：43隻

4. 有26個人排隊打流感疫苗，有18個人排在小君後面，小君排在第幾個？

$$26 - 18 = (8)$$

答：第8個

5. 小安原本摺了68顆紙星星，今天又摺了一些後，他現在有90顆紙星星，今天他摺了幾顆紙星星？先算出答案，再用加法驗算。（驗算2分）

$$90 - 68 = (22)$$

答：22個

驗算

寫完了要記得檢查啊！