

領域	數學	班級	二年 班	座號		姓名		成績	
----	----	----	------	----	--	----	--	----	--

一、選出正確的答案：共14分  
(每題2分)

1.(3) 圖中是每個小朋友早上到校的時間，誰在7時45分以後才到學校？



- ① 小美 ② 小花 ③ 小宣

2.(2) 圖中的時間，在數字鐘上會怎麼顯示？



- ① 00:12 ② 12:00 ③ 12:12

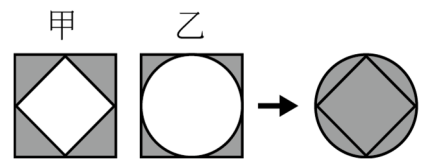
3.(1) 比一比，下面選項中的生活物品，哪一個的面積最小？

- ① 運動服上的名牌  
② 一張圖畫紙  
③ 聯絡簿的一頁

4.(3)  $3 \square 3 \square 3 = 3 \square 3$ ， $\square$ 中應該分別填入什麼符號，才能成為正確的算式？

- ①  $\times$ 、 $+$ 、 $\times$  ②  $\times$ 、 $+$ 、 $+$   
③  $+$ 、 $+$ 、 $\times$

5.(1) 在大小相同的正方形紙上，剪下不一樣大的圖形，哪一張剩下面積比較大？



- ① 甲 ② 乙 ③ 一樣大

6.(2)  $\square \times 8 = 48$ ， $\square$ 裡應該填入什麼數字？

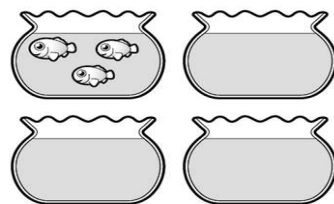
- ① 7 ② 6 ③ 5

7.(2) 每個紅包放2張100元，媽媽要準備4個紅包，需要幾張100元？乘法算式可以寫成：

- ①  $2 + 4 = 6$  ②  $2 \times 4 = 8$   
③  $4 \times 2 = 8$

二、畫畫看看，並填填看看。共4分(乘法算式2分)

一個魚缸裡有3條魚，



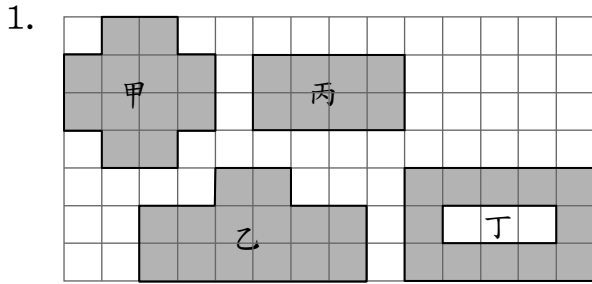
4個魚缸裡有(12)條魚。

用乘法算式記記看：

(  $3 \times 4 = 12$  )

三、填填看看： 共 31 分 (1~8 小題每題

格 1 分， 第 9 小題 2 分)



(1) 上面四個圖形各和幾個合起來一樣大?

甲： ( 12 ) 個

乙： ( 14 ) 個

丙： ( 8 ) 個

丁： ( 12 ) 個

(2) 哪一個圖形的面積最大?  
( 乙 )

(3) 哪一個圖形的面積最小?  
( 丙 )

(4) 圖形( 甲 )和圖形( 丁 )的面積一樣大。

2. 「水果奶奶說故事」的節目，從下午 5 時 30 分開始播放 1 小時，會在下午幾時幾分結束?

下午 ( 6 ) 時 ( 30 ) 分

3. 從上午 10 時到中午 12 時，時針走了 ( 2 ) 大格，是 ( 2 ) 小時。

4. 1 盒雞蛋有 4 個，3 盒蛋共有 ( 12 ) 個；再加 1 盒後，現在有 ( 4 ) 盒，共有 ( 16 ) 個雞蛋。

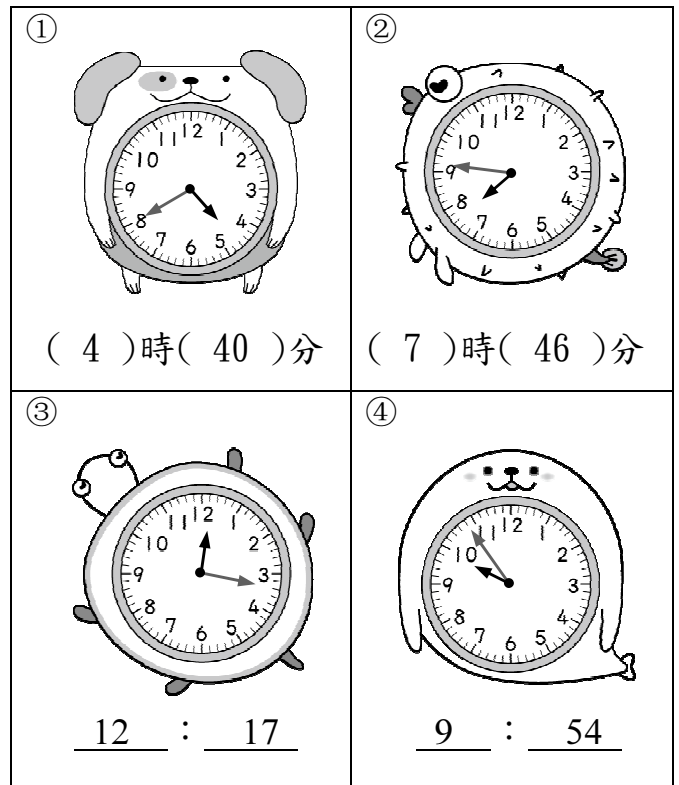
5. 「8 + 8 + 8 + 8」也可以表示成 ( 8 ) 的 ( 4 ) 倍。

6.  $7 \times 6$  比  $7 \times 4$  多 ( 2 ) 個 7，是多 ( 14 )。


7. 4 個 6 連加，也可以寫成：

$$( 6 ) \times ( 4 ) = 24。$$

8. 下面鐘面各是幾點幾分?



9. 媽媽下午 5 點多出門接小叮噹回家，把正確時刻的鐘面在 ( ) 裡打  $\checkmark$ 。



領域	數學	班級	二年 班	座號		姓名			
----	----	----	------	----	--	----	--	--	--

四、連線看：共6分(每題1分)

1.

9	·	積
× 2	·	被乘數
18	·	乘數

2. 下列各題要用哪一個算式計算？連線看。

白花8朵，紅花2朵，共有多少朵？	●——●	8+2
姐姐有8支鉛筆，弟弟比姐姐少2支，弟弟有幾支鉛筆？	●——●	8×2
足球隊一組有8個人，2組共有多少個人？	●——●	8-2

五、寫出算式和答案：共20分(每題4分)

1. 小明吃早餐花了25元，吃午餐花了48元，還剩下7元，小明原有多少元？

$$25+48=73$$

$$73+7=80$$

答：(80)元

2. 文具店有99本畫冊，昨天賣出13本，今天賣出25本，還剩下多少本？

$$99-13=86$$

$$86-25=61$$

答：(61)本

3. 水果店昨天買進36個西瓜，賣出19個，今天買進26個，現在水果店的西瓜有幾個？

$$36-19=17$$

$$17+26=43$$

答：(43)元

4. 麵包一個27元，咖啡一瓶35元，兩個一起買只要付49元，比原來便宜多少元？

$$27+35=62$$

$$62-49=13$$

答：(13)元

5. 農場上有35隻雞，雞比鵝多15隻，雞和鵝一共有幾隻？

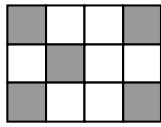
$$35-15=20$$

$$35+20=55$$

答：(55)隻

六、圈出圈出看看：共10分(每題2分)

1. 哪一種顏色的面積比較小？把它圈起來。



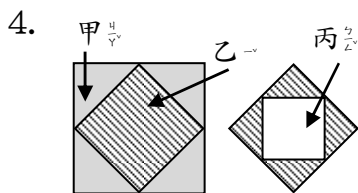
( 灰色, 白色 ) 的面積比較小。

2. 一個漢堡 59 元，一個麵包 18 元，老師身上有一百元，夠不夠買 2 個麵包和 1 個漢堡？

( 夠, 不夠 )

3. 現在是 2 時 55 分，分針再走幾小格是 3 時？


( 15 小格, 5 小格 )



哪一個圖案的面积最大？

( 甲, 乙, 丙 )

5. 哪些東西有平平的面？把它們圈起來。



七、用乘法算式做看看：共15分(每題3分)

1. 這首詩共有幾個字？

春眠不覺曉，  
處處聞啼鳥。  
夜來風雨聲，  
花落知多少。

$$5 \times 4 = 20$$

答：( 20 ) 個字

2. 池塘裡有 8 隻青蛙，一隻青蛙 4 條腿，請問 8 隻青蛙共有幾條腿？

$$4 \times 8 = 32$$

答：( 32 ) 條腿

3. 蛋糕師傅做水果蛋糕，一個水果蛋糕上放了 7 顆草莓和 6 顆葡萄，請問 5 個水果蛋糕一共有幾顆草莓？

$$7 \times 5 = 35$$

答：( 35 ) 顆

4. 1 把尺和 3 塊橡皮擦接起來一樣長，1 塊橡皮擦長 9 公分，尺長幾公分？

$$9 \times 3 = 27$$

答：( 27 ) 公分

5. 一個盤子裡有 8 個蘋果，6 個盤子裡共有幾個蘋果？

$$8 \times 6 = 48$$

答：( 48 ) 個

☺恭喜！你寫完了！  
要記得檢查喔！