

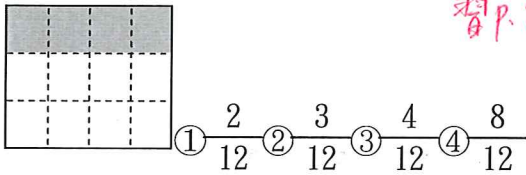
一、是非題：每題 2 分，共 10 分

- (X) 1. 在「 $15 \div 3 = 5$ 」的算式中，商是 3。 課 P.103
- (0) 2. 小明有 705 元，小華有 803 元，兩人的錢合起來大約有 1500 元。 課 P.86
- (X) 3. $\frac{6}{8}$ 條繩子的 6 表示把繩子平分成 6 份，8 表示其中的 8 份。 課 P.116
- (0) 4. 一個圓的圓心是在圓的內部。 課 P.129
- (0) 5. 一雙襪子有 2 隻，10 隻襪子是 5 雙。 課 P.110

二、選擇題：每題 2 分，共 10 分

- (2) 1. 「六分之三」的分子和分母各是多少？ 課 P.116
 - ① 分子為 6，分母為 3
 - ② 分子為 3，分母為 6
 - ③ 分子為 3，分母為 9
 - ④ 分子為 9，分母為 6。
- (1) 2. $13 \div 3 = 4 \dots 1$ 的式子中，哪一個數是被除數？ 課 P.103
 - ① 13
 - ② 3
 - ③ 4
 - ④ 1
- (4) 3. 「毫升」是何種計量單位？① 長度 ② 重量 ③ 時間 ④ 容量 課 P.75

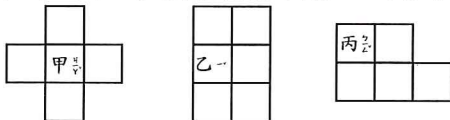
- (3) 4. 下圖白色的部分比塗色的部分多幾分之幾？ 習 P.98



- (4) 5. 在「 $甲 \div 4$ 」的算式中，餘數不可能是多少？ 課 P.103
 - ① 1
 - ② 2
 - ③ 3
 - ④ 4

三、填填看：每格 1 分，共 19 分


- 1. 3 的 (7) 倍是 21。(9) 的 4 倍是 36。 課 P.99
- 2. 正三角形的邊長是 9 公分，周長是 (27) 公分。 課 P.131
- 3. 正方形的邊長是 6 公分，周長是 (24) 公分。 課 P.131
- 4. 下圖每個小方格的邊長都是 1 公分，回答下面問題 課 P.133



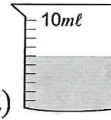
- (1) 圖形甲的周長是 (12) 公分。
- (2) 圖形乙的周長是 (10) 公分。
- (3) 圖形丙的周長是 (10) 公分。
- 5. $402 + \square 99$ 的答案接近 800， \square 中的數字是多少？ 課 P.87

答：(3)

- 6. 冰箱裡有一瓶奶茶，哥哥平分成 5 天喝完，哥哥一天喝 ($\frac{1}{5}$) 瓶。 課 P.119



- 7. (1) 量杯裡的水量是 (400) 毫升。 習 P.61



- (2) 量杯裡裝了多少水？ (6) 毫升

- 8. 一盒蛋塔有 9 個 課 P.121
 - (1) 哥哥吃了 5 個，也就是吃了 ($\frac{5}{9}$) 盒蛋塔

- (2) 弟弟吃了 $\frac{3}{9}$ 盒，是吃了 (3) 個蛋塔

- (3) (哥哥) 吃得比較多，多 (2) 個蛋塔

- 9. 9050 毫升 = (9) l (50) ml 課 P.78

- 10. $3\text{ l } 1\text{ ml} = (3001)$ 毫升

- 11. 寫出正確的讀法。 $\frac{2}{5}$ 讀作 (五分之二) 課 P.116

四、在 () 裡填入 >、< 或 =：每題 2 分，共 12 分

- 1. $56 \div 7$ (>) $20 \div 4$
- 2. $\frac{3}{3}$ (=) $\frac{4}{4}$ 習 P.95 P.98
- 3. $\frac{4}{10}$ (>) $\frac{1}{10}$
- 4. 0 (<) $\frac{1}{2}$
- 5. $\frac{1}{3}$ (<) 1
- 6. 2 公升 1000 毫升 (=) 3 公升

五、計算題：每題 3 分，共 18 分

- 1. 寫成直式算算看，並驗算。 課 P.104
 - $54 \div 9 = (6) \dots (0)$

$$\begin{array}{r} 6 \\ 9 \overline{)54} \\ \underline{54} \\ 0 \end{array}$$

驗算

$$9 \times 6 = 54$$

- 2. 寫成直式算算看，並驗算
 - $46 \div 5 = (9) \dots (1)$

$$\begin{array}{r} 9 \\ 5 \overline{)46} \\ \underline{45} \\ 1 \end{array}$$

驗算

$$5 \times 9 = 45$$

$$45 + 1 = 46$$

3. 算算看，() 中的數是多少？

$$() - 1504 = 1895$$

$$1895 + 1504 = 3399$$

$$\begin{array}{r} 1895 \\ + 1504 \\ \hline 3399 \end{array}$$

答: 3399

課P.85

4. 算算看，() 中的數是多少？

$$() + 952 = 2662$$

$$2662 - 952 = 1710$$

$$\begin{array}{r} 2662 \\ - 952 \\ \hline 1710 \end{array}$$

答: 1710

5. 1670 毫升 + 3530 毫升 = (5) 公升 (200) 毫升

$$\begin{array}{r} 1670 \\ + 3530 \\ \hline 5200 \end{array}$$

課P.80

6. 9 公升 - 720 毫升 = (8) 公升 (280) 毫升

$$9 \text{ 公升} = 9000 \text{ 毫升}$$

$$\begin{array}{r} 9000 \\ - 720 \\ \hline 8280 \end{array}$$

六、圈圈看：圈出正確的答案，共 11 分

1. 7 可以整除哪些數？(4 分)

(14), 23, 34, (42)

課P.106

2. 20 可以被哪些數整除？(4 分)

(2), 3, (5), 8

3. 蜜蜂在數線上 601 的位置，向左飛了 198，最後會停在 450 的左邊或右邊？(1 分)

(左邊), 右邊

課P.87

4. 教室裡的水桶大約是 (10 公升), 100 公升 (1 分)

課P.78

5. 一瓶養樂多大約是 (10 毫升), (100 毫升) (1 分)

七、應用題：每題 4 分，共 20 分

1. 一杯西瓜汁有 350 毫升，雅婷買了 6 杯西瓜汁，一共有多少公升多少毫升？

課P.68

$$350 \times 6 = 2100$$

$$2100 \text{ ml} = 2 \text{ l } 100 \text{ ml}$$

$$A = 2 \text{ 公升 } 100 \text{ 毫升}$$

2. 麵包店剛剛出爐了 50 個甜甜圈，店員把甜甜圈每 8 個裝成一袋，最多可以裝成幾袋？

課P.89

$$50 \div 8 = 6 \dots 2$$

$$A = 6 \text{ 袋}$$

3. 一輛計程車可以載 4 個乘客，26 個乘客最少要幾輛計程車才能載完？

課P.108

$$26 \div 4 = 6 \dots 2$$

$$6 + 1 = 7$$

$$A = 7 \text{ 輛}$$

4. 水果店今天賣了 650 顆奇異果，比昨天多賣了 85 顆，兩天共賣了幾顆？(列成一個算式做做看)

課P.77

$$\begin{aligned} & 650 - 85 + 650 \\ & = 565 + 650 \\ & = 1215 \end{aligned}$$

$$A = 1215 \text{ 顆}$$

5. 有一個寬邊是 104 公分的長方形，它的長邊比寬邊多了 186 公分，這個長方形的周長是多少公分？

課P.136

$$104 + 186 = 290$$

$$104 + 290 = 394$$

$$394 \times 2 = 788$$

$$A = 788 \text{ cm}$$