

新北市三重區三光國小 106 學年度第一學期三年級數學領域期中評量試題卷

_____年 _____班 _____號 姓名：_____

一、選擇題：每題2分，共20分

- (2) 1. 哥哥有 1452 元，弟弟有 975 元，哥哥比弟弟多幾元？以下哪個算式不能算出正確的答案？(① $1452-975$ ② $1452+975$ ③ $1000-975+452$ ④ $1452-900-75$)。

- (4) 2. 下列哪一個圖形是正方形圖形？ ① ②  ③  ④  。

- (1) 3. 關於長度單位：公分、毫米的敘述，下列哪一個選項是正確的？(① 10 毫米=1 公分 ② 1 毫米分成 10 小格 ③ $5\text{cm}2\text{mm}=502\text{mm}$ ④ 1 個 50 元錢幣的厚度是 2 公分)。

- (3) 4. 下列哪一個選項是正確的？(① 3 公分 5 毫米 < 35 毫米 ② $6050 >$ 六千五百 ③ $40 \times 5 = 8 \times 25$ ④ $6 \times 90 < 60 \times 9$)。

- (4) 5. 長方形和正方形這兩個圖形，它們共同的特點是什麼？下列哪一個選項是正確的？(① 都有 4 個直角，4 個邊等長 ② 都有 4 個邊等長，4 個頂點 ③ 都有 4 個頂點，且上下 2 個邊等長、左右 2 個邊等長 ④ 都有 4 個直角，4 個頂點)。

- (2) 6. 小辰上午採收 5209 個橘子，下午還要再採收多少個，才会有 9000 個蘋果？ ① 3781 個 ② 3791 個 ③ 3771 個 ④ 3761 個 。

- (4) 7. 在數線上，有一個數在 1200 的右邊和 1300 的左邊，這個數不可能是下面哪一個？ ① 1201 ② 1296 ③ 1226 ④ 1314 。

- (1) 8. $\text{甲} + 1400 = \text{乙} + 1950$ ，由此算式可以看出什麼？ ① 甲比較大 ② 乙比較大 ③ 一樣大 ④ 無法判斷。

- (3) 9. 阿華走一步的長度，用 15 公分的尺量了 3 次，阿華走一步的長度是多少公分？ ① 65 公分 ② 35 公分 ③ 45 公分 ④ 55 公分 。

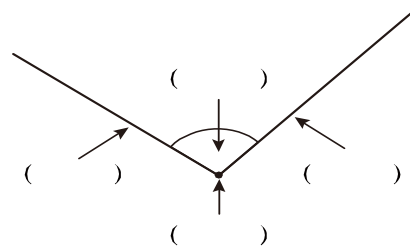
- (1) 10. 下圖 3 個鐘面中，2 點鐘、5 點鐘和 3 點鐘的分針與時針夾角，哪一個最大？



- ① 5 點鐘 ② 3 點鐘 ③ 2 點鐘 ④ 一樣大 。

二、填填看：每格1分，共23分

1. 填上角的各部位名稱。



邊 角 頂 點 邊

2. $8351 < 83\square 1$ ， \square 中可填入哪些數字？

\square 中可填入(6、7、8、)。

3. 109 毫米 = (10) 公分 (9) 毫米

4. 「4007」讀作 (四千零七) 。

5. 「五千零三十一」記作 (5031) 。

6. 「六千八百」記作 (6800)

7. 「8209」讀作 (八千二百零九)

8. 按照數字的順序填填看：

$4735 \rightarrow 4835 \rightarrow (4935) \rightarrow (5035) \rightarrow 5135$

9. 150×6 比 150×4 多 (300) 。

10. 在 \square 中填入適當的數：

$$\begin{array}{r} 7 \quad 5 \quad 1 \quad 3 \\ - \quad 4 \quad 5 \quad 6 \quad 5 \\ \hline 2 \quad 9 \quad 4 \quad 8 \end{array}$$

11. 用 0、6、2、8 組成一個四位數，數字不能重複，最大的數是 (8620)，最小的數是 (2068) 。

13. 2 個千、15 個百、4 個十和 9 個一合起來是 (3549) 。

14. $3781 = (3000) + 700 + (80) + 1$ 。

三、用直式算算看：每題3分，共21分

1. $1356 + 4034$

2. $6000 - 351$

A: 5390

A: 5649

3. 800×7

4. 425×8

A: 5600

A: 3400

5. 20公分7毫米 + 6公分6毫米

A: 27公分3毫米 或(273毫米)

6. 9公分 - 48毫米

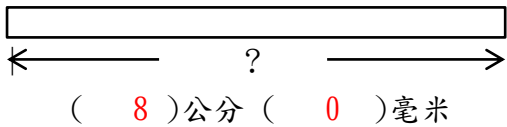
A: 4公分2毫米
(42毫米)

7. 63mm - 5cm4mm

A: 9毫米

四、畫畫看：每個答案2分，共18分

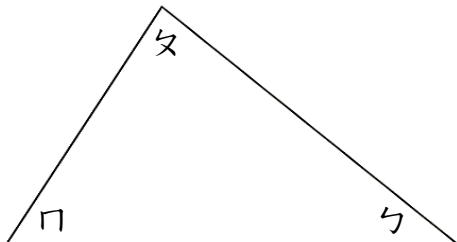
1. 用尺畫出一條5公分8毫米的直線。



3. 請在黑點上，畫出一個角



4. 請用三角板比比看圖形中的角勺、角夕、角冂，並比較大小：



(1) 角 (夕) 最大，角 (勺) 最小。

(2) 由小到大的順序是：

角 (勺) < 角 (冂) < 角 (夕)

五、把做法和答案記下來：

1. 1打汽水有12瓶，1箱有8打。請問：

(1) 1箱汽水有幾瓶？(2分)

$$8 \times 12 = 96$$

A: 96瓶

(2) 4箱汽水有幾瓶？(2分)

$$4 \times 96 = 384$$

A: 384瓶

2. 有一枝樹枝長50公分，獨角仙從樹枝的最右邊向左邊爬了13公分5毫米，還要爬幾公分幾毫米才會到達樹枝的最左邊？(4分)

A: 36公分5毫米

3. 電費3652元，媽媽身上只有1500元，還要幾

元才夠付電費？(先計算再用 、、、 畫出不夠的錢數：)(4分)

A: 2152元



4. 三光國小實施SH150晨間運動，操場的長度1圈是200公尺，每一位學生要跑3圈，共跑了多少公尺？(3分)

$$200 \times 3 = 600$$

A: 600公尺

5. 一年有12個月，從3月到8月共有幾天？(3分)

$$31 \times 4 = 124$$

$$30 \times 2 = 60$$

$$124 + 60 = 184$$

A: 184天