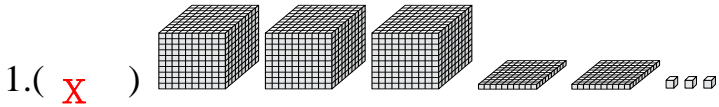


新北市 土城區		安和國民小學		107學年度 第一學期		第 次定期考查試題		100分___人 99-90分___人 89-80分___人 79-70分___人 69-60分___人 60分以下___人	家長 請簽名
科目	數學	年級	三年	班	座號	姓名			

一、是非題：10% (每題 2 分)




共有 3230 個。

2. (O) 兩個直線的邊和一個頂點組成「角」。

3. (O) 正方形四個邊一樣長且四個角都是直角。

4. (X) 角的邊長越長，角越大。

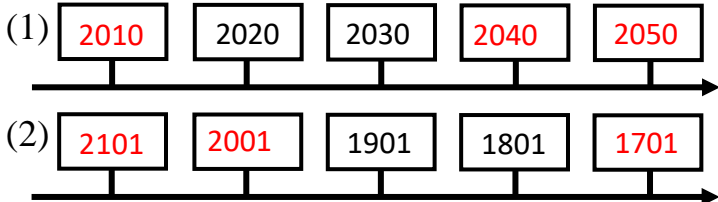
5. (X)  左圖有周界。

二、填填看：20% (每格 2 分)

1. 「2030」讀作(兩千零三十)。

2. 「五千零六」用阿拉伯數字記成 (5006)。

3. 按照順序填填看。



4. 用 0、3、6、7、9 五張字卡排成最大的四位數是(9763)，最小的四位數是(3067)。

三、請用直式算算看：16%

(③、④題 4 分，其餘每題 2 分)

① $3522 + 1984$
= 5506

(略)

② $6634 - 5127$
= 1507

(略)

③ $1345 + 4321$

= 5666

(略)

【驗算】

$5666 - 4321 = 1345$

$5666 - 1345 = 4321$

④ $4321 - 1345$

= 2976

(略)

【驗算】

$2976 + 1345 = 4321$

$4321 - 2976 = 1345$

⑤ $65 \times 8 = 520$

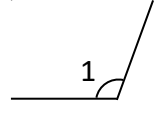
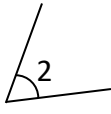
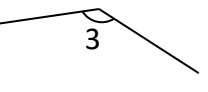
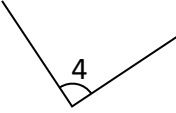
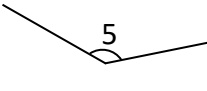
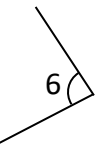
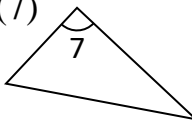
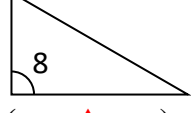
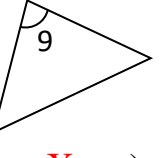
(略)

⑥ $293 \times 7 = 2051$

(略)

四、比比看：24% (每格 2 分)

1. 下列指定的角，跟直角一樣大的畫△，比直角大的角畫○，比直角小的畫X。

(1)  (O)	(2)  (X)	(3)  (O)
(4)  (△)	(5)  (O)	(6)  (X)
(7)  (△)	(8)  (△)	(9)  (X)

2. 比大小，在□內填入>、=、<。

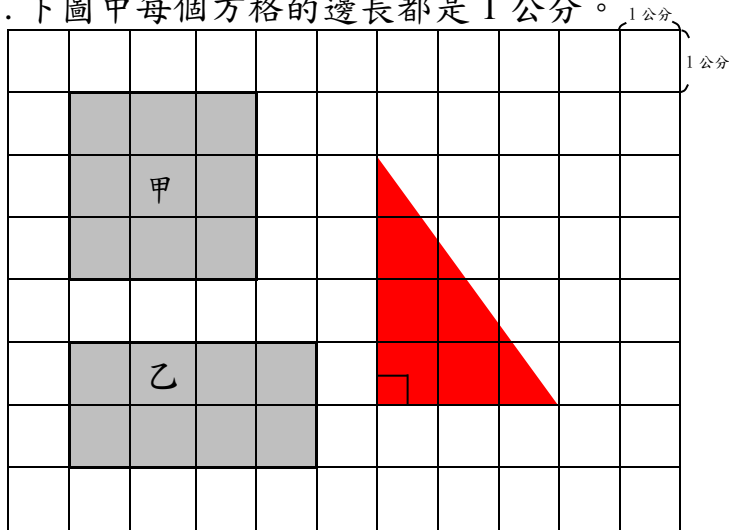
(1) 七千一百五十六 < 7165

(2) 5 個千、6 個百、7 個十 = 5670

(3) 6?25 > 6012

五、依據題意做做看：14% (每個答案 2 分)

1. 下圖中每個方格的邊長都是 1 公分。

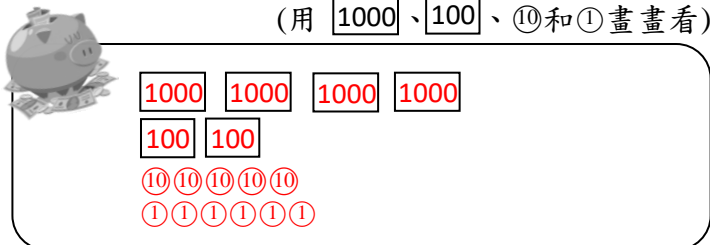


- (1) 甲圖的周長是(12)公分。
- (2) 甲圖有(4)個直角。
- (3) 乙圖的周長是(12)公分。
- (4) 乙圖是(長方)形。
- (5) 在乙圖的右邊畫出有直角的三角形，並畫上直角記號。

2. 小鴻想存錢買一臺音響。

(1) 小鴻存了 4256 元。

(用 1000、100、10 和 1 畫畫看)



(2) 接(1)題，小鴻要存多少錢才可以購買這臺 6349 元的音響。(寫出算式和答案)

$$6349 - 4256 = 2093$$

2093 元

六、應用題：16% (第 3 題 4 分，其餘每題 3 分)

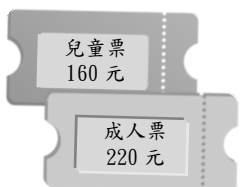
1. 小亮一家人到遊樂園玩。

(1) 爸爸買了 2 張成人票和 2 張兒童票，一共要付多少錢呢？

$$160 + 220 = 380$$

$$380 \times 2 = 760$$

760 元



(2) 進入遊樂園之後，小亮第一個想去玩丟球的遊戲，請幫小亮算看看他得了幾分呢？


* 在星星內部中得 15 分。
* 在月亮周界上得 20 分。
* 其餘不算分。

$$15 \times 4 = 60$$

$$20 \times 4 = 80$$

$$60 + 80 = 140$$

140 分



(3) 中午時，小亮與家人到美食餐廳用餐，發現餐廳內有 9 張桌子，每張桌子上放置 2 盒蛋塔，每盒有 6 個蛋塔，請問餐廳內共有多少個蛋塔？

$$6 \times 2 = 12$$

$$12 \times 9 = 108$$

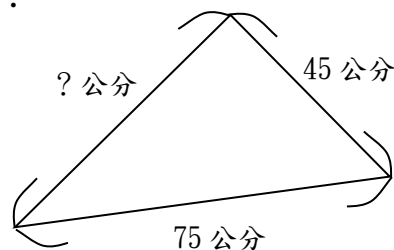
108 個

2. 下圖三角形的周長是 180 公分，請問「？」是多少公分？

$$180 - 45 = 135$$

$$135 - 75 = 60$$

60 公分



3. 小羽的零用錢是 256 元，哥哥的零用錢是小羽的 3 倍，姐姐的零用錢是哥哥的 2 倍，請問姐姐有多少零用錢？(4 分)

$$256 \times 3 = 768$$

$$768 \times 2 = 1536$$

1536 元

恭喜你寫完了！別忘了
要再檢查一次喔！😊

