

新北市 土城區		安和國民小學		107 學年度 第一學期		第一次定期考查試題				
科目	社會	年級	五年	班	座號	姓名	命題 張美玲老師			

一、是非題：每題 2 分、共 20 分

- (○) 1. 社會規範會隨著社會變遷而調整，不同文化背景所形成的規範也有所不同。
- (×) 2. 臺灣大型水庫由北到南的排列為：翡翠水庫、石門水庫、曾文水庫和德基水庫。
- (×) 3. 臺灣島因板塊推擠產生多處高山，本島第一高峰位於阿里山山脈。
- (○) 4. 臺灣的河川特色是河床坡度陡、河川長度短、季節流量變化大等。
- (×) 5. 法律是由司法機關所制定，明確規定人民與政府必須遵守的事項。
- (×) 6. 因為父母平日工作忙碌，所以我可以自行在考試卷上簽名。
- (×) 7. 澎湖群島是臺灣東海岸的重要離島。
- (×) 8. 臺灣北部海岸多屬泥沙海灘，適合發展養殖漁業。
- (○) 9. 小偉上次和家人到澎湖旅遊的時候，導遊特別介紹大家看柱狀玄武岩，十分壯觀，而這樣的景觀可以印證澎湖群島是由海底火山噴發形成的島嶼。
- (○) 10. 每個宗教都有規範信徒行為的戒律，我們應該予以尊重。

二、選擇題：每題 2 分、共 28 分

- (2) 1. 下列關於經緯度的敘述，哪一個正確？(①東經和西經各有 90 度②利用經緯度可以明確標示每一個地點的位置③南緯和北緯各有 180 度④在格林威治天文臺上可以看見存在地表上的 0 度經線)。
- (3) 2. 下列敘述哪一個不是西部海岸的特色？(①為沙岸，海底平淺②海岸線平直③海岸曲折有許多海灣④外緣有由沙洲圍繞而成的潟湖)。
- (2) 3. 法律和其他社會規範的最大不同之處在於下列何者？(①可以約束個人的行為②具有強制力③可以維持社會秩序④使社會更安定祥和)。
- (4) 4. 哪一個地方的高度位於海拔 100 至 1000 公尺之間？(①玉山山脈②屏東平原③臺中盆地④竹東丘陵)。

【背面還有題目哦！】

分數	100	90-99	80-89	70-79	60-69	60 以下
人數						
家長 簽章						

- (1) 5. 將地球區分為東半球與西半球的是下列哪一條經線或緯線？(① 0 度經線② 0 度緯線③ 南回歸線④ 北回歸線)。
- (4) 6. 臺灣島的形成是因為哪兩個板塊推擠而形成？(①菲律賓海板塊、太平洋板塊②太平洋板塊、印度板塊③印度板塊、歐亞板塊④歐亞板塊、菲律賓海板塊)。
- (3) 7. 下列哪一個是「看見臺灣」紀錄片所傳達的意涵？(①介紹臺灣的特色小吃②傳達臺灣民主的可貴③宣導愛護臺灣土地的觀念④了解臺灣的歷史發展)。
- (4) 8. 下列何者不是政府禁止兒童及少年的行為？(①喝酒②吸菸③吸食毒品④使用電腦)。
- (2) 9. 下列關於臺灣地形的敘述，若由北到南依序排列，何者正確？(①臺中盆地→宜蘭平原→雪山山脈②苗栗丘陵→嘉南平原→屏東平原③桃園台地→臺北盆地→宜蘭平原④花東縱谷平原→八卦台地→苗栗丘陵)。
- (2) 10. 下列關於臺灣四周的離島，哪一項敘述正確？(①琉球嶼(小琉球)屬於日本②綠島和蘭嶼位在臺灣東南方③離島地區的面積就有三萬六千平方公里④南沙群島是離臺灣最近的離島)。
- (3) 11. 使用網路上的文章、圖片或影音檔案時，必須經過作者同意，這是尊重哪一種權利的表現？(①隱私權②肖像權③著作權④監護權)。
- (3) 12. 下列各山脈由東向西排列的順序，何者正確？(甲)阿里山山脈(乙)中央山脈(丙)海岸山脈(丁)玉山山脈(①甲乙丙丁②丙乙甲丁③丙乙丁甲④丁甲乙丙)。
- (1) 13. 佳佳住在高雄，利用寒假到臺北逛逛，沒想到整個假期臺北都在下雨，這是因為受到什麼影響？(①季風②板塊③緯度④颱風)。
- (2) 14. 由經、緯度的位置來看，臺灣位於地球的什麼地方？(①西半球、南半球②東半球、北半球③西半球、北半球④東半球、南半球)。

三、回答下列問題：【每題 1 分，共 22 分】

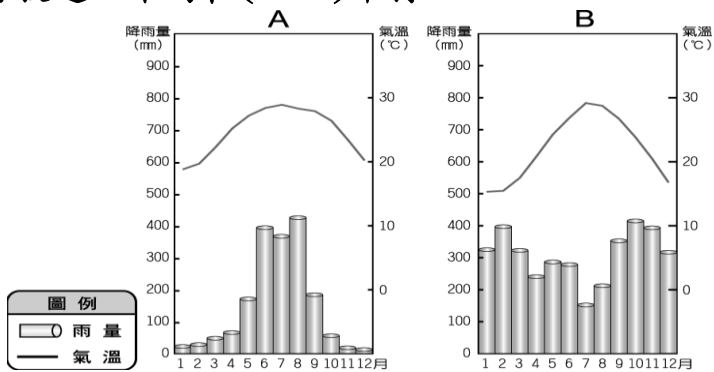
1. 下列敘述對的畫○，錯的打×：

- (1) (×) 臺灣西部最主要河流由北到南為：濁水溪、高屏溪、淡水河。
- (2) (○) 臺灣全島夏季多雨，且夏秋多颱風，因此是河川的豐水期。
- (3) (×) 濁水溪為台灣最長河川，全年水源豐沛，故沒有枯水期缺水灌溉的困擾。
- (4) (×) 平均來說，台灣的北部雨量 > 南部雨量。

2. 關於日常生活中的法律，下列敘述正確的請打✓

- (✓) (1) 網路上發表言論不可以侮辱他人。
- (✓) (2) 不可以用言語威脅或欺負他人。
- () (3) 開車時因為趕時間，可以超速。
- () (4) 代替家長在聯絡簿上簽名。
- () (5) 向別人借來的水彩，不是自己的，就不用愛惜保管。
- (✓) (6) 家中漏水影響樓下住戶，應當負起修繕的責任。

3. 下圖是臺灣某兩個地區的各月雨量圖和氣溫圖，請將敘述正確的在()中打✓



- (✓) (1) 兩地的夏季氣溫都超過 20°C。
- (✓) (2) B 地的平均雨量較多。
- (✓) (3) A 地的冬季可能發生缺水的狀況。
- () (4) B 地冬季有雨，應是受颱風的影響。

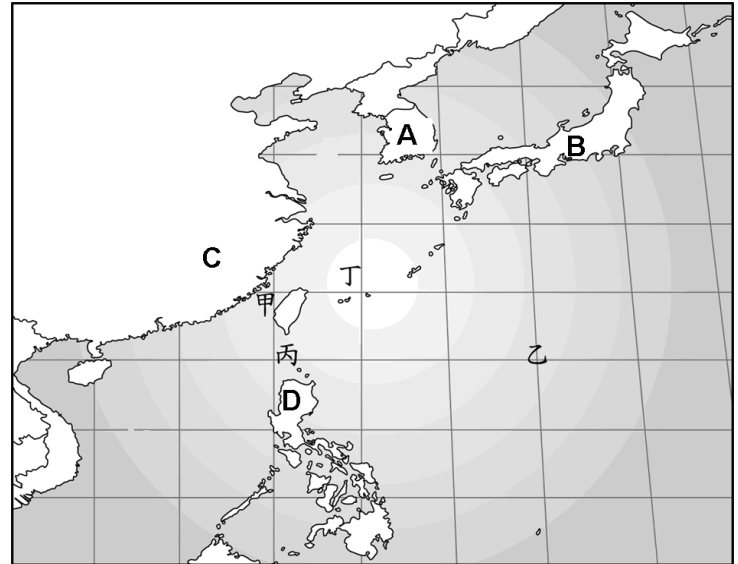
4. 下列各項行為分別屬於哪一種社會規範？請將正確代號填入()中。

①法律 ②宗教信仰 ③倫理道德 ④風俗習慣

- (④) (1) 端午節時會有划龍舟比賽。
- (②) (2) 宗教團體，前往災區發放物資。
- (③) (3) 孝順父母，協助父母做家事。
- (①) (4) 遛狗時因為未處理狗的排泄物而遭到罰款。
- (②) (5) 小杰信奉基督教，所以在吃飯前禱告。
- (③) (6) 主動關心並協助生病的同學。
- (①) (7) 因為開車闖紅燈而被開罰單。
- (④) (8) 用紅包袋裝禮金，表達對新人的祝福。

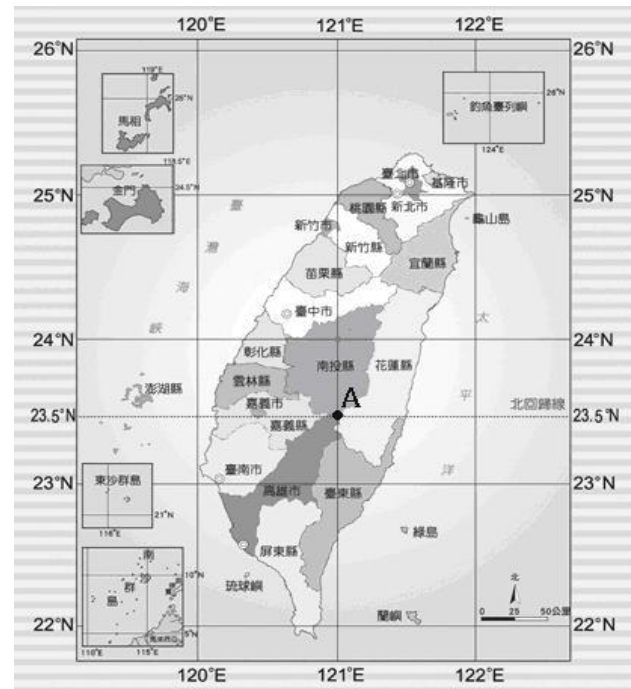
四、看圖回答問題：【每格 2 分，共 24 分】

1. 郁欣參加愛臺灣俱樂部舉辦的臺灣地圖繪製比賽，她花了許多時間完成下圖，但還有部分海洋和國家的名稱沒有填入。請你幫忙將答案填入□裡：



國家	海域
A: 南韓 (韓國)	甲: 臺灣海峽
B: 日本	乙: 太平洋
C: 中國大陸	丙: 巴士海峽
D: 菲律賓	丁: 東海

2. 請參考下面「臺灣地區經緯度圖」，回答問題。



- ① 請問圖上 N、E 各代表什麼意義？
(N:北緯, E:東經)。
- ② 請寫出圖中 A 點之經緯度: (23.5°N, 121°E)。
- ③ 北回歸線通過臺灣本島哪些縣市？請寫出兩個。
(嘉義縣)、(花蓮縣)。

五、回答問題：【6 分】

台灣的水庫有哪些功能？請寫出 3 種。

答：參考答案:民生用水、觀光、發電

