

新北市 土城區					安和國民小學		107學年度 第二學期		第一次定期考查試題		分 數	
科目	數學	年級	年 班	座號	姓名							

一、選出正確答案(每題2分)


- (3) 1. 答案比40大的算式是?
 ① 4×9 ② 5×7 ③ 10×5 ④ 4×0
- (1) 2. ㄅ 107公分、ㄆ 2公尺52公分
 ㄏ 3公尺，由長到短的順序是?
 ① ㄏㄆㄅ ② ㄆㄏㄅ ③ ㄏㄅㄆ
 ④ ㄅㄏㄆ
- (2) 3. 彈珠10個裝一盒，100個裝一箱。454個最多只能裝滿幾盒?
 ① 4盒 ② 45盒 ③ 454盒 ④ 54盒
- (4) 4. 1年又8個月，也可以說是幾個月?
 ① 18個月 ② 9個月 ③ 12個月
 ④ 20個月
- (3) 5. 百位數字是3、而且個位數字是4的數是?
 ① 340 ② 403 ③ 324 ④ 433

二、填填看(每個答案2分)

1. 18個一、3個十和4個百合起來是多少?(448)，讀作(四百四十八)
2. 東東有4張200元，安安有7張100元，香香有10個50元，靜靜有1張500元，誰的錢最多?(東東)
3. 有 0、5、8、3、9、1 六張數字卡，每張數字卡只能用一次，請選3張數字卡，排出最大的三位數是(985)，排出最小的三位數是(103)。
4. 咖啡的保存期限是18個月，18個月也可以說是(1)年又(6)個月。
5. 405公分，也可以說是(4)公尺(5)公分

6. 看圖寫出乘法算式。

(4) \times (3) = 12
 (3) \times (4) = 12



7. 王子和公主比賽射箭，公主射中10分的箭比王子多2枝，其餘射的箭和王子一樣多，公主比王子多得(20)分。

8. 看月曆填填看。

12月						
日	一	二	三	四	五	六
				1	2	3
4	5	6	7	8	9	10
11	12	13	14	15	16	17
18	19	20	21	22	23	24
25	26	27	28	29	30	31

- (1) 12月有(31)天，是(4)個星期又(3)天。
- (2) 玩具特展從12月12日開始展出5天，在(12)月(16)日結束。

三、做做看(每格2分，共6分)

小星全家人週日出去玩，下面是這次花錢的紀錄

台中之旅		
早餐	250元	門票 540元
午餐	412元	加油 795元
晚餐	520元	買紀念品 400元

請問午餐和晚餐，哪一餐花的錢比較多?

請畫 100、10 或 1 比比看。

午餐 100 100 100 100 10 1 1

晚餐 100 100 100 100 100 10 10

答：(晚)餐花的錢比較多。

四、圈出看、比比看

1. 圈出比 695 大，又比 708 小的數。

(4 分)

696， 639， 700， 777，

699， 606， 702， 749。

2. 填入 $>$ 、 $<$ 、 $=$ (每題 2 分)

(1) 203 公分 $<$ 2 公尺 30 公分

(2) $8 \times 7 < 10 \times 7$

(3) 4 個 50 元 $=$ 1 張 200 元

(4) 教室門的高度 $>$ 洗手台的高度

五、寫直式算算看(每題 3 分，驗算 2 分)

1. $425 + 36 = (461)$ 驗算:

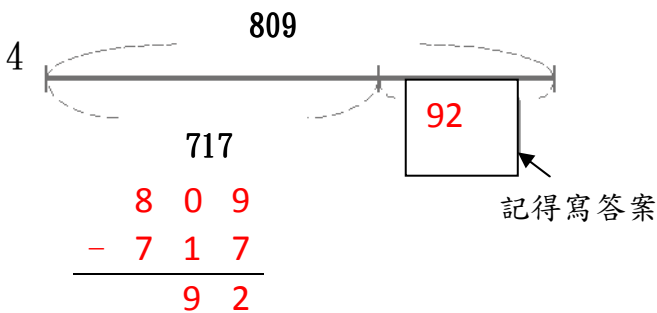
$$\begin{array}{r} 425 \\ + 36 \\ \hline 461 \end{array}$$

$$\begin{array}{r} 461 \\ - 36 \\ \hline 425 \end{array}$$

2. $675 - 138 = (537)$ 3. $26 + 506 = (532)$

$$\begin{array}{r} 675 \\ - 138 \\ \hline 537 \end{array}$$

$$\begin{array}{r} 26 \\ + 506 \\ \hline 532 \end{array}$$



六、應用題(每題 4 分)

1. 森林國小二年級有 559 人參加校外教學，其中男生有 273 人，請問參加校外教學的女生有幾人？

$$559 - 273 = 286$$

答：(286) 人

2. 爺爺從 8 月 27 日出國一星期，最後一天是幾月幾日？

8/27、8/28、8/29、8/30、8/31、9/1、9/2

答：(9) 月 (2) 日

3. 袋子裡有 125 顆果凍，再放進 147 顆，請問袋子裡共有幾顆果凍？

$$125 + 147 = 272$$

答：(272) 顆

4. 一瓶養樂多 8 元，媽媽買了 9 瓶要付多少元？

算式：

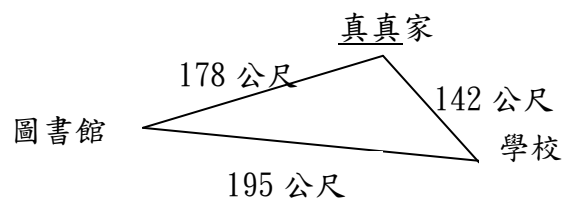
直式：

$$8 \times 9 = 72$$

$$\begin{array}{r} 8 \\ \times 9 \\ \hline 72 \end{array}$$

答：(72) 元

5. 真真放學後，媽媽接了她，先到圖書館借書，再回家。請問從學校經過圖書館再回家，距離長幾公尺？



$$195 + 178 = 373$$

答：(373) 公尺

寫完記得仔細檢查喔!