

一、選擇題：(每題 2 分)

(2) 1. 教室門的高度大約有多少公分？  
 ① 20 公尺 ② 2 公尺 ③ 20 公分。

(1) 2. 被乘數和乘數的位置交換，積會怎麼改變？  
 ① 不變 ② 變大 ③ 變小。

(2) 3. 美美的零用錢比中中少，中中的零用錢比惠惠少，誰的零用錢比較少？  
 ① 中中 ② 美美 ③ 惠惠

(3) 4. 在三位數的加法計算中，要從哪一位數開始計算？  
 ① 百位 ② 十位 ③ 個位。

二、填填看看：(每格 2 分)

(1) 974 的個位數字是 ( 4 )，百位數字是 ( 9 )，十位數字是 ( 7 )。

(2) 4 個百、15 個十和 6 個 1 合起來是 ( 556 )。

(3)  $900 - ( 899 ) - 898 - ( 897 ) - 896 - 895$

(4)  $478 - 488 - ( 498 ) - ( 508 ) - 518$

(5)  $9 \times 7$  比  $9 \times 6$ ，乘數多 ( 1 )，積多 ( 9 )。

(6)  $5 \times 7$  比  $5 \times 9$ ，乘數少 ( 2 )，積少 ( 10 )。

(7)  $250$  公分 = ( 2 ) 公尺 + ( 50 ) 公分

(8) 613 讀作 ( 六百一十三 )。

(9) 可愛班分成 3 組玩遊戲，每組有 10 人，可愛班共有 ( 30 ) 人。

(10)



上面彩帶的總長是 ( 405 ) 公分。

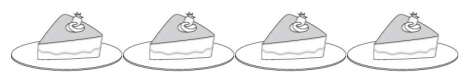
(11) 實際長度超過 1 公尺的，請

在 ( ) 裡畫  $\bigcirc$ ，沒有的打  $\times$ ：

- (  ) (1) 老師的身高。
- (  ) (2) 板擦的長度。
- (  ) (3) 教室黑板的長度。
- (  ) (4) 杯子的長度。
- (  ) (5) 數學課本的長度。

三、看看圖做做看看：(每格 1 分)

(1)



4 個盤子共放了幾個蛋糕？

( 1 ) 的 ( 4 ) 倍，  
 ( 1 )  $\times$  ( 4 ) = ( 4 )

(2)



5 個魚缸裡共養了幾條金魚？

( 0 ) 的 ( 5 ) 倍，  
 ( 0 )  $\times$  ( 5 ) = ( 0 )

四、填「>」、「<」或「=」：(每題 1 分)

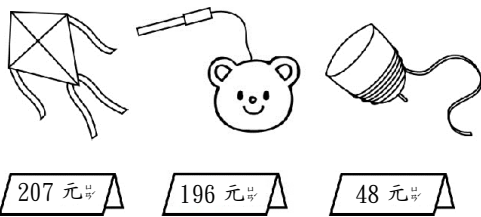
- (1) 690 (<) 906  
 (2) 1000 (>) 999  
 (3) 16 (<) 12+14  
 (4) 2 公尺 (<) 202 公分  
 (5) 410 公分 (=) 4 公尺 10 公分

五、用直式算算看：(每題 3 分)

- (1)  $563 - 158 = (405)$     (2)  $74 + 245 = (319)$

(3)  $468 - 185 = (283)$

六、把做法用算式記下來：(每題 3 分)



(1) 買 1 個 和 1 個 ，共要幾元？  $207+196=(403)$

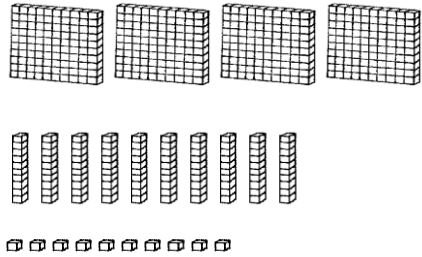
(403) 元

(2) 哥哥買了 1 個 ，付了 100 元，要找回幾元？

$100-48=(52)$

(52) 元

七、圈出 478 個口。(2 分)



八、把做法用算式記下來：(每題 4 分)

(1) 小五身上有 123 元，買筆記本花掉 35 元後，又買了 18 元的糖果，現在小五有多少元？

$123-35=(88)$

$88-18=(70)$

(70) 元

(2) 妹妹有 132 張貼紙，哥哥比妹妹少 56 張，哥哥和妹妹共有幾張貼紙？

$132-56=(76)$

$132+76=(208)$

(208) 張

(3) 慢慢龜在第一圈長 60 公尺的跑道上跑步，今天慢慢龜跑了兩圈，共跑了幾公尺？

$60+60=(120)$

(120) 公尺

(4) 1 包口香糖有 12 片，小翊買了 3 包，共有幾片口香糖？

【用乘法寫出算式和直式】 $12 \times 3 = (36)$

	十位	個位
×	1	2
	3	3
	3	6

(36) 片