

考試範圍:公民第 1-6 冊、歷史第 1-6 冊、地理第 1-6 冊 班級: \_\_\_\_\_ 座號: \_\_\_\_\_ 姓名: \_\_\_\_\_

零、畫卡題: (畫錯扣 5 分, 畫對不得分)

文昌國中舉辦考試, 採用電腦閱卷, 請依序於答案卡上填入年級、班級、座號、姓名及科目, 並利用 2B 鉛筆於班級(十位及個位)及座號(十位及個位)欄位正確畫記。

※畫記範例如下圖: 804 班 8 號-張君雅-自然科(注意: 年級請畫 789; 班級及座號 1~9 十位記得畫 0)

配分說明:

1. 三分題: 14、15、27、28、29、30、42、43、44、45; 共 10 題。

2. 兩分題: 其餘各題, 共 35 題。

電腦閱卷答案卡									
年級	8	班級	4	座號	8	姓名	張君雅	科目	自然
年級	+	0	7	8	9	0	1	2	3
班級	+	0	1	2	3	4	5	6	7
座號	+	0	1	2	3	4	5	6	7
科目	+	0	1	2	3	4	5	6	7

**畫記說明**

- 請使用 2B 鉛筆作答。
- 畫記要清晰、準確, 不可出格, 畫法要標準, 若有錯誤或不清晰, 不得視為有效畫記, 考生自行負責。
- 答案卡須裝妥答案, 請用橡皮擦, 切勿使用刀片或硬物刮除, 以免損壞。

正選 → ●  
錯誤 → ⊖ ⊕ ⊙ ⊚ ⊛

1. 公民老師在結束學期末最後一節公民課要求授課學生各選一個經濟學概念作說明或舉例, 以下是其中四位同學的回答, 老師發現有位同學的敘述出現「錯誤」, 請問是哪一位同學的敘述需要修正?

- (A) 閔皓: 新型流感疫情來勢洶洶, 口罩價格上漲, 業者趕緊加工製造, 符合比較利益法則
- (B) 伶恩: 每逢百貨公司周年慶時, 許多專櫃推出滿千送百的優惠方式, 吸引消費者購買, 這是需求法則
- (C) 震寧: 自然界的各種資源, 在某些情況下, 取得也有限制, 所以每個人都應將資源做有效運用, 避免浪費
- (D) 苡彤: 生產者將在生產過程中使用自有資金、土地及自己的薪資也計入生產成本之中, 這是機會成本的概念

※閱讀題【請根據兩篇選文分別回答2-3題與4-5題】

來自北加州的時尚創意品牌「Indigenous Designs」創立於 1993 年創辦人 Scott Leonard 到厄瓜多旅行後見識到祕魯紡織的精湛技術與血汗勞工的一體兩面, 因此結合有機原料加上時尚流行設計, 以尊重人與地球的服飾為主題, 透過在當地深耕的非營利組織, 與製衣工匠和有機農夫合作, 提供基於公平貿易原則的合理薪資以及安全的工作環境以協助祕魯原住民脫離經濟弱勢。

(摘自社企網)

2. Indigenous 另一方面則關心「穿」的安全, 引進環境友善的製造流程, 服飾的材質使用天然、可永續的材料, 例如有機棉, 並採用低環境衝擊的染料。上述做法符合下列哪一個概念?
- (A) 綠色經濟的趨勢 (B) 網際網路的運用 (C) 生物科技的發展 (D) 提高銷貨收入
3. Indigenous Designs 透過非營利組織合作, 提供當地居民合理薪資和安全健康且以當地團體為單位的工作環境以及員工或組織長期的教育甚至尊重當地原住民的文化認同進行社區關懷工作。上述做法是下列何者的展現?
- (A) 企業經營的型態 (B) 國際組織的參與 (C) 善盡企業的社會責任 (D) 企業經營與風險管理

西班牙加泰隆尼亞自治區舉行公民投票, 投票結果支持獨立的選票高達九成, 但因整體投票率低於五成, 被西班牙憲法法院宣布獨立公投違憲, 中央政府亦宣布違法, 西班牙總理更宣告不讓加泰隆尼亞分裂出去, 中央政府有權接管該地區; 現任國王甚至罕見地發表電視演說, 直指違憲的公投是對西班牙民主、憲政體制與法治政府的「不忠」。數十萬民眾更是走上街頭遊行、抗議自治區政府尋求獨立, 遊行民眾高喊「勿被騙! 加泰隆尼亞屬於西班牙!」

4. 西班牙加泰隆尼亞自治區的公民針對自治區獨立的議題舉行公民投票, 他們的行為實踐了下列哪一項公眾事務的表現?
- (A) 維護公眾利益 (B) 培養公共道德 (C) 伸張社會正義 (D) 投入政治參與。
5. 根據文章內容判斷, 下列敘述何者正確?
- (A) 西班牙為民主共和國 (B) 抗議民眾邊遊行邊高喊的標語的行為, 是人身自由權的表現
- (C) 自治區舉行公民投票, 可落實我國《憲法》主權在民的精神 (D) 西班牙總理的職權與我國司法院院長類似
6. 由於網路交易便利, 國內民眾透過外國網站購入價格低廉的仿冒品, 再藉由網路社群銷售, 雖然獲利豐碩, 卻因此觸犯法律。請問: 上述行為觸犯的法律, 應為下列何者?

- (A) 《著作權法》 (B) 《商標法》  
(C) 《專利法》 (D) 《商業登記法》

7. 請根據右圖新聞報導與法律概念判斷, 下列何者最適合當作本報導的標題?
- (A) 和解不能了事! 仍須負起刑事責任!  
(B) 超載肇事! 和解後仍遭到法院判刑!  
(C) 注意! 達成和解不能免除行政責任!  
(D) 高等法院判決最新消息! 超載該罰!

日前某民眾駕駛小貨車, 在西螺鎮一處產業道路和一名無照駕駛的八旬老翁發生車禍, 經過和解邱姓民眾支付老翁 3 萬 2 千元和解, 他也因為小貨車超載被開了一張罰單, 他以為花錢消災已經沒事。事隔一個多月後卻收到第二張罰單, 違規事實欄上面註記著「因超載發生車禍而致人受傷」, 依規定將吊扣駕照 1 年。該民眾不服而提起行政訴訟, 但法院認定車禍事故發生的原因與超載有一定因果關係, 維持原處分。

8. 新聞快報: 「花蓮一對 11 歲與 10 歲的小姊妹, 偷走鄰居早餐店中的 3 萬元現金與藍芽播放器。姊妹倆的雙親因服刑而將他們交給祖父母照顧。兩姊妹缺乏爸媽關心加上祖父母無力照顧, 因此讓她們的行為出現偏差。」根據上述, 下列敘述何者正確?
- (A) 兩人最終可能被處以拘役, 由祖父母負起連帶責任 (B) 此犯罪行為應循少年保護事件程序處理  
(C) 兩人屬於《刑法》上的限制責任能力人 (D) 此家庭的生育功能無法有效發揮

9. JOY和IRENE共同準備宴會需要的點心，她們各自製作水果塔和巧克力慕斯半小時的數量如右表所示，但不管在製作水果塔或布朗尼，JOY的能力都比IRENE強，最後依據專業化分工，決定水果塔由JOY製作，巧克力慕斯由IRENE製作。請問：IRENE製作水果塔半小時的產量①，以及JOY製作巧克力慕斯半小時的產量②，依序分別最可能是多少個？(A) 6、3 (B) 3、6 (C) 6、7 (D) 10、7。

	JOY	IRENE
水果塔(個)	8	①
巧克力慕斯(個)	②	5

10. 右表為我國某院院長所提出，有關某年對那些機關通過彈劾案糾正案的統計，並籲請相關單位能積極檢討改善，期許施政能更正當完善。請依據表格提供的訊息判斷下列敘述何者正確

事件	次數	事件隸屬機關
彈劾案	13件	法務部、國防部、金管會、教育部、地政部
糾正案	122次	法務部、交通部、國防部、勞動部、經濟部

- (A) 該院院長產生方式由行政院院長提請總統任命 (B) 糾正案提出後會移交公務人員懲戒委員會進行懲戒  
(C) 遭彈劾、糾正的機關皆隸屬於行政院 (D) 該院也有提出總統、副總統彈劾案的職權。
11. 2016年有位到臺灣旅遊的法國人對臺灣傳統紙紮工藝的精緻程度甚感佩服，並邀請「新興糊紙店」至羅浮宮參展，讓臺灣紙紮工藝受到國際矚目，這展現了何種文化現象？
- (A) 國際交流讓文化更豐富 (B) 文化差異下的文化融合  
(C) 主流文化與次文化的差異 (D) 紙紮技術發展過快導致文化失調。

表二

12. 至今讓全球失控中的新冠肺炎(Covid-19)疫情，截至目前為止共有185個國家(地區)傳出確診案例，病例數已突破230萬逾15萬人喪命，致死率約6.6%。為嚴防疫情擴大，臺灣政府在第一時間立刻成立「嚴重特殊傳染性肺炎中央流行疫情指揮中心」提供民眾最新疫情資訊與利用福利國家的體制強化因應疫情的能力，這樣的福利體制讓所有臺灣人民得以享受高效率又可負擔的醫療照護；相關單位並持續制定《嚴重特殊傳染性肺炎防治及紓困振興特別條例》來提醒民眾防疫當前應齊心面對這樣的臺灣經驗也在國際間發光發熱，成為眾多國家防疫的模仿典範。根據敘述判斷，下列敘述何者正確？

- (A) 「嚴重特殊傳染性肺炎中央流行疫情指揮中心」由立法院衛生福利部成立  
(B) 文中所指之福利體制應為社會保險制度  
(C) 防疫特殊條例的專法必須在司法院通過後才可以執行  
(D) 政府提供民間企業疫情經濟紓困方案是落實國家安全維護的功能。

13. 承上題，《嚴重特殊傳染性肺炎防治及紓困振興特別條例》在日前的修改中大幅度提高各項違規罰責。為了方便民眾瞭解，電子媒體「新頭殼newtalk」特地製圖提供參考(如右圖)。根據圖表所示，若有人囤積房藥品設備，被查獲必須負起哪一項法律責任？

特別條例罰責一圖秒懂	Newtalk新聞
違規行為	罰責
罹患、疑似罹患者擅離檢疫隔離所	最高罰200萬、2年以下有期徒刑、拘役
受隔離者擅離居家隔離處	罰20萬以上、100萬以下
受檢疫者擅離居家檢疫處	罰20萬以上、100萬以下
散播疫情相關不實謠言	最高罰300萬、3年以下有期徒刑、拘役
哄抬、囤積防疫設備、藥品價格	最高罰500萬、5年以下有期徒刑

- (A) 社會責任 (B) 民事責任  
(C) 行政責任 (D) 刑事責任。

14. 小健至律師事務所諮詢父親因病過世留下的遺產處理問題，下列是兩人的對話內容：

小健：「父親20年前瞞著家人賣出一筆土地給別人，收了買方的價金，之後父親因突發事故長期臥床，沒有去辦理土地移轉登記，買方也一直沒有通知要辦理過戶。現在父親過世了，那筆土地改登記到我的名下，這時買方才出現請求移轉土地所有權，問題是這些年來關於這筆土地的稅金我也沒有少繳，我現在該怎麼辦？」

律師：「因為超過15年，您可以依法拒絕買方的請求。若顧及您父親的信譽，也是可以將土地依約過戶給買家。不過我們可以主張買方必須補償登記費、逾其聲請登記的罰鍰以及這些年來繳納的稅金。」根據上述內容判下列何者敘述正確

- (A) 小健繼承父親的土地，是屬於《民法》上的財產關係 (B) 小健最後還是決定將土地移轉給買方，符合契約自由原則  
(C) 絕不可違背誠實信用原則，即使時效消滅，也必須履行債務  
(D) 文中底線部分，依序屬於政府的規費收入、罰款收入以及地方稅收。

15. 中央社記者(109.04.15)報導：「勞動部今天認定長榮航空去年罷工期間不給優待票屬於不當勞動行為，長榮航空表示，深感遺憾，將依法律途徑尋求救濟；工會則呼籲儘速恢復罷工組員受損權益。」請問：長榮航空將要採取的權利救濟行動的地點，應和下列何者相同？

- (A) 新八常因配偶酗酒而慘遭毆打，在家人陪同下聲請保護令 (B) 阿銀針對民事糾紛提起訴訟敗訴定讞，決定聲請釋憲  
(C) 神樂開車不小心撞到鄰車，雙方同意以調解方式解決 (D) 土方對國稅局補稅通知不服，經申請復查後提出訴願。

16. 中國歷代君王的統治權術各有所長、大相逕庭，請根據你的歷史知識判斷下列皇帝言論何者符合史實？

- (A) 漢高祖劉邦：「經過了和項羽多年的奮戰，接下來就是要好好的利用儒家思想教化人民，再平定匈奴穩定國勢」  
(B) 唐太宗李世民：「自古帝王皆貴中華賤夷狄，朕獨愛之如一，故其種落皆視朕如父母，故締造本朝兼容並蓄之特色。」  
(C) 明成祖朱棣：「自從胡惟庸試圖謀反被朕諸三族後，朕便罷黜了宰相一職，所有決策親力親為，不假他人之手。」  
(D) 清高宗乾隆：「這些傳教士竟然加入了皇位爭奪之戰，朕只能回以禁教命令報復之，並規定唯一港口廣州通商。」

17. 從二月底至三月初中央流行疫情指揮中心採檢了多位由國外旅行歸台的旅客，下列是五名旅客的旅遊景點：

- (甲) 土耳其伊斯坦堡的聖索非亞大教堂 (乙) 美國紐約自由女神像 (丙) 義大利羅馬競技場  
(丁) 埃及卡夫拉金字塔的人面獅身像 (戊) 中國北京紫禁城皇宮，請根據這些建築建造的時間排列出正確的順序？  
(A) 丁丙甲戊乙 (B) 丙丁甲乙戊 (C) 丁丙甲乙戊 (D) 丙乙戊丁甲

18. 奧運最早起源於甲，是當時各城邦之間的公開較量，每四年舉辦一次，目的在向眾神表達敬意。但由於信奉基督教的羅馬皇帝狄奧多西一世禁止奧運競技，直到自1896年恢復奧運，只有在兩次世界大戰期間中斷過三次，以及在2020新型冠狀病毒疫情期間延期。最近一次成功舉辦的奧運為巴西里約奧運，也是第一次在南美洲舉行的奧運。下列敘述何者正確？

- (A) 甲地為古羅馬帝國，從城邦進入帝國時期的過程中擴張疆域，驕傲自稱：地中海是我們的海  
(B) 狄奧多西本人是虔誠的基督徒，因而下令將基督教在羅馬帝國合法化  
(C) 諸城邦中雅典以嚴格的軍事訓練著稱，被稱為全希臘的學校，帶領希臘城邦打敗波斯帝國  
(D) 舊帝國主義在中南美洲的競逐下，巴西成為葡萄牙的殖民地，南美洲其他地方大多為西班牙王國所佔領

19. 根據長期關注中國人權問題的《寒冬》雜誌報導指出，維吾爾人不分老幼都必須接受「再教育」，如若不配合就會被惡意斷糧。這類的「再教育營」大約有1200座位在新疆各地，至少關押了100萬名維吾爾人，有位幸運逃走的年輕維吾爾女子拉希馬表示，自己被抓進「再教育營」的原因，僅僅是因為智能手機上安裝了WhatsApp，「這是叛亂和追求自由的危險跡象」。請問下列哪些歷史事件同樣呈現出當時政府違反人權的政治迫害？

- (甲) 二二八事件 (乙) 一戰後婦女獲得參政權 (丙) 美麗島事件 (丁) 文革時期下鄉勞改 (戊) 塞拉耶佛事件  
 (A) 甲乙丙 (B) 甲乙戊 (C) 丙丁戊 (D) 甲丙丁

20. 西元七世紀「玄武門之變」改變了大唐的歷史，秦王李世民殺死太子李建成和齊王李元吉，順利成為儲君。不久唐高祖李淵禪讓，李世民正式繼承帝位，即為後來的唐太宗。玄武門之變也成了李世民一生無法擺脫的爭議。請分析下列叛亂的性質，何者與玄武門之變不同？

- (A) 管蔡之亂 (B) 靖難之變 (C) 靖康之禍 (D) 八王之亂

21. 九一八事變生後，日本在東北扶植溥儀成立滿洲國。曾經有一個國際組織派調查團赴中國東北調查後做出結論：「...統治者名義上是滿洲人，實際卻操之於日本官吏和顧問手中...」，請問關於這段歷史下列敘述何者正確？

- (A) 該調查團應是以美國為首的聯合國派員所組成 (B) 這是溥儀皇帝人生中最後一次登基為帝  
 (C) 九一八事變促使蔣中正決定停止內戰一致抗日 (D) 九一八事變激起中國的民族主義，學生發起五四運動抗日

22. 武漢肺炎在全球肆虐造成前所未有的工商業損傷，經濟部調查，商圈、夜市和傳統市場，業績衰退至少五成。因此行政院通過1.05兆台幣的紓困方案，希望能搶救經濟、振興產業。回溯歷代中國的商業貿易特色，何者正確？

- (A) 唐朝時紙幣飛錢普及，有助於遠地貿易 (B) 宋朝時坊市制度取消，夜市裡常見小攤子販賣烤番薯  
 (C) 元朝時阿拉伯商人可從廣州與泉州市舶司登陸與中國商人貿易 (D) 清末外國商人須透過郊商才能與中國人貿易

23. 近代西方思想家馬基維利，目睹法國、西班牙已成為統一的王權國家，母國義大利卻仍四分五裂，所以他的著作《君王論》主張國家必須統一於一個領袖之下並建立強而有力的政府，如此國家才得以富強。請問關於馬基維利以及他所處的文藝復興時期下列敘述何者正確？

- (A) 馬基維利的理念與墨子的主張最為貼近 (B) 義大利富裕城市的市民追求精緻生活促成文藝復興的展開  
 (C) 文藝復興指的是當時藝術家對古希臘羅馬文化的全盤模仿 (D) 馬基維利與理性主義者洛克的理念不謀而合

24. 右圖為中國某個朝代當時面臨的問題，請問為了解決這些問題造成的財政困境，該朝代提出了何項改革？

- (A) 張居正變法力推一條鞭法 (B) 商鞅變法鼓勵耕織富國強兵  
 (C) 王安石變法廢除冗官、冗兵 (D) 康有為力推行戊戌變法

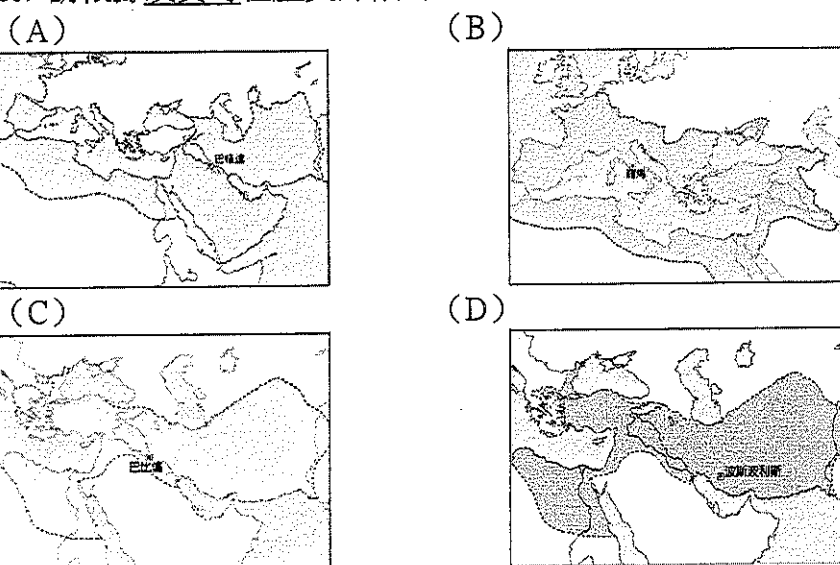
25. 「文宣」是歷代政權或領導人吸引支持群眾很重要的工具或方式

因此歷史上出現過許多朗朗上口的口號，請判斷下列歷史人物或政權所高呼的口號時間先後，排出正確的順序。

- 甲：「扶清滅洋」；「呼風喚雨，驅神使鬼。特異功能，刀槍不入」  
 乙：「革命無罪，造反有理」；「破四舊，立四新」；  
 丙：「無處不均匀，無人不飽暖」；「有飯同食、有衣同穿、有錢同使」  
 丁：「人民公社好」；「大躍進萬歲」；「超英趕美」；「人有多大膽，地有多大產」  
 戊：「驅逐韃虜、恢復中華、創立民國、平均地權」；「革命尚未成功，同志仍須努力」

- (A) 丙甲戊丁乙 (B) 丙甲乙丁戊 (C) 甲丙戊丁乙 (D) 甲丙乙戊丁

26. 請根據漢寶哥在歷史課做的重點整理如下圖一帝國特色，判斷下列何者為該帝國的疆域圖？



**帝國特色**

1. 唐代以來的中國史書均稱之為大食
2. 保存古希臘羅馬典籍有助於文藝復興運動
3. 伊斯蘭教的起源地，其元首稱為哈里發

※閱讀題 屏東恆春國中畢業生阿廷負責規劃淡水-九份三日遊的畢業旅行，以下是他查詢的相關資料，請根據資料回答27-30題

※悲情城市---九份

九份位於新北市瑞芳區，從前是台灣的採礦中心，四面環山面海，擁有變化多端的山海美景。在1990年代後電影《悲情城市》與《神隱少女》於九份取景，因此為九份帶來觀光風潮，延續至今。以下為九份一日遊行程安排：

黃金瀑布→13層遺址→盟軍戰俘紀念公園→太子賓館→黃金神社→黃金博物館周邊文化園區

盟軍戰俘紀念公園（金瓜石戰俘營）為1942年至1945年間日軍於台灣北部今新北市瑞芳區金瓜石設立的第一戰俘營，關押了一千餘名以大英國協成員國為主的同盟國軍戰俘，包括英國、加拿大、荷蘭、澳洲、紐西蘭、南非及美國。這批盟軍戰俘的勞役工作即為採掘銅礦，由於生存與工作條件甚差、管理嚴苛、醫藥不足且水土不服等因素，不少戰俘命喪於此。

太子賓館位於黃金博物館內，是在日治時代田中礦山株式會社為迎接裕仁皇太子——也就是後來的裕仁天皇，來台考察礦業，模仿太子在日本的住所所建的臨時行館。雖然後來太子因故未能成行來到台灣，賓館仍有工作人員（如管家）在內進行維護，並未荒廢。臺灣光復後，曾作為先總統蔣中正先生在金瓜石渡假的臨時住所。

27. 請問文章中所標示的甲乙丙丁，下列何者配對正確？  
 (A) 甲-西拉雅族 乙-西班牙人 丙-聖地牙哥城 丁-南京條約 (B) 甲-凱達格蘭族 乙-西班牙人 丙-聖多明哥城 丁-天津條約  
 (C) 甲-噶瑪蘭族 乙-葡萄牙人 丙-聖薩爾瓦多城 丁-北京條約 (D) 甲-泰雅族 乙-荷蘭人 丙-普羅民遮城 丁-北京條約
28. 請仔細詳閱文章中粗體字的部份，判斷下列敘述何者正確？  
 (A) 清領時期茶葉、樟腦產值逐漸超越南部的米糖，促使淡水港成為台灣第一大港  
 (B) 理學堂大書院又稱為牛津學堂，馬偕神父之所以可以至台傳教與英國在鴉片戰爭中獲勝息息相關  
 (C) 開港通商後一府二鹿三艋舺取代了原本興盛的雞籠、淡水、安平、打狗等貿易港口  
 (D) 英法聯軍的戰火波及雞籠、淡水，因此首任巡撫劉銘傳聘請洋人技師督造了北門鎖鑰的滬尾砲台

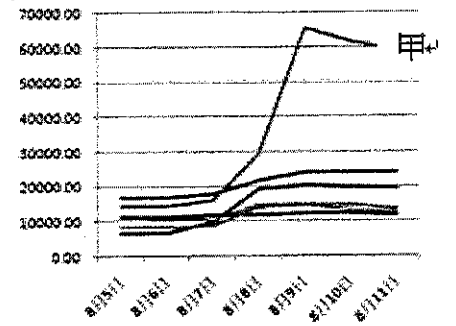
※東方威尼斯---淡水

淡水區位於新北市西北沿海處，淡水區特殊的地理環境讓淡水擁有風光美麗的山水景色，自古即為台灣八景之一，昔日更是台灣第一大港，西方文明也是由此散播至台灣北部各地。淡水一詞在昔日是淡水河口和淡水港的總稱，甚至是包含整個台灣北部，而滬尾一詞則是一個平埔聚落的名稱，音為『Hoba』、意為河口，漢人將它翻譯為滬尾，日治時期淡水以取代滬尾成為地區的代稱。

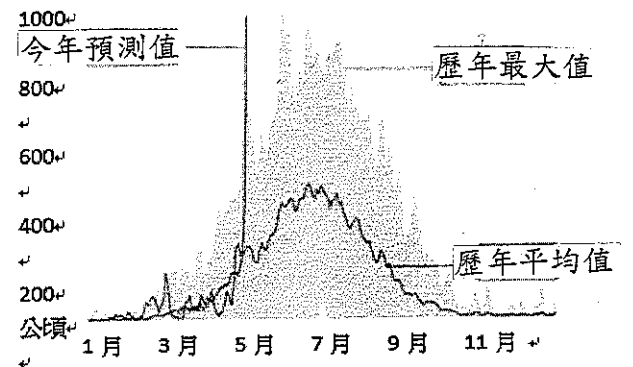
淡水從七千年前即是東南亞海渡的中繼站，因此一直有居民移入淡水，居住在此的平埔族大部份是甲族，當時中國和日本的船隻只要停靠淡水就可和平埔族做貿易，到了十七世紀乙國人覬覦台灣的地理位置，佔領了北台灣、建造了丙城。十九世紀中期，丁條約中淡水為開放港口之一，並徵收關稅，雞籠也成為淡水的外口，這兩個地方變成為外國商人聚集之處，逐漸地各國商行到淡水貿易，成為西方文化當入台灣的窗口。日據時代由於河道逐漸淤淺，因此日人便將重心轉至基隆港，但是在當時完備的公共建設讓淡水港還有空間發展，成為鄰近地區的行政文化中心。

淡水古蹟園區是淡水旅遊中主要的旅遊重點，富含了許多淡水昔日值得一遊的古蹟建築，像是淡水紅毛城、艋山寺、理學堂大書院、小白宮（前清淡水關稅務司官邸）、淡水海關碼頭、淡水龍山寺、馬偕墓、滬尾砲台、淡水福佑宮、滬尾偕醫館等等，如此豐富的古蹟園區讓民眾了解昔日的淡水風貌，更了解淡水的今與昔。

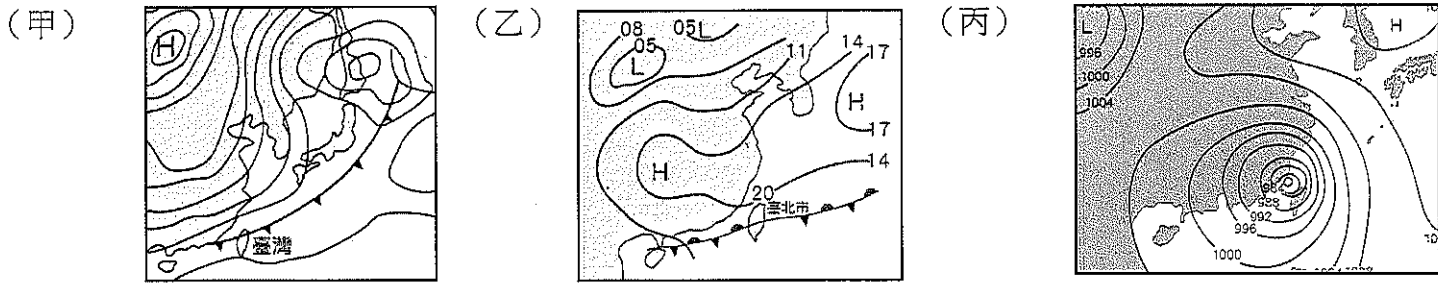
29. 關於日治時期總督府在台灣設立金瓜石戰俘營的時代背景，下列敘述何者正確？  
 (A) 為了確保台灣人在中日八年戰爭中對日本天皇的效忠，總督府的治台政策進入了內地延長主義時期  
 (B) 美國之所以成為同盟國的一員參與二戰，關鍵主因為日本對其實行無限制潛艇政策的偷襲活動  
 (C) 1945年美國在日本的首都東京投下原子彈後，日本終於宣布無條件投降，第二次世界大戰宣告結束  
 (D) 1937-1945年期間總督府在台灣各地廣建神社，要求台灣人改為日本姓氏、穿和服、說日語等，培養台人的愛國心。
30. 請利用太子賓館這段景點介紹，配合你所熟知的台灣與世界史，判斷下列敘述何者正確？  
 (A) 室町幕府順應「尊王攘夷」的民意，大政奉還給明治天皇親政，開啟明治維新的西化運動，奠定日本東亞強國地位  
 (B) 二次大戰後，蔣中正政權代為接管日本殖民地：台灣、澎湖，設置台灣總督府管理台灣事務  
 (C) 台灣光復後的首任行政長官為陳誠，在台灣成功推動土地改革，改變台灣佃農的窮苦生活  
 (D) 光復後台灣人與外省人之間的文化隔閡、執政者的貪汙與通貨膨脹，終究引爆了省籍衝突的二二八事件
31. 2009年夏天，南台灣的居民經歷了一場驚心動魄的災害：莫拉克風災，在颱風橫掃全台那三天，莫拉克一共帶來2854毫米的恐怖雨量，除了淹水及河川高漲之外，更造成堤防毀損、山崩、土石流等前所未料的複合式災情，尤其是南部地區幾乎是三天之內把一年的雨量下光，讓台灣各水庫的蓄水大幅上升，請問依照右圖的水位變化，甲水庫應為台灣的哪個水庫？  
 (A) 德基水庫 (B) 翡翠水庫 (C) 曾文水庫 (D) 石門水庫



32. 住在台灣的阿德打算到美國加州（西經120度）觀賞旅美棒球投手陳偉殷的精采表現，阿德於台灣當地搭乘7月30日下午2：00的飛機出發，飛行時間為17小時。請問：阿德到達加州的時間為當地何時？  
 (A) 7月30日上午8：00 (B) 7月30日下午3：00 (C) 7月31日上午8：00 (D) 7月31日下午8：00。
33. 「旅行，就從地圖開始。首先找一張世界地圖，看看所要到的地方，先找到它的（甲）經度，了解目的地和臺灣的時差，再看（乙）緯度，初步推測當地的氣候特色。接著閱讀（丙）小比例尺的街道圖，如果地圖中找不到方位，則以地圖的（丁）上方表示北方。最後以車站為中心，依據預定的旅遊時間，畫定一個區域，選擇旅遊景點。」上列敘述中畫線部分，正確的是下列何者？ (A) 甲乙丙 (B) 甲丙丁 (C) 乙丙丁 (D) 甲乙丁。
34. 尹世莉是一位長期關注全球環境變化的學者，由於工業快速發展，能源使用量大增，加上土地資源的開發，大量砍伐森林，使得地球環境的碳循環遭到破壞，造成全球氣候異常；而她長期致力於某項議題的研究，歸納出右圖的數據變化，請問她所研究的議題應為何者？  
 (A) 格陵蘭島的冰川覆蓋面積 (B) 亞馬孫雨林覆蓋面積  
 (C) 北京沙塵暴落塵覆蓋面積 (D) 孟加拉水患淹沒土地面積




35. 氣候異常以成為全球無法忽視的環境議題，台灣甚至在近期出現楓葉和櫻花同時出現的異象，讓人直呼地球到底怎麼了！若依照正常的氣候狀態，下列天氣圖從農曆過年至中秋節出現的時間點依序為：  
 (A) 甲乙丙 (B) 甲丙乙 (C) 乙丙甲 (D) 乙甲丙

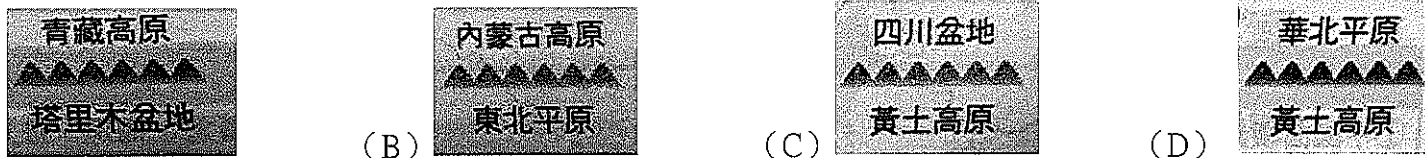


36. 李英愛參加地理知識大競賽的時候，其中的進階題為國家國土形狀的辨認請根據右圖的國土形狀及以下提供線索回答此國家最有可能為何國？  
 (A) 智利 (B) 越南  
 (C) 泰國 (D) 阿根廷

線索一：為亞太經濟合作會議成員國  
 線索二：近年來咖啡占出口重要比例  
 線索三：人口年齡中位數為 26.9 歲  
 ※年齡中位數：將人口總數分為兩半，一半的人口年齡高於這個數，另一半低於這個數。



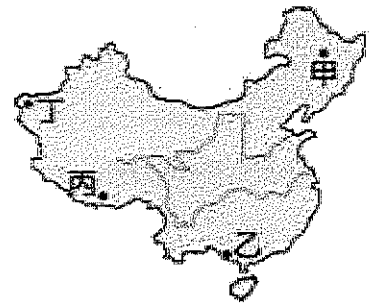
37. 山脈常成為地形區的分界線，美華在地理筆記上畫了四張中國山脈與地形的分界圖，但美華忘了標示方向，下列四張地圖，哪張圖的北方位於圖中的左側？



38. 畢書進在中國南部地區的田間騎腳踏車，看到許多江南的山光水色，美不勝收，關於畢書進對於中國南部區域的土地利用方式的敘述，下列何者正確？

- (A) 為增加耕地與水土保持，常在山地丘陵間開闢梯田 (B) 全區農作物皆可三穫 (C) 茶樹多種植在排水良好的平原  
 (D) 糧食作物以小麥為大宗

39. 右圖中國境內因為民族眾多，因此設立地方自治區以維持其獨有的傳統生活方式。請問：圖中哪一個地區目前未有少數民族自治區的設立？




- (A) 甲 (B) 乙 (C) 丙 (D) 丁。  
 40. 全世界陸地面積為1.49億平方公里，占地球總面積的30.3%，但其中約1/3是乾旱、半乾旱荒漠地區，而且每年以6萬平方公里的速度擴大著，沙漠面積已占陸地總面積的20%，還有43%的土地正面臨著沙漠化的威脅，全球各地沙漠形成的原因各不相同，下列選項中，兩者沙漠形成原因不同的為？

- (A) 巴塔哥尼亞高原沙漠VS.拉斯維加斯沙漠 (B) 西亞沙漠VS.中亞沙漠  
 (C) 澳洲中部沙漠VS.智利北部沙漠 (D) 巴基斯坦塔爾沙漠VS.撒哈拉沙漠  
 41. 雲南由於交通不便，與外界交流較少，有些特殊現象便成為「順口溜」流傳下來，例如「第七怪四季服裝同穿戴，四季服裝滿街見，多姿多采多絢爛」，根據上述內容，第七怪現象是受下列哪些因素影響？  
 甲、雨量較多 乙、地勢較高 丙、緯度較低 丁、族群複雜 (A) 甲、乙 (B) 乙、丙 (C) 丙、丁 (D) 甲、丁

42. 觀察北美洲的地形圖，可以發現在美國與加拿大的國界交界處有許多大大小小的湖泊，這些湖泊形成的原因跟下列所描述的地形景觀成因何者差異最大？

- (A) 阿爾卑斯山橫亙歐洲，地勢卻顯而不阻 (B) 芬蘭水資源豐富，利用水電發展林業  
 (C) 挪威港口眾多，大型船隻可深入內陸地區 (D) 剛果盆地地形落差大，水力蘊藏豐富

43. 世華喜歡用臉書來記錄他的人生，每到一個旅遊景點，他都會拍照打卡寫旅遊心得，右圖的照片是他今天最新上傳的動態，但內容卻有一項與事實不符，請幫世華指出錯誤的地方：「超開心的！終於來到里約這個城市，它是 (A) 巴西的首都，遠遠地我就看到耶穌張開雙臂迎接我，走在路上，聽著陌生的 (B) 葡萄牙語，吹著來自 (C) 大西洋的海風，聞著 (D) 巴西暖流帶來的濕潤空氣，彷彿我也變成熱情的拉丁人！」



※題組，請閱讀下文，回答44-45題


兩極地區的冰融現象越來越明顯，美國的科學家莫特指出：不同物體的反射能力依其表面顏色有所不同，冰雪的反照率約80%至90%，一旦冰雪融化成海水，地表反照率只剩下不到20%。大規模融冰已經改變兩極地表的顏色，未來將吸收更多太陽熱能而讓冰層融化。莫特解釋，冰雪潔白的底色能將太陽光反射回太空中，讓冰層吸收較少熱能、保持低溫，因此冰層消融得早，將導致今年融冰量再升高。

44. 右圖是地球某半球經緯線分布圖，圓心為極區，圖中同心圓線為緯線，由圓心散開的直線是經線，若今有一艘船受困於乙處聯絡位於甲處的漁船前往求救；請問由甲處往乙處的行進方向為？

- (A) 北方 (B) 南方 (C) 東北方 (D) 西南方

45. 北極附近國家對冰融後的土地利用蠢蠢欲動，目前，各國主張邊界為自該國沿海一帶向北極圈延伸200海哩，這使得北極圈尚存有大大面積未歸屬任何主權，請問下列哪一個國家的領土未深入北極地區？

- (A) 俄羅斯 (B) 英國 (C) 美國 (D) 丹麥



桃園縣立文昌國民中學 108 學年度第 2 學期 9 年級社會科第 2 次段考

解答

1	2	3	4	5	6	7	8	9	10
A	A	C	D	C	B	C	B	B	C
11	12	13	14	15	16	17	18	19	20
A	B	D	D	D	B	A	D	D	C
21	22	23	24	25	26	27	28	29	30
B	C	B	C	A	A	B	A	D	D
31	32	33	34	35	36	37	38	39	40
C	B	D	D	A	B	D	A	A	B
41	42	43	44	45					
B	D	A	A	B					