

班級：\_\_\_\_\_ 座號：\_\_\_\_\_ 姓名：\_\_\_\_\_

一、單一選擇題 【1~20 每題 2 分；21~40 每題 3 分】

1. 小珍參加線上有獎徵答活動，目前來到最關鍵的時刻，這題只要順利答對，她就能夠獲得晉級，並贏得獎勵，題目如右表所示，要選出一個最正確的答案，請問她應該要如何選擇才能如願以償？ (A)甲 (B)乙 (C)丙 (D)丁

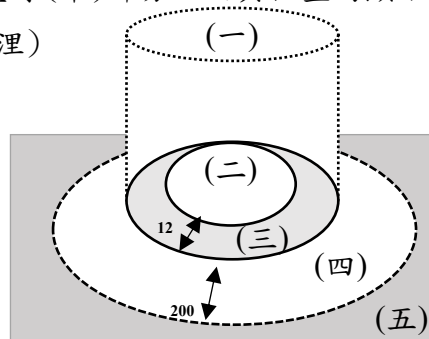
甲	居住在該國土地上的人民，就一定是該國國民
乙	領海的定義是指領陸向外延伸 200 哩的範圍
丙	國家對內享決策權，對外不需要建立平等外交關係
丁	「主權」是國家最高的統治權力，且屬於全體國民

2. 公民課後，老師請班上四位同學分析「國家與政府」的區別，以下是學生們的論述，請問下列何者敘述完全正確？  
 (A)小莉：「政府的主權需以國家執行公權力來貫徹。」 (B)恢恢：「國家只是構成政府部門成立的要素之一。」  
 (C)天天：「國家具有持續性，通常不因政權轉移變遷改變。」 (D)萊德：「國家是負責制定政策與執行的行政單位。」
3. 小美為了更理解「權力」與「權利」的不同，決定以實際案例來分析，近日她看到一則新聞標題：「颱風逼近！高雄 68 條土石流黃色警戒 強制並預防性撤離 1690 人」請幫小美判斷，下列何者敘述與此新聞所提及的概念相同？  
 (A)課堂上阿雲在台上發表自己的看法 (B)政府在事故熱區設置科技執法，取締「車不停讓行人」者  
 (C)小強在今年總統大選投下神聖的一票 (D)警方沒有持搜索票，阿卡拒絕其入屋搜索
4. 《道路交通管理處罰條例》應與下列哪一個法律位階相同？  
 (A)《中華民國憲法增修條文》 (B)《國民教育法》 (C)《交通事故處理辦法》 (D)《動物保護法施行細則》。
5. 台灣即將邁入超高齡社會，民眾骨質疏鬆問題也越來越嚴重，近期「國民營養及健康狀況變遷調查」發現 65 歲以上民眾約每 7 人就有 1 人有骨鬆。立委建議補助 65 歲以上長者骨鬆篩檢，或把老人健檢項目納入骨鬆篩檢，衛福部長回應：會盡快納入專家會議評估，請問長者骨鬆篩檢如果納入補助範圍，屬於國家存在的哪項功能？  
 (A)維護社會秩序 (B)保衛國家安全 (C)發展社會福利 (D)立法保障人權
6. 2022 年日本首相安倍晉三在奈良遇刺身亡，日本警察廳長中村格在記者會上宣布將辭職下台，以示負責。上述警察廳長請辭的舉動，表現出民主政治中的何項特色？ (A)民意政治 (B)法治政治 (C)責任政治 (D)政黨政治
7. 北韓因外人無法輕易抵達、國人也無法輕易出國，被稱為最封閉也相對神秘的國家，但根據北韓的《朝鮮民主主義人民共和國社會主義憲法》明定並保證北韓人民是具有言論自由權、選舉權等基本權利，可事實上北韓領導人及其政府擁有絕對的統治權並全面監控人民。根據以上內容，下列何者敘述較適當？  
 (A)北韓有制定憲法，為依法而治的法治國家 (B)北韓會透過憲法保障人民的基本權利  
 (C)北韓由領導人掌握權力，為以法而治的人治國家 (D)北韓人民可以透過選舉促成政權轉移
8. 某藝人被警方查獲購買、持有及觀看兒少性影像引社會重新關注兒少性影像問題，也促使立法院立刻對《兒童及少年性剝削防制條例》部分內容進行修正，以遏止此一歪風。其中法條明訂：「支付對價觀覽兒童與少年為性交或猥褻之行為或其性影像者，處 1 年以上 7 年以下有期徒刑，得併科新台幣 10 萬元以上 100 萬元以下罰金。」此一罰則可說是非常重。根據以上內容敘述，何者正確？  
 (A)負責處理兒少性剝削案件是警察的權利 (B)人民關注此議題也促使政府立即修法，以維護兒少的權力  
 (C)此法可體現出我國為法治政治的國家 (D)制定與執行該法的機關完全相同
9. 請問下列新聞敘述何者屬於民主政治中的「民意政治」特色？  
 (A)提供台積電一奈米以下先進製程生產，基地龍科 3 期擴建，公聽會逾半反對徵收  
 (B)某部長的外遇事件讓社會觀感不佳，造成政府形象受創，因此火速辭職下台以示負責  
 (C)桃園龍潭知名的「怪怪屋」因廣告數量過多，張貼過於誇張且年久失修，市府擬納入拆除名單  
 (D)台灣總統自 1996 年開放人民直選後，已經經歷過三次政黨輪替

10. 歷史劇中常可看到官員說著：「君要臣死，臣不得不死…」的場面，前陣子熱播的古裝劇，也有句話出自公主台詞：「我輾死你，就像輾死一隻螞蟻…」，在沒有任何制度性保障可言的社會中，可能會出現下列何種情況？
- (A) 法律充分保障人民的權利 (B) 統治者憑自己的好惡來統治人民  
(C) 政府所有作為須依法行政 (D) 領導者受法律約束。

11. 阿妹是原住民，為了解國家對原住民族的保障，她查詢多項法律，若以法律位階來判斷，下列何者效力最強？
- (A) 《原住民族基本法》 (B) 《原住民族別認定辦法》  
(C) 《原住民族工作權保障法施行細則》 (D) 《公務人員特種考試原住民族考試規則》

12. 大華在發現報紙的內容有汙損，汙損部分為文中畫線(甲)部分，而其位置的顯示如右圖，以下何者為(甲)的正確的資訊？(單位：浬)



- (A) (甲)是領陸，位置在右圖的(二)  
(B) (甲)是領空，位置在右圖的(一)  
(C) (甲)是經濟海域，在右圖的(五)  
(D) (甲)是領海，位置在右圖的(三)

《漁民目擊新加坡籍貨輪走私香菸 澎湖海巡隊全程監控》

澎湖漁民於外海作業時，發現外籍貨輪在公海上走私香菸，澎湖海巡隊表示有接獲相關情資，並派巡邏艇沿途監控，但這艘新加坡籍貨輪是在我國領土(甲)之外，因此無法依法進行取締，只能監控該貨輪離開。

13. 阿富汗民兵組織神學士(Taliban，另譯塔利班)2021年8月在美軍撤離後掌權，隨後打壓女性權益，包括禁止大部分女孩就讀高中和大學。關閉美容院，不許婦女在沒有男性監護人陪同下出門旅行，還頒布一長串新法令，包括規定女性外出遮臉。請問根據上文敘述，下列何者觀念正確？

- (A) 塔利班政府不許婦女在沒有男性監護人陪同下出門是保護她們的安全，人民應無條件遵守  
(B) 從塔利班政府的作為得知阿富汗目前是一個人治的國家  
(C) 塔利班政府用武力取代原本的政權，展現了政黨輪替的精神  
(D) 塔利班政權頒布新的法令，符合民主國家法治政治的特色

14. 小天對台灣政治發展的歷史非常感興趣，因此整理了從第一次政黨輪替後的總統與其所屬政黨的名單，根據小天整理的資料，下列何者說明正確？

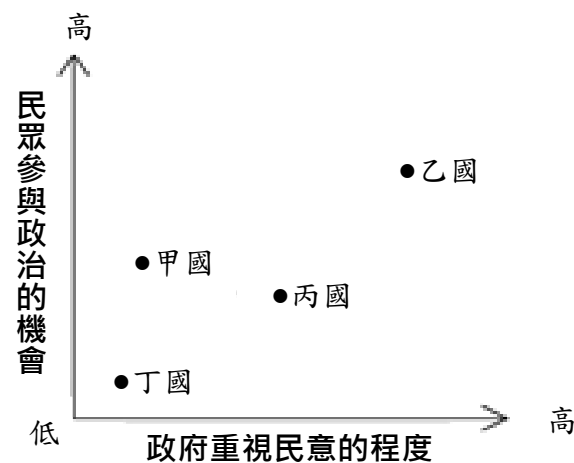
輪替次數	在位時間	總統	所屬政黨
第一次	2000~2008	陳水扁	民主進步黨
第二次	2008~2016	馬英九	中國國民黨
第三次	2016~至今	蔡英文	民主進步黨

- (A) 政府會隨著政黨輪替而被取代  
(B) 此資料顯示出本國的責任政治  
(C) 只有這兩個政黨可以參與選舉  
(D) 總統任期不固定，完全隨選民的喜好決定

15. 右圖是甲、乙、丙、丁四個國家的現狀，請根據圖片判斷哪一個國家的民意對政府施政最無法發揮影響力？(A) 甲國 (B) 乙國 (C) 丙國 (D) 丁國

16. 桃園市台 66 快速道銜接國道 3 號增設系統交流道，但是國 3 銜接台 66 線南下高架匝道工程卻面臨假日、夜間無法施工難題，高公局第一新建工程處表示，工程單位會努力克服施工問題全力趕工，務必如期通車，請問上述交通建設發揮了國家的哪一項功能？

- (A) 保障人權 (B) 維護社會秩序 (C) 教育文化 (D) 經濟發展



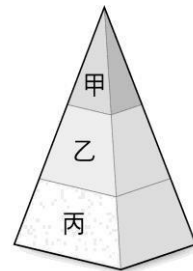
17. 下表有關國家與政府的比較，何者敘述錯誤？

	(A) 構成方面	(B) 權力執行	(C) 持續性不同	(D) 舉例
國家	由人民、領土、政府、主權組成	具備公權力，執行國家功能	具持續性、穩定性	美國
政府	僅為國家的構成要素之一	主權對外具有獨立性，對內具有最高性	隨政權或制度轉移而改變	行政院

18. 下列哪句話不符合法治的精神？

- (A) 法律之前人人平等 (B) 政府依法行政，人民遵守法律 (C) 只准州官放火，不許百姓點燈 (D) 天子犯法與庶民同罪

19. 右圖是我國法律位階示意圖。下列相關敘述，何者正確？  
 (A)甲由制憲國民大會制訂 (B)乙由行政機關訂定、修改  
 (C)丙是由立法院負責制定、修正 (D)位階高低依序為丙乙甲



20. 承上題，請問與甲、乙、丙三個位階相符的法律依序應為何者？  
 (A)憲法增修條文、刑法、公民投票法施行細則 (B)憲法、家庭教育法、地方稅法通則  
 (C)校園霸凌防制準則、民法、憲法 (D)憲法、原住民教育法、性別平等教育法
21. 中秋連假親友烤肉聚餐，伴隨酒駕風險提升，各地方警察加強路口臨檢，依法取締酒駕民眾。上述做法可反映出哪項民主治理的特色？ (A)民意政治 (B)責任政治 (C)政黨政治 (D)法治政治
22. 2021 年台鐵太魯閣號事故造成嚴重死傷，當時交通部長面臨龐大究責壓力，自行宣布請辭。請問：政府官員承擔人民責難而辭職下台的作法反映出哪一項民主治理的特色？ (A)民意政治 (B)法治政治 (C)政黨政治 (D)責任政治
23. 教育部曾針對是否支持「高中生延後上學時間」舉行線上公聽會，以期在資訊充分、人民積極參與討論的情況下，形成有共識的方案，使政策得以順利推行。上述做法可反映出哪項民主治理的特色？  
 (A)民意政治 (B)責任政治 (C)政黨政治 (D)法治政治。

24. 右圖為 2022 年所舉行的「18 歲公民權」修憲複決公投結果是否通過及原因？



## 修憲複決投票結果

### 修正條文

(增訂第1條之1) 中華民國國民年滿18歲者，有依法選舉、罷免、創制、複決及參加公民投票之權。除本憲法及法律別有規定者外，年滿18歲者，有依法被選舉之權。(憲法第130條之規定，停止適用)

### 投票結果



- (A)未通過，有效同意票數未超過總選舉人數的一半  
 (B)未通過，有效同意票數未超過總選舉人數  
 (C)通過，有效同意票數大於不同意票數  
 (D)通過，參與投票人數超過總選舉人數的一半
25. 承上題，公投結果顯示憲法修改門檻頗高，請問：這是憲法的何項特性？(A)最高性 (B)原則性 (C)固定性 (D)優越性
26. 小兔開車時未禮讓過馬路的行人，警察將他攔下並開了一張罰單，要求小兔在時間內繳交罰款，下列相關敘述 何者正確？  
 (A)警察必須依法行政，才能保障小兔的「權利」 (B)警察開罰單的行為是一種「權利」的行使  
 (C)小兔不服裁罰內容，有「權力」進行申訴 (D)警察開罰單並不是一種「公權力」的行使
27. 我國第 16 任總統大選已結束，關於選舉活動的敘述，下列何者最能展現政黨政治的特色？  
 (A)候選人需要依法定程序登記參選 (B)政黨提名候選人參選，爭取執政權力  
 (C)競選期間違反規定須負相關責任 (D)由獲得多數選票的候選人當選總統
28. 人民是國家的主體，現代國家應努力謀求人民福祉，下列關於國家成立目的之配對，何者正確？  
 (A)為了照顧獨居老人，發放老人津貼--維持社會秩序 (B)政府積極與其他國家建立友好關係--保障基本人權  
 (C)員警接到民眾報案，去處理街頭鬥毆--保衛國家安全 (D)針對颱風的受災戶，提供物資的補給--發展社會福利
29. 下列關於民主政治的配對，何者敘述**錯誤**？  
 (A)民意政治→政府在制定政策之前，須提供人民表達意見的機會  
 (B)政黨政治→一個民主的國家一般會有兩個以上的政黨公平競爭  
 (C)法治政治→政府除了將人民的需求制定成法令，更要依法行政  
 (D)責任政治→政府的施政應該以民意為依歸，如此才是負責任的政府
30. 下列四項關於人治與法治的體制敘述，何者正確？  
 (A)在法治社會，法律只對人民產生影響力 (B)法治國家以法律限制政府的權力，讓政府在執法上有明確的依據  
 (C)人治國家的人民權利受到保障 (D)人治國家的決策者也必須受到法律的制約
31. 公民老師：「能將特定意志強加於他人，並且對其產生強制與支配的一種力量。」




公民老師所說之「力量」，是指下列何者？ (A)權利 (B)權力(C)義務 (D)責任

32. 博愛座出現不少爭議，衛福部社家署參考國外意見，9/28日預告修正《身心障礙者權益保障法》第53條草案內容，將供身心障礙者及老弱婦孺優先乘坐的博愛座，改為供身心障礙者或有其他實際需要者優先乘坐的「優先席」。為了能及早施行，公告期也縮短為7天。關於《身心障礙者權益保障法》之位階敘述，下列何者符合其內涵？  
(A)屬於《憲法》位階，任何法律與之抵觸則無效 (B)屬於法律位階，由行政機關制定  
(C)屬於法律位階，依據《憲法》精神制定 (D)屬於命令位階，補充法律不足
33. 位於中美洲的我國前友邦宏都拉斯，現任總統卡斯楚去年甫上台便積極向中國靠攏，並最終與我國斷交轉投中國懷抱，連帶影響該國白蝦外銷，近日其親友與毒販談判籌集競選捐款的影片曝光，該國輿論呼籲涉此醜聞的卡斯楚應辭職下台負責。」文中輿論的訴求，最符合民主政治的何項內涵？ (A)法治政治 (B)政黨政治 (C)責任政治 (D)民意政治

## 二、題組題

題組一：我國之領土圖示如右，請根據右圖回答：

34. 請問，甲、乙、丙三個區域名稱分別為何？  
(A)公海、領海、經濟海域 (B)領海、公海、經濟海域  
(C)經濟海域、公海、領海 (D)領海、經濟海域、公海
35. 請問，其他國家的船隻不可在哪些區域捕撈漁獲，否則我國可將其驅逐？  
(A)甲、乙 (B)甲、丙 (C)乙、丙 (D)甲、乙、丙



題組二：蘇格蘭獨立運動由來已久，於2014年經當時的英國首相卡梅倫同意舉行過第一次的獨立公投。當時公投的題目是：「蘇格蘭是否應該成為一個獨立國家？」而這場公投結果顯示55%的蘇格蘭選民反對獨立，45%的蘇格蘭選民贊成獨立。

然而2016年時，英國舉辦了脫歐公投，雖最終結果是確定英國脫離歐盟，但事實上這之中有62%的蘇格蘭人民不希望脫歐，故第二次獨立公投的聲浪又再次浮現。而時任蘇格蘭首席部長斯特金在2019年提議再次公投並致函給英國首相請求允准，而斯特金當時還表示如果英國首相不同意，她會提請最高法院就蘇格蘭獨立公投是否合法做出法律裁決，但後來因新冠疫情關係而延緩。第二次的蘇格蘭獨立公投原本預計於2023年10月舉行，但2022年11月英國最高法院就已下達裁定，即便蘇格蘭只是諮詢民意，也不可以自己執行此項公投。

36. 蘇格蘭首席部長提議再次進行獨立公投，是希望蘇格蘭取得國家的哪一項要素？(A)人民 (B)領土 (C)政府 (D)主權
37. 請問下列何者與畫線處英國最高法院能行使的「權」相同？  
(A)阿和生活困頓，尋求社會局協助 (B)光光收到國中入學通知，期待成為國中新鮮人  
(C)警察依照法律規定，緝拿毒販歸案 (D)小萍為了成為公務人員，參與國家考試

題組三：消防警察特考矮1.1公分遭消防退訓 她釋憲成功---原為義消的女子陳韻宣2018年通過消防警察特考，翌年至內政部消防署訓練中心受訓，因僅158.9公分高，不符公務人員特種考試一般警察人員考試規則160公分標準，資格遭廢。陳女認為規則抵觸憲法保障人民服公職權，聲請釋憲。因全國年輕女子平均身高159公分，憲法法庭認規則明顯有差別待遇，判決違憲，一年內失效。

38. 根據上述內容，主要說明憲法的何種特性？ (A)原則性 (B)最高性 (C)永久性 (D)固定性
39. 因應釋憲結果，行政機關必須遵守依法行政原則，可表現出民主政治中的何項特色？  
(A)民意政治 (B)法治政治 (C)責任政治 (D)政黨政治
40. 憲法法庭認法規明顯有差別待遇認定違憲，命此規則一年內失效，請問憲法法庭展現出的「權」與下列那一項描述相同？  
(A)颱風來襲，縣市政府發布停班停課，外送業者亦不得違法外送 (B)小金在路上被車撞受傷，上法院向對方求償  
(C)民眾在網路論壇表達自己對公共事務的看法 (D)小薔畢業後決定在科技公司擔任工程師一職

1-5 DCBBC  
6-10 CCCAB  
11-15 ADBAD  
16-20 DBCAA  
21-25 DDAAC  
26-30 ABDDDB  
31-35 BCCDA  
36-40 DCBBA