

一、按照順序填填看：

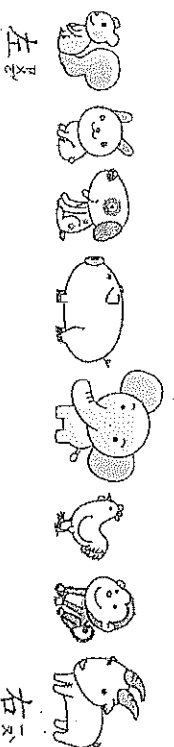
每答對1分，共16分。

1. → → 3 → 4 → 5 → → 6
2. 1 → → 8 → 7 → → → 5
3. → 13 → 14 → → 16 → → 17
4. 23 → 22 → 21 → 20 → 19 → 18

二、將正確的答案寫出來或

圈起來。每答對2分，共44分。

1. 小動物們排隊要喝水，請看圖回答問題。



- 左邊 (1) 一共有 (8) 隻動物在排隊。

- (2) 水總共有 9 瓶，一隻小動物

物發一瓶，請問水夠發給全部的動物嗎？

(夠) ， 不 夠 。

- (3) 從左邊算起：

① 排在第 (2) 位。

② 第 6 位是 (雞) 。

- (4) 從右邊算起：

① 排在第 (6) 位。

② 第 5 位是 (狗) 。

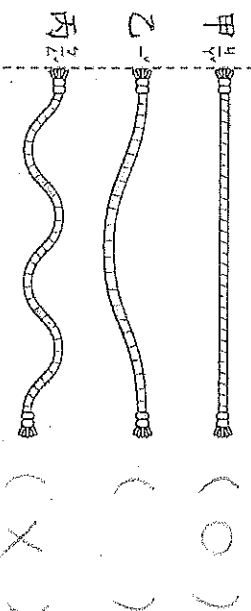
2. 10 和 7 合起來是 (17) 。
3. 20 和 5 合起來是 (> 5) 。
4. 10 和 (6) 合起來是 16 。
5. 20 和 (4) 合起來是 24 。
6. (10) 和 1 合起來是 11 。
7. (20) 和 8 合起來是 28 。
8. 從右邊算起，把第 7 顆圈起來。

右邊


9. 從左邊算起，把 4 顆圈起來。

左邊

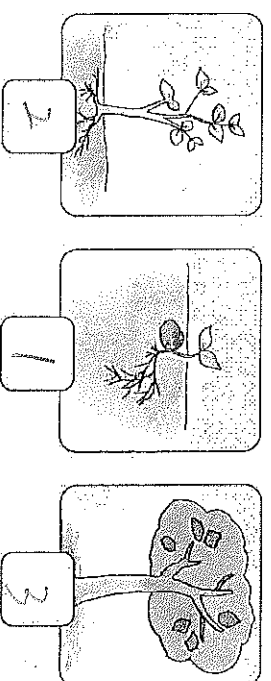
10. 最長的畫「○」，最短的畫「X」。



11. 比較多的畫「○」，比較少的畫「X」。



12. 請按照事情發生的順序在 填入 1、2、3。

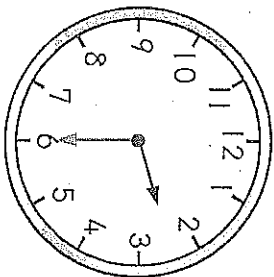


★ 背面還有問題目哦！

三、 圖畫出正確的時刻：

每題2分，共6分。

1. 圖畫出正確的時刻。

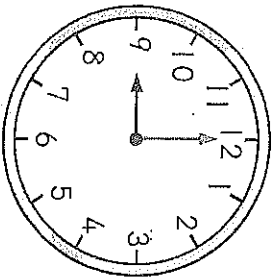


① 2點半

② 3點半

③ 4點半

2.

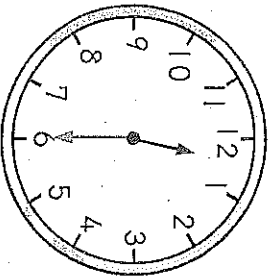


① 3點

② 9點

③ 12點

3.




① 1點半

② 6點半

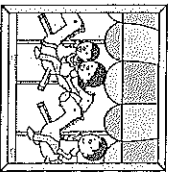
③ 12點半

四、 連連看： 每題2分，共22分。

1. 把形狀畫一樣的用線連起來。




①



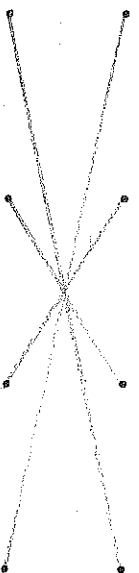
②



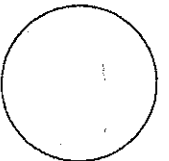
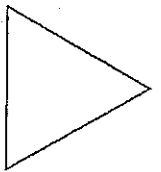

③



④

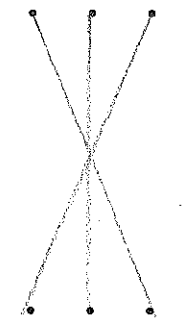


圖形	長方形	正方形	三角形
----	-----	-----	-----



2. 把答案畫一樣的連起來。

① 9+0
② 5+3
③ 2+6



7 6+2
4 4+4
1 0+9

五、 畫○做做看： 每題3分，共6分。

1. 有14位小朋友，一人分5個布偶，布偶還多5個，原本有幾個布偶呢？



有 個

2. 文文有11顆草莓口味的糖果，還有9顆檸檬口味的糖果，請問文文總共有幾顆糖果呢？



有 顆

六、 寫出算式做做看：

每題3分，共6分。

1. 盒子裡有10張許願卡，3張已經掛到聖誕樹上，請問還有幾張許願卡在盒子裡？
算式： $10 - 3 = 7$

有 張

2. 冰箱裡有5顆蘋果，媽媽又買了4顆，請問現在共有幾顆蘋果？

算式： $5 + 4 = 9$

有 顆

★ 要記得仔細檢查！