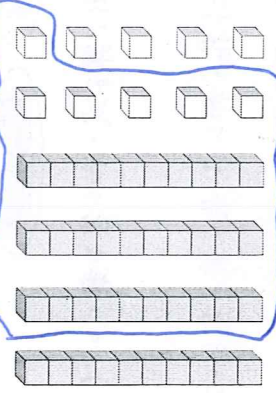


一一、圈出看字：(各 1 分，共 14 分)

1. 圈出 36 的數量。



2. 把答案填入 15 的算式中圈起來。

5+9 9+6 7+9 8+7 8+8

3. 班上共有 24 個小朋友。老師買了 26 枝鉛筆，要分給全班每一個小朋友 1 枝，鉛筆夠不夠？

(夠) ， 不 夠)

4. 比 40 大的數字，圈起來。

(38 ， 50 ， 29 ， 45)

5. 排隊買票，小安排在第 27 個，小文排在第 33 個，誰會先買到票？

(小安 ， 小文)

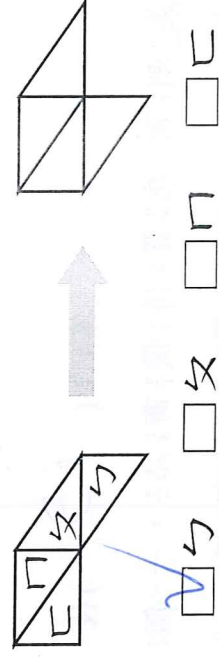
二、勾選題：(各 1 分，共 14 分)

1. 在答案中最大的 () 裡打勾，最小的打 X。

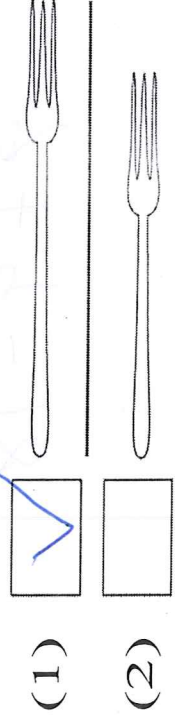
34 42 50 15
 () () () ()

2. 想想看，左邊的圖形移動了哪一塊三角圖卡，才能變成右邊的圖形？

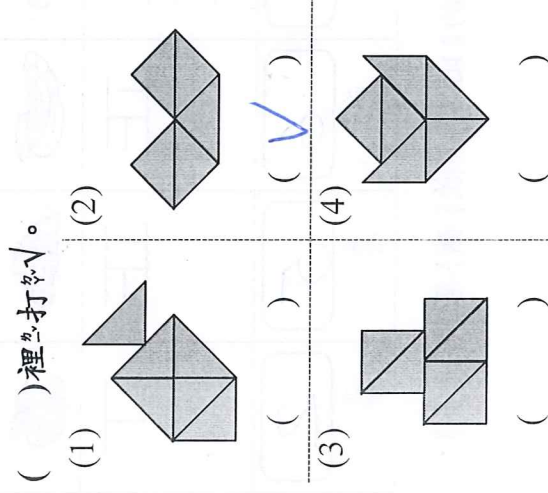
圖形在 □ 中打勾。



3. 比一一比，哪一枝叉子比較長？在 □ 裡打勾。




4. 哪個圖形是用 5 片三角形拼成的？在 () 裡打勾。



三、連線看字：(各 1 分，共 4 分)

這些圖形板剛好可以放在哪裡呢？

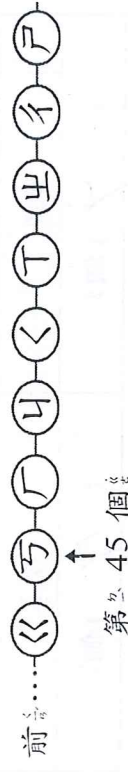


四、計算題：(各 2 分，共 6 分)

1. $6 + 8 = (14)$
 2. $18 - 9 = (9)$
 3. $16 - 3 = (13)$

五、填字看字：(各 1 分，共 37 分)

1. $15 \rightarrow 20 \rightarrow (25) \rightarrow (30) \rightarrow 35$
 2. $14 - 4 = 10$
 $14 - 5 = (9)$
 $14 - 6 = (8)$
 3. $13 - 9 = 4$ 算式中差的減數是 (9) 。



巧排在第 45 個，排在前面第 3 個的是 (\llcorner) ，是第 (48) 個。

5. 一年有五班的票選出最喜歡的水果，一個個人一票，請先完成表格，在表中填入數字，再回答問題。

下	正	正	正	下
3	10	8	5	2
票	票	票	票	票


(1) 喜歡葡萄的比喜歡蘋果的多 (3) 票。

(2) 喜歡香蕉和喜歡草莓的一共有 (9) 票。

(3) 一共有 (5) 種水果參加選票。

(4) 哪一種水果最多？
 ()
 ()
 ()
 ()

(5) 哪一種水果最少？
 ()
 ()
 ()
 ()
 ()



(1) 用形狀分類：

三角形	長方形	圓形
(6) 個	(5) 個	(5) 個

(2) 用顏色分類：

黑色	灰色	白色
(4) 個	(6) 個	(6) 個

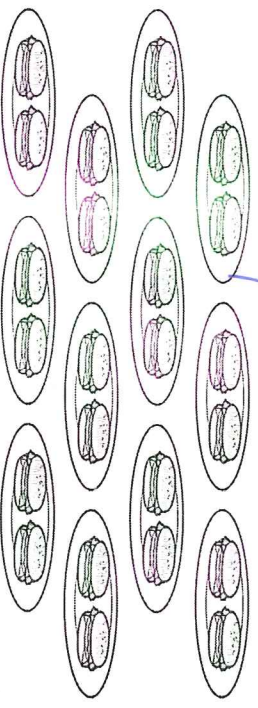
(3) 用大小分類：

大	小
(9) 個	(7) 個

7.

+ =

8. 一共有 (24) 個漢堡。



六、應用題：寫出算式和答案。(各5分，共25分)

1. 花瓶裡有 8 朵紅花和 3 朵黃花，花瓶裡一共有幾朵花？

$$8 + 3 = 11$$

答：(11) 朵

2. 操場上有 17 個小朋友，有 5 個是女生，男生有幾個？

$$17 - 5 = 12$$

答：女生有 (12) 個人

3. 盒子裡有 12 顆櫻桃，弟弟吃掉了 6 顆，還剩下多少顆？

$$12 - 6 = 6$$

答：(6) 顆

4. 曉鈴有 11 枝鉛筆，哥哥比他多 2 枝，哥哥有幾枝鉛筆？

$$11 + 2 = 13$$

答：(13) 枝

5. 小美到商店買特價商品，一個布丁賣 9 元，小美買 2 個布丁，共要付幾元？

$$9 + 9 = 18$$

答：付 (18) 元