

桃園市大湖國小 109 學年度第一學期 一年級數學領域期中評量試卷

範圍：康軒版第一單元至第五單元

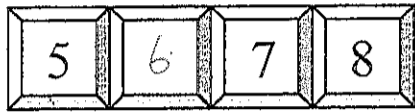
一年級 班 號 姓名：

一、選擇題：每答 2 分，共 6 分

(填入最正確的代號)

(2) 1. 按照順序填數字，空格

要填哪一個數字？



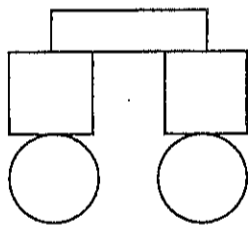
- ① 3 ② 6 ③ 7 ④ 9

(4) 2. 7 個 可以分成 2 個 和幾個 ？

和幾個 ？

- ① 2 個 ② 3 個
③ 4 個 ④ 5 個

(2) 3. 數數看，一共有幾個正方形？

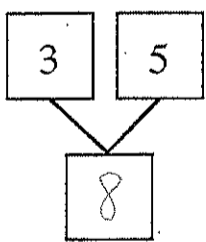


- ① 1 個 ② 2 個
③ 3 個 ④ 4 個

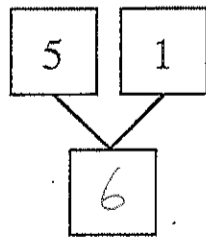
二、填填看(每答 2 分，共 40 分)

1. 在 裡填入正確的數字。

(1)

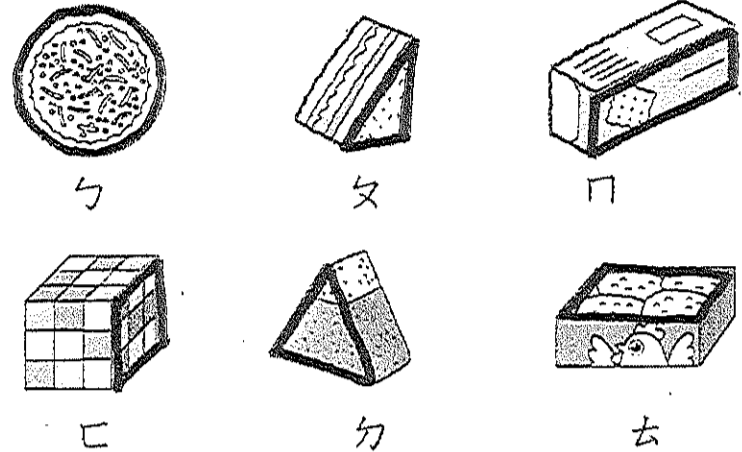


(2)



2. 「有一個數真可愛，生來就像一顆蛋，繫了腰帶變 8 來。」猜一猜，這是哪一個數字？ (0)

3. 觀察深色粗線的形狀，用 ~ 去代號填填看。



- (1) 正方形：(ㄨ)
(2) 長方形：(ㄇ、ㄉ)
(3) 圓形：(ㄅ)
(4) 三角形：(ㄆ、ㄆ)

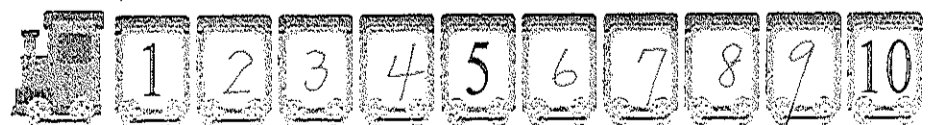
4. 寫寫看。把【】裡的數字寫出來。

- (1) 小禮有【 3 】顆橘子。(3)
(2) 宗泰有【 7 】片餅乾。(7)

5. 老師要全班依照座號順序排成一排，最前面是 1 號。

小玲是 6 號，她前面一個是 (5) 號，後面一個是 (7) 號。

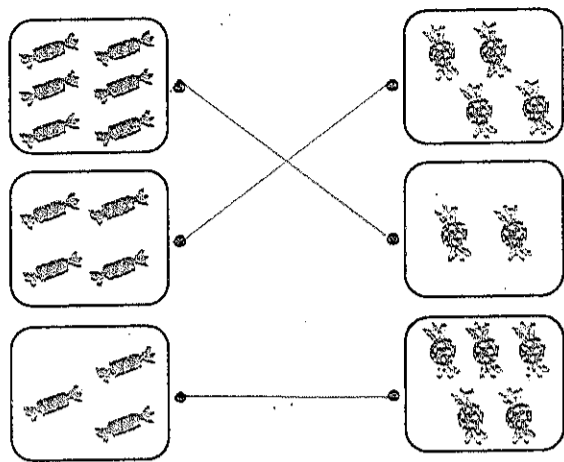
6. 按照順序填填看。



(背面還有題目喔！加油)


三、連連看：(每答2分，共6分)

1. 合起來有8顆糖，連連看。



四、看圖回答問題：(每答3分，共12分)

1. 數一數，有多多少少？




☆ 有(7)個，△ 有(6)個。

2. 動物們排隊買票準備進入遊樂園。




(1) 排在前面1個的動物是




(2) 後面排了(4)隻動物。

五、勾選題：(每答3分共12分)

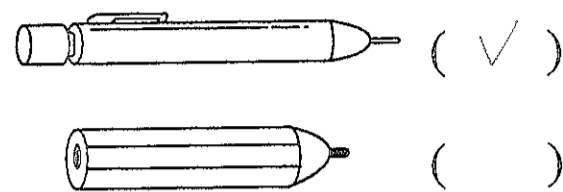
1. 比較高的樹打√。



2. 最長的打√，最短的打×。



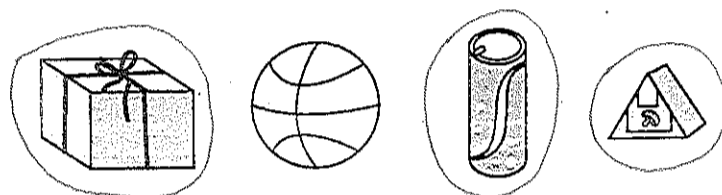
3. 比較長的筆打√。



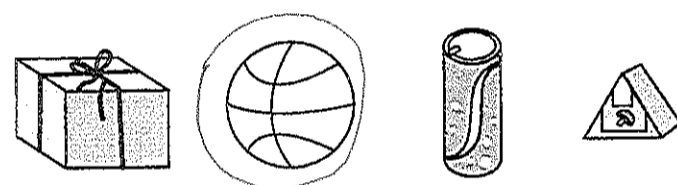
六、看圖填填看：(每答2分共24分)

1. 觀察下列物品，再圈圈看。

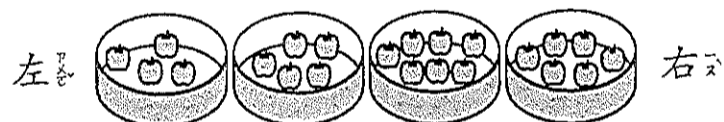
(1) 哪些物品容易一疊？



(2) 哪些物品不容易滾動？



2. 觀察下列物品，再填填看。



從右邊數起第(2)籃的蘋果最多。

從左邊數起第一籃有(4)顆蘋果。

3. 用鉛筆塗塗看：

(從左邊數起)

第3個	○ ○ ● ○ ○ ○ ○ ○ ○ ○
5個	● ● ● ● ● ○ ○ ○ ○ ○
9個	● ● ● ● ● ● ● ● ● ●
第7個	○ ○ ○ ○ ○ ○ ● ○ ○
2個	● ● ○ ○ ○ ○ ○ ○ ○ ○