

單選題：1~10 題，每題 2.5 分；11~35 題，每題 3 分

- (B) 1. 中國位置面海背陸。請問是面向哪個「海」？與背向哪個「陸」？
 (A)印度洋、澳洲大陸 (B)太平洋、歐亞大陸 (C)太平洋、非洲大陸 (D)大西洋、歐亞大陸

- (C) 2. 中國的三大緣海由南向北排列依序是？
 (A)東海→黃海→南海 (B)東海→南海→黃海 (C)南海→東海→黃海 (D)黃海→南海→東海

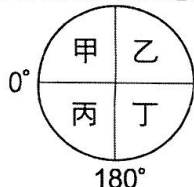
- (A) 3. 中國東西兩端經度差距頗大，共橫跨幾個時區？
 (A)5 個 (B)4 個 (C)3 個 (D)6 個

- (D) 4. 中國最不可能出現哪種氣候帶？
 (A)熱帶 (B)副熱帶 (C)溫帶 (D)寒帶

- (D) 5. 中國政府為求便於管理，統一以哪裡的時間為標準？
 (A)烏魯木齊 (B)拉薩 (C)重慶 (D)北京

- (B) 6. 北京(約東經 120°)10 月 17 日早上 6 點，倫敦(0°)的時間是幾點？
 (A)10 月 17 日早上 2 點 (B)10 月 16 日晚上 10 點
 (C)10 月 16 日早上 2 點 (D)10 月 17 日晚上 10 點

- (A) 7. 中國在地表上的位置應位於下圖中的哪個區域？



- (A)甲 (B)乙 (C)丙 (D)丁

- (D) 8. 下圖為中國某種行政區劃示意圖。圖中的代號丙是指哪一行政區？



- (A)重慶市 (B)甘肅省 (C)廣西壯族自治區 (D)寧夏回族自治區

- (A) 9. 關於目前中國行政區劃分的敘述，下列何者正確？
 (A)共 22 個省 (B)4 個自治區 (C)2 個直轄市
 (D)5 個特別行政區

- (B) 10. 西藏與下列哪個行政區不屬於同一行政層級？
 (A)上海市 (B)武漢市 (C)河南省 (D)香港特別行政區

- (C) 11. 下列何者是中國目前的特別行政區？
 (A)深圳、澳門 (B)香港、廈門 (C)澳門、香港
 (D)廈門、珠海

- (D) 12. 下列對於中國「第一級階梯」地形區的敘述，何者正確？
 (A)區域內有中國最大的平原 (B)主要位於中國北部區域
 (C)平均海拔在 1,000~2,000 公尺之間 (D)地形主要以高原、山地為主

- (D) 13. 「中國直轄市，大多位居沿海經濟發達地帶，只有□□市，深居西南內陸。」文中□□，應填入何地？
 (A)北京 (B)天津 (C)上海 (D)重慶

- (D) 14. 下列有關中國行政區域劃分的敘述，何者正確？
 (A)甘肅省的位置最北 (B)目前有三個特別行政區
 (C)香港是中國的直轄市 (D)西藏被劃分為自治區

- (A) 15. 中國北部與南部區域的分界，也是中國重要的地理分界線為下列何者？
 (A)秦嶺、淮河 (B)長城、黃河 (C)太行山 (D)巫山、南嶺

- (D) 16. 中國西半部的山脈多呈現「東-西」走向。這種現象與下列哪項因素有關？
 (A)冰河侵蝕 (B)火山噴發造成 (C)河流切割
 (D)板塊運動

- (A) 17. 中國疆域面積廣大，地形複雜，整個地勢大致呈現怎樣的趨勢？
 (A)西高東低 (B)東高西低 (C)北高南低 (D)南高北低

- (C) 18. 「北起大興安嶺，經太行山和巫山，沿雲貴高原東緣。」這條線主要為哪兩級地形階梯的分界？
 (A)第一級階梯與第二級階梯 (B)第一級階梯與第三級階梯
 (C)第二級階梯與第三級階梯

- (C) 19. 橫斷山脈特殊的渡江方式為何？
 (A)船隻 (B)渡輪 (C)溜索 (D)皮筏

- (B) 20. 中國地形複雜多樣，其中以哪兩種地形所占面積最大？
 (A)平原與丘陵 (B)高原與山地 (C)平原與山地
 (D)盆地與山地

- (B) 21. 「此高原因流水侵蝕作用強烈而呈現溝谷密布的景觀，區域內地形崎嶇不平。」此高原位於中國第幾級階梯內？
 (A)第一級階梯 (B)第二級階梯 (C)第三級階梯
 (D)第四級階梯

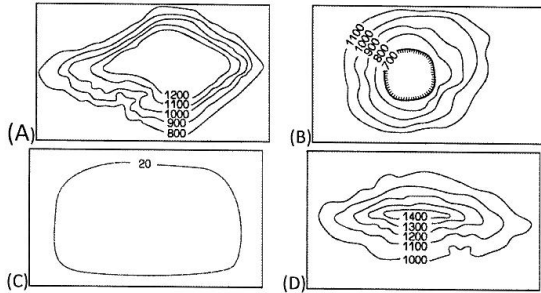
- (A) 22. 中國歷代修築的運河大多為南北向，這與中國哪項地理特色有關？
 (A)河川多為東西向 (B)國土南北距離長 (C)國土東西距離寬
 (D)地勢北高南低

(B) 23. 中國的地勢呈現三級階梯狀，第三級階梯主要是哪兩種地形的分布區？
 (A)平原、高原 (B)平原、丘陵 (C)山地、高原 (D)高原、盆地

(D) 24. 位於中國西南部的橫斷山脈，其山脈走向應為下列何者？
 (A)東北—西南走向 (B)東西走向 (C)西北—東南走向 (D)南北走向

(C) 25. 下列哪個地形區的形成與雨水的溶蝕作用有關？
 (A)兩廣丘陵 (B)柴達木盆地 (C)雲貴高原 (D)珠江三角洲

(B) 26. 盆地地形當屬下列哪種等高線地形圖所表示的地形？



(A) 27. 中國的平原地形，主要是受哪種作用力所形成？
 (A)河川堆積 (B)河川侵蝕 (C)風力堆積 (D)風力侵蝕

(A) 28. 中國獨特的石灰岩地形主要位於哪座高原上？
 (A)雲貴高原 (B)黃土高原 (C)內蒙古高原 (D)青藏高原

(C) 29. 有「世界屋脊」之稱的地區，是指中國的哪座高原？
 (A)黃土高原 (B)雲貴高原 (C)青藏高原 (D)內蒙古高原

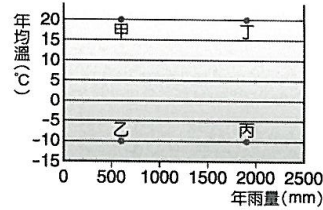
(A) 30. 中國面積最大的平原位於下圖中何處？



(A)甲 (B)乙 (C)丙 (D)丁

(C) 31. 中國京杭大運河北起北京，南至杭州，連通五大水系有：甲.長江、乙.黃河、丙.海河、丁.淮河、戊.錢塘江，請由北而南依序排列，正確者為何？
 (A)甲乙丙丁戊 (B)乙甲丙戊丁 (C)丙乙丁甲戊 (D)戊丁丙乙甲

(D) 32. 下圖中何種氣候環境條件最容易發育出石灰岩地形？



(A)甲 (B)乙 (C)丙 (D)丁

(A) 33. 下圖中何處形勢封閉，古代進出不易，多沿懸崖峭壁修建棧道，因而有李白「蜀道難，難於上青天」之嘆？



(A)甲 (B)乙 (C)丙 (D)丁

(B) 34. 中國首都北京市位於下圖中何區？



(A)甲 (B)乙 (C)丙 (D)丁

(B) 35. 下圖為中國四大盆地分布圖，請問哪一個盆地位於第一級階梯？



(A)甲 (B)乙 (C)丙 (D)丁