


彰化縣立二水國民中學 107 學年度 第一學期 第二次段考 歷史科 試卷
一年 班 座號： 姓名：

一、選擇題(每題 2 分，共計 74 分，答案以劃卡方式呈現)

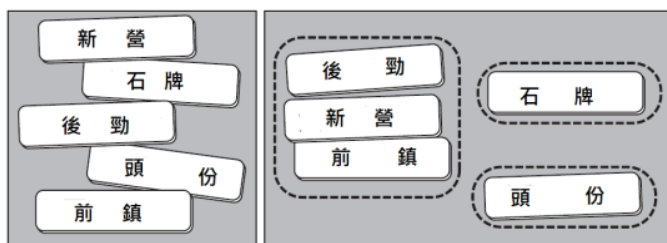
- D** 1. 鄭氏時期，有關文教制度的發展，除了官方設置學校、推動文教工作外，也有來自民間力量的推動，使得漢人的典章制度與儒家思想得以進入台灣。請問：上述民間文教的推動，最著名的是下列何人貢獻？(A)沈有容 (B)陳永華 (C)鄭經 (D)沈光文。
- C** 2. 鄭氏政權在台灣前後共經歷三代統治：(甲)鄭克塽、(乙)鄭經、(丙)鄭成功。若依據時間先後順序排列，下列何者正確？(A)甲→乙→丙 (B)丙→甲→乙 (C)丙→乙→甲 (D)乙→甲→丙。
- C** 3. 老師上課提到：「他趁著清朝發生三藩之亂時，出兵中國企圖完成反清復明的大業，但最後卻以兵敗撤退回台灣收場。」請問：老師此時所講述的應是下列那一位歷史人物？(A)鄭芝龍 (B)鄭成功 (C)鄭經 (D)鄭克塽。
- C** 4. 清領時期來台的農民，若是因為資金不足，可以用何種方式來合法進行開墾？(A)與軍隊合作進行軍屯 (B)向原住民搶奪 (C)眾人合資 (D)向政府借貸。
- D** 5. 清領前期，台灣與中國之間的貿易，最初的唯一合法港口為下列何者？(A)淡水 (B)鹿港 (C)艋舺 (D)鹿耳門。
- D** 6. 康熙二十三年，清朝正式將台灣納入統治版圖，並且設官治理。請問：當時台灣隸屬下列哪一省管轄？(A)台灣省 (B)廣東省 (C)澎湖省 (D)福建省。
- C** 7. 鄭克塽投降清朝後，清朝政府對於台灣的棄留出現了爭議。其中有位大臣說：「台灣雖屬外島，實關乎四省之要害。棄之必釀成大禍，留之誠永固邊疆。」請問：此大臣最有可能為下列何人？(A)郭懷一 (B)陳永華 (C)施琅 (D)施世榜。
- C** 8. 明鄭時期，台灣地區因為糧食不足，需要大量開墾土地，增加耕種面積以增加糧食生產量。請問：當時土地的開墾主要方式為下列何者？(A)民墾 (B)官墾 (C)軍屯 (D)私墾。
- C** 9. 明朝滅亡後，明朝宗室與遺臣在中國南方先後擁立了福王、魯王、唐王、桂王等四位統治者與清朝對抗。歷史上將上述四王所建立的政權稱為什麼？(A)北明 (B)東明 (C)南明 (D)西明。
- A** 10. 明鄭利用何種方式取得反清復明所需要的資金與軍事物資？(A)國際貿易 (B)掠奪中國東南沿海 (C)大量開墾土地 (D)佔領海外殖民地。
- C** 11. 明鄭時期為充實糧食來源，大量開墾土地。請問：當時明鄭所開墾的土地，主要集中於下列何地？(A)金門、廈門 (B)台灣北部 (C)台灣南部 (D)台灣東部。
- B** 12. 雍正年間，台灣行政區重新調整。原諸羅縣被切成三塊，分別設立諸羅縣、彰化縣、淡水廳。原台灣縣被切成兩塊，分別設立台灣縣與澎湖廳。請問：此時增設縣廳的原因為下列何者？(A)北方海盜不斷侵擾 (B)朱一貴事件結束後的處置作為 (C)爆發林爽文事件 (D)吳沙開墾宜蘭，當地移民增加。
- B** 13. 鄭成功攻取台灣後，認為當時興邦固國的主要難題在於需要大量的糧食，但投入生產的人卻不夠多，因此採取下列何種方式解決此一困境？(A)設立行郊管理糧食生產 (B)分派軍隊屯墾各地 (C)管制外來人口移入 (D)透過貿易大量輸入糧食。
- C** 14. 清朝統治時期，為擴大灌溉面積，增加農業產量，因而有下列何種做法？(A)由商人自行組成的商業組織——「郊」(B)實施軍屯制度 (C)興築大規模的水圳，例如：八堡圳 (D)實施劃界封山。
- D** 15. 清朝統治台灣初期，對於人民渡海來台曾頒布禁令：禁止無照渡台，且有照者亦不得攜帶家眷。來台者多為男性，使得台灣社會漢人男女生人口比例嚴重失衡。請問：當時清朝的何種統治台灣的方針，使得上述現象得以出現？(A)積極建設台灣 (B)台灣開港，邁入國際貿易體系 (C)十年生聚，十年教訓，使台灣成為反清復明的基地 (D)為防台而治台。
- D** 16. 某史料記載：「居民 79 家，共計 257 人，其中女眷僅一人，多為無妻室丁壯力農，血氣方剛常無故妄生嫌隙，相互攻訐。」請問：下列哪一政策導致上述現象的出現？(A)荷蘭嚴格管制漢人 (B)明鄭治台時期號召漢人入台開墾 (C)清朝頒布畫界封山的影響 (D)清朝頒布渡台禁令的影響。
- A** 17. 在今日赤崁樓的廣場上有一座「鄭成功受降圖」的塑像。若依據歷史知識判斷，塑像中向鄭成功投降的國家，於十七世紀時，在亞洲地區的主要根據地為下列何者？(A)巴達維亞 (B)馬尼拉 (C)澳門 (D)日本。
- B** 18. 下列史料為某政權於永曆三十七年所記載的重大事件。「永曆三十七年，二月，米價大騰，民饑死甚多。夏四月，鱷魚登澎湖島，死於民家。五月，承天府諸生象。十一日，雨；夜有大星西墜下，各有小星隨之。下淡水山頂噴泥。老番私語云：「欲易代，固如是也。」東寧旱荒已三年，至是月二十八日突降大雨。」依據上述史料分析，使用「永曆」這個年號的政權最有可能為下列何者？(A)荷蘭 (B)明鄭 (C)清朝 (D)日本。
- A** 19. 下列資料為陳永華給鄭經的上書：「今台灣沃野千里，遠濱海外，且其俗醇；使國君能舉賢以助理，則十年生長，十年教養，十年成聚，則三十年可與中原相甲乙。今既足食，則當教之。使逸居無教，何異禽獸？須擇地建立聖廟、設學校、以收人才。庶國有廣士，邦本自固。」請問：下列何者為該上書所帶來的後續影響？(A)建立台灣第一座孔廟 (B)大規模實施軍屯 (C)展開與英國的

貿易 (D)利用三藩之亂反攻大陸。

- D 20.右圖是許小喵看到的一則與臺灣歷史有關的插圖如果要作為說明「羅漢腳多」、「有唐山公、無唐山媽」、「一個媒，卡贏三個天公祖」三句俗諺出現的原因，哪一幅插圖最沒有關係？(A)甲 (B)乙 (C)丙 (D)丁。



- A 21.許小喵將(圖二)中的五張字卡分為(圖三)中的三類，其中後勁、新營、左鎮三張字卡被放在一起是基於下列哪一共同特徵？



圖(二)

圖(三)

(A)明鄭時期與軍屯有關的地名 (B)因劃界封山設置番界而出現的地名 (C)因增設縣廳而出現的地名 (D)因合資開墾土地而出現的地名。

- A 22.清朝統治台灣期間，臺灣曾出現一種稱為「郊」的組織，依其性質推斷，這種組織主要分布在右圖的何處？(A)甲 (B)乙 (C)丙 (D)丁。



- 23.下表為臺灣歷史上重要的政權轉移的過程，隨著政權的轉移，許多制度與生活方式也紛紛改變。請依據下表回答下列二題：

| | 甲政權 → | 乙政權 |
|----------|-----------|-----------|
| 髮型 | 束髮 | 剃髮留辮 |
| 行政中心 | 承天府 | 臺灣府 |
| 主要土地開墾方式 | 軍屯 | 合資開墾 |
| 與中國的貿易方式 | | → |
| 出口商品 | A 商品、B 商品 | B 商品、C 商品 |

- C 24.若從「髮型」、「行政中心」與「主要土地開墾方式」來觀察，並且進行推論，在「與中國的貿易方式」的項目中的轉變，下列何者正確？(A)對渡→走私 (B)國際貿易→對渡 (C)走私→對渡 (D)走私→走私。

- B 25.依據自己的歷史知識推斷，在「出口商品」的項目中，

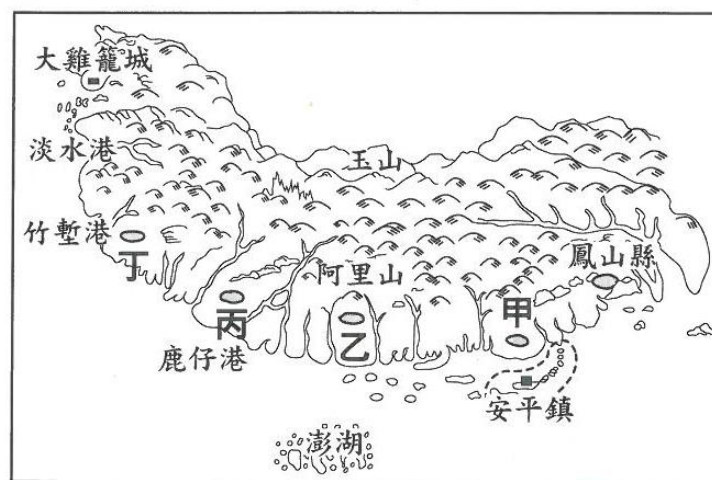
B 商品最有可能為下列何者？(A)稻米 (B)蔗糖 (C)鹿皮 (D)茶葉。

*荷蘭人離開臺灣後，1670年6月首次有歐洲國家的船隻抵達臺灣，他們根據統治者對臺灣的稱呼，將該政權稱為「東寧王國」。臺灣當局與其簽訂通商協議，保護該國人民的安全，允許該國船隻航行，在臺灣自由貿易。該國船隻來台時，必須戴有軍火和棉布等輸入的商品，並且必須留鐵匠在臺灣製造軍火。這個歐洲國家進而在「東寧王國」的政府所在地設置商館，總理該歐洲國家在台之貿易。請根據上述引文，回答下列二題

- B 26.此時1670年臺灣的最高統治者最有可能為下列何人？(A)鄭成功 (B)鄭經 (C)鄭克塽 (D)鄭芝龍。

- A 27.資料中那個在「東寧王國」政府所在地設置商館的歐洲國家最有可能為下列何者？(A)英國 (B)日本 (C)西班牙 (D)荷蘭。

下圖改繪自乾隆12年《重修台灣府志》中的總圖，期採用的地圖繪製方式是清代常見的山水畫法。由於當時各地的開發程度不同，所以對地理環境的掌握不夠完整，再加上繪製方式的限制，本圖範圍並未涵蓋台灣全島，描繪也不如現今實測地圖來的精確，但圖中所傳達的部分地理資訊，仍可供後人參考。請依據該內容回答下列二題：



- A 28.上圖中的「○」代表各級行政中心，當時臺灣最高的行政單位—臺灣府應在何處？(A)甲 (B)乙 (C)丙 (D)丁。

- C 29.當時全台灌溉面積最大的八堡圳，位在哪一個行政區內？(A)甲 (B)乙 (C)丙 (D)丁。

*下列資料為一封塵封已久的歷史書信，請仔細閱讀後，依據書信內容回答下列二題：

「澎湖海戰從上午九時至下午五時結束，鄭方被焚毀大砲船十八隻，擊沉大砲船八隻，焚毀大烏船三十六隻，趕繒船六十七隻。鄭方高級將領四十七人陣亡，中級軍官陣亡者高達三百餘員，總計鄭方陣亡官兵高達一萬兩千多人。鄭方陸路守將楊德等一百多名軍官及士兵四千餘名向我方投降。」

- D 30.依據上述內容判斷，這一封書信最有可能為下列何者？(A)鄭成功寫給荷蘭人的招降信 (B)施琅寫給鄭克塽的招降信 (C)鄭經寫給吳三桂表達願意合作的書信 (D)施

琅寫給康熙皇帝報告戰果的上書。

- A 31. 依據上述內容判斷，下列何者最有可能是這場戰爭所帶來的影響？(A)台灣歷史進入「清領時期」(B)結束荷蘭在台的殖民統治(C)結束西班牙在台灣北部的統治(D)將漢人的典章制度移植入台。

*某地方官員楊廷璋曾上書給皇帝：「臺郡彰化縣沿山番界，年來侵墾漸近內地。今具該鎮、道勘明，於車路早溝之外，各有溪溝、水圳及外山山根，堪以久遠劃界。其與溪圳不相接處，挑挖深溝，築土牛為界。請依據引文回答下列二題：(備註：清朝皇帝順序：順治、康熙、雍正、乾隆、嘉慶)」

- A 32. 陳廷璋的上書內容，最有可能在重申當時政府的哪一政策？(A)劃界封山(B)渡台禁令(C)海禁政策(D)反清復明。

- D 33. 楊廷璋最有可能為下列哪一時期的官員？(A)明鄭—鄭成功時期(B)明鄭—鄭經時期(C)清朝康熙時期(D)清朝乾隆時期。

*某段資料：「歲次壬寅二月，忽有遷民之令，令濱海民西遷徙內地三十里，以絕接濟台灣之患。……民既盡遷，於是毀屋廬以作長城，掘墳塋以為深塹。」請依據上述資料回答下列二題：(備註：清朝皇帝順序：順治、康熙、雍正、乾隆、嘉慶)」

- C 34. 請問：「遷民之令」最有可能為何人所頒布？(A)明太祖

朱元璋(B)荷蘭聯合東印度公司(C)清朝康熙皇帝(D)清朝乾隆皇帝。

- A 35. 當時文中的「台灣之患」以何種方式回應這個「遷民之令」？(A)走私貿易(B)協定通商(C)妥協投降(D)開港通商。

*清領時期，施世榜為解決灌溉問題著手建造水圳，但興築過程屢屢受挫。相傳在林先生傳授特殊施工方法後終於成功。當水入圳道時，會由一位身著蓑衣的引水者手捧牲禮置於頭上於圳道奔跑，舉行通水儀式，此儀式為「跑水引」。為紀念先賢引水灌溉的智慧與辛勞，每年十一月，當地政府舉辦「跑水節」，讓民眾飲水思源。請依據引文回答下列二題

- C 36. 根據尚文，請問：舉辦「跑水節」的水圳為下列哪一水圳？(A)瑠公圳(B)曹公圳(C)八堡圳(D)嘉南大圳。

- A 37. 這座水圳主要是引哪一條溪流灌溉土地？(A)濁水溪(B)高屏溪(C)新店溪(D)大甲溪。

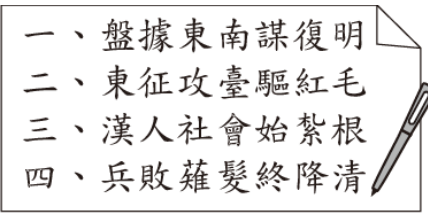
彰化縣立二水國民中學 107 學年度 第一學期 第二次段考 歷史科 答案卷

一年 班 座號： 姓名：

二、填充題(每格 1 分，答案寫在考卷上，共計 10 分)

- 康熙二十三年，臺灣正式納入清朝統治版圖。當時臺灣設有一府三縣，請問當時的三縣別是：(**臺灣縣**)、(**諸羅縣**)、(**鳳山縣**)。
- 鄭成功時期，在承天府以北設立了 (**天興縣**)，承天府以南設立 (**萬年縣**)。
- 鄭成功時期，將台灣稱為 (**東都**)；鄭經時期將改稱為 (**東寧**)。
- (**會館**) 是清領時期商人組織辦公、互相聯絡的場所。
- 明鄭時期以三種方式開墾土地，其中以軍隊開墾的土地稱為 (**營盤田**)。
- 清領時期，位於高雄地區由當時鳳山知縣所修築的灌溉水圳為 (**曹公圳**)。

三、問答題(每題 3 分，關鍵字 2 分，答案 1 分，共計 6 分，答案寫在考卷上)

| | 題 目 | 關 鍵 字 | 答 案 |
|---|--|--|---|
| 1 | 右圖中的句子，是學生報告的段落標題。此份報告的題目，最有可能為下列何者？(A)荷西爭奪台灣的紛擾(B)鄭氏三代的台灣經營(C)朱一貴反清事件的始末(D)曇花一現的台灣民主國。 |  | 復明. 工台驅紅毛 B 漢人社會始紮根 薙髮降清 |
| 2 | 許小喵為了寫碩士論文的第二章，徵引了下列一段史料作為該章的佐證。 臺廈兵備道王毓政：「凡墾荒地者須先得官府批准。因此規定不准人民私人番境，及禁止在近番處所抽藤、釣鹿、採伐。」 | | B 不准人民私人番境 |

| | | |
|---|--|--|
| <p>根據上述史料，下列何者最有可能為許小喙碩士論文第二章的標題？(A)渡臺禁令對台灣人口的影響 (B)劃界封山的具體作為 (C)割地換水的具體作法 (D)明鄭軍屯的實施與影響。</p> | | |
|---|--|--|

四、引導式問答題(每小題1分，共計10分)

(一) 下表為 107 學年度教育會考的第 24 題，請依據該題目的內容回答下列 1~5 小題

以下是某政權統治台灣期間的對外貿易策略：

一、將蔗糖、鹿皮輸往日本，再從日本購買銅、鉛和武器。

二、1670 年代，與英國達成通商協議，允許英國在安平設立商館。

三、持續與東南亞地區的呂宋(今菲律賓)、暹羅(今泰國)等地進行貿易。

上述作法主要是減緩當時中國何項政策所帶來的威脅？(A)設立市舶司 (B)實施海禁政策 (C)頒布渡台禁令 (D)限定廣州一口通商。

1. 依據題目，該政權統治台灣期間，將那兩項產品輸往日本？

答案：**蔗糖 鹿皮**

2. 依據題目，該政權統治台灣期間，自日本購買銅、鉛還有什麼商品？

答案：**武器**

3. 依據題目，該政權於 1670 年代與那一個國家達成通商協議？

答案：**英國**

4. 從第 1 小題道第 3 小題的解答，結合自己的歷史知識，這個統治台灣的政權最有可能為下列何者？

答案：荷蘭；西班牙；明鄭；清朝；日本

5. 經過上述 1~4 題的脈絡練習，接著我們回到 107 學年度國中教育會考第 24 題。該題答案應為何者？

答案：**B**

(二) 下表為 105 學年度國中教育會考的第 27 題，請依據該題目的內容回答下列 1~4 小題

以下是某書對台灣的描述：

「此時期台灣居民不得與外國往來，而且為了管制移民、稽查海盜，還限定台灣與中國大陸的對渡港口。當時輸出的稻米幾乎銷往福建及其附近地區，蔗糖則主要運銷華中、華北與東北。」

此時期由負責上述貨物運銷的商人所自行組成的組織，最有可能為下列何者？(A)郊 (B)洋行 (C)台灣府 (D)承天府。

1. 請問，「此時期」臺灣的居民是否可以和外國往來？

答案：可以；不可以。(請在框框中打勾)

2. 請問：「此時期」臺灣的貿易對象為何地？

答案：**中國**

3. 請問，「此時期」臺灣貿易的主要輸出品為哪幾項？

答案：稻米；鹿皮；蔗糖；茶葉；樟腦

4. 從第 1 小題道第 3 小題的解答，結合自己的歷史知識，「此時期」的台灣最有可能為下列哪個時期？

答案：國際競爭時期；明鄭時期；清領前期；清領後期；日治時期

5. 經過上述 1~4 題的脈絡練習，接著我們回到 105 學年度國中教育會考第 27 題。該題答案應為何者？

答案：**A**