


彰化縣立二水國民中學 108 學年度 第一學期 第二次段考 歷史科 試卷
二年 班 座號： 姓名：

一、選擇題(每題 2 分，答案以劃卡方式呈現)

- C 1. 哪一個階段是中國經濟重心逐漸由黃河流域南移至長江流域的關鍵時代？(A)春秋戰國 (B)漢朝 (C)魏晉南北朝 (D)唐朝。
- B 2. 西漢初年，劉邦結束楚漢相爭局面，統一中國後，面臨民生凋敝、十室九空的困境，採取哪一學派的思想統治中國？(A)儒家 (B)道家 (C)墨家 (D)法家。
- B 3. 哪一項建設，貫通中國南北，把北方的政治中心與南方的經濟中心緊密的連結成一個整體，成為維繫隋唐帝國的經濟命脈？(A)新都長安 (B)運河 (C)馳道 (D)長城。
- C 4. 下列哪一史事，確立了三國鼎立的局面？(A)八王之亂 (B)永嘉之禍 (C)赤壁之戰 (D)黃巾之亂。
- A 5. 唐太宗的時候，文成公主出嫁到何地，也將佛教與農業技術傳入該地，不僅促進唐朝與該地的文化交流，也有助於佛教在該地的發展？(A)吐蕃 (B)新羅 (C)大食 (D)日本。
- D 6. 下列哪一史事使得唐朝賴以維繫的江南經濟遭受嚴重破壞，最後使得唐朝走向滅亡？(A)永嘉之禍 (B)八王之亂 (C)安史之亂 (D)黃巢之亂。
- A 7. 下列何人擅楷書，他的書法風格為「瘦硬清勁」，是書法學習者臨摹的主要對象之一？(A)顏真卿 (B)李白 (C)柳公權 (D)吳道子。
- A 8. 哪一個族群為秦、漢兩個朝代的主要外患，並且於西晉懷帝永嘉五年，攻陷洛陽，擄走懷帝，導致西晉滅亡？(A)匈奴 (B)鮮卑 (C)東突厥 (D)羌
- D 9. 東漢獻帝時，何人「挾天子以令諸侯」，控制黃河流域？(A)劉備 (B)孫權 (C)司馬炎 (D)曹操。
- C 10. 關於魏晉南北朝時期世家大族的描述，下列何者錯誤？(A)在經濟上擁有大片土地 (B)享有減免賦稅和免除勞役特權 (C)因為依附於皇權之下，對皇帝唯命是從 (D)凡事講求門當戶對。
- A 11. 如果要用一句話來形容隋唐社會文的主要特色，下列何者最為合適？(A)胡漢融合，兼容並蓄 (B)放蕩不羈，忽視禮教 (C)夷夏之防，胡漢之別 (D)重視血緣，實施封建。
- C 12. 在唐太宗出兵擊滅哪個民族後，使得唐朝聲威大振，西北各族君長紛紛歸順，並向唐太宗獻上「天可汗」的尊號？(A)犬戎 (B)鮮卑 (C)東突厥 (D)匈奴。
- C 13. 魏晉南北朝的哪一社會現象，有助於當時士人個性的解放，但相對也造成部分士人忽視禮教，形成一種放蕩不羈的人生觀，造就如「竹林七賢」一類的知識份子？(A)南方經濟的開發 (B)道教吸收老莊思想，逐漸流行於統治階層 (C)清談風氣盛行 (D)佛教信仰人數大增。
- D 14. 哪位皇帝在位時，唐朝國力達到最高峰？(A)唐高祖李淵 (B)唐太宗李世民 (C)唐高宗李治 (D)唐玄宗李隆基。
- A 15. 唐玄宗時，阿拉伯帝國與中國發生戰爭，唐朝戰敗，許多曾經擔任工匠的士兵被俘虜，而這場戰役造成下列哪一項中國科技成就因而向西傳播？(A)造紙術 (B)火藥 (C)儒學 (D)印刷術。
- D 16. 唐朝滅亡後，黃河流域先後出現梁、唐、晉、漢、周五個朝代，其餘各地則出現多個割據政權，這段時間統稱「五代十國」。上述這一段時間的歷史發展，可以視為唐朝哪一史事的延續與擴大？(A)牛李黨爭 (B)外戚干政 (C)宦官干政 (D)藩鎮割據。
- D 17. 右圖是某機構的性質及工作內容示意圖。據此判斷，該機構在唐朝時最有可能設立在下列哪個城市？(A)長安 (B)北京 (C)洛陽 (D)廣州。



- C 18. 許小喵在《漫畫中國史》看到如下圖的漫畫。請問：漫畫所描述的制度在中國經濟史上具有重要地位。請問：這種制度的出現的原因為下列何者？



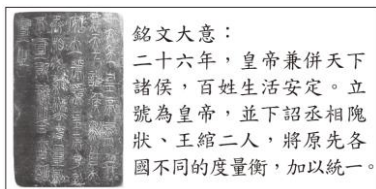
- (A)貨幣的統一 (B)銅錢鑄造技術進步 (C)銅錢過重且攜帶不便，不利貿易 (D)國內貿易往來不便。
- B 19. 許小喵在課堂上報告說：「當時，原本駐守范陽的胡人將領以『清君側』為口號起兵叛變，站或蔓延黃河南北。所幸睢陽守軍浴血奮戰，終於為政府保住經濟生產區。亂世平定後，亂軍餘黨與平亂有功的將領卻有擁兵自重，造成內重外輕的政治格局。」許小喵所報告的是下

列哪一史事？(A)黃巾之亂 (B)安史之亂 (C)八王之亂 (D)黃巢之亂。

B 20. 許小喵撰寫中國史的報告，右圖為他報告的目次，依內容判斷，他報告的題目最可能為下列何者？(A)戰國爭雄 (B)大漢天下 (C)三國鼎立 (D)隋唐盛世。

目次	
一、軍事行動	1
●北擊匈奴	2
●南討百越	3
二、外交措施	5
●出使西域	6
三、文化成就	8
●《史記》成書	10
四、科技發展	11
●地動儀的發明	13
●蔡倫造紙	15

A 21. 右圖是某出土文物刻寫的銘文，依其內容大意判斷，最可能是呈現下列何人的事蹟？(A)秦始皇 (B)漢武帝 (C)隋文帝 (D)唐太宗。



B 22. 老師用右圖說明中國某朝外國人來華情形，同時又舉出該朝代中國向外活動的例子，該例子最有可能為下列何者？(A)隋煬帝三次征伐高麗 (B)玄奘前往天竺學習佛法 (C)張騫通西域 (D)班固恢復絲路交通。

- ◎大食派遣使者來華，共 37 次。
- ◎日本派遣使節、留學生等來華，合計 19 次。
- ◎新羅除派遣使者外，也有大批留學生來華就讀。

B 23. 許小喵正在看歷史圖書，他看到如下資料：
太和二十年，皇帝責罵太子：「朕費盡心思，才將首都從平城遷到洛陽，你竟然偷偷跑回去平城，還經常穿著鮮卑衣服，這不是對朕所推行的政策有所鄙視嗎？此一政策乃是本朝百年大計之策，你就這麼不了解朕的苦心。」
根據資料判斷，下列何者也屬於這位皇帝的主要施政措施？(A)廢封建，行郡縣 (B)鼓勵胡人與漢人通婚 (C)大封諸子為王 (D)廢除九品官人法。

D 24. 西元 220 年，曹魏文帝接受尚書陳群的建議，推行國家的新的選才任官制度。此制度由郡的中正官根據族譜家世、個人才德，將該郡的人才分為九個等級，接著國家根據人才等級，授予官位。請問：這種新的選才任官制度實施後，造成了何種社會現象？(A)十年寒窗無人問，一舉成名天下知 (B)郡舉孝廉州博士，少不努力老乃悔 (C)富者連田阡陌，貧者無立錫之地 (D)上品無寒門，下品無世族。

A 25. 「這個朝代從第四位皇帝開始，皇帝多是年幼即位，由母后與外戚臨朝掌握朝政大權。皇帝長大後，希望奪回權力，於是和身邊的宦官合作剷除外戚勢力，宦官則因護主有功開始掌握權力。不久皇帝駕崩，國家又開啟了

年幼皇帝即位，外戚與宦官相互爭權的惡性循環。」請問：這樣的惡性循環最有可能為下列哪個朝代的寫照？(A)東漢 (B)西晉 (C)隋朝 (D)唐朝。

D 26. 祖逖是中國歷史上有名的將領，他出身北方世族，晉懷帝永嘉五年，首都淪陷，他曾帶領家族人員舉族南遷避禍。之後祖逖向君王建言：「帝國的衰亂，並不是上位者無道，也不是人民怨恨叛變，而是宗室諸王爭權，自相殘殺，讓外族抓住機會，荼毒中原。」請問：在祖逖的分析中，哪一史事才是導致國家衰亂最根本原因？(A)永嘉之禍 (B)赤壁之戰 (C)九品官人法的實施 (D)八王之亂。

D 27. 佛教傳入中國後，影響中國人的宗教信仰甚遠，其影響力甚至擴及到文學、藝術與學術思想等層面。下表是中國佛教重要發展的里程碑，若依據歷史發展的先後順序，選項中的哪個排列順序最為正確？應用分析

項目	內容
甲	佛教盛行下，產生了石窟藝術，例如龍門石窟
乙	佛教經由絲路傳入中國
丙	中國第一座佛寺—白馬寺興建落成
丁	佛教中國化，佛教宗派甚多，以禪宗最具代表

(A)甲乙丙丁 (B)乙甲丙丁 (C)甲丁乙丙 (D)乙丙甲丁。

D 28. 「魏晉南北朝以來，各朝對江南經濟依賴程度逐漸提高，因此當王朝發生動亂，使得江南經濟生產區受到破壞，甚至間接導致王朝滅亡。」請問：上述的說明最適合作為下列哪一史事的註解？(A)黃巾之亂 (B)永嘉之禍 (C)安史之亂 (D)黃巢之亂。

B 29. 許小喵在歷史報告中用下表講解某一主題，根據內容判斷，此主題最可能是下列何者？

時間	事件
西元 605 年	派遣淮河以南數十萬人開鑿邗溝，自山陽到長江。
西元 609 年	親征平定吐谷渾，開闢五千里。
西元 612 年	第一次遠征高麗，大敗而歸

(A)晉武帝的施政 (B)隋文帝的功績 (C)隋煬帝的事蹟 (D)唐太宗的建設。

B 30. 下表是某人為期四個月的旅行計畫：

時間	地點
第一個月	洛陽白馬寺、洛陽雲岡石窟、晉懷帝被俘地

第二個月	都江堰、白帝城(劉備託孤地)
第三個月	未央宮(西漢皇宮)、玄武門、武則天陵寢的無字碑、楊貴妃的清華池、廣通渠
第四個月	通濟渠、邗溝、同泰寺(梁武帝出家地)

若依據該旅行計畫的內容判斷，該旅行計畫最有可能是下列何人所提出？(A)參與修築都江堰的官員(B)牛李黨爭中支持李德裕的中央官員 (C)支持北魏孝文帝變法的鮮卑族人(D)在長安太學學習儒家典籍的學子。

- B 31. 中國歷史發展，向來以黃河流域為政治中心，但從孫吳立足於長江中下游以後，數個朝代都曾定都於此，加速南方的開發。請問：這種現象的出現，與下列何者有直接關係？(A)游牧民族南下，勢力直達江南 (B)北方長期戰亂，大批人是南遷 (C)漢人人口過剩，往南移民以求溫飽 (D)南方世族興起，勢力逐漸壯大。

- D 32. 侯孝賢的電影《刺客聶影娘》，描述河朔三鎮的魏博藩鎮的領袖田季安佔據地方，作風殘暴。聶影娘從小被道姑訓練成頂尖殺手，暗殺節度使，來解決這個時代的紛爭。然而聶影娘終究無法痛下殺手刺殺自己兒時的青梅竹馬—田季安。請問：侯孝賢的這部電影的時代背景，最有可能為下列何者？(A)隋煬帝三征高麗，勞民傷財 (B)玄武門之變，政治動蕩不安 (C)永嘉之禍中原殘破 (D)安史之亂後，地方擁兵自重。

- A 33. 某史書寫到：「皇帝之功，勸勞本事。上農除末，黔首是富。普天之下，搏心揖志。器械一量，同書文字，日月所照，舟輿所載。皆終其命，莫不得意。」請問：這本史書最有可能為下列何者？(A)《史記-秦始皇本紀》 (B)《漢書-漢高祖本紀》 (C)《隋書-隋文帝本紀》 (D)《唐書-唐太宗本紀》。

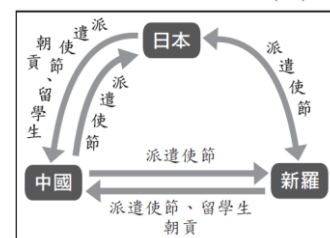
*下表某事件發生前後(唐玄宗開元年間、唐憲宗元和年間)節度使的數量與分布地區比較表，請依據該表回答下列二題：

	唐玄宗 開元年間 (西元 742~756)	某事件	唐憲宗 元和年間 (西元 806~820)
數量	10		42
分布區	邊境		全國各地
權力	軍事		軍事、民政、經濟
設置目的	防禦外族		酬謝將領

- B 34. 請問表格中的「某事件」最有可能為下列何者？(A)黃巢之亂 (B)安史之亂 (C)武則天稱帝 (D)怛羅斯之役。解釋

- C 35. 請問：下列哪一現象也是該「某事件」所帶來的影響？(A)王朝賴以為繼的南方經濟受破壞 (B)中國造紙技術傳入阿拉伯帝國 (C)宦官掌握禁軍，控制皇帝 (D)士人為求避禍，避談政治，崇尚玄虛哲理。

*右圖是某一時期亞洲三個國家交流的情形，根據內容回答下列二題：



- D 36. 下列哪一位人物，最有可能出現在這個時期的中國？(A)商鞅 (B)張機 (C)竹林七賢 (D)吳道子。

- A 37. 下列何者最有可能是這個時期，日本政壇的主要施政作為？(A)大化革新 (B)甲午戰爭 (C)鎖國政策 (D)牡丹社事件。

彰化縣立二水國民中學 108 學年度 第一學期 第二次段考 歷史科 試卷
二年 班 座號： 姓名：

二、填充題(每格 1 分，答案寫在考卷上，共計 16 分)

- 東漢末年張角的(**太平道**)與張陵的(**五斗米道**)可以視為道教早期代表。
- 唐太宗時(**玄奘**)前往天竺取經，回國後致力佛經翻譯。
- 唐太宗發動(**玄武門之變**)取得皇位後，對內知人善任、虛心納諫，開創(**貞觀**)之治。

- 隋文帝楊堅，勤於政事，國家富裕，人民安康，史稱（**開皇**）之治。他因為長安舊城殘破，營建新都大興城，該城以棋盤式街道與（**市坊分離**）為其特色，是後世都城典範。
- 魏晉南北朝清談與玄學盛行，玄學討論內容以（**老子**）、（**莊子**）、（**易經**）三本書籍為主。
- 中國的南朝分別是指：宋、（**齊**）、（**梁**）、（**陳**）四個朝代。
- （**鮮卑**）人建立北魏，結束五胡十六國紛亂的局面，統一黃河流域，開啟北朝時代。
- 中國經濟發展的重心原本在（**黃河**）流域。
- 魏晉南北朝的（**九品官人法**）的任官制度，導致社會呈現「上品無寒門，下品無世族」的社會現象。

三、問答題（每題3分，關鍵字2分，答案1分，共計6分，答案寫在考卷上）

	題 目	關 鍵 字	答 案
1	「中國史上，某位皇帝考量原根據地的農業生產落後，且北方外族威脅逐漸減少，為有效擴張勢力，因此將都城向南遷徙到漢文化的重鎮。遷都之後，因貴族與大臣反彈，甚至引起叛亂，皇帝剷除反對勢力後，更加大力推行漢化。」下列何者最有可能也是上文中那位皇帝的施政作為？(A)北魏孝文帝鼓勵胡漢通婚 (B)隋文帝營建大興城 (C)漢武帝罷黜百家獨尊儒術 (D)秦始皇統一度量衡。	漢化	A
2	1900年，在莫高窟居住的道士王圓籙為了將已被遺棄許久的部分洞窟改建為道觀，而進行大規模的清掃。當他在為第16窟（現編號）清除淤沙時，偶然發現了北側甬道壁上的一個小門，打開後，出現一個長寬各2.6米、高3米的方形窟室內，有從4世紀到11世紀（即十六國到北宋）的歷代文書和紙畫、絹畫、刺繡等文物5萬多件，這就是著名的「藏經洞」。請問：藏經洞的出現，對於下列哪個宗教的研究提供了相當珍貴的第一手資料？(A)佛教 (B)道教 (C)景教 (D)回教。	莫高窟	A

四、引導式問答題（每小題1分，共計4分）

（一）下表為107學年度模擬教育會考的第25題，請依據該題目的內容回答下列1~4小題

「這個朝代開國以來向尊崇道教，同時對於不同宗教也抱持著包容的態度，天竺(今印度)、新羅、日本等地的佛教僧侶都會來到首都長安，進行宗教交流。但後來朝廷態度有所轉變，要求僧侶還俗，連祆教以及在此朝代傳入的景教、摩尼教等宗教，也都被認為是邪教，而被禁止。」根據內容判斷，這最可能在描述下列哪一朝代曾經出現的現象？(A)漢朝 (B)西晉 (C)隋朝 (D)唐朝

1. 依據該題題幹顯示，這個朝代的首都是哪一個城市？

答案：**長安**

2. 依據該題題幹顯示，這個朝代對於宗教抱持包容態度，因此天竺和另外哪兩個地方的佛教僧侶都會來到首都進行宗教交流？(要寫兩個地方)

答案：**新羅、日本**

3. 依據該題題幹顯示，這個朝代有哪兩個宗教傳入(要寫兩個宗教)？

答案：**景教、摩尼教**

4. 經過上述1~3題的脈絡練習，接著我們回到107學年度教育會考的第25題。該題的答案最有可能是什麼？

答案：**D**