

一、選擇題(每題 2 分，答案劃在答案卡上，共計 62 分)

- C1. 下列那個一民族以冶煉鐵器而聞名？(A)希伯來人 (B)蘇美人 (C)西台人 (D)羅馬人。
- B2. 印度種姓制度的產生，和下列哪一種宗教有密切的關連？(A)佛教 (B)婆羅門教 (C)猶太教 (D)祆教。
- A3. 古西亞地區有一民族擅長於航海經商，經常往返於地中海地區，並將古埃及文字改良後傳入歐洲。請問：上文所述應是指下列哪一個民族？(A)腓尼基人 (B)蘇美人 (C)亞述人 (D)巴比倫人。
- C4. 在世界歷史發展過程中，下列哪一文明曾歷經王政、共和、帝國等各種統治型態，為後世政治研究提供豐富的資料？〔97.第二次基測〕(A)巴比倫 (B)斯巴達 (C)古羅馬 (D)古埃及。
- C5. 孔雀王朝建立後，到西元前 3 世紀阿育王在位時，政績輝煌，國力強盛，下列何者是他的重要作為？(A)建立「種姓制度」，嚴格訂定各階層行為規範以維護社會秩序 (B)建構婆羅門教教義，發展出靈魂輪迴的思想與因果報應等主張 (C)致力向外傳播佛教，使佛教信仰由印度逐漸擴展到鄰近的國家 (D)結合民間習俗創立印度教，成為今日印度人民信奉的主要宗教。
- C6. 「埃及是尼羅河的贈禮。」尼羅河的氾濫為埃及帶來肥沃的耕地，也促使哪些文化成就的發展？(A)天文學、地理學 (B)哲學、建築學 (C)幾何學、測量學 (D)醫學、數學。
- A7. 羅馬帝國的「羅馬和平」時代，國力強盛，政治安定，經濟繁榮，此時的羅馬恰好與中國的哪一個朝代相互輝映，成為當時兩大帝國？(A)漢朝 (B)唐朝 (C)宋朝 (D)元朝。
- B8. 某位歷史學家被尊稱為「史學之父」，在其著作《歷史》一書中，認為波斯的戰敗在於野心過度，更認為波希戰爭是「有文化、有素質的雅典民族戰勝了野蠻的東方民族」。依據內容判斷，這位歷史學家最有可能為下列何人？(A)荷馬 (B)希羅多德 (C)蘇格拉底 (D)阿基米德。
- D9. 下列那個宗教是改革猶太教教義而出現的新宗教？(A)伊斯蘭教 (B)佛教 (C)祆教 (D)基督教。
- A10. 下列那個希臘城邦被稱為「全希臘的學校」(A)雅典 (B)斯巴達 (C)奧林匹亞 (D)特洛依。
- C11. 在亞歷山大東征後的三百年間，希臘文化與西亞、埃及等地文化逐漸融合，形成哪一種新的文化？(A)希臘古典文化 (B)愛琴海文化 (C)希臘化文化 (D)羅馬文化。
- B12. 埃及古文明觀念中，何者為宇宙的主宰，甚至法老也是祂的兒子，祂在人世間的代表？(A)尼羅河神 (B)太陽神 (C)善神阿胡拉馬茲達 (D)上帝耶和華。
- A13. 「你們接親近神，神必親近你們。」此為耶穌對信徒的訓誡之一。請問：若要瞭解更多內容，可以參考下列哪一本經典？(A)《新約聖經》(B)《舊約聖經》(C)《奧德賽》(D)《古蘭經》。
- C14. 右圖所象徵的法律觀念，反映了古代某部法典的特色—報復。請問：此部法典是哪一民族的文化遺產？(A)蘇美 (B)羅馬 (C)巴比倫 (D)亞述。
- 
- D15. 《木馬屠城記》出自《伊里亞德》與《奧德賽》中有關特洛伊戰爭的情節，過去一直被視為是希臘神話故事，直至 19 世紀才被德國業餘考古學者—施理曼證實特洛伊城的遺址。依據歷史知識推論，施理曼在正式考古挖掘前，應該詳細閱讀何人的著作，以瞭解木馬屠城記得始末？(A)希羅多德 (B)亞里斯多德 (C)阿基米德 (D)荷馬。
- C16. 歷史上的某位人物曾經頒佈《米蘭詔書》，宣布國家境內有信仰基督教的自由，並且歸還已經沒收的教會財產，亦承認了基督教的合法地位。請問：下列哪一歷史事件與頒佈《米蘭詔書》的歷史人物有關？(A)帶領軍隊征服高盧 (B)接受元老院獻上的「奧古斯都」尊號 (C)在拜占廷興建新城市作為國家東部的政治中心 (D)將國家一分為二。
- D7. 他們把太陽、月亮、星星當作神來祈禱，認為某些行星帶來幸運，某些帶來不幸。例如：火星代表戰爭、金星代表愛情。人們為每位行星（金木水火土）之神奉獻一個日子，再加上太陽、月亮剛好七個，就產生了星期制度。請問：他們是下列哪一民族？(A)蘇美人 (B)巴比倫人 (C)亞述人 (D)加爾底亞人。
- C18. 西方有一位君主向外征戰後，為了傳播希臘文化，鼓勵希臘人移民到西亞與北非，使用希臘語，推行希臘法律，鼓勵希臘男子與當地女性通婚。上文所描述的這位西方君主最有可能為下列何者？(A)凱撒

(B)君士坦丁 (C)亞歷山大 (D)漢摩拉比。

D 19. 國立臺中自然科學博物館舉辦「大河文明—美索不達米亞的今昔」特展，請問下列何者最有可能出現在該次特展的廣告 DM 上？ (A)一面由黃金與寶石製成的法老面具 (B)栩栩如生的陶塑兵馬俑 (C)考古學家發現的數塊山頂洞人化石 (D)刻在石柱上的《漢摩拉比法典》。

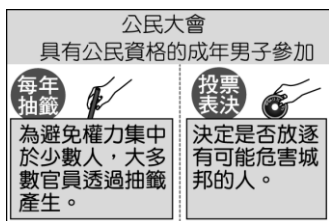
D 20. 上古時期哪一個借用當地的景象，尤其是鳥類和動物的形象作為符號，創造出一套不容易書寫的文字（如附圖），因此只用在宗教、紀念建築物和官方文件上。而這些寫在木頭、石頭或金屬上的文字，帶有裝飾意味，至於一般性的書寫，則加以簡化或變形，增加書寫速度？(A)印度人 (B)蘇美人 (C)希臘人 (D)埃及人。



B 21. 附圖中某一地區的古文明有嚴格的社會階級區別，影響至今；此地區在古代的數學成就上，發展出「零」的概念及其對應的符號，現今世界通用的數字符號也源於此區。此地區最可能位於圖中甲、乙、丙、丁何處？(A)甲 (B)乙 (C)丙 (D)丁。



A 22. 附圖是呈現某古代文明政治運作特色的示意圖，此古文明的特色最有可能為下列何者？(A)藝術上重視均衡、對稱與和諧 (B)以冶鐵技術而聞名於當時 (C)重視實用 (D)重視科學研究。



A 23. 金庸《倚天屠龍記》筆下的「明教」是一個由西域傳入，重視火與光明並相信世界有善神跟惡神的宗教。而身為明教教主的張無忌曾為解救明教與武當、少林等六大門派血戰光明頂。如果張無忌想要回到明教發源地朝聖，下列何者最有可能是前往的地理區？(A)伊朗高原 (B)小亞細亞 (C)兩河流域 (D)地中海東岸。

A 24. 許小喵在網路上找到西元前 3500 年的使用六十進位法的紀錄如附圖，依照你的判斷，這種計算方式最早是

Table with 6 columns of numbers 1-60 in various ancient scripts.

由哪個民族開始使用？(A)蘇美人 (B)巴比倫人 (C)亞述人 (D)加爾底亞人。

A 25. 附圖為某宗教宣傳 DM 中有關靈魂輪迴的觀念與眾生平等的觀念。而下列何種觀念，亦可能出現在該宣傳 DM 內？(A)藉由修行跳脫生死輪迴 (B)神與人相似，具有愛恨情仇的情緒 (C)具有死後審判與復活的觀念 (D)講述「留著奶與蜜」的應許之地的故事。



D 26. 大約西元前 3500 年開始，人類歷史上陸續發展出高度文明，如：西亞的蘇美、埃及的古王國、與中國的殷商時期，下列何者為上述古文明的共同特色？(A)建立歐亞的帝國 (B)實施種姓制度 (C)強調一神信仰 (D)出現文字。

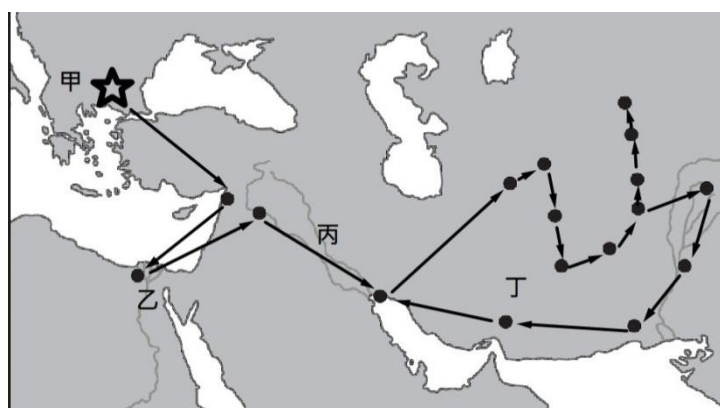
C 27. 右圖是歷史上某一軍隊發動戰爭後的行軍路線圖的一部份，圖中黑色線條表示戰爭一方軍隊的進行路線，箭頭指示軍隊進行的方向。根據圖中資訊判斷，這最有可能是哪一隻部隊的行軍路線圖？(A)埃及新王國的軍隊 (B)征服高盧的凱撒軍隊 (C)亞歷山大的馬其頓軍隊 (D)波希戰爭中波斯的軍隊。



B 28. 右圖是描繪某一重要史事演變及擴展的過程，根據年代與分布範圍的改變判斷，此圖片的主題最可能是下列何者？(A)羅馬帝國的擴張 (B)基督教的傳播 (C)希臘化文化的盛行區 (D)腓尼基人貿易範圍。



*下圖為某個統治者透過一連串的軍事行動所征服的地區示意地圖。圖中的「箭頭」僅代表這一連串軍事行動的先後順序；「圓點」則代表該統治者在軍事行動之

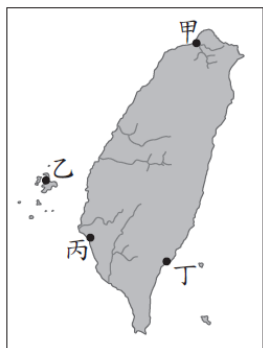


後所建立的新城市；「星號」代表該統治者的故鄉。請依據上述說明與下圖，回答下列二題：

- D29. 根據判斷，這最有可能為下列哪一軍事行動？(A)波斯帝國的擴張 (B)羅馬帝國的擴張 (C)基督教的傳播 (D)亞歷山大東征。
- B30. 該名統治者將自己故鄉的文字當作官方文字，推行到所有的征服區內。但為了使征服區內的人民熟悉法律，除了命令工匠將官方文字版的法律刻在石碑上半部外，也會將各地方傳統文字的版本刻在石碑下半部。請問：考古學家最有可能在引文地圖中的何地，挖出官方文字與象形文字的法律石碑？(A)甲 (B)乙 (C)丙 (D)丁。

*電影場景如下：「列奧尼達面對波斯的優勢軍力，假裝下跪臣服，卻趁機投擲長矛刺傷波斯國王薛西斯一世，證明他自稱的神力不過是虛言。剩餘的三百壯士與部分的希臘城邦聯軍雖然頑強抵抗波斯大軍的進攻，但卻仍然被消滅，列奧尼達也因身中數箭而倒下。在倒下前，他派遣信差返回斯巴達，將其遺物交給王后。」請依據上述內容回答下列二題：

- D31. 根據歷史知識判斷，該電影應該以哪一場戰爭為背景所拍攝的作品？(A)亞歷山大東征 (B)凱撒征服高盧 (C)蒙古西征 (D)波希戰爭。
- B32. 如果電影導演想要拍攝該電影的續集，描寫戰爭結束後的故事，下列那個故事可能是最好的選擇？(A)羅馬帝國的擴張故事 (B)希臘各城邦內戰的故事 (C)基督教創教初期受迫害的故事 (D)波斯轉而征服埃及的故事。
- D33. 十九世紀後期，一位美國學者到台南考察，當地西拉雅族頭目帶著二十餘份文件讓他瀏覽，這些文件以羅馬字母、漢字拼寫，標住清朝雍正、乾隆及嘉慶的年號與日期，又蓋有印章。他認為這些是極具價值的史料，因此便以槍枝換取了這些文件。這些文件內容最可能包含下列何者？(A)西來庵事件始末 (B)安平洋行貿易資料 (C)臺灣總督府林也調查記錄 (D)原住民與漢人土地交易記錄。



- A34. 以下是一段十七世紀的文獻記載：「西班牙人每年向當地已婚的原住民課徵二隻雞和三單位米的稅，原住民感到無法忍受，所以襲擊該地的西班牙城堡，殺死三十個西班牙人。」此段記載最有可能描繪由圖中何處的情況？(A)甲 (B)乙 (C)丙 (D)丁。

- B35. 下列是某政權統治台灣期間的對外貿易策略。依據對外貿易內容判斷，這個統治台灣的政權最有可能為下列何者？

- 一、將蔗糖、鹿皮輸往日本，再從日本購買武器。
二、1670年代，與英國達成通商協議，允許英國在安平設立商館。
三、持續與東南亞地區的菲律賓、泰國等地進行貿易。

(A)荷蘭 (B)明鄭 (C)清朝 (D)日本。

- A36. 以下是某書對臺灣的描述：「此時期臺灣居民不得與外國往來，而且統治者為了管制移民，稽查海盜，還限定臺灣與中國大陸的對渡港口。當時臺灣所輸出的稻米幾乎全部銷往福建及其附近地區，糖則主要運銷華中、華北和東北。」此時期由負責上述貨物運銷的商人所自行組成的組織，最可能是下列何者？(A)郊 (B)洋行 (C)市舶司 (D)總理衙門。

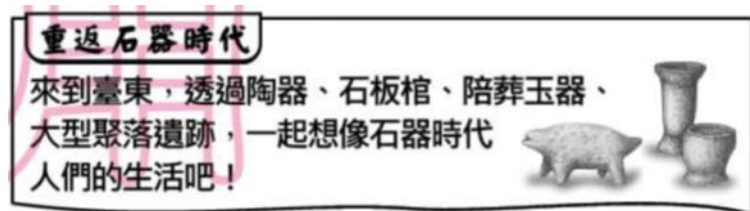
- A37. 右表(八)是台灣開港通商後，部分洋行在台的營運狀況。若參考當時商品的產區與出口地，這些洋行最可能皆設置於右

名稱	主要出口商品
寶順洋行	茶
美利士洋行	樟腦
公泰洋行	樟腦
費爾·哈士迪斯洋行	樟腦、煤



圖中何處？(A)甲 (B)乙 (C)丙 (D)丁。

- B38. 下圖是二水國中三年級校外教學的學習單，依據學習單內容判斷，此次校外教學可能參觀了下列哪一個史前文化遺址？



(A)長濱文化 (B)十三行文化 (C)圓山文化 (D)卑南文化。

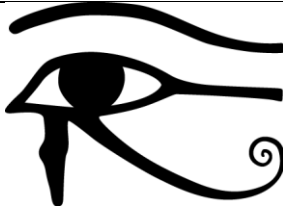
- A39. 如果把十三行文化、卑南文化、長濱文化的人類聚在一起，下列何者最可能是他們共同具備的生活技能？(A)打製石器 (B)種植作物 (C)冶煉鐵器 (D)燒製陶器。
- D40. 原住民小朋友許小喵參加族內祭典—巴斯達隘時，一同唱著迎神歌：「大家集合起來，我們要招請矮靈。矮靈啊，我們要開始迎神祭典，請您降下來，我們要給你貢獻 Roro 魚。」根據歌詞，許小喵應該屬於下列哪一族的原住民？(A)排灣族 (B)阿美族 (C)卑南族 (D)賽夏族。

彰化縣立二水國民中學 108 學年度 第一學期 第一次段考 歷史科 試卷
三年 班 座號： 姓名：

二、填充題(每格 1 分，答案寫在考卷上，共計 12 分)

- 希臘三哲人分別是：(**蘇格拉底**)、(**柏拉圖**)、(**亞里斯多德**)。
- 西元 476 年，西羅馬帝國亡於 (**日耳曼**) 民族。
- 西元 1453 年，東羅馬帝國亡於 (**鄂圖曼土耳其**) 人。
- (**底格里斯河**) 河與 (**幼發拉底河**) 河所流經的地區稱為美索不達米亞平原，在阿拉伯語意指兩條大河流之間的平坦土地。
- 阿利安人為保持政治地位與種族特性，依據婆羅門教教義發展出階級森嚴的 (**種姓制度**)，將人民分為四個階級，由高至低依序為：(**祭司**)、貴族武士、平民、(**奴隸**)。
- 波斯人信仰 (**祆**) 教，相信善惡二元論，崇拜光明與火，又稱為「拜火教」。
- 印度在數學上的成就很高，發展出數字符號與零)觀念，其中數字符號經由 (**阿拉伯**) 人傳入歐洲，成為今日通行的阿拉伯數字。

三、問答題 (每題 4 分，關鍵字 2 分，答案 2 分，共計 4 分，答案寫在考卷上)

題 目	關 鍵 字	答 案
1 荷魯斯之眼是某個古代民族的符號(如附圖)，據說是鷹頭神荷魯斯的眼睛，右眼象徵著完整無缺的太陽，左眼象徵有缺損的月亮。最後因為太陽光無所不在的緣故，他也變成法老的守護神。依據上述內容推測，「荷魯斯之眼」也可能出現在下列哪一種建築物之中？(A) 競技場 (B) 帕德嫩神廟 (C) 金字塔 (D) 萬里長城。		法老 C

四、引導式問答題(每格 1 分，答案寫在考卷上，共計 4 分)

(一) 下表為 103 學年度特色招生第 51 題，請依據該題目的內容回答下列 1~5 小題

小立在課堂上介紹某一文明的情況：「當時，政府最高行政首長是每年選出的兩名『執政官』，行使過去國王擁有的權力，但是其職權往往須受監督或授權方可行使；『元老院』成員多為退休官員與地方首長，對政事有重要影響力；『百人團大會』則負責立法、宣戰、締和等事務。」他所介紹的最可能是下列何者？(A) 羅馬共和 (B) 埃及古王國 (C) 希臘城邦 (D) 亞歷山大帝國。

- 依據題目內容，當時政府的最高行政首長是每年選出的兩名什麼？
答案： **執政官**
- 依據題目內容，何者成員多為退休官員與地方首長？
答案： **元老院**
- 依據題目內容，哪一個機構負責立法、宣戰、締和等事務？
答案： **百人團大會**
- 經過上述 1-3 題的脈絡練習，接著我們直接面對會考題目。請問：該題的答案為何
答案： **A**