

# 彰化縣三民國小第一一二學年度第一學期 數學科 期末學業評量

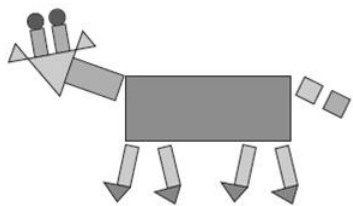
一年甲班 \_\_\_\_\_ 號 姓名：\_\_\_\_\_

## 一、選擇題：共 10 分

( 3 ) 1. 下面哪一個選項的答案和其他兩個不同？

- ①  $7+2$    ②  $2+7$    ③  $3+5$

( 1 ) 2. 下圖有幾個長方形？

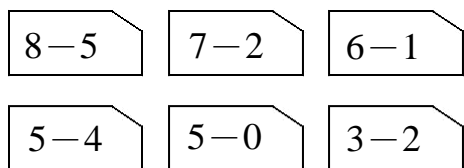


- ① 8 個   ② 7 個   ③ 6 個

( 3 ) 3. 下列哪一項對正方體的描述正確？

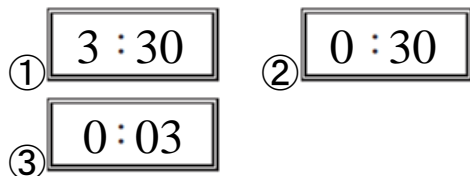
- ① 只有平平的面   ② 容易堆高   ③ 以上都對

( 3 ) 4. 在下面這幾張心算卡中，有幾張心算卡的答案是 5？



- ① 1 張   ② 2 張   ③ 3 張

( 1 ) 5. 3 點半在數字鐘上怎麼表示？



## 二、畫畫看看，做做看看：每題 5 分，共 20 分

1. 亮儀有 6 輛小汽車，依-黎有 2 輛小汽車，兩人共有幾輛小汽車？

畫畫：○○○○○○ ○○

算式： $6+2=8$

共有 ( 8 ) 輛小汽車

2. 彥-辰到夜市玩遊戲，第一次得到 3 顆糖果，第二次得到 1 瓶飲料，彥-辰共得到幾顆糖果？

畫畫：○○○ ○

算式： $3+1=4$

共得到 ( 4 ) 顆糖果

3. 楷-曄有 10 個漢堡，吃掉 1 個，還有幾個漢堡？

畫畫：○○○○○○○○○○~~○~~

算式： $10-1=9$

還有 ( 9 ) 個漢堡

4. 凱-旋有 8 瓶養樂多，送給裕-庭 4 瓶，凱-旋還剩下幾瓶養樂多？

畫畫：○○○○~~○○○○~~

算式： $8-4=4$

還剩下 ( 4 ) 瓶養樂多

三、把算式答案填在( )裡，在( )裡打✓：12分

① 5+2 ( ✓ )	② 8-1 ( ✓ )	③ 3+3 ( )
④ 1+6 ( ✓ )	⑤ 10-3 ( ✓ )	⑥ 9-2 ( ✓ )

四、連連看：共12分

九點半    五點鐘    三點鐘    十點半

五、看圖做做看：共12分


1. 依照圖形的規律性，?會是什麼圖形？圈圈看。

● ■ ● ? ● ■ ● ■  
( ● , ■ )

■ ■ ● ▲ ■ ■ ? ▲  
( ■ , ■ , ● , ▲ )

2. 看鐘面填填看。

短針指在( 1 )和( 2 )之間，長針指在( 6 )，是( 6 )點半。



六、算算看看：共18分

- (1)  $5+3=(8)$     (2)  $7-4=(3)$   
 (3)  $4+5=(9)$     (4)  $9-6=(3)$   
 (5)  $2+7=(9)$     (6)  $8-3=(5)$   
 (7)  $1+3=(4)$     (8)  $6-6=(0)$

七、應用題：共16分

1. 小菲投籃球，第一次投進3球，第二次投進6球，兩次共投進幾球？

算式： $3+6=9$

共投進( 9 )球

2. 柏言有5枝藍筆，韋頌有0枝，兩人共有幾枝藍筆？

算式： $5+0=5$

共有( 5 )枝藍筆

3. 池塘裡有6隻青蛙，跳走4隻後，池塘裡剩下幾隻青蛙？

算式： $6-4=2$

剩下( 2 )隻青蛙

4. 一串香蕉有4根，琳煊買了兩串香蕉，共有幾根？

算式： $4+4=8$

有( 8 )根