

彰化縣彰化市三民國小 112 學年度第 2 學期期中學業評量 數學科

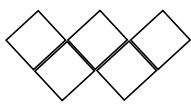
一年甲班 _____ 號 姓名：_____

一、選擇題：每題 2 分，共 12 分

(1) 1. 彦辰和凱旋排隊測量視力，彦辰排在第 34 個，凱旋排在第 43 個，誰會先測量？

- ① 彦辰 ② 凱旋 ③ 一樣

(2) 2. 下面圖形是用幾片正方形拼成的？



- ① 4 片 ② 5 片 ③ 6 片

(3) 3. 「100」讀作什麼？

- ① 一十十 ② 一百 ③ 一零零

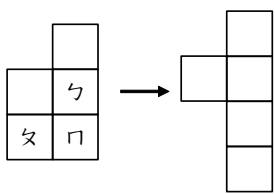
(4) 4. 在算式「 $9+3=12$ 」中，3 被稱為什麼？

- ① 被加數 ② 加數 ③ 和

(5) 5. 下面哪一個算式的答數和其餘兩個選項不同？

- ① $11-8$ ② $14-7$ ③ $12-9$

(6) 6. 要移動哪一片正方形圖卡，才能變成右邊的圖形？



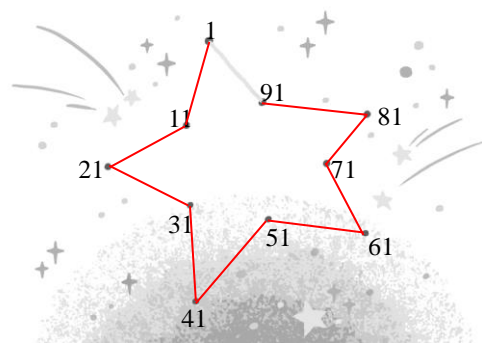
- ① ㄅ ② ㄆ ③ ㄇ

二、連連看：共 22 分

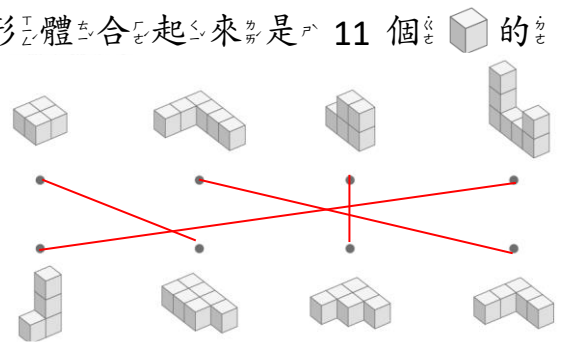
1. 數一數，有多少？連一連。10 分

		38
		39
		70
		57
		63

2. 從 1 開始，按照順序連連看。4 分

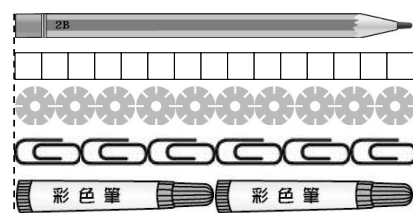


3. 將上、下形體合起來是 11 個的連起來。8 分



三、看看圖做做看：共 18 分

1. 量一量，有多長？



- (1) 鉛筆和 (15) 個 一樣長。
 (2) 鉛筆和 (10) 個 一樣長。
 (3) 鉛筆和 (6) 根 一樣長。
 (4) 鉛筆和 (2) 枝 一樣長。

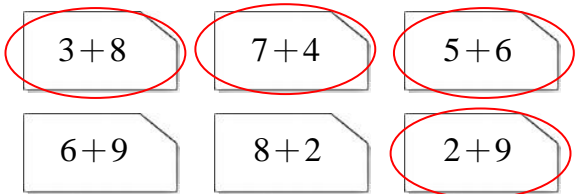
2. 看看圖回答問題。



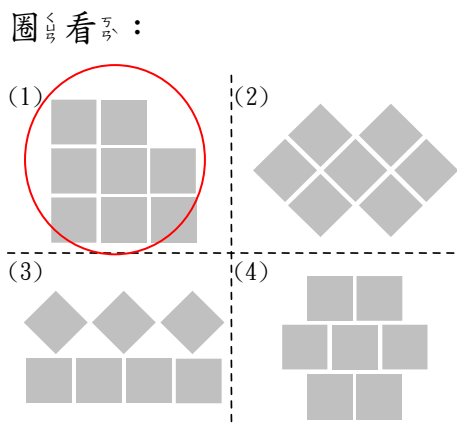
- ① 排在第 48 個，在 的 前面已經有 47 隻動物進場參觀。
 ② 排在第 53 個， 排在第 56 個。
 ③ 和 誰先進去？圈圈看。
 (,)

四、配合題：每題答1分，共11分

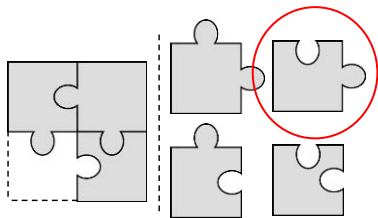
1. 下面心算卡答案為11的圈起來：



2. 哪些圖形是用8片排成的？圈出來看：



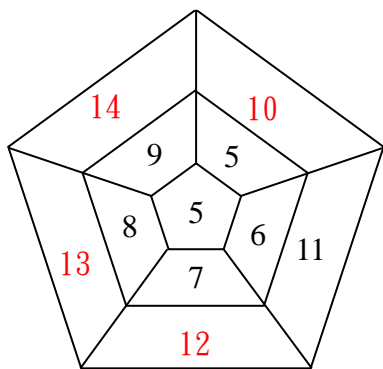
3. 要放入哪一個圖形，才能完成左邊的圖？圈出來看：



五、填填看：19分

1. 89的十位數字是 **8**，表示有 **8** 個十，是 **80**；個位數字是 **9**，表示有 **9** 個一，是 **9**。

2. 填填看：



3. 填入適當的數。



4. 算算看：

- (1) $9+2=(11)$ (5) $18-9=(9)$
 (2) $8+3=(11)$ (6) $12-8=(3)$
 (3) $6+5=(11)$ (7) $13-7=(6)$
 (4) $15-6=(9)$

六、應用題：每題3分，共18分

1. 裕庭買了8個蘋果，柏言買了6個，兩人共買了幾個蘋果？

算式： $8+6=14$

(14) 個

2. 楷曄有13枝冰棒，分給同學7枝後，楷曄還剩幾枝冰棒？

算式： $13-7=6$

(6) 枝

3. 琳媗吹了9個氣球，休息一下再吹了9個氣球，琳媗共吹了幾個氣球？

算式： $9+9=18$

(18) 個

4. 亮儀一星期要上6堂才藝課，2個星期，她共要上幾堂才藝課？

算式： $6+6=12$

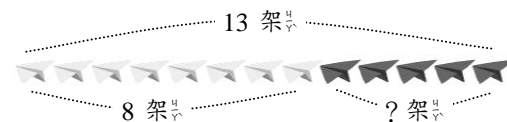
(12) 堂

5. 依黎吃了10塊餅乾，小菲比依黎少吃了5塊，小菲吃了幾塊餅乾？

算式： $10-5=5$

吃了(5) 塊

6. 韋頹摺了13架紙飛機，黃色的紙飛機有8架，其他的紙飛機有幾架？



算式： $13-8=5$

有(5) 架