

一、是非題：(共 20 分)

- () 1. 位於宜蘭縣的蘭陽溪，水量在乾季和雨季有明顯差別。✗
- () 2. 臺北地區的地形是屬於四周高而中間低平的盆地。○
- () 3. 興建水庫最好選擇在河川的下游地區，可以蓄積到更多的水。✗
- () 4. 小展的家以種茶、製作茶葉維生，他們的居住地最有可能是平原地區。✗
- () 5. 引水困難的平原地區，比較適合種植甘薯或甘蔗等旱作。○
- () 6. 在早期的臺灣，不論是原住民族或是漢人，在建築住屋時大多會就地取材。○
- () 7. 三合院的房間安排，是依據「右大左小」的原則分配。✗
- () 8. 藉由廟會的慶祝表演活動，許多傳統的民俗曲藝，因而流傳下來。○
- () 9. 臺南市新化區的新化老街，建築風格是傳統的閩南文化建築。✗
- () 10. 許多商家會把老街的店鋪後方，當作是騎樓，供行人與貨物通行。✗

二、選擇題：(共 20 分)

- () 1. 下列何者不是濁水溪流經的縣市？①南投縣②臺東縣③彰化縣④雲林縣。2
- () 2. 關於新竹縣關西鎮的地形特色，下列敘述何者正確？①屬地勢高聳的山地②屬平坦的平原③屬地面起伏不平的丘陵④屬四周高、中間低平的盆地。3
- () 3. 下列哪一項因素可能會影響家鄉居民的生活？(甲)氣溫(乙)地形(丙)雨量①甲乙②甲丙③乙丙④甲乙丙。4
- () 4. 小如對鄉村與都市的調查，何者錯誤？①鄉村生活較悠閒，都市則較緊張②鄉村隨處可見農田、農舍，都市則是高樓大廈③鄉村空間開闊，都市空間擁擠④鄉村內各種行政機關比都市多。4
- () 5. 小明的爺爺以種植水稻維生，請問他可能居住在下列哪一個地形區？①都市地區②平原地區③山地地區④海岸地區。2
- () 6. 在臺灣，有些原住民族會將房屋建得比較低矮，採取這種建築做法的可能原因是什麼？①為了躲避強風②節省建材的花費③符合流行趨勢④方便通風、排水。1
- () 7. 某建設公司使用鋼筋混凝土來建造樓房，這種建築材料除了鋼筋外，還要使用由下列哪些東西攪拌而成混凝土來用？(甲)鐵砂(乙)水泥(丙)水(丁)茅

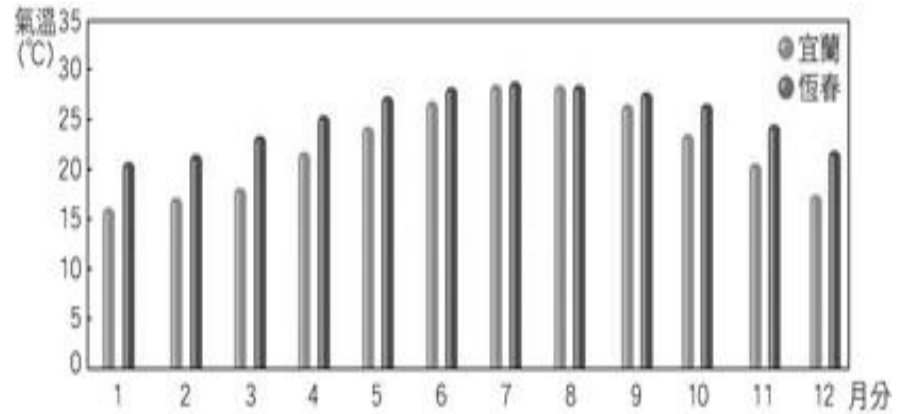
草(戊)砂石①甲乙丙丁戊②甲乙丙戊③乙丙戊④丙丁戊。3

- () 8. 小萱到新北市三峽老街參觀，她最有可能發現老街的建築兼具什麼樣的功能？①商店兼學校②商店兼住家③商店兼廟宇④商店兼遊樂場。2
- () 9. 許多老街經過不斷改建或更新，成為現代居民的什麼場所？①停車的地方②祭拜祖先的地方③受教育的地方④休閒購物的商店街。4
- () 10. 參觀家鄉的老街，可以讓我們了解到當地早期居民的什麼狀況？①農業發展②宗教信仰③商業活動④人口變遷。3

三、看圖回答問題：(共 8 分)

1. 下列是宜蘭、恆春各月平均氣溫圖，請把正確的代號填入適當的()中。(4 分)

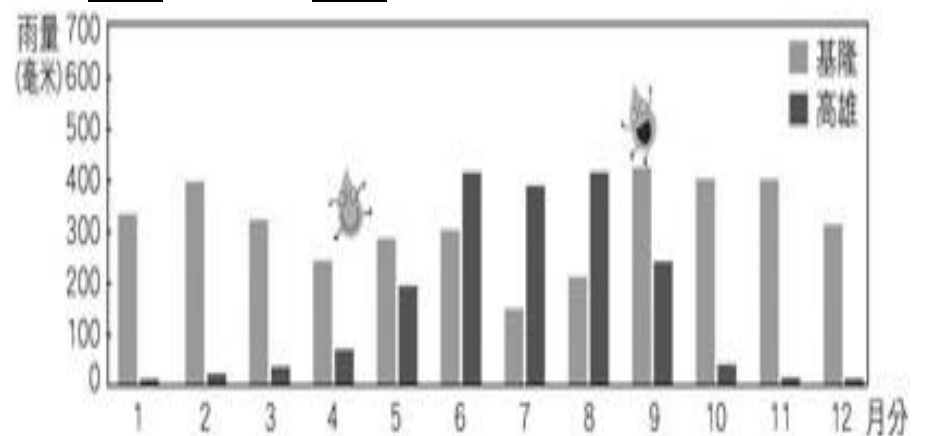
甲、宜蘭 乙、恆春



- ① 夏熱冬冷的是(甲)。
- ② 四季都很炎熱的是(乙)。

2. 下列是基隆、高雄各月平均雨量圖，請把正確的代號填入適當的()中。(4 分)

甲、基隆 乙、高雄



- ① 一年四季都是多雨氣候的是(甲)。
- ② 夏季多雨，冬季少雨的是(乙)。

四、連連看：(共 15 分)

1. 下列是居住型態的相關描述，請把相關的部分用直線連起來。(5 分)

- (1) 平原地區水稻農業 ●
 (2) 平原地區旱作農業 ● ● 甲、集中居住
 (3) 山地地區 ●
 (4) 海岸地區 ● ● 乙、分散居住
 (5) 都市地區 ●

《答案》(1) 乙 (2) 甲 (3) 甲 (4) 甲 (5) 甲

2. 請將下列各種傳統建築和它的特色連起來。(5 分)

- (1) 三合院 ● ● 甲、在家屋的兩側加蓋房屋
 (2) 石板屋 ● ● 乙、三間或五間家屋連成一排
 (3) 一條龍 ● ● 丙、在一排家屋的一側加蓋房屋
 (4) 單伸手 ● ● 丁、將房屋架高搭建而成，具有防潮的功能
 (5) 高腳屋 ● ● 戊、利用石板當作建築材料所建造的房屋

《答案》(1) 甲 (2) 戊 (3) 乙 (4) 丙 (5) 丁

3. 請將下列三合院中，各個地點的正確功能連起來。(5 分)

- (1) 農具間 ● ● 甲、祭拜神明、祖先
 (2) 正廳 ● ● 乙、煮飯、燒菜
 (3) 稻埕 ● ● 丙、養魚、洗滌物品
 (4) 廚房 ● ● 丁、放置農具
 (5) 水池 ● ● 戊、晒稻穀

《答案》(1) 丁 (2) 甲 (3) 戊 (4) 乙 (5) 丙

五、勾選題：(共 21 分)

1. 早期的家鄉先民，選擇生活的地方時會考慮哪些條件？請在敘述正確的□中打√。(5 分)

- ① 氣候良好。
 ② 取水方便。
 ③ 公共建設多。
 ④ 醫療設施多。
 ⑤ 地形平坦、開墾容易。

《答案》1、2、5

2. 關於家鄉廟宇的敘述，下列哪些是正確的？請在□中打√。(6 分)

- ① 先民為了祈求平安與心靈慰藉而興建廟宇。
 ② 媽祖是不分地區，很多人的信仰神明。
 ③ 觀察廟宇可以發現早期家鄉的歷史。
 ④ 廟前廣場通常是民眾休閒聚會的地方。
 ⑤ 堅持傳統，沒什麼新風貌。
 ⑥ 廟宇常舉辦各種儀式祭典和慶祝活動。

《答案》1、2、3、4、6

3. 下列關於家鄉環境的描述，請在正確的□中打√。

- ① 家鄉就是我們生活的地方。(5 分)
 ② 人們選擇生活場所的因素，過去和現代有很大的不同。
 ③ 家鄉的河川水量都很穩定，不受乾溼季節影響。
 ④ 不同的家鄉，氣候和地形應該都大致相同。
 ⑤ 臺南、高雄等地的雨量，大多集中在夏季。

《答案》1、2、5

4. 下列哪些是傳統老街的特色？請在敘述正確的□中打√。(5 分)

- ① 有騎樓的設計。
 ② 鋼筋水泥的建築風格。
 ③ 店鋪兼具住宅和商店的功能。
 ④ 位在人潮較多的地方。
 ⑤ 店鋪後面的空間是生活起居的地方。

《答案》1、3、4、5

六、回答問題：(共 16 分)

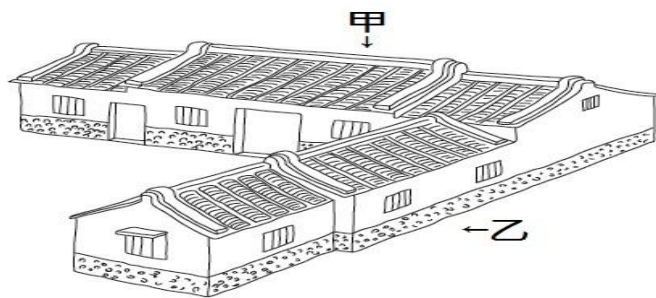
1. 現代的人選擇居住的地方，除了自然環境外，還包括哪些因素？請列舉兩個原因。(4 分)

《答案》就業機會、交通條件、公共建設、醫療、教育。(答案僅供參考)

2. 掌管作物收成的地方守護神是哪位？又稱為什麼？(4 分)

《答案》土地公、福德正神

3. 請觀察圖片，回答下列問題。(8 分)



① 這種傳統建築形式，我們稱之為什麼？(單伸手)

② 圖中甲我們稱之為什麼？(正身)

圖中乙我們稱之為什麼？(護龍)

③ 傳統三合院的房間配置很重視倫理的精神，其中正廳通常會配置在 1~7 中的哪一間？(2)

1	2	3
4		6
5		7