

四年甲班 座號：_____ 姓名：_____


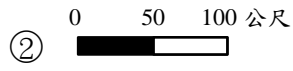
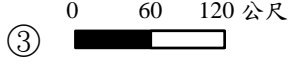
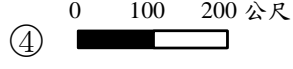
一、是非題：(共 20 分)

- () 1. 清明節、端午節、中秋節都是配合農曆日期的傳統節日。 (X)
- () 2. 除夕是農曆十二月的第一天，全家一起吃年夜飯，有感恩和團圓的意義。 (X)
- () 3. 端午節的由來是為了紀念詩人李白。 (X)
- () 4. 光明點燈節是泰國的傳統節日。 (X)
- () 5. 耶誕節是西洋的鬼節，這一天人們會穿著特別的服裝，營造喧譁吵鬧的氣氛。 (X)
- () 6. 臺東縣 關山鎮因為結合賽夏族矮靈祭與觀光資源，而成為東臺灣著名休閒景點。 (X)
- () 7. 臺南市 六甲區的林鳳國小，為發揚傳統文化，積極發展扯鈴活動。 (O)
- () 8. 我們應該賦予家鄉傳統生活新生命，使得家鄉美好的部分，永遠流傳下來。 (O)
- () 9. 在畫有圖框的地圖上，公園位在學校的左邊。所以依方向判斷，曉東從學校走到公園，應往西方走。 (O)
- () 10. 當地圖沒有方向標時，地圖圖框的上方是北方，那麼右方就是西方。 (X)

二、選擇題：(共 20 分)

- () 1. 下列哪一項不是中元節的傳統民俗活動？①搶孤②普渡亡靈③放水燈④放風箏。 (4)
- () 2. 原住民族的各種祭典，例如：豐年祭、五年祭等，具有什麼共同的含義？①紀念愛國詩人屈原②祈求生意興隆，財源滾滾③除舊布新，迎接新年④感謝天地，慶祝豐收。 (4)
- () 3. 下列哪一個傳統節日又被稱為「小過年」？①元宵節②重陽節③端午節④清明節。 (1)
- () 4. 傳統的節日與現代的節日有什麼不同？
①傳統節日會放假，現代節日不放假②傳統節日大多是農曆節日，現代節日多按陽曆安排③傳統節日比較沒意義，現代節日比較有意義④傳統節日比現代節日重要。 (2)
- () 5. 國際護師節是以哪一位國際名人的生日作為節日？①孔子②南丁格爾③沈芯菱④耶穌。 (2)
- () 6. 家鄉要發展出新的風貌，可以結合下列哪一項？①文化活動②觀光活動③傳統祭典④以上皆是。 (4)
- () 7. 下列何者不屬於發揚家鄉特色的文化活動？①白河蓮花季②阿美族豐年祭③萬

聖節遊行④客家桐花祭。 (3)

- () 8. 六十石山是下列何處的知名景點？①彰化縣 鹿港鎮②花蓮縣 富里鄉③屏東縣 東港鎮④臺南市 白河區。 (2)
- () 9. 下列有四種比例尺的地圖，在地圖上 1 公分的距離，何者代表的實際距離最遠？
- ①  ② 
- ③  ④ 。
- (4)
- () 10. 小方想要快速找到學校附近公園的所在位置，他閱讀地圖時，應該特別注意下列哪一項訊息？①圖名②圖例③地圖的紙質④比例尺。 (2)

三、排出正確的順序：(共 6 分)

1. 請把下列傳統節慶，依照一年的時間順序將 1、2、3、4、5、6 填入 () 中。
- (6) ①重陽節
(4) ②中元節
(2) ③清明節
(5) ④中秋節
(3) ⑤端午節
(1) ⑥春節

四、勾選題：(共 16 分)

1. 不同的地圖有不同的用途，請在敘述正確的□中打√。(4分)

- ①從航空照片圖可以看到表示實際景物的圖例符號。
- ②從臺灣河川分布圖可以了解河川分布的情形。
- ③如果要到墾丁玩，要參考臺北市街道圖。
- ④從臺灣行政區圖可以了解行政區的名稱及分布位置。

2. 關於地圖的相關敘述，請在正確的□中打√。(4分)

- ①比例尺是用來了解地圖的方向。
- ②方向標是用來了解地圖上兩點之間的實際距離。
- ③地圖的圖名通常選用圖中最重要的地名。
- ④地圖上表示實際景物的符號稱為圖例。

3.我們可以運用哪些方法，有效的保存傳統文化？請在□中打√。(4分)

①成立民俗文物館。

②學習欣賞西洋的藝術。

③成立歌仔戲學校。

④文化和產業結合，發展出家鄉特色。

4.我們應該以怎樣的態度看待家鄉文化？請在正確的□中打√。(4分)

①認為傳統就是好的，排斥新文化。

②保有家鄉優良傳統文化。

③適時結合傳統與現代的文化。

④死守傳統文化，不准有新的改變。

五、配合題：(共32分)

1.原住民族有自己的節慶，請選出下列各族的主要慶典活動，將正確的代號填在()中。(8分)

甲、布農族

乙、阿美族

丙、卑南族

丁、排灣族

(丙) ①大獵祭

(丁) ②五年祭

(乙) ③豐年祭

(甲) ④播種祭

2.請找出下列傳統節慶的習俗活動，將答案代號填入()中。(8分)

甲、掃墓祭祖

乙、抓田鼠、吟唱古老詩歌

丙、賞月、吃月餅和柚子

丁、賞花燈、吃元宵

戊、插艾草、配戴香包

己、合唱祈禱豐收歌

庚、登高、放風箏

辛、全家團圓、到親友家拜年

(辛) ①除夕、春節。

(甲) ②清明節。

(丁) ③元宵節。

(戊) ④端午節。

(庚) ⑤重陽節。

(丙) ⑥中秋節。

(己) ⑦播種祭。

(乙) ⑧大獵祭。

3.請將下列正確的答案代碼填入()中，答案不得重複。(16分)

甲、青年節

乙、醫師節

丙、開國紀念日

丁、婦女節

戊、母親節

己、工程師節

庚、勞動節

辛、行憲紀念日

①為了尊敬各行各業而定的節日(乙、己、庚)

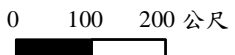
②為紀念國家的歷史和重大事件而定的節日(丙、辛)

③為尊重不同身分、不同階級的個人而定的節日(甲、丁、戊)

六、回答問題：(共6分)

1.請寫出兩項苗栗縣客家桐花祭的特色活動。(4分)

油桐花婚禮、油桐花餐、賞油桐花、推出有融入油桐花元素的木雕作品。

2.在比例尺  的地圖上，文山的住家到學校的實際距離是400公尺，請問地圖上的距離是幾公分？(2分)

4公分