

一、是非題：(每題2分，共30分)

- (0) 1. 臺灣有許多獨特的野生動植物，我們應該要好好珍惜。
- (X) 2. 垃圾分類工作太麻煩，我們可將垃圾直接丟到垃圾車裡，方便省事。
- (0) 3. 鄭叔叔工作後，每個月固定捐款給公益團體，不僅能幫助到人，帶給社會溫暖，也能提高金錢的價值。
- (0) 4. 先將收入扣除支出，剩餘的錢再作為儲蓄之用也是一種儲蓄方法，但缺點是如果支出的錢太多，就沒有剩餘的錢可以儲蓄。
- (X) 5. 沿海地區的溼地、潟湖、沙洲，土質鬆軟，應填上水泥，以防止地層下陷。
- (0) 6. 由於人們大量砍伐樹木，所以臺灣林地的面積減少許多。
- (0) 7. 雖然箱網養殖較困難，但是臺灣目前仍有不少地方在推廣，屏東縣恆春鎮就是一個例子。
- (X) 8. 為了獲得更多的金錢報酬，即使向銀行、親友借錢也要從事投資活動。
- (X) 9. 徐姐姐為了籌措半年後去澎湖玩的旅費，計算出每個月至少要存入一千元，所以她應該選擇「收入一支出＝儲蓄」的方法來存錢，這是積極的儲蓄方式。
- (X) 10. 沙洲、潟湖和溼地只提供魚蝦、水鳥棲息之處，對人類沒有好處，所以不必保留。
- (0) 11. 「儲蓄是金錢規畫之本」，也是學習理財最重要的事之一。
- (0) 12. 想要的東西不一定是生活中必要的東西，學習分辨「需要」和「想要」，可以幫助我們減少不必要的支出。
- (X) 13. 颱風主要發生在高緯度地區的海洋，所以臺灣不是位於颱風移動路線的要衝上。
- (X) 14. 臺灣每年西南季風帶來的豪雨，可以緩解旱象，也不會造成任何災情。
- (0) 15. 臺灣百合分布極廣，從海邊到高山都可以見到其美麗的蹤跡。

二、選擇題：(每題2分，共30分)

- (2) 1. 關於地震的敘述，下列何者錯誤？ ①發生的時間不固定 ②不會有災情發生 ③可能造成道路毀壞 ④有時會引發山崩。
- (4) 2. 凌淇檢查自己這個月的記帳明細，從自己的記錄中找出了一樣屬於「想要」而非「需要」的消費，提醒自己將來購物時要謹慎。請問他發現的可能是下列哪一項？ ①鮮奶 ②鉛筆 ③三角尺 ④卡通貼紙。
- (2) 3. 下列何者不是森林的主要功能？ ①提供動物棲息 ②建造球場 ③保護土壤 ④淨化空氣。
- (2) 4. 關於颱風的敘述，下列何者錯誤？ ①強風經常造成招牌掉落 ②颱風的行進路線

無法預測 ③可能引發水災，造成農業損失 ④容易使樹木傾倒或折斷。

- (4) 5. 下列哪一種產業，具有用地少、產值高的特色？ ①樟腦油的製作 ②吳郭魚的養殖 ③水稻的種植 ④蘭花的栽培。
- (3) 6. 下列哪一種做法可以預防或降低颱風帶來的災害？ ①多開墾山坡地種植經濟作物 ②房子蓋高一點 ③檢查排水溝是否保持通暢 ④搬到山地居住。
- (2) 7. 近年來，大地震發生時往往造成臺灣很嚴重的災情，下列哪一個不是主要的因素？ ①環境過度開發利用 ②科技發達 ③人們集中居住 ④人口眾多。
- (3) 8. 下列哪一項是人們使用手機記帳APP軟體，可以獲得的幫助？ ①記錄每筆收支金額都能獲得獎金 ②不需要設定年度的理財目標 ③能透過統計圖表了解各種消費的比例 ④所有消費都能讓銀行買單。
- (2) 9. 近年來，臺灣海域的魚類資源逐漸枯竭，下列何者不是導致這種現象的原因？ ①海洋生態遭到汙染 ②西部沿海蘊藏礦物資源 ③漁民過度捕撈 ④魚類棲地遭到破壞。
- (1) 10. 下列哪一個人的行為是投資自己、讓自己變得更好的做法？ ①仲祥在課餘時間學游泳 ②奇文向父母要更多零用錢 ③志成到百貨公司大買特買 ④純美蹺課到校外打工賺錢。
- (1) 11. 蔣叔叔打算在雲林開設工廠，他要注意哪一些事項，才不會遭到環保局取締？ (甲) 避免廢氣汙染 (乙) 避免廢水汙染 (丙) 避免種樹 (丁) 避免雇用太多員工 ①甲乙 ②甲丙 ③乙丙 ④丙丁。
- (3) 12. 下列哪一種做法可以帶給社會溫暖？ ①將錢放入聚寶盆中 ②把錢交給父母保管 ③將錢捐助需要幫助的人 ④拿錢購買金銀珠寶。
- (2) 13. 下列哪一項是造成山坡地水土流失更為嚴重的主要原因？ ①發展箱網養殖 ②過度開發山坡地種植作物 ③人們往平地遷移 ④排放汗水。
- (1) 14. 臺灣在哪兩個季節常受到颱風侵襲？ ①夏、秋 ②秋、冬 ③春、夏 ④春、冬。
- (2) 15. 強烈大地震往往會造成怎樣的災害？ (甲) 道路毀壞 (乙) 建物倒塌 (丙) 豪雨成災 ①甲丙 ②甲乙 ③乙丙 ④甲乙丙。

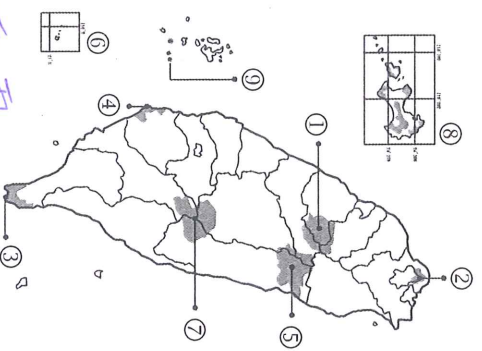
三、配合題：(每個答案1分，共22分)

1. 臺灣有各種資源，請依下列的敘述，將正確答案的

代號填入()中。

甲、臺灣黑熊 乙、大理石 丙、魚類

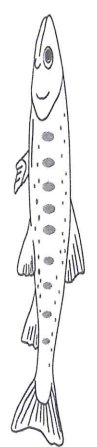
填入空格中：



- ① 雪霸 國家公園
- ② 陽明山 國家公園
- ③ 墾丁 國家公園
- ④ 台江 國家公園
- ⑤ 太魯閣 國家公園
- ⑥ 東沙環礁 國家公園
- ⑦ 玉山 國家公園
- ⑧ 金剛 國家公園
- ⑨ 澎湖南方澳 國家公園

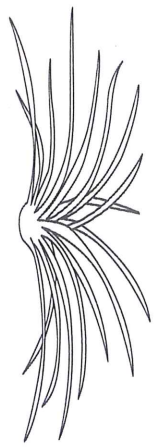
2. 下列圖片是臺灣的特有種，請寫出名稱。

① 分布在七家灣溪，有「國寶魚」之稱：櫻花鉤吻鮭



吻鮭

② 分布在陽明山國家公園的夢幻湖：台灣小斑



③ 為雜食性動物，胸前有明顯特徵：台灣黑熊



五、簡答題：(共 6 分)

※地震發生時，有 3 個步驟可以增加你的存活機率，請問是哪 3 個步驟？

以下，掩護，穩住。

丁、煤 戊、蝦貝類 己、臺灣水韭 庚、金
 (一) 花蓮縣重要的地方產業，除了作為建築材料，也發展出獨特的藝術文化：(乙)

(二) 主要分布在北部的礦物，早期產量較多，目前都已停止開採：(丁、庚)

(三) 臺灣特有的動植物，豐富臺灣生物多樣性：
 (甲、乙) (可複選)

(四) 人們重要的食物來源，受到生存環境汙染、過度捕撈影響，數量日漸減少：(丙、戊) (可複選)

2. 信源想要利用暑假來一趟臺灣資源之旅。請你根據他想要學習的資源類型，選出最適合的參觀地點填入空格中。

- 甲、黃金博物館
- 乙、彰化縣 鹿港鎮 崁尾灣
- 丙、奧萬大森林遊樂區
- 丁、阿里山
- 戊、新平溪煤礦博物館
- 己、野柳海洋世界

① 海洋資源：乙、己。

② 礦物資源：甲、戊。

③ 森林資源：丙、丁。

3. 有關臺灣國家公園的特色，請找出正確的答案將代號填入下方 () 中。

- 甲、陽明山國家公園
 - 乙、太魯閣國家公園
 - 丙、雪霸國家公園
 - 丁、金門國家公園
 - 戊、玉山國家公園
 - 己、墾丁國家公園
 - 庚、東沙環礁國家公園
 - 辛、台江國家公園
 - 壬、澎湖南方澳國家公園
- ① 國家公園內有火山的是 (甲)。
- ② 古有「月牙島」美稱的是 (庚)。
- ③ 國家公園內有臺灣第一高峰的是 (戊)。
- ④ 位於臺灣東部，擁有峽谷景觀的是 (乙)。
- ⑤ 位於離島，擁有史蹟和文化景觀的是 (丁)。
- ⑥ 我國第一個兼具生態、歷史和產業等資源特色的是 ()。
- ⑦ 國家公園內全區地形以高山及河谷為主的是 (丙)。

⑧ 包含東嶼坪嶼、西嶼坪嶼、東吉嶼、西吉嶼等，具玄武岩地質、海洋生態資源等特色的是 (壬)。

⑨ 我國第一座國家公園，園區內有美麗的珊瑚景觀的是 (乙)。

四、看圖回答問題：(每個答案 1 分，共 12 分)

1. 下圖是臺灣現今的九座國家公園，請把正確的名稱