

科目數	學年級	二年	班座號	姓名	家長簽章	得分
-----	-----	----	-----	----	------	----

一、選擇題：共 10 分 (每題 2 分)。

(2) (1) $2 \times 5 = 10$ 中，哪一個數是乘數？

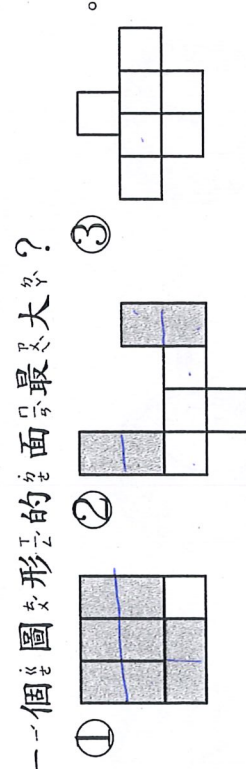
- ① 2 ② 5 ③ 10。

(2) 下面哪一個物品沒有平平的面？



- ① ㄅ ② ㄆ ③ ㄇ。

(1) (3) 1 個 和 2 個 一樣大，哪一個圖形的面積最大？



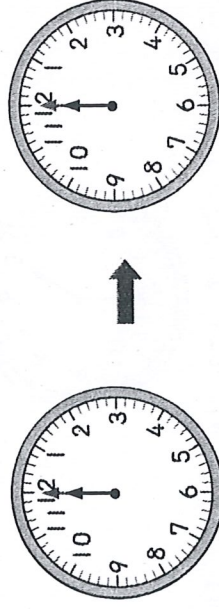
(2) (4) 7×4 代表的意思，下面哪一個敘述是不對的？

敘述是不對的。

- ① 7 有 4 個 ② 4 有 7 個 ③ 7 的 4 倍。

(2) (5) 社區停電從中午 12 時開始，到晚上 12 時才恢復電力，從中午 12 時到晚上 12 時經過了幾小時？

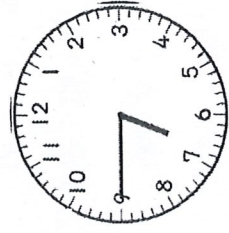
小時？



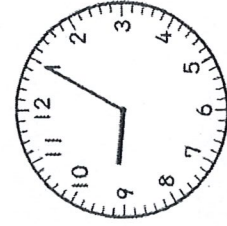
- ① 10 小時 ② 12 小時 ③ 24 小時。

二、鐘面上是幾點幾分？共 7 分 (每題 1 分)。

(1) 左圖是 (6) 時 (45) 分，分針再走 (3) 大格，會是 8 時。



(2) 左圖是 (9) 時 (5) 分，分針再走一圈，是 (10) 時 (5) 分。



三、填填看看：共 20 分 (每題 1 分)。

(1) 分針走 1 小格是 (1) 分鐘，走 1 大格是 (5) 分鐘。

(2) 分針走一圈時，時針會走 (1) 大格，是 (60) 分鐘，也就是 (1) 小時。6 有 7 個比 6 多 5 個多 (2) 個 6，是多 (12)。

(4) 7×8 可以說是有 (8) 個 7。

(5) 9×5 比 9×8 少 (3) 個 9，是少 (27)。

(6) $7 + 7 + 7 = (7) \times (3) = (21)$

(7) 巧玲有 25 元，姐姐有 36 元，兩人想合買一碗 85 元的拉麵，還不夠多少元？

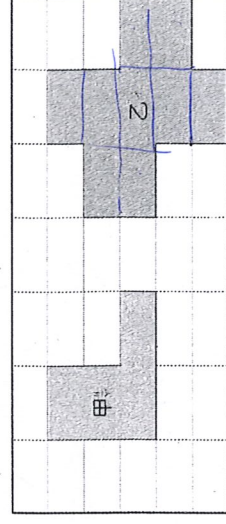
先算： $25 + 36 = (61)$

再算： $(85) - (61) = (24)$

答： (24) 元

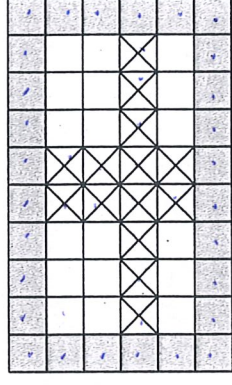
四、看圖填填看看：共 22 分 (每題 2 分)。

1.



甲圖和 (4) 個 一樣大，乙圖和 (9) 個 一樣大，(乙) 圖的面積比較大。

2.



(1) 有 (28) 個。

(2) 有 (14) 個。

(3) 有 (18) 個。

(4) (), () 的面積比較大，() 的面積比較小。

3. 比比看看，回答下面問題。



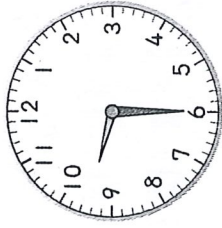
(1) ㄅ 圖的面積比 ㄆ 圖 (大), 小 (小)。

(2) ㄇ 圖的面積比 ㄆ 圖 (大), 小 (小)。

(3) 三張圖中，面積最大的是 (ㄅ) 圖。

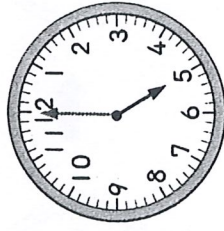
五、看圖做題看：共 9 分 (每題 1 分)。

1. 小梅辦生日慶祝會。



(1) 上午 9 點半，媽媽開始準備點心，媽媽做點心花了 60 分鐘，媽媽在 (10) 點 (30) 分完成點心。
 (2) 準備完點心後，小梅接著布置場地，也需要 1 個小時，這樣她來得及 12 點開始慶祝會嗎？
 () 來不及，() 來得及。

2. 媽媽從下午 5 時開始煮晚餐，煮好晚餐時，長針正好走了 8 大格。



(1) 媽媽花了 (40) 分鐘煮晚餐。
 (2) 媽媽煮好晚餐的時間是 (5) 時 (40) 分。

3. 媽媽從下午 1 時開始打掃，打掃到下午 5 時，共花了 (4) 小時。從打掃完到倒垃圾，分針走了 (25) 小格，經過 (25) 分鐘。

開始打掃



打掃完



倒垃圾



六、寫出算式，並計算看：32 分 (每題 4 分)

(1) 摩托車輪 1 個，車廂可以坐 4 個人，7 個車廂最多可以坐幾個人？

$$4 \times 7 = 28$$

答：(28) 個

(2) 媽媽買一包果凍，付了 9 個 5 元，一包果凍是幾元？

$$5 \times 9 = 45$$

答：(45) 元

(3) 樹上原有 26 隻小鳥，飛走了 14 隻後，又飛來了 22 隻，現在樹上有多少隻小鳥？

$$26 - 14 = 12$$

$$12 + 22 = 34$$

答：(34) 隻

(4) 妹妹堆積木，藍積木有 8 個，紅積木有 12 個，黃積木比藍積木多 15 個，黃積木比紅積木多幾個？

$$8 + 12 = 20$$

$$20 + 15 = 35$$

答：(35) 個

(5) 二年級丁班有女生 15 人，男生比女生少 6 人，全班共有幾個人？

$$15 - 6 = 9$$

$$15 + 9 = 24$$

答：(24) 個

(6) 麵包店早上賣出 25 個麵包，下午賣出 13 個麵包，還剩下 11 個麵包，麵包店原本有幾個麵包？

$$25 + 13 = 38$$

$$38 + 11 = 49$$

答：(49) 個

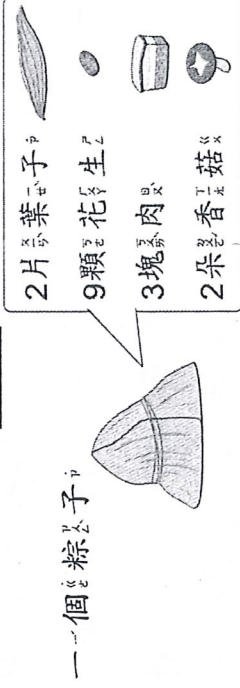
(7) 一盒水果禮盒有 3 個蘋果和 6 個水蜜桃，媽媽買了 8 盒禮盒，一共有幾個水果？

$$3 + 6 = 9$$

$$9 \times 8 = 72$$

答：(72) 個

(8) 奶奶要 9 個粽子



1. 需要幾顆？

$$9 \times 9 = 81$$

答：(81) 顆

2. 需要幾塊？

$$3 \times 9 = 27$$

答：(27) 塊