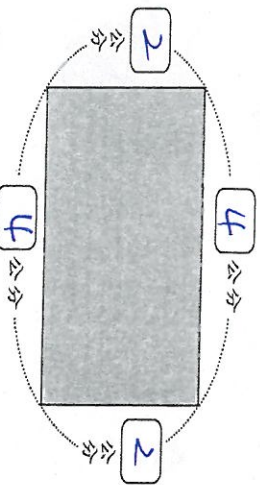


二年級甲班 座號： \_\_\_\_\_ 姓名： \_\_\_\_\_

一、看圖回答問題：每答 1 分，共 39 分

(一)題組：先量量看再回答問題。



(1)這是 長方 形。

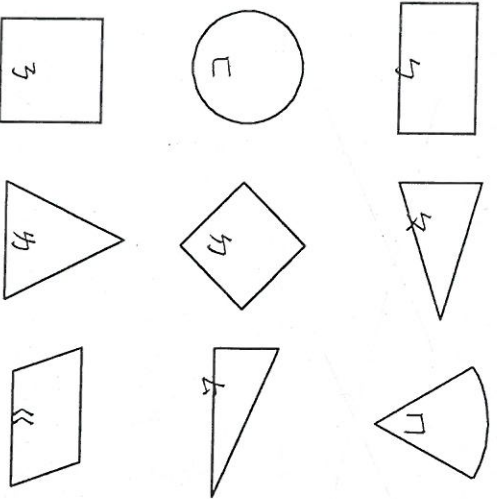
(2)這個圖形的周長是 12 公分。

(3)觀察上面這個圖形，你發現了什麼？  
 中間打  $\checkmark$ 。  
 有 3 個邊一樣長。  
 4 個邊都一樣長。  
 有 4 個頂點。

上下 2 個邊一樣長，左右 2 個邊一樣長。

(二) 1 盆花有 3 朵，  
 6 盆共有 18 朵。

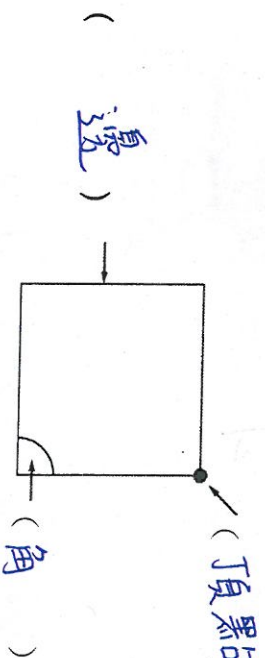
(三) 看圖回答下面問題，並將正確的答案填入 ( ) 裡：



(1) 哪些圖形是三角形？ (文) (乙) (丙)  
 (2) 哪些圖形有 4 個邊？ (丁) (戊) (己) (庚)




(四) 數一數右圖有 8 個角。



(五) 在 ( ) 裡填入邊、角或頂點：

(3) 沒有角的圖形是 ( □ )。

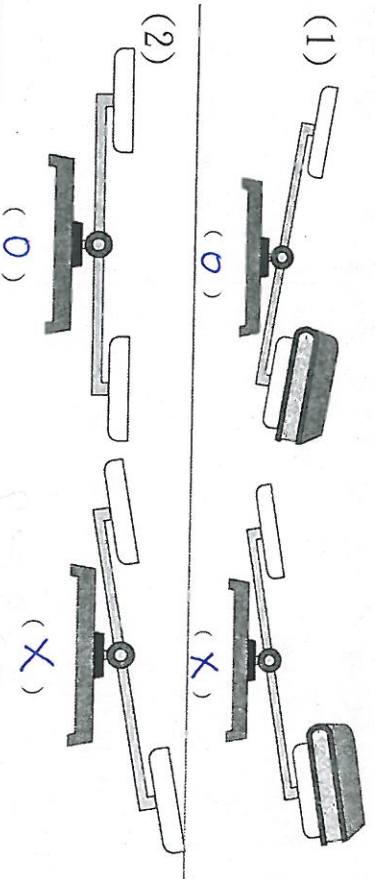
(六) 量量看，右圖的周長是 9 公分，這是 正三角 形。



(七) 比較重的打  $\checkmark$ ，比較輕的打  $\times$ ：

(1)	( $\checkmark$ ) ( $\times$ )	(2)	( $\checkmark$ ) ( $\times$ )
(3)	( $\checkmark$ ) ( $\times$ )	(4)	( $\checkmark$ ) ( $\times$ )

(八) 天平的位置是正確的在 ( ) 裡畫  $\bigcirc$ ，錯的打  $\times$ 。



(3) 鴨子比船重還要重 (  $\times$  )

