

一、選擇題：每格 1 分、共 5 分

- (2) 1. 「 $6 \times 8 = 48$ 」可以怎麼說？
 ① 6 個 8 是 48 ② 6 的 8 倍是 48 ③ 8 的 6 倍是 48
- (3) 2. 5 個 6 再加 4 上多少合起來會是 8 個 6？
 ① 30 ② 24 ③ 18
- (1) 3. 3 的 6 倍比 3 的 4 倍多幾個 3？
 ① 2 個 ② 3 個 ③ 4 個
- (3) 4. 袋子裡有 6 個盒子，每個盒子里裝了 3 個杯子，全部共有幾個杯子？
 ① 3 個 ② 9 個 ③ 18 個
- (1) 5. 如果想要將「 $3 + 3$ 」寫成乘法算式，應該如何表示？
 ① 3×2 ② 2×3 ③ 3×3

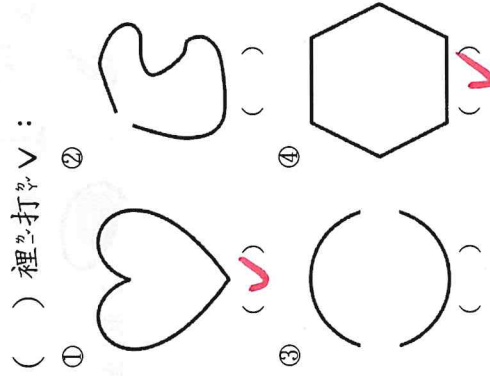
二、勾選題：每格 1 分、共 6 分

1. 哪一個周長比較長？在 () 裡打 \checkmark ：

裡打 \checkmark ：

- (\checkmark) ① 長邊 6 公分，寬邊 4 公分 的 長方形。
- () ② 長邊 7 公分，寬邊 2 公分 的 長方形。

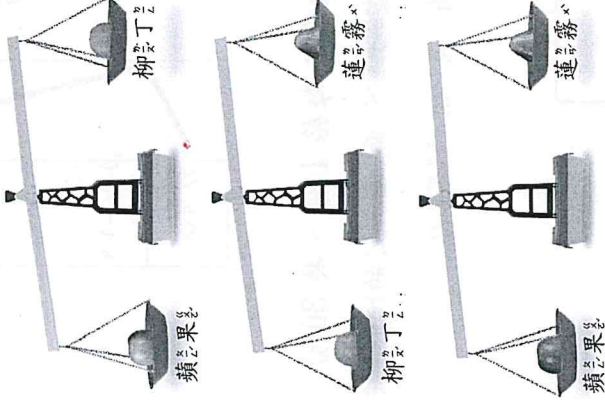
2. 下面哪些圖形有周界？在 () 裡打 \checkmark ：



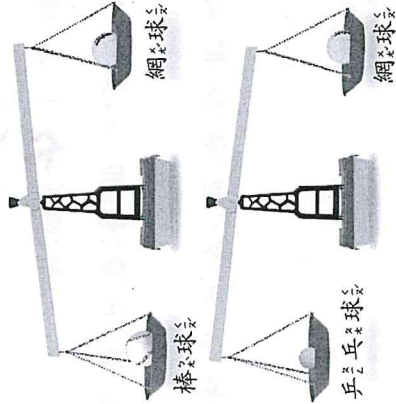
三、比比看：每格 2 分、共 20 分

1. 比一比，在 () 裡填 $>$ 、 $<$ 或 $=$ ：
 (1) 6×7 ($>$) 40
 (2) 6×4 ($<$) 30
 (3) 3×8 ($=$) 6×4
 (4) 9×3 ($=$) 3×9

2. 比比看，哪一個水果最重？(**蘋果**)



3. 最重的在 \square 中打 \checkmark ，最輕的畫 \bigcirc ：



網球	乒乓球
\checkmark	\bigcirc

4. 平平的體重比安安重，安安的體重比美美重，回答下面問題：

重比美美重，回答下面問題：

(**平平**) 的體重最重，
 (**美美**) 的體重最輕。

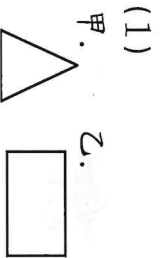
四、連連看：每答1分、共5分

1. 把答案和一樣式的連線起來：

①		7. 3×5
		女.
②		$4+4+4$
		17. 8×5
③		女.
		$3+3+3+3+3$
		7. 4×3

五、看圖做做看：每格1分、共30分

1. 用色筆畫出下面圖形形的頂點點，並寫出共有幾個頂點點？




(1) 三角型形有(3)個邊。

(2) 長方形形有(4)個邊。


(3) 甲和乙，哪一個邊數比較多？
(2)

2. 圈出下面圖形形的角，並回答問題：
(1)



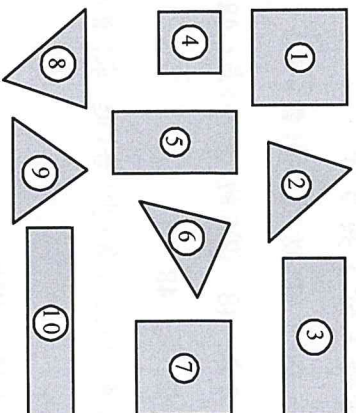
這是(四方)形，有(4)個邊、(4)個頂點點和(4)個角。

(2)



這是(三角)形，有(3)個邊、(3)個頂點點和(3)個角。

3. 看圖回答問題：



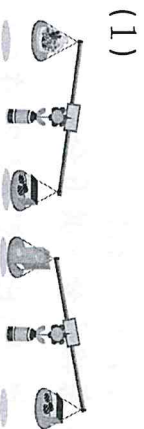
(1) 哪些圖形是三角型形？
(2. 6. 8. 9)

(2) 哪些圖形是正方形？
(1. 4. 7)

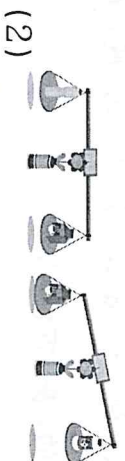
(3) 哪些圖形是長方形？
(3. 5. 10)

(4) 3個邊都一樣長的三角型形叫()。

4. 看圖圈圈看：

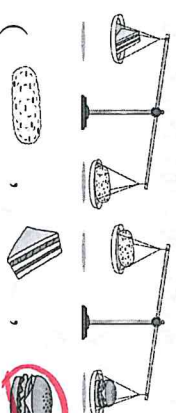


() 最重




() 比較重


5. 看圖圈圈看：





() 最重



6.

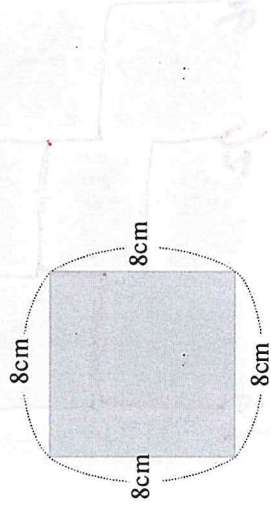
(1) 1 個  和 (5)  罐 一 樣 重。

(2) 1 顆  和 (4)  罐 一 樣 重。

(3)  和  ， 哪 一 個 比 較 重 ？

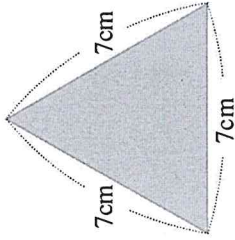


7. 算出下面圖形形的周長。



答：(32cm)

8. 算出下面圖形形的周長。



答：(21cm)

六、多餘條件分布題：

應用題，每題 2 分，共 28 分。

1. 有 7 個人玩踩氣球遊戲，每個人腳上綁 3 個氣球，手上綁 2 條緞帶，共需要幾個氣球？把做法用乘法算式記下來。

A: 21 條

2. 1 盤牛肉有 3 串，每盤賣 30 元，9 盤共需要幾串？把做法用乘法算式記下來。

A: 27 串

3. 1 個甜筒有 3 球冰淇淋，每個賣 10 元，爸爸買了 5 個甜筒，共有幾球冰淇淋？把做法用乘法算式記下來。

A: 15 球

4. 1 枝風車有 6 片葉片，3 種顏色，4 枝風車共有幾片葉片？把做法用乘法算式記下來。

A: 24 片

5. 1 盒蠶寶寶有 6 隻，每盒放 3 片桑葉，大明有 5 盒，他共養了幾隻蠶寶寶？把做法用乘法算式記下來。

A: 30 隻

6. 1 塊積木長 6 公分，1 塊賣 5 元，7 塊積木接起來，共長幾公分？把做法用乘法算式記下來。

A: 42 cm

7. 摺 1 顆星星需要 7 公分的紙，摺 30 顆星星可裝成 1 盒，摺 8 顆共需要幾公分的紙？把做法用乘法算式記下來。

A: 56 cm

8. 1 束玫瑰有 7 朵，每朵 10 元，4 束共有幾朵玫瑰？把做法用乘法算式記下來。

$A: 28 \text{ 朵}$

9. 今年爸爸的年齡剛好是弟的 5 倍，妹妹的 7 倍，弟今年 7 歲，爸爸今年幾歲？把做法用乘法算式記下來。

$A: 35 \text{ 歲}$

10. 分組遊戲時，1 組有 9 個人，每組分到 1 個布袋和 2 顆球，3 組共有幾個人？把做法用乘法算式記下來。

$A: 27 \text{ 人}$

11. 5 樓視聽教室的椅子有 7 排，每排有 9 個座位，共有幾個座位？把做法用乘法算式記下來。

$A: 63 \text{ 個}$

12. 1 個蘋果賣 10 元，9 個蘋果裝 1 盒，5 盒蘋果裝 1 箱，1 箱共有幾個蘋果？把做法用乘法算式記下來。

$A: 45 \text{ 個}$

13. 1 個蛋糕長 9 公分，小安在長 65 公分的桌上排了 6 個，共排了幾個公分？把做法用乘法算式記下來。

$A: 54 \text{ cm}$

- 14 小玉拿了 1 個長 6 公分的橡皮擦量書包的長，共量了 9 次，量繪本本的長，共量了 5 次，繪本本長幾公分？把做法用乘法算式記下來。

$A: 30 \text{ cm}$

七、素養題

看圖填填看看：每答 2 分，共 6 分

1. 往下走，遇到轉彎就只要轉，並將算出的答案加起來填在空格中：

