

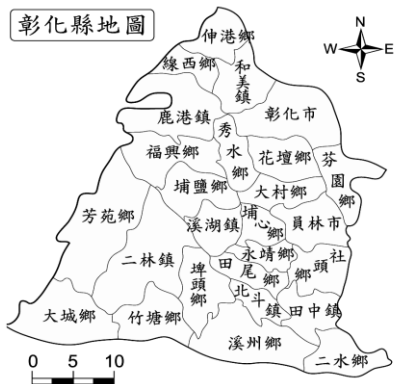
四年\_\_班 座號：\_\_ 姓名：\_\_\_\_\_ 分數：\_\_\_\_\_

一、是非題：20分(每題2分)

- (X) 1. 天氣是一個地方長時間的氣象表現。
- (O) 2. 臺東縣 蘭嶼鄉的半穴居，除了冬暖夏涼外，還可防避強風。
- (X) 3. 閱讀家鄉的行政區域圖，可以了解家鄉地形起伏的狀態。
- (O) 4. 埔心，是開墾「埔」地中「心」地帶的村莊。因此，可以推論「埔心」地名的由來與地理位置有關。
- (O) 5. 我們常用°C來表示現在的溫度。
- (O) 6. 居民會因為不同的氣候條件，興建不同的建築、種植不同的農作物。
- (X) 7. 新竹 新埔盛產柿餅，這項特產與當地多雨的氣候特徵有關。
- (X) 8. 山地地區容易發展成為人口密集、商業活動發達的都市。
- (X) 9. 沿岸邊的居民在近海處設置「箱網」，主要是用來捕捉海鳥。
- (X) 10. 澎湖人以珊瑚礁砌「菜宅」，主要是為了防範害蟲啃食農作物。

二、選擇題：20分(每題2分)

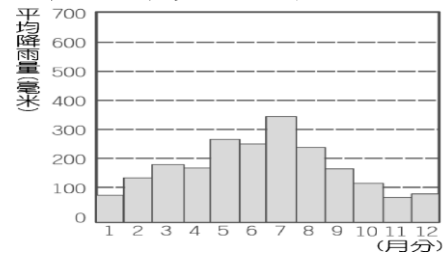
- (1) 1. 彰化縣位在哪一種地形上，易於種植稻米，因此有「台灣穀倉」之稱？ ①平原 ②盆地 ③丘陵 ④山地。
- (1) 2. 點點看著地圖，發現家鄉有學校、古蹟、橋梁……。請問點點是從哪個地圖工具中知道的？ ①圖例 ②比例尺 ③方向標 ④圖名。
- (3) 3. 從下面這張地圖可以看出彰化縣位在臺灣哪裡嗎？



- ①可以，這是一張行政區域圖 ②可以，因為圖中有方向標 ③不可以，因為它不是一張完整的臺灣行政區域圖 ④可以，因為它有標示出彰化各鄉鎮名稱。
- (3) 4. 君君住在臺灣北部，有關當地氣候的描述，下列何者正確？ ①夏天冷，冬天熱 ②一年四季都很熱 ③夏天熱，冬天冷 ④一年四季都很冷
- (4) 5. 下列哪一項因素可能會影響家鄉居民的生活？(甲)氣溫 (乙)地形 (丙)雨量 ①甲乙 ②甲丙 ③乙丙 ④甲乙丙。

- (3) 6. 小華自助旅行來到彰化火車站，他想知道走哪一條路可以到達彰化孔子廟，他可以查閱下面哪一種地圖？ ①彰化縣地形圖 ②臺灣行政區域圖 ③彰化縣觀光導覽圖 ④彰化縣衛星影像圖

- (3) 7. 下圖為某地的雨量變化圖，由圖中可以發現，該地降雨量最多的是哪一個月分？



- ① 1月 ② 5月 ③ 7月 ④ 12月。

- (3) 7. 從下表，我們可以知道家鄉什麼資料？

月分	月均溫	平均降雨量	風向
1月	17°C	31 mm	西北
2月	14°C	18 mm	北

- ①地形 ②地名 ③氣候 ④水源。

- (4) 8. 天氣變化會影響人們的生活，但不包括下列哪一項？ ①水庫缺水，實施限水政策 ②寒流來襲，養殖漁業損失慘重 ③降雨量充足，農作物收成良好 ④地震造成人們生命財產的損失。
- (2) 9. 下週小楷要到花蓮旅行，出發前他可以到下列哪一個單位的網站查詢未來一週的天氣預報，作為規畫行程的參考？ (①中央銀行 ②中央氣象局 ③中央健康保險署 ④中央選舉委員會)
- (1) 10. 下列哪一項不是居民配合季節規畫的活動？ (①到公園欣賞日落美景 ②花季時出遊賞花 ③到海邊戲水消暑 ④寒流來襲時到溫泉區泡湯取暖)。

三、連連看: 12分(每小題1分)

- 1. 請依照地圖類別與可觀察的相關內容連起來。

- (1)地形圖 • A. 道路及建築物分布情形
- (2)行政區域圖 • B. 地表高度的起伏情形
- (3)觀光導覽圖 • C. 鄉鎮市區範圍及鄰近縣市
- (4)衛星影像圖 • D. 鄉鎮市的觀光資源分布

- 2. 請將下列家鄉地名的由來與相關原因連起來：

- (1)自然景觀 • ㄉ. 臺東縣 卑南鄉
- (2)當地常見植物 • ㄆ. 高雄市 鼓山區
- (3)軍隊駐紮 • ㄓ. 臺南市 新營區
- (4)原住民聚落 • ㄊ. 彰化縣 埤頭鄉
- (5)灌溉設施 • ㄎ. 嘉義縣 鹿草鄉

3. 因應地形限制，下列地區最有可能種植或從事的產業為何？

- (1) 沿海邊 ● 甲. 種植蔬菜、果樹  
 (2) 山區 ● 乙. 設立商業區、建造工廠  
 (3) 平地 ● 丙. 養殖水產或水產加工業

四、配合題：44分

1. 下列哪些方法可以幫助我們了解家鄉氣候的特徵？正確的請打✓： 8%

- (✓) (1) 長期觀察並記錄家鄉氣溫變化。  
 (✓) (2) 養成每天收看新聞氣象報導的習慣。  
 (✓) (3) 上中央氣象局網站，查詢家鄉氣候的資料。  
 ( ) (4) 記錄一個星期內，家鄉的雨量多寡。

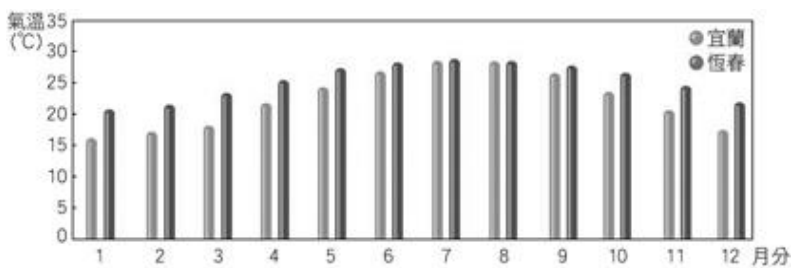
2. 請將下列的地形特徵示意圖，填入適當的( )中，並將正確描述連起來。 10%



- (丁) (1) 丘陵 ● ㄅ. 地勢高且起伏較大  
 (乙) (2) 山地 ● ㄆ. 地勢平坦寬廣  
 (甲) (3) 平原 ● ㄇ. 中間低平，四周地勢較高  
 (丙) (4) 盆地 ● ㄏ. 頂部平坦、四周坡度較陡  
 (戊) (5) 臺地 ● ㄉ. 地勢較平緩的起伏地面

3. 下列是宜蘭、恆春的月平均氣溫圖，請把正確的代號填入適當的( )中。 4%

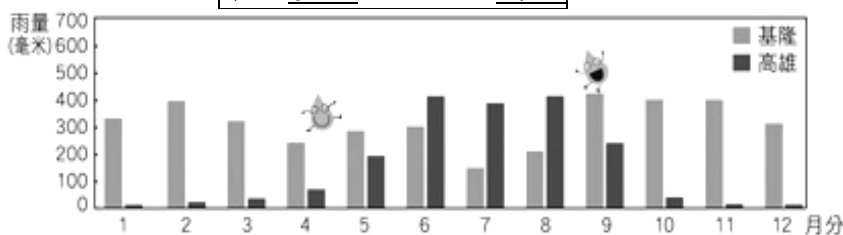
甲、宜蘭 乙、恆春



- (1) 夏熱冬冷的是( 甲 )。  
 (2) 四季都很炎熱的是( 乙 )。

4. 下列是基隆、高雄各月平均雨量圖，請把正確的代號填入適當的( )中。 4%

甲、基隆 乙、高雄



- (1) 夏季多雨，冬季少雨的是( 乙 )。  
 (2) 一年四季都是多雨氣候的是( 甲 )。

5. 不同的建築型態主要是居民為了順應氣候而設計的，請將符合的代號填入( )裡： 10%

- ㄅ. 排水 ㄆ. 防水 ㄇ. 防風

- ( ㄅ ) 1. 「宜蘭厝」的屋頂由屋脊中央向兩側傾斜。  
 ( ㄇ ) 2. 連江縣 北竿鄉 芹壁地區的傳統建築多採小門窗設計。  
 ( ㄇ ) 3. 臺東縣 蘭嶼鄉居民建造只有屋頂露出地面的半穴屋。  
 ( ㄆ ) 4. 新北市 瑞芳區 九份地區部分居民以油毛氈作為屋頂的材料。  
 ( ㄇ ) 5. 澎湖地區房屋的大門多設置在背風處。  
 6. 請看圖找出正確的代號，並填入A~D： 8%

	(1) 圖 例: ( C ) (2) 比例尺: ( D ) (3) 圖 名: ( A ) (4) 方位標: ( B )
--	--

五、閱讀題：4分(每格2分)

南投縣的鹿谷鄉是臺灣重要的產茶區，聞名全臺的「凍頂烏龍茶」，其發源地就在鹿谷鄉的凍頂山。凍頂山海拔740公尺，年均溫攝氏25度，經常有薄霧籠罩，在氣溫、溼度適宜的情況下，加上土質佳，讓這裡成為利於茶樹生長的絕佳環境。請問：

- ( ③ ) 1. 從上面的敘述內容，可以知道茶樹適合種植在下列哪一種地形上？ ①山地 ②盆地 ③丘陵 ④平原。  
 ( ② ) 2. 在臺灣，類似鹿谷鄉這樣的地形，近年來居民也漸漸發展成哪一種生活方式？ ①發展箱網養殖 ②經營休閒農場、民宿 ③建高樓大廈 ④發展賞鯨豚活動。

