


一、看圖回答問題(1~7 題 1 格 1 分)

1. 文興國中來學校報佳音，每一班得到很多糖果，請把糖果 10 個、10 個圈起來。(4%)




全部有 (26) 顆糖果。
吃掉 1 顆，還有 (25) 顆糖果。
再吃掉 1 顆，還有 (24) 顆糖果。

2. 聖誕節媽媽買了一堆裝飾球要掛在聖誕樹上，請把 10 個、10 個圈起來。(4%)

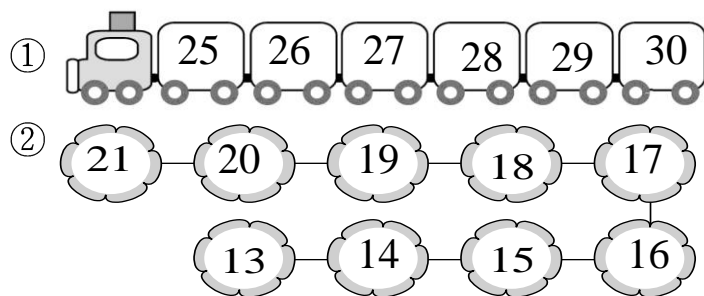


袋子裡已經有 (25) 顆球。
放進 1 顆，有 (26) 顆球。
再放進 1 顆，有 (27) 顆球。


3. 把答案為 6 的圈起來。(4%)



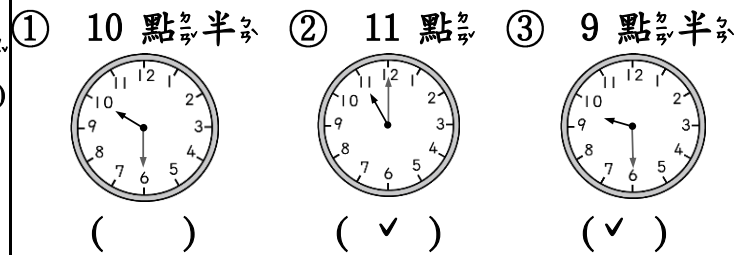
4. 按照數的順序填填看。(8%)



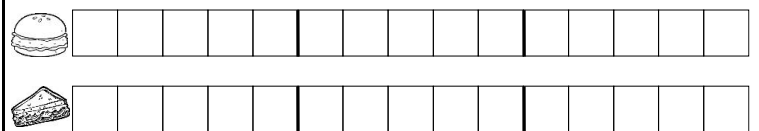
5. 用 1、2、3 表示事情發生的先後順序。(3%)



6. 請在正確的時鐘上打勾。(3%)

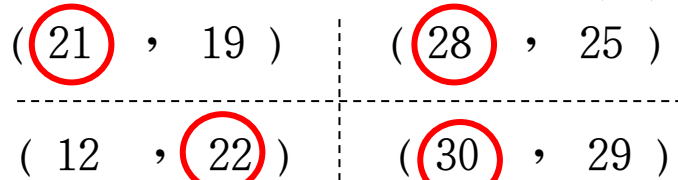


7. 早餐店今天賣出了 14 個漢堡和 12 個蛋糕，畫○比一比，再回答問題。(4%)




① 12 個比 14 個多還是少?(少)
② 哪一個賣出比較多?
(蛋糕 , 漢堡)

8. 把比較大的數圈起來。(8%)



9. 運動會時，小朋友排隊買棉花糖。(12%)



① 全部有 (24) 個小朋友。小可
② 小可排在第 (11) 個。
③ 小可排在第 (15) 個，他的前面排了 (14) 個小朋友。
④ 誰排在第 19 個? 請把他圈起來。
⑤ 小翔說他的前面有 22 個人，小翔排在第 (23) 個。

10. 圈出第 23 棵聖誕樹。(2%)

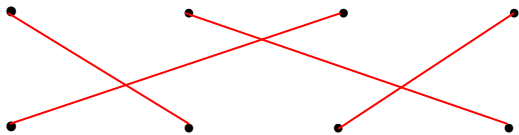



11. 數一數, 比一比, 再圈一圈看。(6%)



- ① 有 (14) 隻聖誕襪, 有 (15) 個薑餅人。
- ② 薑餅人比聖誕襪 (多), 少。

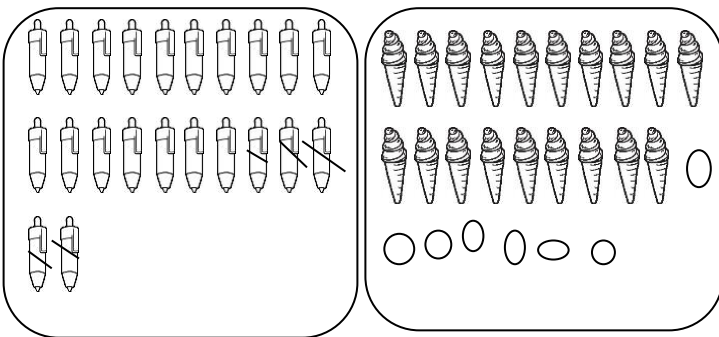
12. 連連看, 把正確的時鐘連起來。(8%)



- 4 點半
- 9 點
- 2 點
- 11 點半

13. 數一數, 多的畫掉, 不夠的畫○補上。(4%)

- ① 17 個
- ② 26 個

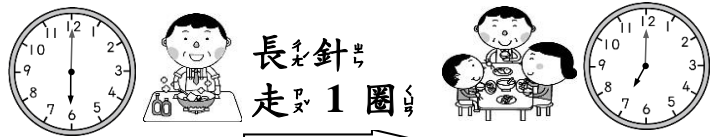


14. 冬至時, 凱凱已經吃了 3 碗湯圓, 再吃幾碗, 凱凱就會吃了 8 碗湯圓?(2%)



再吃 (5) 碗

15. 看圖填填看。(2%)



下午 6 點

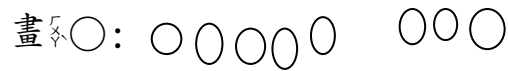
下午 (7) 點

二、算算看看: 12%

- ① $5+3=(8)$
- ② $7-3=(4)$
- ③ $8-0=(8)$
- ④ $9-9=(0)$
- ⑤ $6+4=(10)$
- ⑥ $10-2=(8)$

三、畫○算算看看, 再用算式記下來。(8%)

1. 牆上原有 5 隻貓在曬太陽, 又來了 3 隻貓, 牆上現在共有幾隻貓?



算式: $5+3=8$

共有 (8) 隻貓。

2. 桌上有 10 杯飲料, 來了 7 個小朋友, 每人拿走 1 杯, 桌上現在有幾杯飲料?



算式: $10-7=3$

有 (3) 杯飲料。

四、寫出算式做做看。(6%)

1. 一盒大草莓有 3 顆, 媽媽買了 2 盒, 共有幾顆草莓?

$3+3=6$

共有 (6) 顆

2. 園遊會射氣球攤上綁了 7 顆氣球, 小莉射了一籃飛鏢, 結果都沒射中, 現在攤位上還有幾顆氣球?

$7-0=7$

還有 (7) 顆