

五年_____班 座號：_____ 姓名：_____

一、是非題：(每題 2 分，共 32 分)

- () 1. 挑擔奉飯的活動是閩南人用扁擔、竹箕擔著美食，感謝祖先保衛家園的忠義精神。✗
- () 2. 小智寒假到金門旅遊，他會看到許多以紅磚、紅瓦為建材的閩南式建築，是當地重要的文化資產。○
- () 3. 淡水河上游的曾文水庫，供應臺北市與部分新北市地區的用水，並具有發電功能。✗
- () 4. 澎湖位於太平洋上，夏天陽光炙熱，冬天海風強勁。✗
- () 5. 警察發現有人違規闖紅燈，對駕駛人開出罰單，是一種公權力的展現。○
- () 6. 倫理道德是指人與人之間合宜的相處方式，以及判斷是非善惡的標準。不同的族群也可能重視相同的倫理道德。○
- () 7. 漢人的成年禮「做十六」，這是屬於宗教信仰的社會規範。✗
- () 8. 國小開辦課後照顧班是依據兒童及少年福利與權益保障法。○
- () 9. 社會規範是固定不變的，我們不可以任意調整。✗
- () 10. 曾是全臺最長橋梁的西螺大橋，橫跨了濁水溪，連結彰化縣與雲林縣兩地。○
- () 11. 部分河川失去原本運輸的功能，是因為下游河道發生淤積的情形。○
- () 12. 文豪爬到公園滑輪場的欄杆上玩，因重心不穩而受傷，可以要求國家賠償。✗
- () 13. 臺灣南北降雨大不同，北部四季有

雨，南部在冬季時乾燥少雨。○

- () 14. 夏季時，受東北季風及颱風影等影響，全臺普遍溼熱多雨。✗
- () 15. 透過參加臺南「扛芟走溪流」的活動，我們可以體驗先民過去因應旱災的生活方式，了解氣候災害對生活空間的影響。✗
- () 16. 由於臺灣河川分布多呈現東西流向，阻礙居住在平地的先民往北或往南的拓墾與發展。○

二、選擇題：(每題 2 分，共 32 分)

- () 1. 一艘船從台中港出發，順時針航行臺灣島一圈回到台中港，請問從出發地算起依序經過的海域為何？
A. 巴士海峽 B. 東海 C. 臺灣海峽
D. 太平洋 ① CDBAC ② ACBDA
③ **CBDAC** ④ DACBD。
- () 2. 有關臺灣地理位置的敘述，下列何者**錯誤**？①在菲律賓的北邊 ②在中國的東邊 ③在南韓的南邊 ④在亞洲的西部。
- () 3. 玩很大旅行社規劃了一系列臺灣東邊太平洋上的周邊島嶼行程，下列哪個島嶼**不會**出現在行程之中？①蘭嶼 ② **澎湖群島** ③ 綠島 ④ 龜山島。
- () 4. 下列哪一項社會規範具有強制性？
① 宗教信仰 ② 風俗習慣 ③ **法律** ④ 倫理道德。
- () 5. 關於阿美族成年禮的資料，下列何者**有誤**？①每八年舉行一次 ② **孩子會以爬行的方式鑽出七娘媽亭** ③ 通過考驗後，男生們會披戴上家人製作的大羽冠 ④ 參加成年禮的孩子或青少年，需通過越野長跑等考驗，以行動證明自己。

五年__班 座號：__ 姓名：__

- () 6. 下列哪一位不是兒童及少年福利與權益保障法保障的對象？①19歲的胖虎②17歲的靜香③7歲的大雄④12歲的小夫。
- () 7. 政府修改姓名條例，讓原住民族能夠恢復傳統名字。姓名條例屬於下列哪種社會規範？①法律②風俗習慣③倫理道德④宗教信仰。
- () 8. 大稻埕、艋舺、大溪等城鎮的形成是因為哪一條河川水運興起的關係？①愛河②高屏溪③立霧溪④淡水河。
- () 9. 臺灣的河川大多發源於山地，因此具有什麼特性？①坡度緩、水流急②坡度緩、水流慢③坡度陡、水流急④坡度陡、水流慢。
- () 10. 下列哪一項不是水庫的功能？①發電②儲水③保護生態環境④灌溉。
- () 11. 下列哪一個氣候因素，不是造成臺灣每年五月至九月之間，發生豪雨的原因？①西南季風②東北季風③颱風④梅雨。
- () 12. 關於高雄地區的氣候特色，下列敘述何者正確？①全年不下雨②全年雨量較臺北多③冬季多颱風④夏季雨量較冬季多。
- () 13. 下列哪一項不是形成良好製鹽場地的因素？①廣大的土地②充足的日照③豐沛的雨量④強勁的風力。
- () 14. 社會上的風俗習慣大多是如何形成的？①人民投票決定②政府制定③法律規定④約定俗成。
- () 15. 下面哪一項行為可能已經違法？①擅自拍攝路人照片，上傳到網路②捷運上不讓座給老人③上學遲到④購買正版的遊戲。

- () 16. 在山勢陡峭的地區，遇到豪雨來襲，有時泥沙和土石會隨著洪水傾瀉而下，容易形成什麼現象？①沙塵暴②土石流③龍捲風④地震。

三、配合題：(每答1分，共10分)

1. 河川上中游和下游周邊有著不同的土地利用和生活空間樣貌，請依題意填入正確的代號：

A. 水庫 B. 農田及魚塢 C. 自然保留區
D. 森林遊樂區 E. 工廠及住宅區

(1) 上游、中游：(A C D)

(2) 下游：(B E)

2. 下列各項敘述分別屬於哪一種社會規範？請填入正確的代號：

甲、風俗習慣 乙、倫理道德
丙、宗教信仰 丁、法律

(1) (乙) 在捷運上，讓座給長輩。

(2) (甲) 日本人吃湯麵時，會特意發出響亮的吸麵聲。

(3) (丙) 「人在做天在看」，善惡有報。

(4) (丁) 騎乘機車時戴安全帽。

(5) (甲) 西方人以擁抱來打招呼。

四、勾選題：(每答1分，共10分)

1. 下列有關愛河變遷的敘述，請在正確的() 中打√。

(1) (√) 過去具備水上運輸的功能。

(2) () 沿岸形成的市街有大稻埕、艋舺、大溪等。

(3) (√) 過去曾運送木材、水泥等工業材料。

(4) () 過去曾運送茶葉、樟腦等物產。

(5) (√) 目前仍持續整治中。

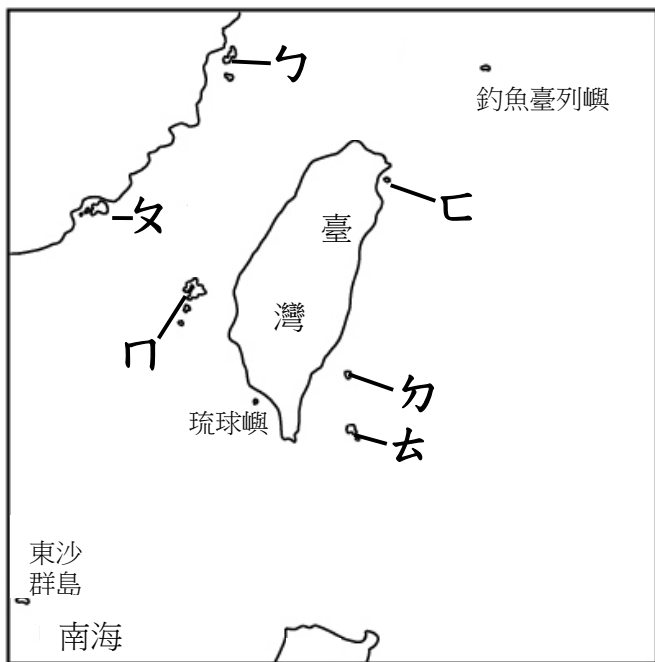
2. 在網路上進行什麼行為時，要尊重著作權？

請在正確的()中打✓。

- (1) (✓) 轉貼他人的文章。
- (2) () 網路購物。
- (3) () 觀看新聞。
- (4) (✓) 分享別人的圖片。
- (5) (✓) 使用他人的影音檔案。

五、題組：(依配分，共 16 分)

1. 宇晴在圖書館翻閱臺灣地理故事繪本，書中有一張臺灣地圖，她想從地圖中找到臺灣周圍島嶼的名稱，請你協助她回答下列問題。
(每格 1 分，共 6 分)



(1) 地圖中的ㄅ~ㄋ分別代表臺灣的周邊島嶼，請依據位置判斷各島嶼名稱，將正確的代號填入()中。

- ① 金門列嶼：(ㄊ)
- ② 馬祖列嶼：(ㄅ)
- ③ 蘭 嶼：(ㄋ)
- ④ 綠 島：(ㄆ)
- ⑤ 龜山島：(ㄇ)
- ⑥ 澎湖群島：(ㄅ)

五年__班 座號：__ 姓名：__

2. **圖 1**

基隆各月平均降雨量圖
(西元 1991~2020 年)

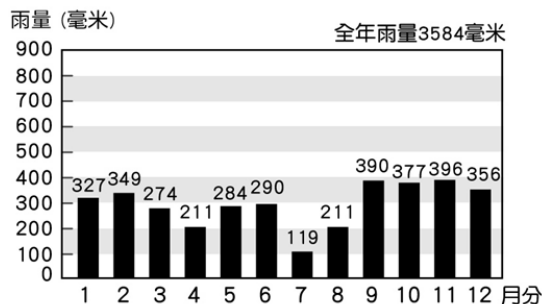
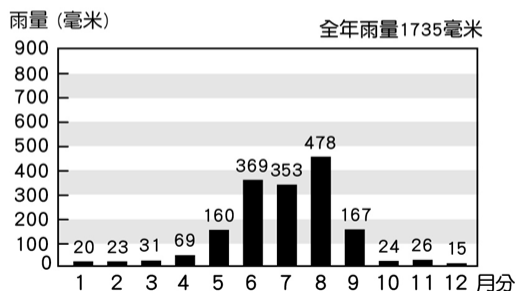


圖 2

臺南各月平均降雨量圖
(西元 1991~2020 年)



(1) 上方圖 1 和圖 2 是基隆及臺南的雨量統計圖。請根據兩張統計圖來判斷下列有關兩地的降雨情形和影響。下列敘述正確的打○，錯誤的打×：(每題 2 分，共 10 分)

- ① (○) 基隆的年雨量較臺南多。
- ② (×) 基隆比臺南更適合從事戶外活動。
- ③ (×) 基隆夏季有雨，冬季乾燥。
- ④ (○) 臺南雨量集中在五月到九月。
- ⑤ (×) 冬季基隆比臺南雨量多，是因為臺灣冬季吹西南季風。

試題結束，請細心檢查；
三張考卷都請寫上名字。