





科目	社會	使用級	四年甲班	座號	姓名	得分
----	----	-----	------	----	----	----

一、是非題：每題 2 分，共 24 分


- (X) 臺南的西拉雅族在壺、罐裝入清水，插上一炷香，來表達對鬼神的崇拜。
- (O) 家鄉的地名可能會隨著時代的變遷而有所改變。
- (O) 從早期的器物可以充分展現先民適應環境，以及就地取材的生活智慧。
- (O) 「聚落」是指人類集中居住生活的場所。
- (O) 「巴拉冠」是卑南族人聚會與學習的場所。
- (X) 這幾天寒流來襲，恩佑學卑南族人用語要爸爸載全家人去「Ulay」，就是要去泡溫泉的意思。
- (O) 「田頭田尾土地公」這句諺語描述土地公在民間信仰普及的狀況。
- (X) 「銃眼」是早期先民為了防禦敵人，用來觀察敵人的眼鏡。
- (O) 埤塘、水圳是先民為了提供生活用水、灌溉農田而興建的水利設施。
- (X) 阿文家附近原本有一條清澈的小溪，近來工廠任意排放廢水汙染了河川，但是為了經濟繁榮，只好默默忍受。
- (O) 文物的保存，需要鄉民與地方文史工作者的用心蒐集、維護。
- (O) 我們可以從流傳下來的古地圖，了解早期先民生活的地形環境與聚落分布情況。

二、選擇題：每題 2 分，共 32 分

- (3) 佳庭是負責觀測風向的研究員，她每天最常接觸的工具是下面哪一項？
①溫度計 ②氣壓計 ③風向風速儀 ④雨量計
- (2) 柏宇跟同學說，他的祖先以前的生活主要是以捕魚或打獵為主，而他們的信仰則是以祖靈和自然崇拜為主，你覺得柏宇的祖先應該是哪一族人？
①漢人 ②原住民 ③日本人 ④客家人
- (1) 哪一個是西方傳教士所傳入的宗教建築？
①教堂 ②私塾 ③巴拉冠 ④廟宇
- (2) 這次颱風來襲帶來豐沛的雨水，家鄉的降雨量約有 800 mm，請問下列數據是透過什麼儀器知道的？
①體溫計 ②雨量計 ③風向風速儀 ④溫度計
- (4) 阿忠曾在去年到過臺灣望族家以前招待貴賓的居所參觀，請問他應是去哪個地方參觀？
①臺東卑南遺址公園 ②臺南赤嵌樓 ③臺南西拉雅文化會館 ④彰化鹿港民俗文物館

- (3) 下列哪一種早期的器物不是用竹材製作的？
①搖籃 ②魚簍 ③石磨 ④斗笠
- (1) 我們可以從先民留存下來的碑文了解什麼？
①家鄉的故事 ②早期的地景 ③居民的穿著樣式 ④聚落的分布
- (2) 臺灣的什麼地區，會有居民以養殖牡蠣為職業？
①低緩山坡地 ②近海地區 ③高山地區 ④水庫附近
- (4) 「三角湧、祖師廟、老街」從上面的提示，你可以聯想到什麼呢？
①葫蘆墩圳 ②大甲 ③臺南 ④三峽
- (4) 永鑫家中以飼養魚類維生，每到冬天家中最害怕遇到下面哪一種氣候狀況？
①颱風侵襲 ②霧太大 ③雨水太多 ④寒流來襲
- (2) 一個地區長時間的天氣平均狀態指的是什麼？
①氣溫 ②氣候 ③氣象 ④溫度
- (3) 在地圖上看到這個標示◎，通常可能代表什麼意思？
①鐵路 ②高速公路 ③縣市 ④省道
- (3) 「番社采風圖」記載著原住民先民過著怎樣的生活？
①耕種 ②捕魚 ③打獵 ④採集
- (2) 「騎樓」是人們適應什麼所發展出來的建築型態？
①地形 ②氣候 ③科技 ④土壤
- (1) 點點看著地圖，發現家鄉有學校、古蹟、橋樑……。請問點點是從哪個地圖工具中知道的？
①圖例 ②比例尺 ③方向標 ④圖名
- (2) 哪一個是「省水標章」？
①  ②  ③  ④ 

三、連連看：每答 1 分，共 3 分

1. 請把圖例與其所代表的實物相連。
- (1)  A 鐵路
- (2)  B 山峰
- (3)  C 漁港

四、閱讀後，填代號：每答1分，共19分

1. 請將下列敘述與地形做正確的配對，將代號填入 () 中。

A 地勢較低、寬闊平坦的地區
B 坡與谷的起伏變化較小，高度在1000公尺以下的連綿小山
C 四周地勢較高、中間低平的地區
D 坡與谷的落差較大，高度在1000公尺以上
E 高度在1000公尺以下，邊緣為陡坡的平坦高地

- (A) (1) 平原。
(D) (2) 山地。
(B) (3) 丘陵。
(E) (4) 臺地。
(C) (5) 盆地。

2. 艾瑪和珍妮特地從美國來臺參加在高雄市舉辦的運動會，除了參賽之外，她們想趁著這個難得的機會，好好參訪一下高雄各地，以下是她們的參訪過程，請依據下列短文，判斷她們在旅程中是使用哪些地圖，請將代號填入適當的 () 中。

A <u>高雄市</u> 行政區域圖
B <u>高雄市</u> 衛星影像圖
C <u>高雄市</u> 鼓山區觀光導覽圖
D <u>高雄市</u> 地形圖

艾瑪想去西子灣吃冰，但是她不知道路，她向教練借了一張 (C)，於是她和珍妮一起去吃了期待已久的冰。吃冰時，她們看到桌上有一張 (D)，上面以不同顏色標示著高雄市的地勢高低。吃完冰後，艾瑪想去拜訪住在三民區的朋友，她知道朋友家離吃冰的地方有多遠，於是她們到臨近的旅遊服務中心查看 (A)，由此張地圖中可以清楚看到高雄市各區的分與位置。

回美國那天，艾瑪坐在飛機上往下看，看到底下的建築物就像棋盤一樣排列著，她想起在臺灣的朋友曾給她看的 (B)，她可以清楚看見她們住宿的飯店所在地，種種回憶讓她覺得這趟旅程真是收穫滿滿。

3. 下列地名皆依自然環境或人文特徵命名，請你將正確的地名命名由來進行配對。

A 依自然環境命名	B 依人文特徵命名
-----------	-----------

- (B) (1) 桃園市觀音區。
(B) (2) 宜蘭縣頭城鎮。
(B) (3) 新北市烏來區。
(A) (4) 臺東縣池上鄉。
(A) (5) 雲林縣莿桐鄉。
(A) (6) 臺中市中區 (舊名大墩)。

4. 下課的時候，唐唐和同學們正在分享著彼此和家人出遊的趣事，請你從他們的對話中推測，他們是去哪裡旅遊，並把正確代號填入 () 中。

A <u>新竹縣</u> 新埔鎮	B <u>臺東</u> 縣蘭嶼鄉
C <u>高雄市</u> 旗山區	D <u>屏東</u> 縣恆春鎮

(1) 唐唐：「我爸爸帶我去 (B) 參觀當地很特別的傳統房屋，爸爸說那叫做半穴居，主要功能是在夏天涼爽、冬天可防強勁的東北季風。」

(2) 阿富：「我也有去看唐唐說的半穴居，然後隔天我就和家人到氣候十分溫暖、陽光充足的 (D)，落山風是那兒的一大特色，我們還買了好多的當地特產——洋蔥回家煮呢！」

(3) 小南：「我去 (A) 找外婆，外婆家和阿富去的地方一樣，都有強勁的風，也因此外婆利用風吹、日晒及碳烤的祖傳方式製作各種柿餅，外婆說，當地有許多人都這麼做呵！」
(4) 奇奇：「你們去的地方都要曬太陽，我和媽媽去 (C) 老街，那兒的騎樓是當地建築的特色之一，在那行走觀都不用怕大太陽或下雨。」

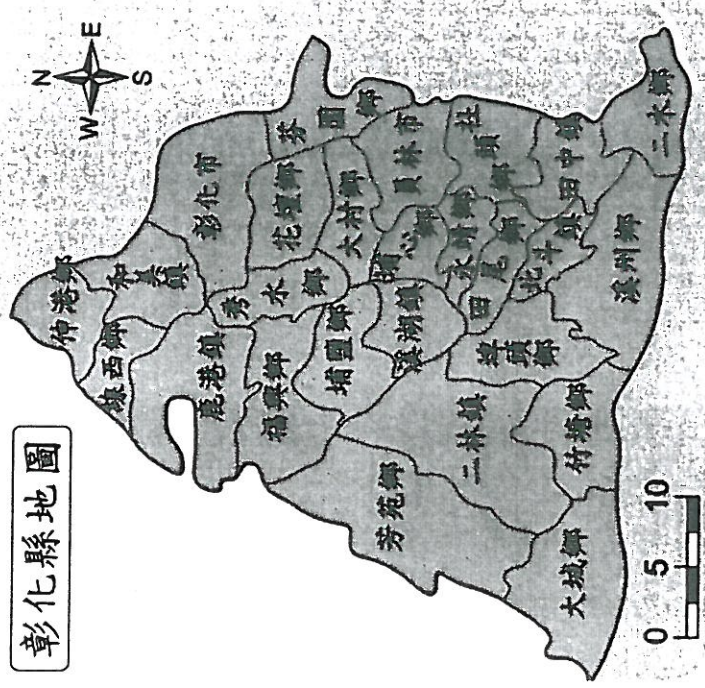
五、問答題：4分

1. 家鄉的氣候主要受到哪些因素的影響？請寫出兩項。

答：地形、氣溫 <答案僅供參考>

六、看圖回答問題：每答1分，共8分

1. 請看下面地圖回答以下問題。

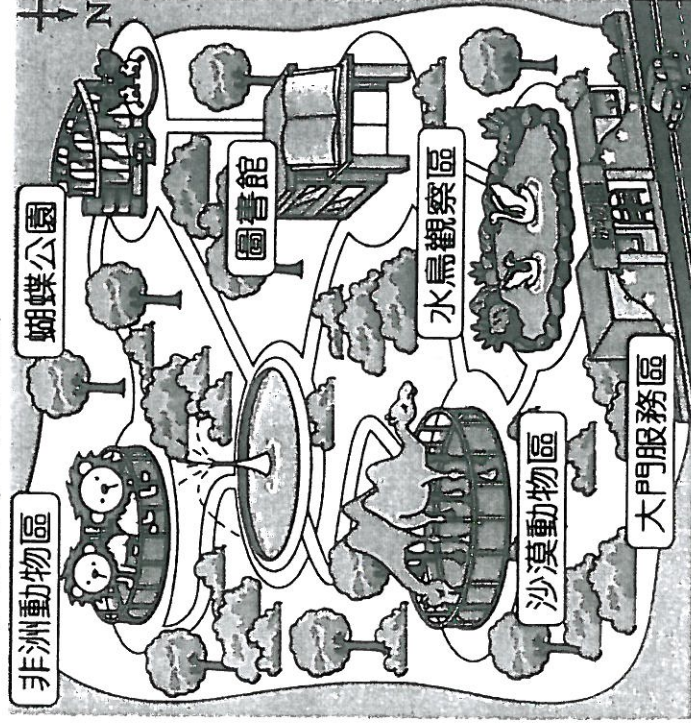


- (1) 這是一張什麼地圖？ ①觀光導覽圖 ②衛星影像圖 ③行政區域圖 ④地形圖
- (2) 此張地圖上沒有列出下列哪一項工具？ ①方向標 ②圖名 ③比例尺 ④圖例
- (3) 伸港鄉位於彰化縣的最西端，內應填入什麼？ ①東 ②西 ③南 ④北
- (4) 彰化市是「縣轄市」，是由哪一個單位所管轄的城市？

答：

彰化縣政府

2. 下圖是星期日阿清全家到動物園一遊時，在園區拿到的地圖。



- (1) 請問這是什麼性質的地圖？ ①觀光導覽圖 ②地形圖 ③行政區域圖 ④衛星雲圖
- (2) 如果從圖書館出來，想到蝴蝶公園看看，要往哪個方向走才對？ ①東 ②西 ③南 ④北
- (3) 如果這張地圖的比例尺1公分代表實際距離50公尺，地圖上噴水池到蝴蝶公園的距離是20公分，實際距離是多少公尺？ ①50 ②100 ③150 ④200
- (4) 在地圖上，哪個地方距離大門服務區最遠？ ①圖書館 ②水鳥觀察區 ③沙漠動物區 ④非洲動物區

