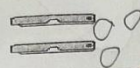
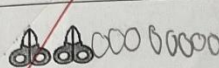






一、做做看看：每答 2 分 = 82%

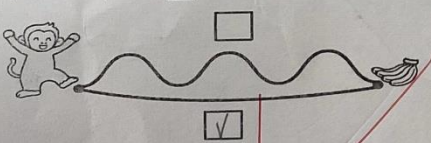
1. 數數看看，把不夠的畫○補上：

① 5 把小刀	
② 8 個橡皮擦	
③ 10 把剪刀	



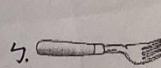

2. 數一數，有幾個？把答案圈起來：

①  7 8 6	②  7 9 8
③  9 6 8	④  3 7 5

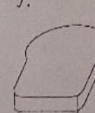
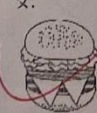
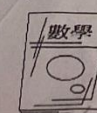

3. 猴子想吃香蕉，走哪一條路比較近？在□中打✓。



4. 比一比，比較長的在( )中打✓

ㄅ.  ( ) ㄆ.  (✓)	ㄅ.  (✓) ㄆ.  ( )
--	--

5. 比較薄的在( )中打✓：



ㄅ.  (✓) ㄆ.  ( )	ㄅ.  (✓) ㄆ.  ( )
--	--

6. 比一比，

✓，最矮的



7. 數一數，有多少？比較多的在□中打✓：

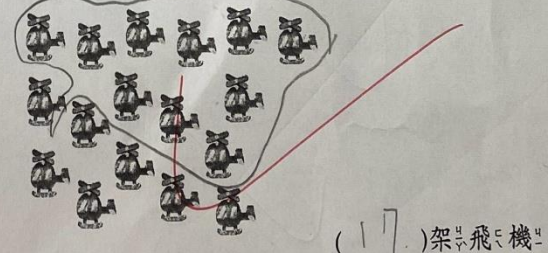
	(18) 個
	(20) 個

8. 數一數，

(1) 有幾個輪子？



(2)



9. 按照提示圈起來：

第 1 個	↓
① 第 3 個	
② 5 個	
③ 8 個	
④ 第 8 個	

第 1 個

4  
2  
1  
hold  
4  
X  
4  
7



10. 看圖填填看：

① 從左算起， 在第(4)個。  
 的旁邊是第(5)個和第(3)個。  
 ② 從右算起， 在第(9)個。  
 的前面一個是第(8)個。  
 的後面一個是第(10)個。  
 ③ 從左算起， 在第(6)個。  
 ④ 從左算到，共有(10)個。

11. 數數，填填看。

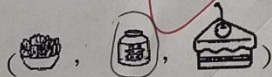
左邊 ↑ 第 16 個

(1) 從左邊數起。

- ① 在第(22)個。  
 在第(30)個。

(2) 從右邊數起。

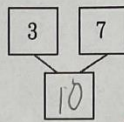
- ① 在第(7)個。  
 ② 圈出圈看，第 11 個是



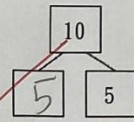
12. 填填看

(1) (2) (3) (4)

(5)



(6)



二、配合題：每答 1 分 18%

1. 按照順序填填看：

(1) (2) (3)

2. 圈一圈，把下面的物品分成

兩堆，可以怎麼分？

(1)

10 隻熊可以分成

(5) 隻和 (5) 隻

(2)

8 顆蘋果可以分成

2 顆和 (6) 顆

3. 比較大的數在( )裡打✓：

(2)

(1)

4. 是直線的在□中打✓，是曲線的

畫○。

① ② ③ ④