





10. 數一、數各有多少，填填看：

① 	23
② 	25
③ 	28
④ 	21

11. 填填看：

① $\begin{matrix} 6 \\ \swarrow \searrow \\ 2 \quad 4 \end{matrix}$ ② $\begin{matrix} 10 \\ \swarrow \searrow \\ 7 \quad 3 \end{matrix}$

③ $\begin{matrix} 3 \quad 5 \\ \swarrow \searrow \\ 8 \end{matrix}$ ④ $\begin{matrix} 6 \quad 3 \\ \swarrow \searrow \\ 9 \end{matrix}$

⑤ $\begin{matrix} 2 \quad 7 \\ \swarrow \searrow \\ 9 \end{matrix}$ ⑥ $\begin{matrix} 10 \\ \swarrow \searrow \\ 8 \quad 2 \end{matrix}$

二、做做看：每答 1 分，26%

1. 是直線的在 中打 ，是

曲線的畫 ：

① ②

③ ④

2. 按照順序填一填：










(1) 18 — 17 — 16 — 15 — 14 — 13

(2) 12 — 14 — 16 — 18 — 20 — 22


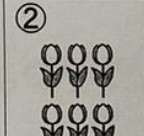
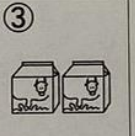
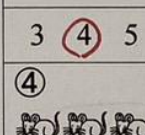
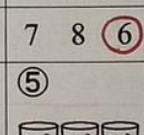
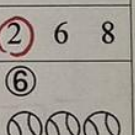
(3) 19 — 20 — 21 — 22 — 23 — 24

(4) 25 — 26 — 27 — 28 — 29 — 30

3. 連連看，多和多少合起來是 8？

① 		① 
② 		② 
③ 		③ 
④ 		④ 

4. 圈出正確的數量：


① 	② 	③ 
3 <input checked="" type="checkbox"/> 4 5	7 8 <input checked="" type="checkbox"/> 6	<input checked="" type="checkbox"/> 2 6 8
④ 	⑤ 	⑥ 
9 6 <input checked="" type="checkbox"/> 8	<input checked="" type="checkbox"/> 3 7 5	7 <input checked="" type="checkbox"/> 9 8

☺ 再仔細檢查 2 次！


一、看圖做做看：74%

1. 比較大的數在 () 裡打 \checkmark 。

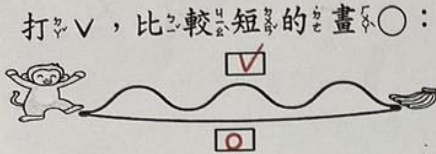
①



②



2. 比一比，比較長的在 \square 中打 \checkmark ，比較短的畫 \bigcirc ：



3. 身高比較矮的在 \square 中打 \checkmark

①

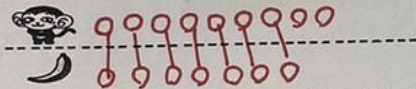


②



4. 有 9 隻，有 7 根，

① 畫出一樣多的 \bigcirc



② 一隻猴子吃一根香蕉夠不夠？(夠，不夠)

5. 數一數：



共有 (22) 個輪子

6. 看圖分分看：



① 7 可以分成 (2) 和 (5)




(3) 和 (6) 合起來是 (9)

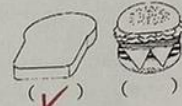
7. 哪一個比較薄？在 () 中打 \checkmark

打 \checkmark

①



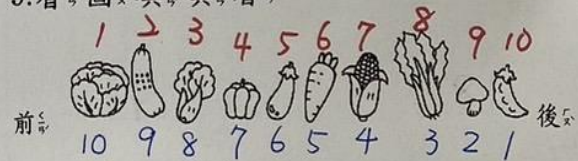
②



8. 圈圈看：

	第 1 個
① 第 8 個	
② 5 個	
③ 4 個	
④ 第 6 個	
	第 1 個

9. 看圖填填看：







(1) 從前面算起：

- 排在第 (9) 個
- 的旁邊是第 (6) 個和 第 (8) 個
- 排在的 前面有 (5) 個 排在的 後面有 (4) 個

(2) 從後面算起：

- 排在第 (7) 個
- 共有 (10) 種蔬菜
- 從 數到，共有 (6) 個

10. 數一數各有多多少少，填填看看：

① 	23
② 	25
③ 	28
④ 	21

11. 填填看看：

① $\begin{matrix} 6 \\ \swarrow \quad \searrow \\ 2 \quad 4 \end{matrix}$ ② $\begin{matrix} 10 \\ \swarrow \quad \searrow \\ 7 \quad 3 \end{matrix}$





③ $\begin{matrix} 3 \quad 5 \\ \swarrow \quad \searrow \\ 8 \end{matrix}$ ④ $\begin{matrix} 6 \quad 3 \\ \swarrow \quad \searrow \\ 9 \end{matrix}$

⑤ $\begin{matrix} 2 \quad 7 \\ \swarrow \quad \searrow \\ 9 \end{matrix}$ ⑥ $\begin{matrix} 10 \\ \swarrow \quad \searrow \\ 8 \quad 2 \end{matrix}$

二、做做看看：每答 1 分，26%

1. 是直線的在 中打 \checkmark ，是

曲線的畫 ：

① 	<input checked="" type="checkbox"/>	② 	<input type="checkbox"/>
③ 	<input type="checkbox"/>	④ 	<input checked="" type="checkbox"/>

2. 按照順序填一填：









(1) 18 — 17 — 16 — 15 — 14 — 13

(2) 12 — 14 — 16 — 18 — 20 — 22

(3) 19 — 20 — 21 — 22 — 23 — 24



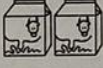



(4) 25 — 26 — 27 — 28 — 29 — 30

3. 連連看看，多多少和多少合起來是 8？

① 	
② 	
③ 	
④ 	

Red lines connect ① to ⑤, ② to ④, ③ to ⑥, and ④ to ③.

4. 圈出正確的數量：

① 	② 	③ 
3 <input checked="" type="checkbox"/> 4 5	7 8 <input checked="" type="checkbox"/> 6	<input checked="" type="checkbox"/> 2 6 8
④ 	⑤ 	⑥ 
9 6 <input checked="" type="checkbox"/> 8	<input checked="" type="checkbox"/> 3 7 5	7 <input checked="" type="checkbox"/> 9 8

☺ 再仔細檢查 2 次！