

一、寫出直式算算看：每格 2 分、共 20 分

(1) $7294 - 3608$
=3686

(2) $229 + 4671$
=4900

(3) $5695 + 1065$
=6760

(4) $6337 - 961$
=5376

(5) $70 \times 8 = 560$

(6) $55 \times 6 = 330$

(7) $400 \times 7 = 2800$

(8) $736 \times 5 = 3680$

(9) $12\text{cm } 6\text{mm} - 7\text{cm} = (5) \text{ cm } (6) \text{ mm}$

(10) $8 \text{ 公}\frac{\text{分}}{\text{分}} - 24 \text{ 毫}\frac{\text{米}}{\text{米}} = (56) \text{ 毫}\frac{\text{米}}{\text{米}}$

二、勾選題：每題 2 分、共 4 分

1. 「 807×9 」的答數案中最接近下面哪一個個數？

- 6200 7200 8200

2. 一箱「柳丁」賣 499 元，哥哥買了 6 箱，大約花了幾元？

- 1000 元 2000 元 3000 元

三、數數看，下圖有幾元？共 3 分



答：(2324) 元

四、在□中填入 > 或 <：每答 2 分、共 8 分


- ① $1758 > 1578$ ② $5439 < 5493$
③ $3000 > 2999$ ④ $1500 < 1699$

五、畫畫看：共 5 分



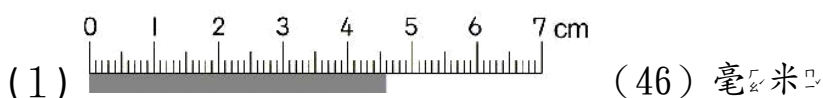
可以怎麼付錢？

用 1000、 100、 10 和 1 來付錢。



六、看圖填填看：每格 2 分、共 12 分

寫出灰色圖形的長度：



(3) 1000 1000 1000 10 10 10 10 10 1 1 1 1 1

這些數合起來是 (3057)，
讀作 (三千零五十七)。



七、畫畫看：每題 3 分、共 6 分

1. 用尺畫出一條 33 毫米的直線。

2. 用尺畫出一條 5cm2mm 的直線。

八、把最接近的答案在□中打√：每題3分，共6分

(1) 「7140 + 1138」
 8000 9000 10000

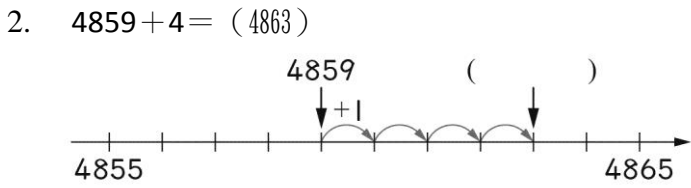
(2) 「1234 + 5978」
 8000 7000 6000

九、填填看：每答1分，共18分

1. 在□中填入適當的數：

2998 — 2999 — □ — □ — 3002

— □



3. $8\text{m}9\text{cm} = (8090) \text{ mm}$
4. 7公尺 = (7000) 毫米
5. $9 \times 8 = 72$, $90 \times 8 = (720)$, $900 \times 8 = (7200)$ 。

6. 用 0、2、4、8、9 五張數字卡，做做看。

- ① 排出一個最大的四位数是 (9842)。
- ② 排出一個最小的四位数是 (2048)。

7. 3個千和7個百可以換成2個千和(17)個百。
8. 「三千零七十」記作(3070)。
9. 「五千零七」記作(5007)。
10. 「3108」讀作(三千一百零八)。

11. 在□中填入適當的數字：

$$\begin{array}{r} 2 \quad \boxed{8} \quad 4 \quad 8 \\ - \quad \quad 2 \quad 2 \quad 5 \\ \hline 2 \quad 6 \quad 2 \quad \boxed{3} \end{array}$$

12. 在□中填入適當的數字：

$$\begin{array}{r} \boxed{1}6 \\ \times \quad 5 \\ \hline 80 \end{array}$$

十、應用題：每題3分，共18分

1. 1年有12個月，8年共是幾個月？

$12 \times 8 = 96$

A: 96個月

2. 參加馬拉松賽跑的男生有2513人，女生有2194個人，男生比女生多幾個？

$2513 - 2194 = 319$

A: 319人

3. 1本故事書賣295元，買3本要幾元？

$295 \times 3 = 885$

A: 885元

4. 1根迴紋針長28毫米，相同的2根連接一起，共長幾公分幾毫米？

$28 \times 2 = 56\text{mm} = 5\text{cm}6\text{mm}$

A: 5 cm 6mm

5. 哥哥買一件760元的上衣和一件1680元的牛仔褲，共要付幾元？

$760 + 1680 = 2440$

A: 2440元

6. 媽媽買了一條長40公分2毫米的法國麵包，切了一段9公分5毫米的麵包，還剩下多長的法國麵包？

$40\text{cm}2\text{mm} - 9\text{cm}5\text{mm} = 30\text{cm}7\text{mm}$

A: 30cm 7mm