

一、圈圖看表：共 14 分

1. 估「一估」，把最接近的答案圈起來。


(1) $62 - 31$

(10 20 30)

(2) $599 + 207$

(700 800 900)

2. 圈出 658

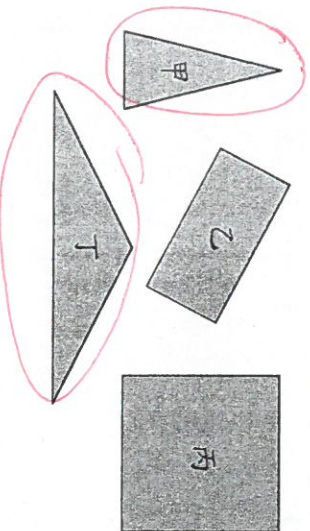


3. 圈出最大的數。

(1) 157 715 517

(2) 980 990 1000

4. 圈出有「3 條邊」的圖形。



二、用品 100、 10 或 1 畫看：

共 4 分

1. 畫出 322 元

2. 畫出 764 元

三、寫出直式算算看：共 15 分

1. $740 + 23 = (763)$

$$\begin{array}{r} 740 \\ + 23 \\ \hline 763 \end{array}$$

2. $35 + 247 = (282)$

$$\begin{array}{r} 35 \\ + 247 \\ \hline 282 \end{array}$$

3. $451 - 219 = (232)$

$$\begin{array}{r} 451 \\ - 219 \\ \hline 232 \end{array}$$

4. $197 - 79 = (118)$

$$\begin{array}{r} 197 \\ - 79 \\ \hline 118 \end{array}$$

5. () 內的數是少多少？



$$\begin{array}{r} 35 \\ - 9 \\ \hline 26 \end{array}$$

四、連連看：共 10 分


<input type="checkbox"/> 4×5	<input type="checkbox"/> 6×4	<input type="checkbox"/> 0×8	<input type="checkbox"/> 6×8	<input type="checkbox"/> 4×8
<input type="checkbox"/> 9×0	<input type="checkbox"/> 3×8	<input type="checkbox"/> 5×4	<input type="checkbox"/> 8×6	<input type="checkbox"/> 8×4

<input type="checkbox"/> 0	<input type="checkbox"/> 20	<input type="checkbox"/> 24	<input type="checkbox"/> 32	<input type="checkbox"/> 48
----------------------------	-----------------------------	-----------------------------	-----------------------------	-----------------------------

(Note: Lines connect 4x5 to 20, 6x4 to 24, 0x8 to 0, 6x8 to 48, 9x0 to 0, 3x8 to 24, 5x4 to 20, 8x6 to 48, and 8x4 to 32.)


五、填寫看看：共 48 分

1. $699 - (900) - (901) - 702 - 703 - (904)$
2. $861 - 761 - (661) - 561 - (461) - (361)$
3. 9 個百、4 個十和 7 個一合起來是 (947)。
4. 3 個百和 16 個十合起來是 (460)。
5. 1 年又 8 個月 = (20) 個月。
6. 22 個月也可以說是 (1) 年又 (10) 個月。
7. 二月有 29 天的是「平年」還是「閏年」？ (閏年)
8. 用 4、3、7 這三張數字卡片，可以排出最大的三位數是 (743)；最小的三位數是 (347)。
9. 口琴音樂會從 10 月 27 日開始舉行，到 11 月 2 日結束，一共是 (7) 天。
10. 美娟全家去日本旅遊 6 天，他們在 4 月 8 日出發，會在 (4) 月 (13) 日回來。
11. 有 (5) 條邊、(5) 個角和 (5) 個頂點。



(5) 個角和
(5) 個頂點

12.



- (1) 星星的周界上有 (3) 個。
- (2) 星星的內部有 (0) 個。
- (3) 星星的外部有 (8) 個。
13. 美術館從星期六開始，舉行一星期的畫展，結束的那一天是星期 (五)。


六、寫出算式算看看：共 9 分

1. 早餐店的一份 A 套餐 129 元，一份 B 套餐 86 元，各買一份要付多少元？

$$\begin{array}{r} 129 \\ + 86 \\ \hline 215 \end{array}$$

答：215 元

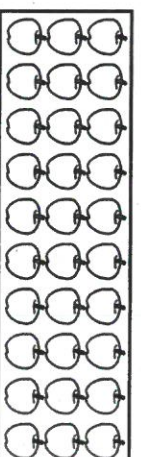
2. 下面長方形形的周長是幾公分？



$$6 + 6 + 3 + 3 = 18$$

答：18 公分

3. 下面圖中一共有幾顆蘋果？



$$10 \times 3 = 30$$

答：30 顆