

彰化縣溪州鄉成功國小 110 學年第一學期第一次社會科成績評量

五年 班 座號 姓名：

一、是非題：(每題 2 分，共 20 分)

- (X) 1. 臺灣本島是一個南北短、東西長的島嶼，形狀像一顆甘薯。
- (O) 2. 桃園與亞洲東部主要都市間的平均飛行距離是最短的，所以成為亞洲重要運輸中心之一。
- (O) 3. 經線和緯線都是一種假想線，並非真實存在於地球上，但可以幫助人類用來標示位置。
- (O) 4. 翔平冬季時若想要去度假晒太陽，位於較低緯度的泰國是不錯的選擇。
- (X) 5. 育誠想要製作關於台地的報告，他可以親自走訪臺灣的東部地區，臺灣主要的台地大多分布在東部。
- (O) 6. 臺灣高山的形成原因，是因板塊擠壓而隆起的。
- (X) 7. 臺灣的雨量變化南北大不同，一般來說北部地區全年的雨量少於南部地區，較易發生乾旱造成缺水的問題。
- (X) 8. 早期住在澎湖群島上的居民，為了防晒、避暑，會就地取材利用石板興建地下屋居住。
- (X) 9. 水庫的興建會破壞當地的自然環境，使原有的動植物生存受到威脅，所以未來人們應該致力拆除水庫、恢復河川原貌。
- (O) 10. 當船隻行經珊瑚礁的海域，必須多加注意，因為有些珊瑚礁位在水面下，容易使船隻因為觸礁而發生船難。

二、選擇題：(每題 2 分，共 42 分)

- (3) 1. 下列哪一個島嶼不屬於 臺灣地區？ ①蘭嶼 ②金門 ③香港 ④東沙群島。
- (2) 2. 下列關於臺灣的敘述，何者正確？ ①臺灣地處美國和東南亞的中點 ②總面積約三萬六千平方公里 ③臺灣位在亞洲東部和大西洋的交界。 ④海岸線總長 2140 公里。

- (4) 3. 下列關於臺灣的敘述，何者錯誤？ ①受地理位置影響，自古以來和各地往來密切 ②黑面琵鷺常會來臺灣過冬 ③擁有與世界航運往來頻繁的高雄港 ④經過臺灣四周海域的魚類不多。
- (2) 4. 國際上通常以 W 表示下列何者？ ①南緯 ②西經 ③東經 ④北緯。
- (3) 5. 0 度經線通過下列哪一個國家和城市？ ①加拿大 多倫多 ②日本 東京 ③英國 倫敦 ④澳洲 墨爾本。
- (1) 6. 臺灣在世界中的地理位置，位於哪兩個半球？甲、北半球 乙、南半球 丙、東半球 丁、西半球 ①甲丙 ②甲乙 ③乙丙 ④乙丁。
- (2) 7. 臺灣島上的哪一項特徵，與板塊之間的推擠作用無關？ ①地形有高低起伏的變化 ②北部氣候寒冷而南部溫暖 ③島嶼呈狹長的形狀 ④島上經常發生地震。
- (3) 8. 海拔高度約 100~1,000 公尺之間，坡度較緩的地形，指的是下列哪一種地形？ ①山地 ②平原 ③丘陵 ④盆地。
- (3) 9. 關於盆地地形的敘述，下列哪一項錯誤？ ①為四周高、中間低的地形 ②多分布在臺灣西部地區 ③形狀有如上下顛倒放置的臉盆 ④盆地中央通常是人們聚居的地方。
- (4) 10. 關於山地地形的敘述，下列哪一項錯誤？ ①臺灣山地面積廣大 ②臺灣三千公尺以上的高峰林立 ③多分布在島中央及東部沿海地區 ④臺灣的山地為東西走向，橫貫中部地區。
- (3) 11. 臺灣的平原地形大多是怎麼形成的？ ①透過人工開鑿而成 ②由海水拍擊而成 ③由河川沖積而成 ④經由地震作用分裂形成。

- (3) 12. 關於臺灣冬季的敘述，下列何者錯誤？ ①常吹東北季風 ②北部常陰雨連綿 ③南部多雨 ④高山偶有下雪。
- (2) 13. 夏季時，臺灣各地雨量充沛，這是受到季風與哪一種天氣現象的影響？ ①寒流 ②颱風 ③焚風 ④龍捲風。
- (2) 14. 關於臺灣氣溫的相關敘述，何者正確？ ①冬季時，北部地區比南部地區溫暖 ②夏季時除山地外，各地普遍炎熱 ③山地因為地勢較高，所以四季的氣溫會比平地高 ④以上皆是。
- (4) 15. 語儂和家人前往野柳地質公園遊覽，看見各種海蝕地形與許多奇形怪狀的岩石。從這些訊息我們可以推斷，野柳地質公園位於臺灣哪一處海岸？ ①東部海岸 ②中部海岸 ③南部海岸 ④北部海岸。
- (3) 16. 臺灣離島風光明媚，周圍海域魚類資源豐富，所以離島居民多以發展哪些產業為生？ 甲. 高科技業 乙. 漁業 丙. 畜牧業 丁. 觀光業 ①甲乙丁 ②乙丙丁 ③乙丁 ④乙丙。
- (2) 17. 下列關於臺灣地區各離島的敘述，何者錯誤？ ①金門島位在臺灣的西側 ②馬祖列島位在臺灣本島東側 ③澎湖群島是海底火山噴發形成的 ④龜山島海域附近常可見到鯨魚、海豚出沒。
- (2) 18. 下列哪一座水庫供應了臺北市及新北市部分地區的用水？ ①德基水庫 ②翡翠水庫 ③日月潭水庫 ④烏山頭水庫
- (/) 19. 為什麼臺灣的東部比起其他地區，外來人口大規模遷入的時間較晚，造成當地的開發也較晚？ ①沿岸缺乏可避風浪的港灣，船隻難以停靠 ②東部海域暗礁密布，難以航行 ③西側緊鄰玉山山脈，受到山脈的

阻擋④以上答案皆正確。

- (3) 20. 心亞和家人到位於嘉義縣 東石鄉的鰲鼓溼地森林園區遊覽，導覽人員提到在溼地的西側海域外還有臺灣最大的沙洲外傘頂洲。如果有時間還可以到碼頭搭乘觀光船出海去參觀。那麼心亞目前所在地與外傘頂洲之間的海域，稱為什麼？ ①水庫 ②生態池 ③瀉湖 ④魚塢。
- (3) 21. 下列何者不是影響臺灣氣候變化的因素？ ①地勢高低 ②季風 ③人口密集度 ④緯度高低。

三、填填看：(每個答案1分，共10分)

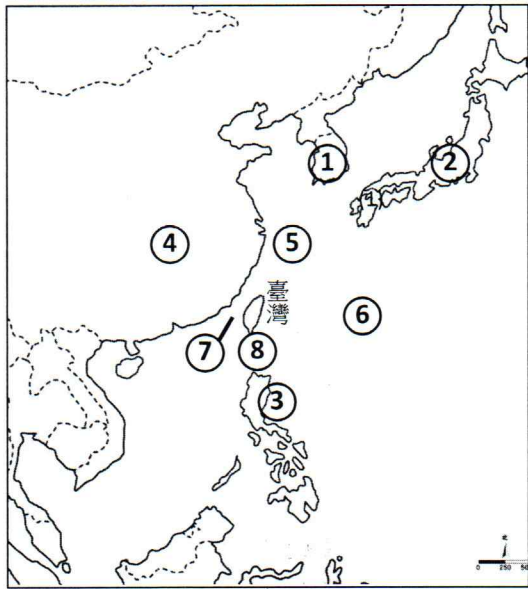
- 臺灣的海岸線總長度約()公里。
- 赤道為0度緯線，以北稱為北半球，以南稱為南半球。
- 臺灣地處(歐亞)板塊和(菲律賓海)板塊的交接處。
- 臺灣的氣候，夏天時，主要吹送(西南)季風；冬天時，吹(東北)季風，因此造成各地區不同的氣候型態。
- 臺灣的河川大多源自於()，其中最長的河川是(濁水溪)。
- 新竹縣 新埔鎮的農民利用當地氣候的(日曬)、(強風)特性，將柿子製成柿餅。

四、配合題(每個答案1分，共4分)

- 下列選項的敘述分別屬於哪一座臺灣離島的特色，請用代號填入相對應的()中。
 - 由許多島嶼所構成，桶盤嶼是其中之一
 - 由許多島嶼所構成，靠近中國大陸，為花崗岩島嶼
 - 又名「小琉球」，是臺灣南部著名的觀光景點之一
 - 位在太平洋上的島嶼，附近海域是臺灣地區東北部賞鯨豚的熱門區域
- (甲) ①澎湖群島。 (丁) ②龜山島。
 (乙) ③馬祖列島。 (丙) ④琉球嶼。

五、看圖回答問題(每題1分,共20分)

1. 請觀察下列「臺灣地理位置圖」,寫出各代號所代表的國家、地區或海域名稱。(填代號)



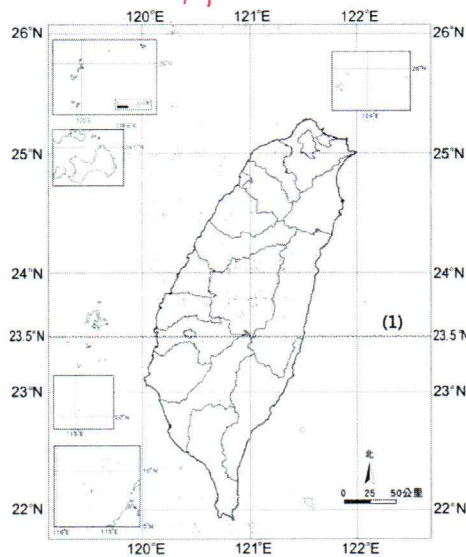
鄰國:A.日本 B.南韓 C.菲律賓 D.中國

①(B) ②(A) ③(C) ④(D)

海洋:

A.太平洋 B.巴士海峽 C.東海 D.台灣海峽

⑤(C) ⑥(A) ⑦(D) ⑧(B)



2. 觀察「臺灣地區經緯度圖」,回答下列問題。

(1) 臺灣本島主要位在北緯22度~(25)度,東經(120)度~122度之間。(以整數回答)。

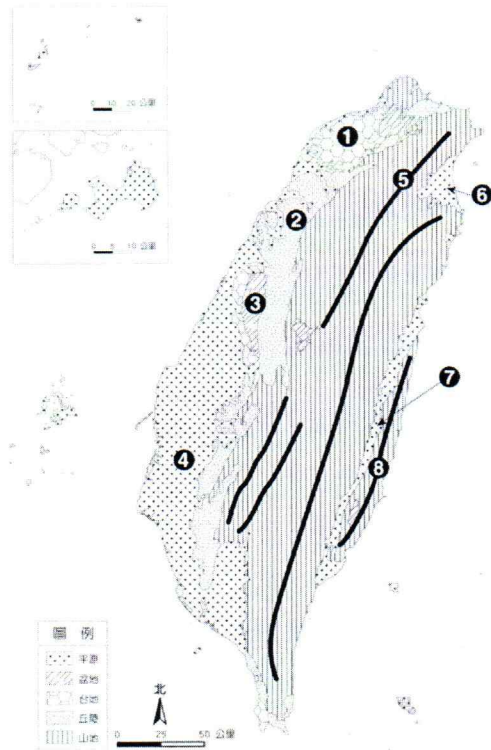
(2) 23.5°N,又稱為(北回歸)線。

(3) 上題所提通過臺灣本島的該線,以北是(副熱帶)氣候,以南是(熱帶)氣候。

(4) 吳爸爸認為讀萬卷書也要行萬里路,所以他經常帶孩子到處遊覽認識臺灣。如果他想讓孩子實地看看第(2)題提到的標誌,他應該帶孩子到哪些縣市遊覽? ①宜蘭縣 ②臺中市 ③花蓮縣 ④嘉義縣。

(3,4)(填代號,2分)

3. 為了對臺灣本島的地形有基本認識,請參考臺灣地形分布圖,回答下列問題。



上圖中的數字各代表的是哪一個地形區?請將答案填入()中。

③(台中)盆地。 ④(嘉南)平原。

⑤(雪山)山脈。 ⑦(縱谷)平原。

⑧(海岸)山脈

六、勾選題:(每個答案1分,共4分)

1. 下列哪些屬於臺灣河川的特性?請在正確的

中打√。

①主要河川大多發源於中央山地。

②受到山勢陡峭的因素影響,呈現出長度短、坡度陡等特性。

③河川大多呈南北流向。

④河川一整年流量都維持穩定狀況。