

家長簽名：\_\_\_\_\_

一、是非題：(每題 2 分，共 30 分)

- ( ) 1. 連日大雨，過多的雨量容易在海邊引起土石流，影響居民生命及財產。X  
 ( ) 2. 盆地地形的周圍高，中間低平。O  
 ( ) 3. 山地與丘陵地形高度相同，只是坡度不同。X  
 ( ) 4. 海邊的居民會利用沿海地形發展漁業。O  
 ( ) 5. 丘陵地區的農民分散居住，但是為了相互照顧，居民常三五戶居住在一起。O  
 ( ) 6. 小音的家鄉在海邊，生活上需要互助合作才能完成，因此當地居民常聚集居住。O  
 ( ) 7. 雖然各地地形不同，但是發展的生產活動不會有差異。X  
 ( ) 8. 宜蘭平原因為交通方便，人們多分散居住在農田四周。X  
 ( ) 9. 臺灣四季會有過境的候鳥。O  
 ( ) 10. 台東縣太麻里居民利用山地地形種植金針花，發展農業和觀光業。O  
 ( ) 11. 平均而言，臺灣北部一年的日照時間比南部長。X  
 ( ) 12. 家鄉居民會順應不同氣候特徵設計建築物。O  
 ( ) 13. 只要記錄一段時間的氣溫，就可以看出家鄉的氣候特徵。X  
 ( ) 14. 透過家鄉的月平均雨量統計圖可以了解不同季節降雨量的差異。O  
 ( ) 15. 一個地方短時間的氣象變化就是天氣。O

二、選擇題：(每題 2 分，共 32 分)

- ( ) 1. 下列哪一種地形，因環境的因素而種植耐旱作物？ ①平原 ②台地 ③山地 ④盆地。2  
 ( ) 2. 下列何地形，因為地勢變化大，主要是森林樣貌，最可能的是？ ①山地 ②台地 ③平原 ④盆地。1  
 ( ) 3. 下列哪一個敘述不屬於氣候影響家鄉居民生活的例子？ ①颱風來襲，造成低窪地淹水 ②河川受工廠排放廢水影響汙染嚴重 ③夏季高溫炎熱，外出時做好防晒避免中暑 ④寒流報到，養殖漁業做好預防措施。2  
 ( ) 4. 下列何者是新北市瑞芳區九份的居民作為屋頂的材料？①油毛氈 ②太陽能板 ③馬賽克磁磚 ④瓦片。1  
 ( ) 5. 明瑩的家鄉在宜蘭，請問下列氣候特徵敘述何者正確？ ①全年少雨 ②全年多雨 ③夏雨冬乾 ④夏乾冬雨。2  
 ( ) 6. 小惠住在恆春地區，請問洋蔥盛產的原因與哪項有關？(甲)風力弱(乙)風力強(丙)降雨少(丁)降雨多 ①甲丙 ②乙丙 ③乙丁 ④甲丁。2

- ( ) 7. 小美居住在嘉義大林。請問：下列哪一項較有可能是小美生活環境的特色？ ①到處是茶園 ②隨處可見高樓大廈 ③到處是甘蔗園 ④有許多漁市場。3  
 ( ) 8. 環境不同會影響居民的居住型態，下列哪一種配對錯誤？ ①嘉南平原農業區—分散居住 ②宜蘭平原農業區—分散居住 ③丘陵地區—分散居住 ④海岸地區—集中居住。1  
 ( ) 9. 在每年九月初，新竹在海港通常會舉辦什麼活動？ ①水稻節 ②捕魚節 ③商品交易節 ④風箏節。4  
 ( ) 10. 在臺灣，有些房屋屋頂結構是太陽能板，採取這種建築做法的可能原因是什麼？ ①為了隔熱與發電 ②節省建材的花費 ③方便通風 ④防水材料。1  
 ( ) 11. 小益假日到南投縣埔里鎮旅遊，請問當地的環境是下列敘述何者地形？ ①丘陵 ②台地 ③盆地 ④山地。3  
 ( ) 12. 關於丘陵常見的土地利用方式，下列何者正確？ ①魚塢 ②水田 ③梯田 ④蚵田。3  
 ( ) 13. 甲.山地 乙.平原 丙.台地，哪些地形的地勢有較多平坦的地方？ ①甲乙 ②乙丙 ③甲丙 ④甲乙丙。2  
 ( ) 14. 關於蘭嶼地下屋的功能，下列哪一項敘述錯誤？ ①蓄水 ②防颱 ③遮風 ④避雨。1  
 ( ) 15. 下列哪一項工具無法幫助我們觀測天氣變化？ ①風向風速儀 ②雨量計 ③溫度計 ④測速器。4  
 ( ) 16. 炫炫在假期外出旅遊，路上看到許多鳳梨田，還有很多房屋設置太陽能板，他可能是到哪一個地區旅遊？4 ①蘭嶼 ②宜蘭 ③九份 ④高雄。

三、配合題：(每個答案 2 分，共 10 分)

請將代號填入符合正確敘述的( )中。

甲、羊頭山 乙、嘉南平原 丙、台中盆地  
 丁、大肚台地 戊、苗栗丘陵

- (乙 ) ①地形平坦寬闊，多種植水稻。  
 (丙 ) ②地形周圍高而中間低平。  
 (丁 ) ③地勢中央廣闊平坦的高地，邊緣為陡坡。

- (甲) ④地勢高聳變化大。  
 (戊) ⑤坡度較緩，由眾多小山丘連綿而成。

四、是的打√，不是的打×：(每答2分，共10分)

下列有關氣候的相關敘述，哪些敘述正確？正確的在( )裡打√，錯誤的打×：

- ( X ) (1) 氣候是指短時間的氣象變化。  
 ( V ) (2) 家鄉居民會依不同的氣候條件，打造

適合家鄉的建築物。

- ( X ) (3) 同地區的海邊或迎風山坡的風力，通


常會比內陸或平地的風力弱。

- ( V ) (4) 恆春地區全年的溫度大多在攝氏20~30度之間，這就是恆春的氣候特徵。

- ( X ) (5) 山地的氣溫普遍比平地高。

五、題組題：(每格1分，共15分)

下圖是開心村的生活情景，依圖片回答問題，敘述正確的在( )裡打√，錯誤的打×：



(1) 依圖判斷，「開心村」較可能位於什麼地形之上？

- ( X ) ①山區。  
 ( V ) ②平原。  
 ( X ) ③台地。

(2) 承上題，圖中的  表示該地形有什麼特色？

- ( V ) ①有農田分布。  
 ( X ) ②地勢較崎嶇。  
 ( X ) ③周圍高，中間低平。

(3) 承上題，周圍因為有下列哪一項圍繞以利灌溉？

- ( X ) ①道路。  
 ( V ) ②溝渠。  
 ( X ) ③森林

(4) 上圖中的  最有可能出現在哪一種環境？

- ( X ) ①山地。

- ( V ) ②沿岸。

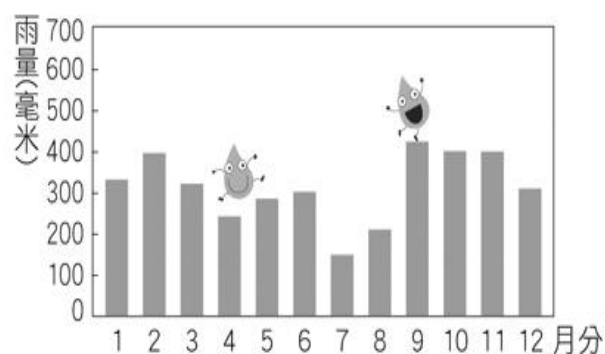
- ( X ) ③台地。

(5) 「開心村」較不適合下列哪一種土地運用方式？

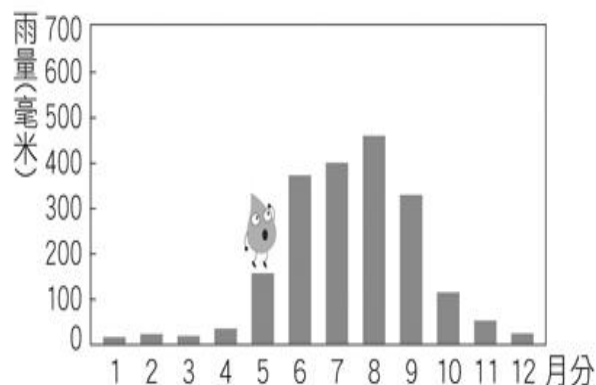
- ( X ) ①規畫農田。  
 ( X ) ②設置住宅區。  
 ( V ) ③種植茶樹。

六、圖表題：(每題1分，共3分)

甲、



乙、



①請觀察甲地和乙地的月平均雨量統計圖，哪個地方的雨量集中在夏季？(乙地)

②承上題，此地可能是宜蘭縣或是屏東縣？(屏東縣)

③你家鄉的降雨變化和上圖的(乙地)相似。