

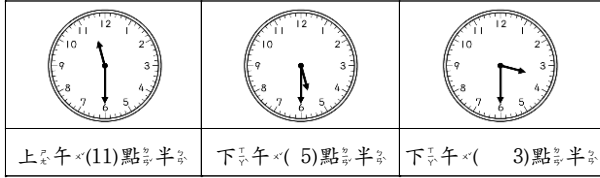
彰化縣溪州鄉成功國小 112 學年度第一學期數學科第 3 次評量卷

一年級 班

座號： 姓名：

一、連連看 (每答 2 分、共 30 分)

1. 看圖填一填，並連連看：

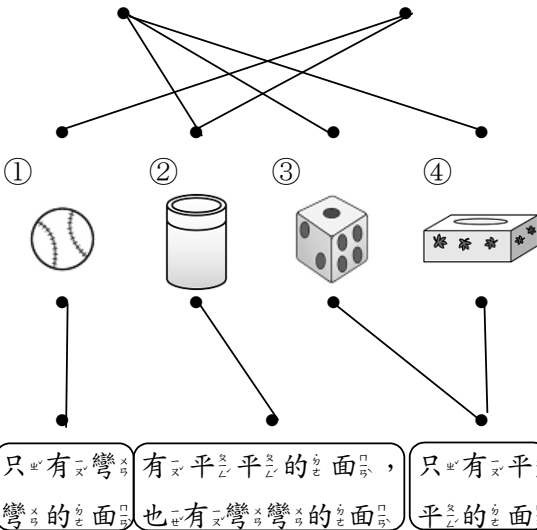


上午 (11) 點半 下午 (5) 點半 下午 (3) 點半

3:30 5:30 11:30

2.

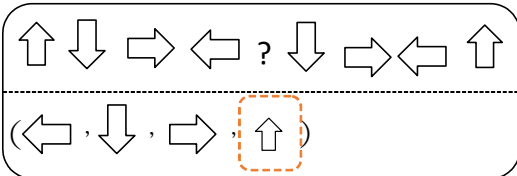
可以堆高 容易滾動



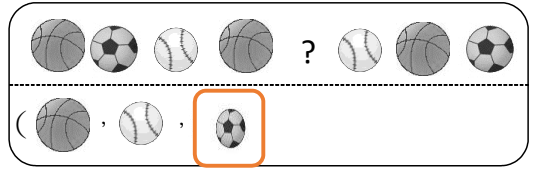
只有彎彎的面 有平平的面，只有平平的面 彎彎的面也有一彎彎的面 平平的面

二、圈圈看 (每題 2 分、共 16 分)

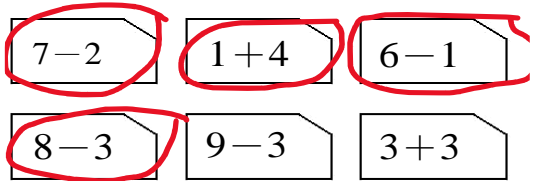
1. 依照圖形的規律性， $?$  會是什麼圖形？圈圈看。



2. 依照球類的規律性， $?$  會是什麼球類？圈圈看。



3. 答案是什麼的卡片圈起來：



三、配配題 (每題 2 分、共 8 分)

1. 答案相同的在 ( ) 中打

✓，不相同的打✗：

- ( ✓ ) ① 5-2, 6-3
- ( ✓ ) ② 10-10, 6-6
- ( ✓ ) ③ 8-0, 8+0
- ( ✗ ) ④ 9-3, 7-0

四、看看圖做事 (每格 2 分、共 6 分)

1. 依照事情發生的先後順序，在○中填入 1、2、3：



五、畫○算算看 (每題 2 分、共 8 分)

① $9-5=(4)$ ○○○○ <del>○○○○</del>	② $8-8=(0)$ <del>○○○○</del> <del>○○○○</del>
③ $10-4=(6)$ ○○○○○ <del>○○○○○</del>	④ $5-3=(2)$ ○○○○○ <del>○○○○○</del>

六、填填看看(每格2分、共8分)

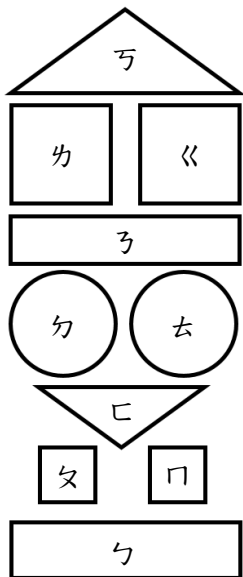
1. 學校新增一個跳房子中的遊戲區，每個代號都分別表示一個圖形，將各圖形所對應的代號填入( )裡。

三角形：、

正方形：、、、

長方形：、

圓形：、



七、勾選題(每題2分、共4分)

1. 做哪一件事情的時間比較長? 在  中打 。

上課  下課

2. 做哪一件事情的時間比較短? 在  中打 。

拼好拼圖  弄亂拼圖

八、應用題(每題5分、共20分)

1. 小明買了6瓶牛奶，喝掉2瓶後，剩下幾瓶牛奶?

算式：

$(6) - (2) = (4)$

答：(4)瓶

2. 小珍原有8元，買了8元的棒棒糖，她還剩下多少元?

算式：

$(8) - (8) = (0)$

答：(0)元

3. 姑姑要做9個香包，現在已經做好3個，姑姑還要再做幾個香包?

算式：

$(9) - (3) = (6)$

答：(6)個

4. 一盒草莓有5顆，兩盒草莓共有幾顆?

算式：

$(5) + (5) = (10)$

答：有(10)顆