

彰化縣溪州鄉大莊國小 113 學年度第一學期第一次評量數學科

三年\_\_班 座號：\_\_姓名：\_\_

一、寫出直式算式算看(每題 2 分，共 20 分)

① $1476 + 3296 = 4772$	② $497 + 8003 = 8500$
③ $7435 - 3579 = 3656$	④ $1112 - 1075 = 37$
⑤ $10 \times 5 = 50$	⑥ $123 \times 2 = 246$
⑦ $\begin{array}{r} 249 \\ \times \quad 6 \\ \hline 1494 \end{array}$	⑧ $57 \times 6 = 342$
⑨ $600 \times 1 = 600$	⑩ $301 \times 3 = 903$

二、選擇題(每題 2 分，共 10 分)

- (4) 1. 在數線上，有一個數在 1200 的右邊和 1300 的左邊，這個數不可能是下面哪一個？  
 ① 1201   ② 1296   ③ 1226   ④ 1314
- (4) 2. 水梨禮盒每盒可以裝 10 個，裝滿 4 盒，共有多少個水梨？  
 ① 14 個   ② 20 個   ③ 24 個   ④ 40 個

( / ) 3. 用尺畫出一條 5 公分 6 毫米的直線，要怎麼畫？

- ① 先從刻度 0 畫到刻度 5，再往右畫 6 小格  
 ② 先從刻度 1 畫到刻度 5，再往右畫 6 小格  
 ③ 先從刻度 2 畫到刻度 5，再往右畫 6 小格  
 ④ 先從刻度 3 畫到刻度 5，再往右畫 6 小格

( / ) 4. 找出最接近「 $208 \times 3$ 」答案的數。

- ① 600   ② 500   ③ 400   ④ 300

(4) 5. 5 公尺 25 公分是幾毫米？

- ① 252   ② 2520   ③ 525   ④ 5250

三、是非題(每題 2 分，共 10 分)

(X) 1. 在數線上，右邊的數比左邊的數小。

(O) 2. 溪洲國小 3 年級有 5 個班，每班有 30 人，3 年級共有 150 人。

(X) 3. 1 枝藍筆賣 25 元，買 5 枝共要付 100 元。

(O) 4. 1 件衣服賣 300 元，4 件衣服共要 1200 元。

(O) 5. 290 毫米和 29 公分一樣長。

四、勾選題(每題 1 分，共 16 分)

1. 在正確答案的  中打  $\checkmark$ 。

「 $2 \times 3$ 、 $10 \times 3$  和  $400 \times 3$  的積」相加後，和下面哪一個算式的答案相同？

同？

- $214 \times 3$      $412 \times 3$      $124 \times 3$

2. 在正確答案的  中打  $\checkmark$ 。  
下面哪一個算式的答案是「220」？

- $550 \times 4$       $505 \times 4$       $55 \times 4$

3. 妍希要買 2899 元的高跟鞋和 1986 元的太陽眼鏡，付錢時只有千元鈔票，妍希至少需要拿出幾張千元鈔票才夠？

- 2 張     3 張     4 張     5 張

4. 一盒餅乾賣 199 元，媽媽買了 4 盒，大約花了幾元？

- 400 元     600 元     800 元

5. 牛辣餐廳 1 張吃到飽餐券賣 899 元，爸爸買了 6 張，大約花了幾元？

- 4200 元     4800 元     5400 元

五、連連看(每題 2 分，共 30 分)

1. 連連看，把相同的錢數連起來：

①	②	③
ㄅ	ㄆ	ㄏ
A. 14 張	B. 20 個	C. 40 個

2. 下面的哪個情境題可以用左邊的直式解題，連連看：

$\begin{array}{r} 12 \\ \times 4 \\ \hline 48 \end{array}$	<p>1 打鉛筆有 12 枝， 4 打鉛筆有幾枝？</p> <p>1 盒月餅有 12 個， 平分給 4 人，每人分到幾個月餅？</p>
--	---

3. 把相等的連起來：

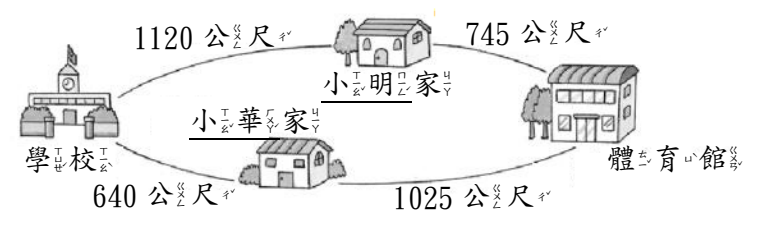
① 30 公分	ㄅ. 40 毫米
② 4 公分	ㄆ. 50 公分
③ 500 毫米	ㄏ. 300 毫米

① 2100	二千零三
② 2031	二千一百
③ 2003	二千三百零一
④ 2301	二千零三十一

六、看圖做做看看(每小題 2 分，共 14 分)

1. 看圖回答問題，並用直式算算看：



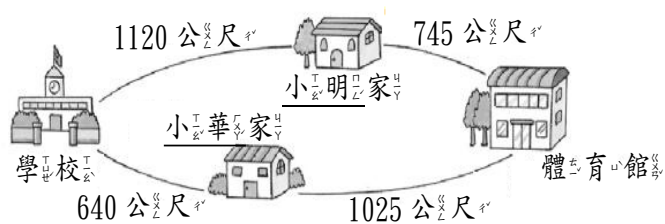
(1) 小明從家裡出發，經體育館到小華家，共走了幾公尺？

A: 1770 公尺

(2) 小欣從學校出發，經小明家到體育館運動，共走了幾公尺？

A: 1865 公尺

2. 看圖回答問題：



(1) 誰家去學校的距離比較遠？  
相差幾公尺？

A: ① 小明家

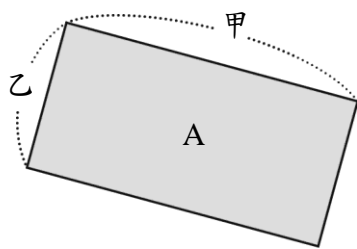
② 480 公尺

(2) 小明和小華各別從學校回家後再去體育館，誰走的距離比較遠？  
相差幾公尺？

A: ① 小明

② 200 公尺

3. 看下圖回答問題：



量量看，A 圖形甲邊是 ( 40 ) 毫米，乙邊是 ( 20 ) 毫米。

4. 澎湖是臺灣海峽最閃耀的明珠，對外交通便利，臺灣遊客目前可以搭飛機從臺北、臺中、臺南、嘉義及高雄到澎湖。搭船可從臺

中、臺南、嘉義、高雄到澎湖。

阿勝一直很想去澎湖玩，他希望今年 10 歲生日時，可以和爸爸去澎湖玩。爸爸答應他的請求，但是希望他能自己安排這次的旅行，因此他先上網查詢從嘉義坐飛機和坐船去澎湖的費用，想跟爸爸討論。

嘉義至澎湖來回機票	
全票	3242 元
兒童票	2432 元
註：2 歲至未滿 12 歲可買兒童票	
嘉義至澎湖來回船票	
全票	1950 元
兒童票	975 元
註：3 歲至未滿 12 歲可買兒童票	

(1) 阿勝和爸爸搭飛機的來回機票，共要幾元？

A: 5674 元

(2) 阿勝和爸爸坐船的來回船票，共要幾元？

A: 2925 元

恭喜你完成試卷了，記得多多檢查幾次喔！