

彰化縣興華國小 一〇五學年 四下 社會科 第一次評量試卷

班級： 四年甲班 座號： 號 姓名： 分數：

一、是非題：20分

- (X) 原住民族是指明清時代從中國大陸來臺灣定居的人們，分成閩南和客家人。
- (O) 我們的祖先在不同時期，來自不同地方，但是大家生活在這塊土地上，應該互相尊重、彼此合作，共同努力建設家鄉。
- (O) 早期來臺灣開墾的漢人，選擇適合的地方開墾，種植產量較高的水稻，能夠養活更多人口。
- (X) 家鄉先民引進新作物，並改良生產技術，以提高作物產量。例如在清代從福建引進蓬萊米種植。
- (O) 生產技術不斷改進，雖然使家鄉農產品種類和產量愈來愈多，但也可能帶來負面的影響，例如過度使用化學肥料，使土壤生產力降低等。
- (X) 當家鄉老年人口大量移出，容易造成勞動力不足，生產力降低。
- (O) 除了出生或死亡，家鄉人口數量也會因為人口遷移而產生變化。
- (O) 鄉村地區從事農、林、漁、牧業的人口比例，比都市地區的比例來得高。
- (O) 由於政府及家鄉居民對教育的重視，近年來高中(職)或高大專以上畢業的人口比例愈來愈高，人口素質因而逐漸提升。
- (X) 依照政府認定，現今臺灣的原住民族共有九族。

二、題組：

(一)家鄉居民的祖先，有些是原本就住在臺灣，有些是從明清、民國三十八年或近年移居到臺灣。(12分)

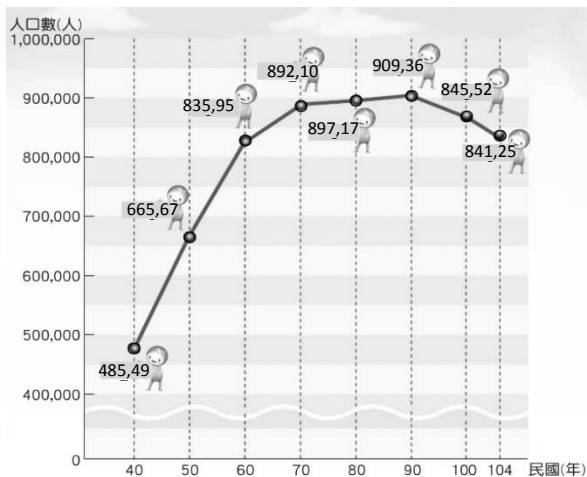
- (1) 家鄉居民的祖先，原本居住在臺灣的是
(1)原住民族 (2)漢人 (3)新移民
- (3) 明清時代以來，陸續從中國大陸移入的是：
(1)平埔族 (2)新移民 (3)漢人
- (4) 對早期原住民族的敘述，何者「錯誤」？
(1)分成平埔族和高山族
(2)平埔族居住在平原、台地或丘陵
(3)高山族居住在山地或離島
(4)平埔族仍保有所有傳統生活方式

- (4) 針對明清時代移入臺灣的人們的敘述，何者「錯誤」？
(1)大多是從中國大陸廣東、福建移入
(2)客家人住在丘陵地區，開築梯田
(3)閩南人住在沿海或平原，捕魚或種水稻
(4)分成平埔族和高山族
- (3) 對民國三十八年前後來臺的移民的敘述，何者「錯誤」？
(1)大多是服務於政府機關的軍公教人員
(2)早期眷村是他們當時來臺居住的地方
(3)大多居住在離島地區
(4)大多居住在都市或都市附近
- (2) 近年來臺灣增加許多「新移民」，下列敘述何者「正確」？
(1)這些新移民，屬於原住民族的一部分
(2)新移民大多來自印尼、越南、菲律賓
(3)新移民大多來自歐洲、美國
(4)新移民都是來臺灣念書

(二)早期來臺的漢人開發家鄉，是為了養活更多人口，並增加收入，根據題意回答問題。(6分)

- (2) 關於家鄉的開發，何者「錯誤」？
(1)清代從福建引進茶樹種植，行銷海外
(2)日治時代，由蓬萊米改種在來米
(3)竹子湖是臺灣最早試種蓬萊米的地方
(4)臺北市文山區是早期引進茶樹種植地
- (3) 家鄉居民為了使家鄉農業繼續發展，發展出許多新技術，何者「錯誤」？
(1)配合市場需求，改變作物種類
(2)農民利用小雨傘保護上將梨的花苞
(3)替愛文芒果套上袋子，避免被偷竊
(4)改變作物產季，避免同一時間產量過多
- (4) 技術革新帶來許多影響，下列何者「錯誤」？
(1)技術革新會帶來正面和負面影響
(2)技術革新後，從販售、加工、運送等過程，能創造更多就業機會
(3)為發展畜牧業引進象草，導致臺灣許多特有物種瀕臨消失
(4)過度使用化學肥料，不會傷害環境。

(三)家鄉人口受到居民出生、死亡、遷移等因素而產生變化，下面圖表是屏東縣人口變化圖，根據題意回答。(10分)



(屏東縣總人口數變化圖)

- (1) 圖中「人口增加」最快速的年代是
(1)40~60 年代 (2)60~70 年代
(3)70~80 年代 (4)80~90 年代
- (3) 呈上題，「人口增加」的原因可能是
(1)醫療發達，死亡率降低
(2)重男輕女觀念影響
(3)早期農業生產方式需要較多人力
(4)環境條件優，移入大量青壯年
- (4) 圖中「人口下降」最明顯的年代是
(1)60~70 年代 (2)70~80 年代
(3)80~90 年代 (4)90~100 年代
- (4) 呈上題，「人口下降」的原因可能是
(1)鄉村就業機會少，勞動人口外移
(2)生育觀念改變，出生率下降
(3)當地產業結構影響，青壯年移出
(4)以上皆有可能
- (3) 根據新聞報導屏東縣 65 歲以上老年人口已經超過 12 萬人，當地老年人口逐漸增加的原因可能是
(1)出生率下降 (2)養兒育女費用高
(3)醫療衛生進步 (4)死亡率上升

(四)最近新聞報導，指出「人口老化拉警報 15 縣市，老人比小孩多」。新聞摘要如下：(16分)

根據內政部公布統計數據顯示，臺灣人口老化指數在 106 年 2 月首度破百，達到 100.18，我國老年人口第一次超過幼年人口。

內政部指出，我國老年人口的比率在 82 年超過 7%，正式邁入「高齡化社會」。今年二月老年人口攀升至 13.3%。國家發展委員會推估，老年人口將在 107 年超過 14%，進入「高齡社會」。

到 115 年可能突破 20%，將和日本一樣，成為「超高齡社會」的一員。

內政部表示，老化指數就是老年人口超過幼年人口，此種現象讓十五至六十四歲青壯年扶養負擔將逐年增加。

目前老化指數破百的縣市，已增加為 15 個，顯示人口老化情形持續增溫發酵。老化指數最高的前三縣市，分別為嘉義縣、南投縣、屏東縣，另外指數破百的縣市還有宜蘭、彰化等縣市。

為因應人口老化的挑戰，行政院去年通過長照體系，讓長者可獲得更好的照顧。



- (1) 根據聯合國衛生組織的定義，當社會中老年人口比例達 7%，稱作什麼社會？
(1)高齡化 (2)高齡 (3)超高齡
- (1) 根據報導，目前我國老年人口的比例為 13.3%，目前臺灣的屬於哪一種社會？
(1)高齡化 (2)高齡 (3)超高齡
- (2) 「老化指數」是指何種人口超過幼年人口
(1)青壯年 (2)老年 (3)幼年
- (1) 新聞內容指出，負責扶養老年人口的是
(1)青壯年 (2)老年 (3)幼年
- (4) 老化指數破百的縣市目前有幾個？
(1)3 個 (2)5 個 (3)10 個 (4)15 個
- (2) 目前全臺灣「老化指數最高」的縣市是
(1)臺北市 (2)嘉義縣 (3)彰化縣
- (1) 根據新聞內容來看，可以推測出目前臺灣的人口發展現象是
(1)老年人口增加，幼年人口減少
(2)老年人口減少，幼年人口增加
(3)老年人口、幼年人口都是增加
(4)老年人口、幼年人口都是減少
- (3) 根據報導，我們居住的「彰化縣」老化指數已經破百，代表
(1)老年人口「等於」幼年人口
(2)老年人口「少於」幼年人口
(3)老年人口「大於」幼年人口

三、配合題：

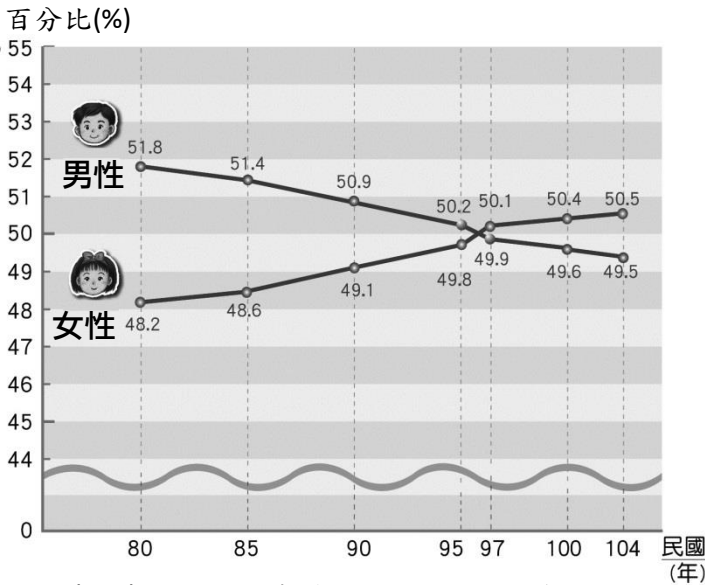
●下列選項是影響家鄉人口變化的因素，將正確答案的代號填入()中。(10分)

①移入 ②移出 ③死亡 ④出生

- (①) 1.彩霞從越南嫁來臺灣。
 (②) 2.小麗全家跟著爸爸搬遷到日本。
 (④) 3.姊姊生了一對雙胞胎。
 (③) 4.許爺爺上星期病逝。
 (②) 5.哥哥大學畢業後到美國讀書。

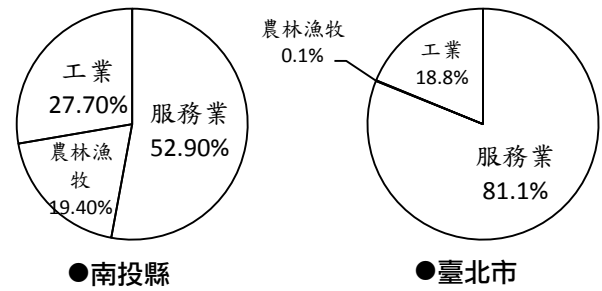
四、看圖回答問題：

(一)下圖是新竹市的人口比例變化圖，請仔細閱讀圖的內容並回答問題。(10分)



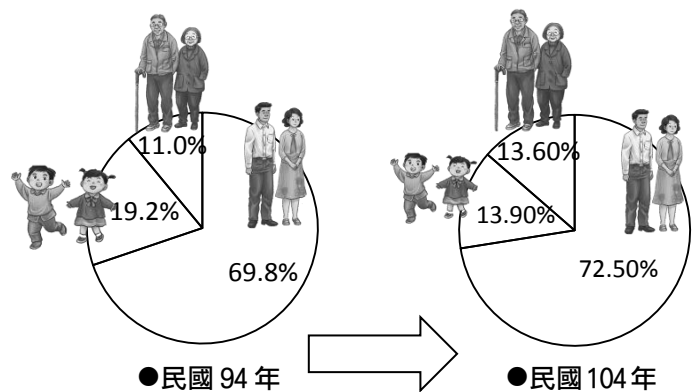
- 1.(4) 上面的圖表是何種人口比例變化圖?
 (1)產業類別 (2)教育程度
 (3)年齡分布 (4)性別人口
- 2.(1) 圖中哪一年的男性、女性數據差異最大?
 (1)民國 80 年 (2)民國 85 年
 (3)民國 90 年 (4)民國 104 年
- 3.(2) 呈上題，可能是何種原因導致兩者資料數據差異比較大?
 (1)性別平等 (2)重男輕女
 (3)醫療發達 (4)教育程度
- 4.(3) 圖中哪一年的男性、女性數據差異最小?
 (1)民國 80 年 (2)民國 85 年
 (3)民國 97 年 (4)民國 104 年
- 5.(2) 呈上題，可能是何種原因導致兩者資料數據差異逐漸縮小?
 (1)產業類別 (2)教育程度
 (3)重男輕女 (4)性別平等

(二)觀察民國 103 年南投縣與臺北市的就業人口產業結構比例圖並回答問題。在正確□中打✓(6分)



- 1.從事農、林、漁、牧業的人口比例較低的是
南投縣 臺北市
- 2.從事服務業的人口比例較高?
南投縣 臺北市
- 3.根據兩個縣市的就業人口產業結構比例圖，哪一個縣市屬於鄉村?
南投縣 臺北市

(三)觀察民國 94 年與民國 104 年的彰化縣人口年齡結構比例圖，並回答問題。在正確□中打✓(10分)



- 1.民國 94 年~104 年何種人口比例大幅減少?
青壯年人口 幼年人口 老年人口
- 2.從圖可以看出，彰化縣哪一種人口最多?
青壯年人口 幼年人口 老年人口
- 3.這三種人口中，主要「工作人口」是
青壯年人口 幼年人口 老年人口
- 4.年齡分布中，「老年人口」是指幾歲以上?
55 歲 65 歲 75 歲
- 5.如果青壯年人口大量移出，會造成何種問題?
勞動力不足 生產力增加 新移民變多