

彰化縣中正國小 112 學年度下學期期中考二年級數學科試卷

二年 班 號 姓名： 得分：

一、填填看看：(每答 1 分)

1、按照數的順序填填看看。

①

406	506	606	706	806	906
-----	-----	-----	-----	-----	-----

②

842	832	822	812	802	792
-----	-----	-----	-----	-----	-----

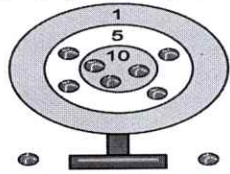
③

801	800	799	798	797	796
-----	-----	-----	-----	-----	-----

2、123 是 1 個百、(2) 個十和 3 個一合起來的。

3、5 個百和 6 個十 8 個一合起來是 (568)。

4、多多玩丟球遊戲，共丟了 9 顆球，下面表格記錄了丟球的結果。



① 丟中 10 分的有 (3) 顆。
得的分：(10) × (3) = (30)

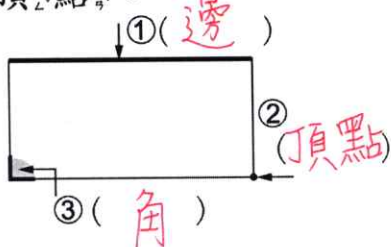
② 丟中 5 分的有 (4) 顆。
得的分：(5) × (4) = (20)

③ 丟中 1 分的有 (0) 顆。
得的分：(1) × (0) = (0)

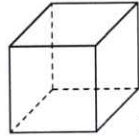
④ 沒有丟進得 0 分的有 (2) 顆。
得的分：(0) × (2) = (0)

⑤ 多多共得 (50) 分。
算式：30 + 20 = 50

5、在 () 中填填入邊、角或頂點。



6、下面形體有幾個面？幾條邊？幾個頂點？



這個形體每條邊都

一樣長是 (正方) 體

有 (6) 個面

有 (12) 條邊

有 (8) 個頂點

7、看圖分一分，用代號記錄下來。(共 18 分)

① ② ③ ④ ⑤

⑥ ⑦ ⑧ ⑨

有三角	沒有三角
3, 4, 5, 6, 7, 9	1, 2, 8

有三條邊	有四條邊	有花紋	沒有花紋
3, 4, 6	5, 7, 9	8	1, 2


8、估估看看，圈出對的答
案。(1 分)

一盒巧克力賣 498 元，買兩盒巧克力大約要付幾元？
(800 元， 400 元， 1000 元)

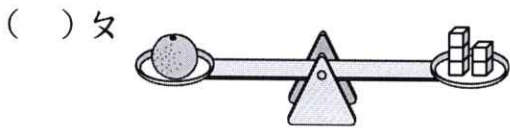
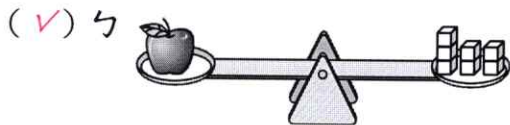
二、比一比，填填：(每答 1 分)

1、哪一個比較輕？在

() 裡打 (✓)。



2、比較重的在 () 裡打 \checkmark 。



3、哪一個比較重？在 () 中打 \checkmark 。



() ①

() ②

(\checkmark) ③ 一樣重




4、

比 (重、輕)。

比 (重、輕)。

(, ,) 最輕。

5、最重的畫 \bigcirc ，最輕的打 \checkmark 。



三、寫出直式算式 (每題 3 分)

① $935 - 742 = 193$ ② $115 + 28 = 143$

$$\begin{array}{r} 935 \\ - 742 \\ \hline 193 \end{array}$$

$$\begin{array}{r} 115 \\ + 28 \\ \hline 143 \end{array}$$

③ $706 - 128 = 578$ ④ $279 + 248 = 527$

$$\begin{array}{r} 706 \\ - 128 \\ \hline 578 \end{array}$$

$$\begin{array}{r} 279 \\ + 248 \\ \hline 527 \end{array}$$

四、在 \square 裡填入 $<$ 、 $>$ 。

(每格 2 分)

(1) $100 \square 911$ (2) $141 \square 101$

(3) $635 \square 953$ (4) $214 \square 241$

五、寫出算式做做看：

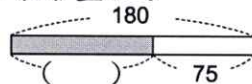
(每題 4 分，共 16 分)

1、皮皮有 107 元，皮皮比丹丹多 26 元，丹丹有多少元？

$$\begin{array}{r} 107 \\ - 26 \\ \hline 81 \end{array}$$

答：(81) 元

2、教室裡原有 180 個人，走了一些人後，還剩下 75 個人，有多少個人離開教室？



$$180 - () = 75$$

$$180 - 75 = 105$$

$$\begin{array}{r} 180 \\ - 75 \\ \hline 105 \end{array}$$

答：(105) 個人

3、快樂蛋糕店一星期工作 5 天，一天可以生產 11 個蛋糕，一星期可以生產幾個蛋糕？

$$11 \times 5 = 55$$

$$10 \times 5 = 50$$

$$5 \times 1 = 5$$

$$50 + 5 = 55$$

答：(55) 個

4、一條繩子對摺後，長 14 公分，繩子原來長多少公分？

$$14 \times 2 = 28 \quad 14 + 14 = 28$$

$$\begin{array}{r} 14 \\ \times 2 \\ \hline 28 \end{array}$$

$$\begin{array}{r} 14 \\ + 14 \\ \hline 28 \end{array}$$

答：(28) 公分