

三、用直式算算看：每題 2 分 (24%)

① $56342 + 65158$

$12,1500$

② $56402 - 9843$

46559

③ $232 \text{ 萬} + 58 \text{ 萬}$

290 萬

④ $302 \text{ 萬} - 168 \text{ 萬}$

134 萬

⑤ 2458×7

17206

⑥ 343×26

8918

⑦ $276 \div 23$

12

⑧ $7280 \div 4$

1820

用直式算算看並驗算

⑨ $4576 \div 7$

$$\begin{array}{r} 653 \\ 7 \overline{)4576} \\ \underline{42} \\ 37 \\ \underline{35} \\ 26 \\ \underline{21} \\ 5 \end{array}$$

驗算

$$\begin{array}{r} 653 \\ \times 7 \\ \hline 4571 \\ + 45715 \\ \hline 4576 \end{array}$$

⑩ $900 \div 25$

$$\begin{array}{r} 36 \\ 25 \overline{)900} \\ \underline{75} \\ 150 \\ \underline{150} \\ 0 \end{array}$$

驗算

$$\begin{array}{r} 36 \\ \times 25 \\ \hline 180 \\ + 720 \\ \hline 900 \end{array}$$

一、是非題：每題 2 分 (10%)

- (\times) 角的兩邊越長，角就越大。
- (\times) 臺灣南北的距離約 394 公尺。
- (\times) 1 公里比 900 公尺短。
- (0) 做除法計算時，最後算出來的結果，餘數一定比除數小。
- (\times) 180 度角稱為周角。

二、填充題：每格 2 分 (34%)

- 「50074500」讀作
(五千零七萬四千五百)
- 「三億零七」記作 (3,000,0007)
- 7 個百萬、9 個十萬、5 個百、4 個 1 合起來是 (790,0504)
- 20 個十萬和 20 個萬合起來是多少？

千萬位	百萬位	十萬位	萬位	千位	百位	十位	個位
-	2	2	0	0	0	0	0

- 用 0、2、4、6、8、9 六張數字卡排成的六位數中，

最大的數是 (986420)；

最小的數是 (204689)。

⑥ 60 公里 = (60000) 公尺

⑦ 30000000 公分 = (30) 公里

⑧ (1) $5 \times 43 = (215)$

(2) $50 \times 43 = (2150)$

(3) $500 \times 43 = (21500)$

⑨ (1) $2 \times 6 = (12)$

(2) $20 \times 60 = (1200)$

⑩ (1) $9 \div 3 = (3)$

(2) $90 \div 30 = (3)$

⑪ 填入適當單位

(公分、毫米、公尺、公里)

(1) 一棵榕樹大約 4 (m)

(2) 小拇指指甲寬度約 5 (mm)

① $8\text{km } 750\text{m} + 1\text{km } 350\text{m} = (10) \text{km} (100) \text{m}$

$$\begin{array}{r} \text{km} \quad \text{m} \\ 8 \quad 750 \\ + 1 \quad 350 \\ \hline 9 \quad 100 \end{array}$$

② $6\text{km} - 1\text{km } 350\text{m} = (4) \text{km} (650) \text{m}$


$$\begin{array}{r} \text{km} \quad \text{m} \\ 6 \quad 000 \\ - 1 \quad 350 \\ \hline 4 \quad 650 \end{array}$$

四、在 () 裡填入 >、< 或 = (5%)

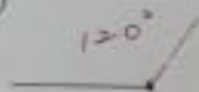
- 9003 公尺 (<) 9 公里 9 公尺
- 3 公里 27 公尺 (>) 327 公尺
- 1 公里 400m (=) 140000 公分
- 5500m (>) 5km 50m
- 6 公里 10 公尺 (<) 60100 公尺

五、畫畫看

1. 以黑點為頂點，畫出一個 75 度角。(2%)




2. 以黑點為頂點，畫出一個 120 度角。(2%)

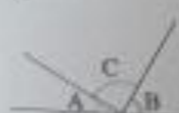


六、寫寫看

1. 寫出圖中的角各是幾度？(6%)



$\angle 1 = (125)$ 度，是(銳、直、鈍)角



$\angle A$ 是 30 度， $\angle B$ 是 60 度， $\angle C$ 是幾度？
 $\angle C = (90)$ 度，是(銳、直、鈍)角

3. 圖中的 $\angle 3$ 是幾度？(2%)



$\angle 3 = (115)$ 度

4. 圖圈看，鐘面上的指針往(順、逆)時針方向旋轉，是轉了(300)度。(3%)



七、列出算式，做做看：每題 3 分 (12%)

① 每塊蛋糕切成 12 片，要分給 310 人，每人一片，最少需要幾塊蛋糕才夠？

$$310 \div 12 = 25 \dots 10$$

$$25 + 1 = 26$$

A = 26 塊

② 1 盒機器人模型賣 1680 元，婷婷買 6 盒共要付幾元？

$$1680 \times 6 = 10080$$

A = 10080 元

③ 有 963 個布丁，每 24 個裝成 1 盒，最多可裝成幾盒？還剩下幾個？

$$963 \div 24 = 40 \dots 3$$

40 盒

A: 3 個

④ 小玉健行，上午走了 3 公里 180 公尺，比下午多走了 960 公尺，下午走了幾公里幾公尺？

$$\begin{array}{r} \text{km} \quad \text{m} \\ 3 \quad 180 \\ - 960 \\ \hline 2 \quad 220 \end{array}$$

A = 2km 220m

* 請用心作答，仔細檢查！