





一、填填看(每個答案 1 分 共 21 分)

1. 1 個  可以換成 ( 5 ) 個 

1 個  可以換成 ( 10 ) 個 

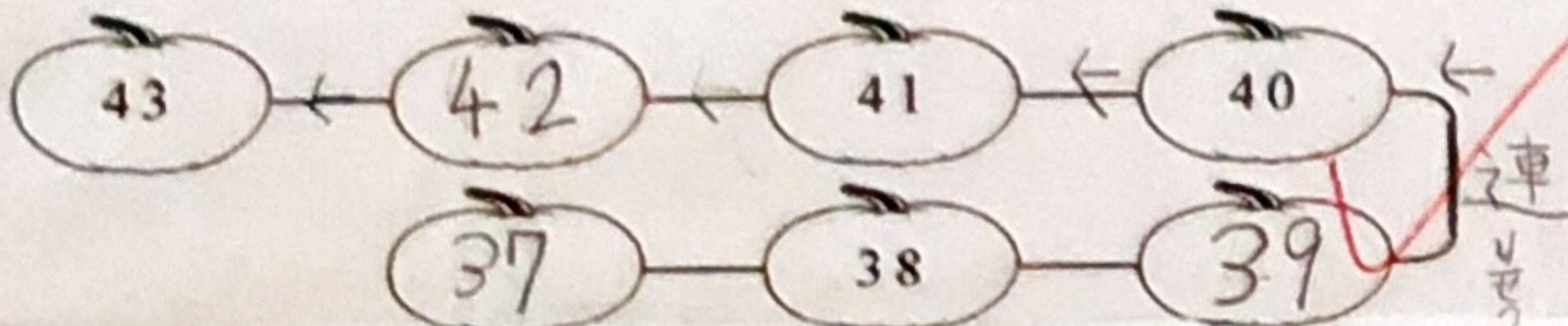
2. 有一個二位數比 38 大，它的十位數字是 3，個位數字是 9，在位值表上填入答案。

十位	個位
3	9

3. 54 可以分成 ( 5 ) 個十和 ( 4 ) 個一

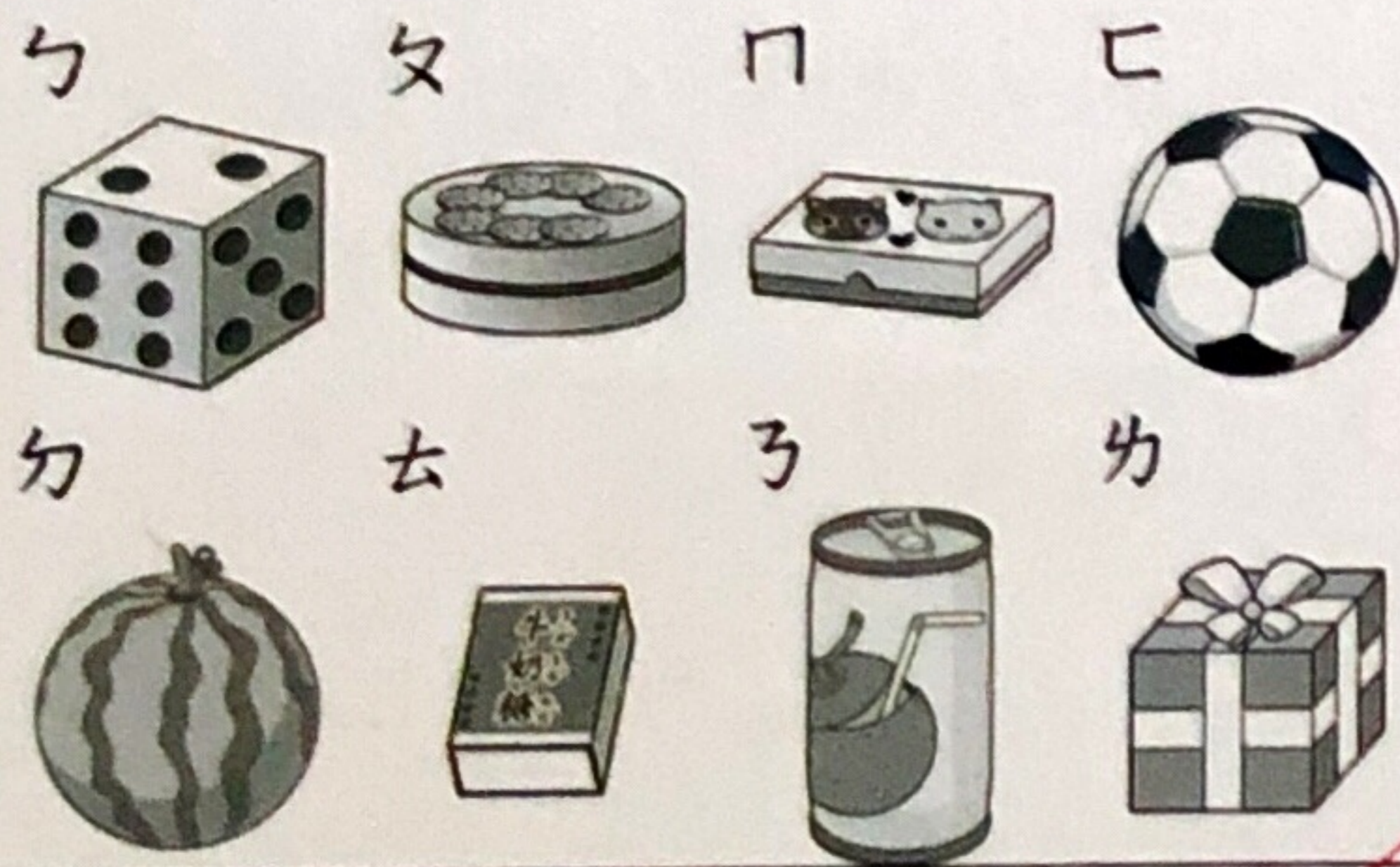
十位	個位
5	4

4. 按照數字的順序填填看。



5. 寫出 2 個比 35 小的二位數。  
( 15 )、( 22 )

6. 下面物體很像哪一種立體圖形？請填代號。



球體	圓柱	正方體	長方體
カ、ク	子、ク	カ、ク	カ、ク

7. 大雄的錢，夠不夠買一個 85 元的水壺？圈圈看。  
( 夠, 不夠 )



8. 魯夫拍了 78 下，娜美拍的比魯夫多，香吉士拍的比魯夫多。

(1) 娜美可能拍了多少下？圈圈看。  
( 75, 78, 80 )

(2) 香吉士可能拍了多少下？圈圈看。  
( 75, 78, 80 )

9. 靜香有 55 元，已經買了一本 40 元的筆記本後，最多還可以再買幾個 5 元的橡皮擦？



再買 ( 3 ) 個

二、看圖做做看(每格 2 分 共 18 分)

1. 10 個 10 個圈起來，數數看有多少。



( 3 ) 個十和 ( 6 ) 個一 是 ( 36 )

2. 用 ㄅ、ㄆ、ㄇ 三條繩子剛好可以繞不同的水桶一圈。



(1) 長度最長的是 ( ㄅ ㄆ ㄇ ) 繩

(2) 用 ㄆ 繩來繞第 ③ 個水桶一圈，夠不夠長？ ( 夠, 不夠 )

3. 日, 生, 快, 樂

(1) 在 ( 長方形, 正方形 ) 裡的字是「生」。


(2) 在 ( 長方體, 正方體 ) 裡的字是「樂」。

(3) 在球體裡的字是「快」。

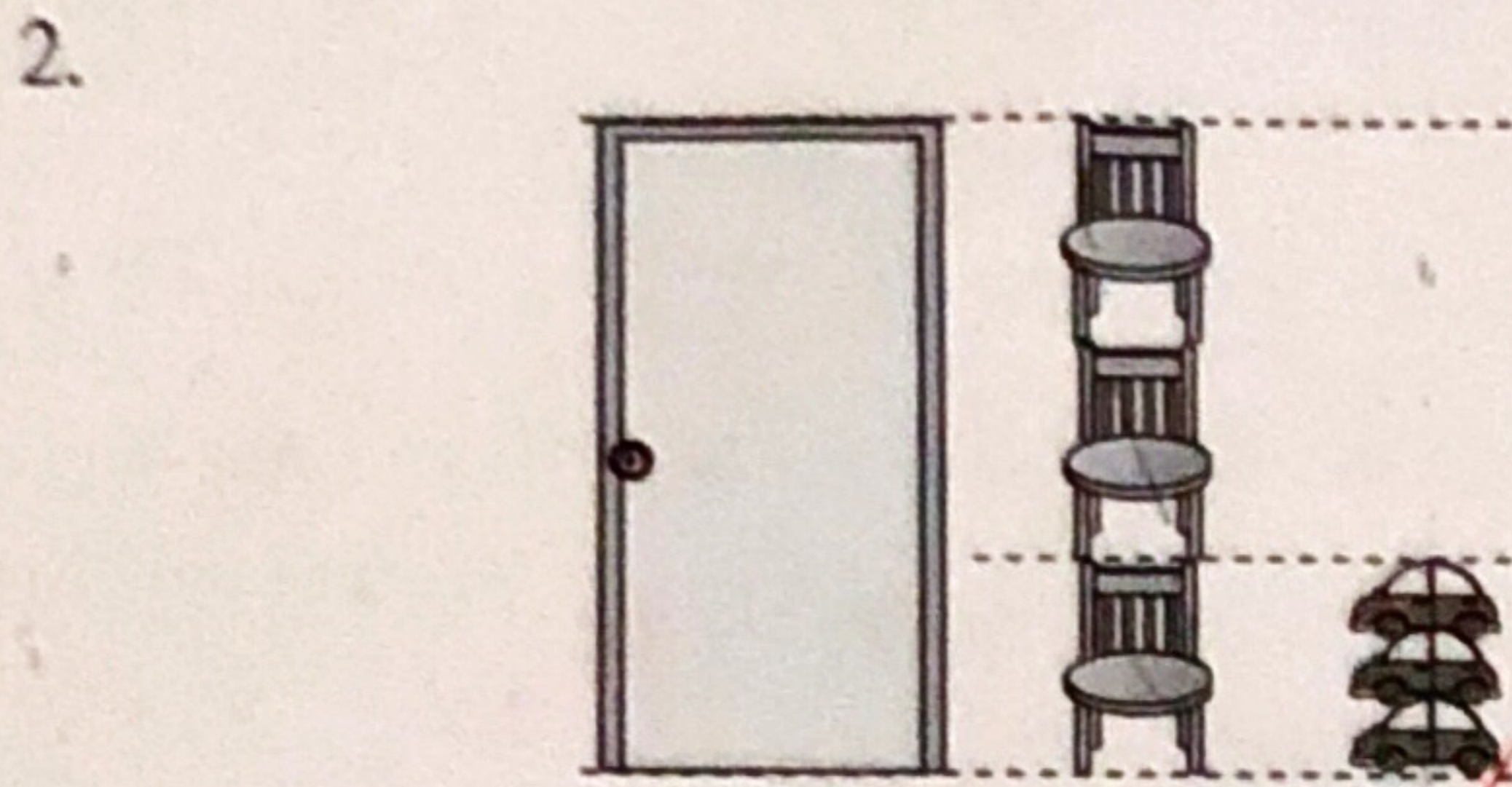
(4) 在長方體裡的字是「日」。



三、看圖填填看(每格 2 分 共 14 分)



繩子打開後和 ( 16 ) 隻烏龜一樣長。



- (1) 門和 ( 3 ) 張椅子一樣高。  
 (2) 一張椅子和 ( 3 ) 輛小汽車一樣高。  
 (3) 一個門和幾輛小汽車一樣高?


算式： $3 + 3 + 3 = 9$

3. 要堆成下面的立體形體，需要 ( 7 ) 個 。

四、做做看(每格 2 分 共 22 分)

1. 小琳買個娃娃 80 元，她付了 6 個

、3 個 和一些 。她付了幾個 ? 用  $\textcircled{1}$  表示 ，畫畫看看。



( 5 ) 個

3. 答案是 9 的算式畫  $\bigcirc$ ，是 4 的打  $\checkmark$

- (1)  $11-2$        (2)  $11-7$   
 (3)  $12-8$        (4)  $12-3$   
 (5)  $13-9$        (6)  $16-7$

4. 下面的敘述，對的打  $\checkmark$ ，錯的打  $\times$

- ( $\times$ ) (1) 可以滾動，也有平平的面。  
 ( $\checkmark$ ) (2) 有平平的面，也可以滾動。

滾動。

( $\checkmark$ ) (3) 有平平的面，但不能滾動。

五、把做法和答案記下來(每題 5 分 共 25 分)

1. 小狗有 13 隻，小貓有 9 隻，小狗比小貓多幾隻?

算式： $13-9=4$

( 4 ) 隻

2. 小育有 6 張寶可夢卡，哥哥又給他 9 張後，小育現在有幾張寶可夢卡?

算式： $9+6=15$

有 ( 15 ) 張

3. 一條紅色紙條和 7 瓶 一樣長，一條白色紙條和 12 瓶 一樣長，兩條紙條相差幾瓶 ?

算式： $12-7=5$

( 5 ) 瓶 長

4. 小亭昨天吃了 6 塊巧克力，今天又吃了 7 塊，共吃了幾塊巧克力?

算式： $6+7=13$

( 13 ) 塊

5. 小彤有 5 本故事書，小育比小彤多 2 本，兩人一共有幾本故事書? 寫出算式做做看。

$5+2=7$   
 $5+7=12$   
 $5 + 7 = 12$   
 $7 + 5 = 12$

( 12 ) 本