

◎本試卷共 (2) 頁

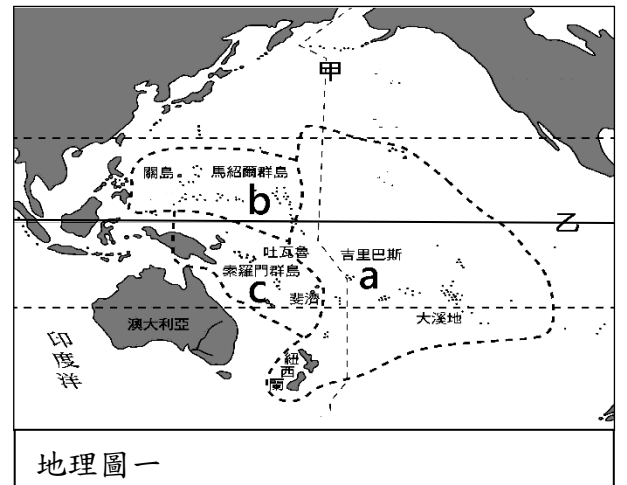
※請將正確答案用 2B 鉛筆畫在答案卡上

一、選擇題：請選出最適合的答案，每題 2 分

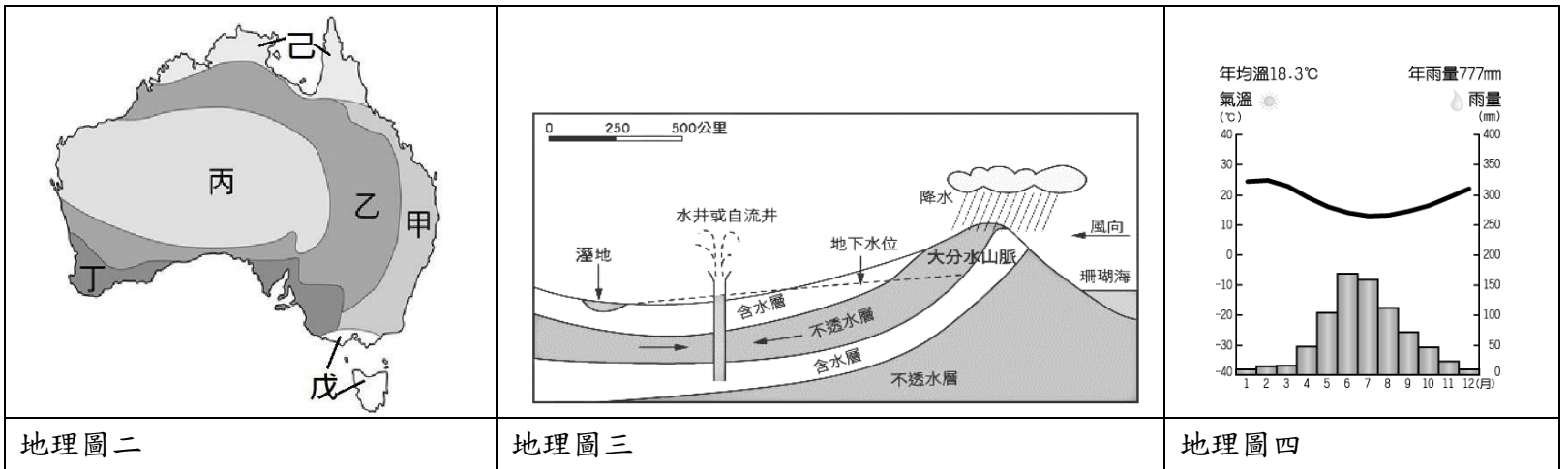
- 1() . 薩摩亞主要的貿易夥伴已轉變為紐澳、中國和環太平洋國家，這意味該國主要的貿易夥伴大多屬於下列哪個組織的成員國？
 (A)歐洲聯盟 (B)北美自由貿易協定 (C)亞太經濟合作會議 (D)石油輸出國家組織 【習作】
- 2() . 若從南極點出發，要往澳洲的坎培拉前進，其最近的距離應該要朝著哪個方向移動？
 (A)北方 (B)南方 (C)東北方 (D)西南方 【習作】
- 3() . 魯夫想到南極洲旅行，但該行程所費不貲，若是能從最靠近南極洲的大陸出發，便可大幅節省旅費與交通時間。根據上文所述，魯夫應該選擇下列哪個地區出發至南極洲？
 (A)澳洲 (B)阿根廷 (C)紐西蘭 (D)南非共和國 【習作】

➤ **地理圖一**為大洋洲各島群的分布圖，請依題目回答問題 4~5：

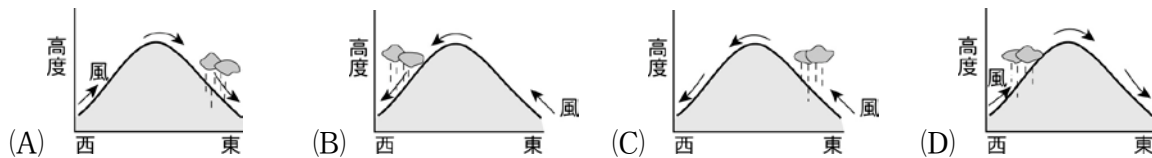
- 4() . **地理圖一**中的「甲線」與「乙線」是大洋洲三大島群的分界，其分別代表下列何者？
 (A)本初經線、赤道 (B)180°經線、赤道
 (C)北回歸線、南回歸線 (D)180°經線、北回歸線
- 5() . 大洋洲三大島群有密克羅尼西亞、美拉尼西亞及玻里尼西亞，其在**地理圖一**中所在之對應代號，分別是下列何者？
 (A)a、b、c (B) b、c、a (C) b、a、c (D) c、a、b



➤ **地理圖二**為澳洲的氣候類型圖，請依題目回答問題 6~8：



- 6() . **地理圖二**中甲區的氣候暖溼，是因為來自下列哪個方向的風帶來的水氣？



- 7() . **地理圖三**為澳洲的某種水利設施示意圖。此設施與該地的牧羊業發達有密切關係。請問在**地理圖二**中何處可以看到此種水利設施？
 (A)甲 (B)乙 (C)丁 (D)己

8() . **地理圖四**是澳洲某地的氣候圖，請問這個地區應該位於**地理圖二**中的何地？

- (A)乙 (B)丁 (C)戊 (D)己

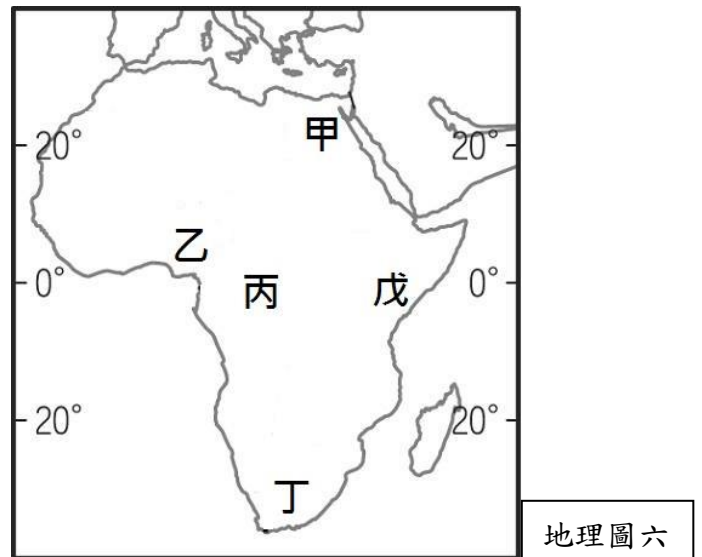
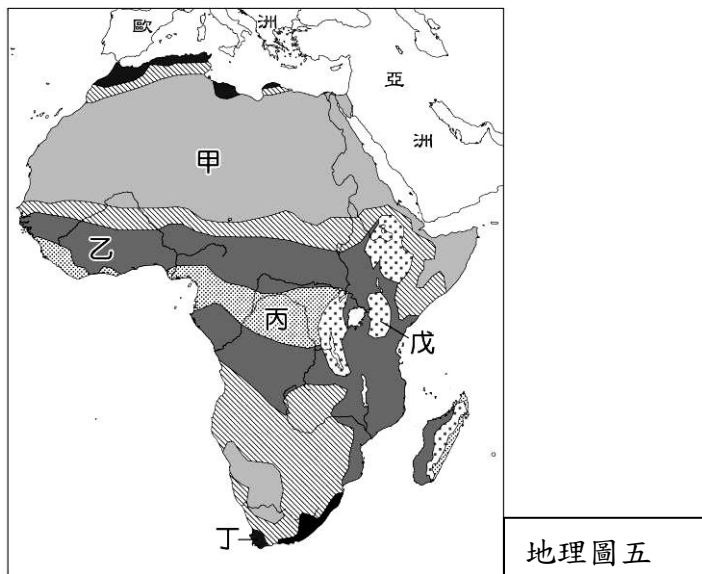
9() . 這堂地理課的主題是「介紹你熟知的澳大利亞」，請曾到過當地旅遊的同學上台發表，其中哪一位同學的記憶「出錯」了？

- (A)阿寶：中部的艾爾斯岩是原住民的聖地 (B)馬克：袋鼠、鴨嘴獸是珍貴而特有的動物 (C)靜香：東北部有世界最大的熱帶珊瑚礁群 (D)阿喜：帆造型的雪梨歌劇院院址位於首都

10() . 關於紐西蘭境內兩座大島的比較，表中資料何者正確？

	A	B	C	D
北島	緯度較高	冰河地形為主	人口較少	溫帶海洋性氣候
南島	緯度較低	火山地形為主	人口較多	溫帶海洋性氣候

➤ **地理圖五**為非洲氣候分布圖，請依題目回答問題11：



11() . 古代尼羅河的定期氾濫除了帶來良田沃土，也被視為是埃及的老母親，孕育出聞名的古文明，而尼羅河的夏季定期氾濫與**地理圖五**中哪一種氣候類型有關？(A)甲 (B)乙 (C)丙 (D)丁。

➤ **地理圖六**為非洲簡圖，請依題目回答問題12~13：

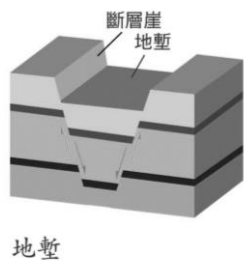
12() . **地理圖六**中，哪個地區盛產鑽石、黃金等礦產，且曾被荷蘭與英國殖民，帶來資本與技術開發，現為非洲工業技術先進的地區？(A)甲 (B)乙 (C)丁 (D)戊

13() . **地理圖六**中，何處為世界四大古文明國之一，受西亞文化影響深遠，大部分的居民信奉伊斯蘭教？

- (A)甲 (B)乙 (C)丙 (D)丁

14() . **地理圖七**為非洲某個地區的地形形成示意圖，該地區應該位於**地理圖八**的哪裡？

- (A)甲 (B)乙 (C)丙 (D)丁



地理圖七



地理圖八

15() . 北極海是指被哪些陸地所包圍的海域？(A)歐、亞、北美 (B)歐、亞、非 (C)非、北美、澳 (D)歐、非、北美

1~5	CABBB	6~10	CBBDD
11~15	BCADD	16~20	
21~25		26~30	
31~35		36~40	
41~45		46~50	